



இலங்கைப் பரீட்சைத் திணைக்களம்

க.பொ.த (உயர் தர)ப் பரீட்சை - 2016

10 – இணைந்த கணிதம் I

புள்ளியிடும் திட்டம்



இந்த விடைத்தாள் பரீட்சைக்காரர்களின் உபயோகத்துக்காகத் தயாரிக்கப்பட்டது. பிரதம பரீட்சைக்காரர்களின் கலந்துரையாடல் நடைபெறும் சந்தர்ப்பத்தில் பரிமாறிக்கொள்ளும் கருத்துக்களுக்கிணங்க, இதில் உள்ள சில விடயங்கள் மாறலாம்.

க.பொ.த (உயர் தர)ப் பரீட்சை - 2016

10 - இணைந்த கணிதம்

புள்ளி பிரிந்து செல்லும் விதம்

பத்திரம் I

பகுதி A $10 \times 25 = 250$

பகுதி B $05 \times 150 = 750$

மொத்தம்

Educational 1000/10

பத்திரம் I இற்கான இறுதிப் புள்ளி = 100

பகுதி A

1. கணிதத் தொகுத்தறிவுக் கோட்பாட்டைப் பயன்படுத்தி, எல்லா $n \in \mathbb{Z}^+$ இற்கும் $\sum_{r=1}^n r(r+1) = \frac{n}{3}(n+1)(n+2)$ என நிறுவுக.

$n=1$ ஆக, L.H.S. = $\sum_{r=1}^1 r(r+1) = 2$

R.H.S. = $\frac{1}{3}(1+1)(1+2) = 2$. (5)

எனவே, $n=1$ இற்கு முடிவு உண்மையாகும்.

$n=p$ க்கு முடிவு உண்மை என்க. இங்கு $p \in \mathbb{Z}^+$

அதாவது $\sum_{r=1}^p r(r+1) = \frac{p}{3}(p+1)(p+2)$ (5)

எனவே, $\sum_{r=1}^{p+1} r(r+1) = \sum_{r=1}^p r(r+1) + (p+1)[(p+1)+1]$ (5)

= $\frac{p}{3}(p+1)(p+2) + (p+1)(p+2)$

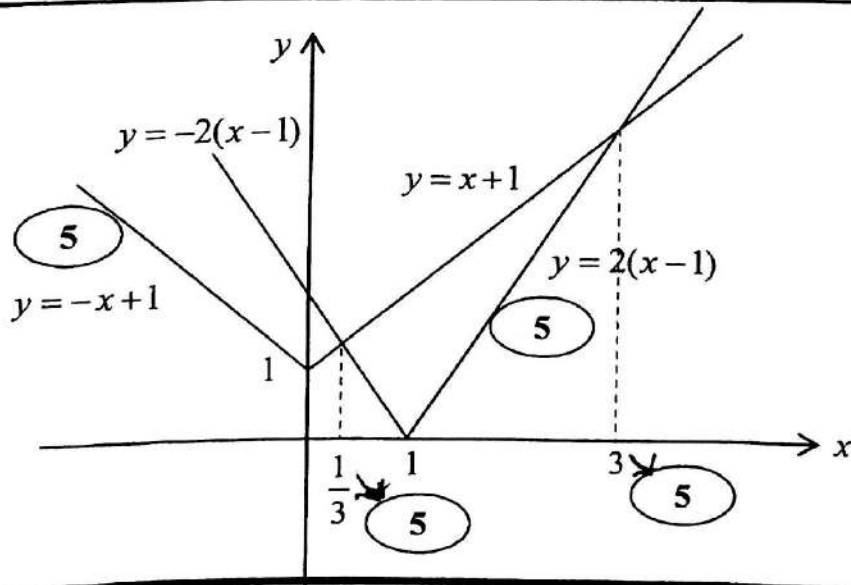
= $\frac{1}{3}(p+1)(p+2)(p+3)$. (5)

$\therefore n=p+1$ இற்கு முடிவு உண்மை

இதிலிருந்து $n=p$ இற்கு முடிவு உண்மை எனின், $n=p+1$ இற்கும் முடிவு உண்மையாகும் ஆனால் $n=1$ இற்கு முடிவு உண்மை என நிறுவப்பட்டது. \therefore கணிதத் தொகுத்தறி முறைப்படி எல்லா $n \in \mathbb{Z}^+$ இற்கும் முடிவு உண்மையாகும். (5)

25

2. ஒரே வரிப்படத்தில் $y = |x| + 1$, $y = 2|x - 1|$ ஆகியவற்றின் வரைபுகளைப் பரம்படியாக வரைக. இதிலிருந்து அல்லது வேறு விதமாக, சமனிலி $|x| + 1 > 2|x - 1|$ ஐத் திருப்தியாக்கும் x இன் எல்லா மெய்ப்பெறுமானங்களையும் காண்க.



வரிப்படத்திலிருந்து, $|x|+1 > 2|x-1| \Leftrightarrow \frac{1}{3} < x < 3$. (5)

OR $\{x: x \in \mathbb{R}, \frac{1}{3} < x < 3\}$

Aliter 1

வகை (i) $x \geq 1$ $x+1 > 2(x-1) \Leftrightarrow x < 3$. (5)

எனவே இவ்வகையில், $1 \leq x < 3$ என்பது x இற்கான தீர்வுகளாகும்.

வகை (ii) $0 < x < 1$ $x+1 > -2(x-1) \Leftrightarrow x > \frac{1}{3}$. (5)

எனவே இவ்வகையில், $\frac{1}{3} < x < 1$ என்பது x இற்கான தீர்வுகளாகும்.

வகை (iii) $x \leq 0$ $-x+1 > -2(x-1) \Leftrightarrow x > 1$

இது முரண்பாடானது எனவே இவ்வகையில் தீர்வுகள் இல்லை.

எனவே $\{x \in \mathbb{R}: \frac{1}{3} < x < 3\}$ என்பது தீர்வுத் தொடையாகும் (5)

15

Aliter 2

$$|x|+1 > 2|x-1|$$

$$\Leftrightarrow x^2 + 2|x|+1 > 4(x^2 - 2x+1)$$

$$\Leftrightarrow 3x^2 - 2(|x|+4x)+3 < 0$$

Case I $x > 0$

$$3x^2 - 10x + 3 < 0$$

$$\Leftrightarrow (3x-1)(x-3) < 0 \quad (5)$$

$$\Leftrightarrow \frac{1}{3} < x < 3 \quad (5)$$

Case II

$$x < 0$$

$$3x^2 - 6x + 3 < 0$$

$$\Leftrightarrow (x-1)^2 < 0$$

இது சாத்தியமில்லை. (5)

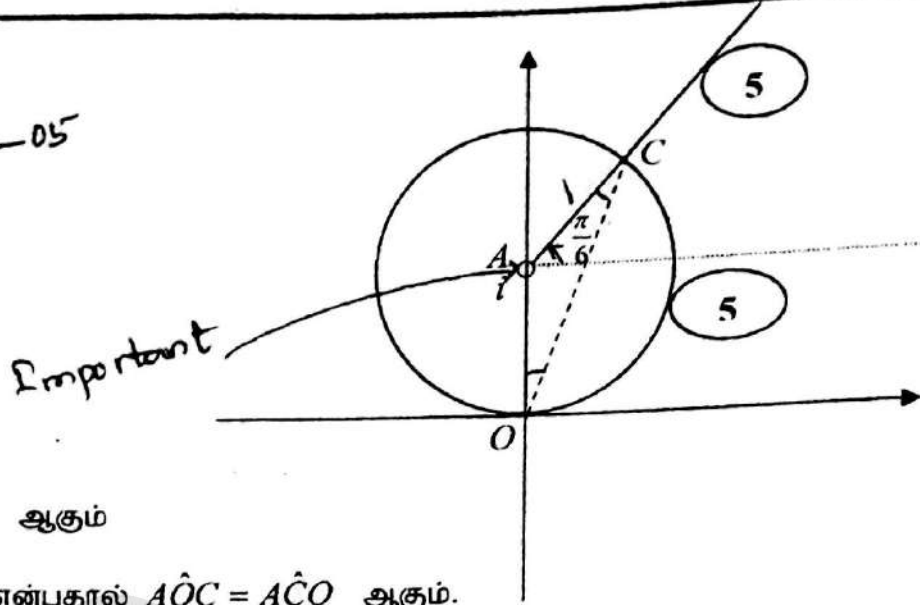
15

3. ஒரு ஆகண் வரிப்படத்தில்

(i) $|z - i| = 1$, (ii) $\text{Arg}(z - i) = \frac{\pi}{6}$

ஆகியவற்றைத் திருப்தியாக்கும் சிக்கலெண்கள் z ஐ வகைகுறிக்கும் புள்ளிகளின் ஒழுக்குகளைப் பரும்படியாக வரைந்து, இவ்வொழுக்குகளின் வெட்டுப் புள்ளியினால் வகைகுறிக்கப்படும் சிக்கலெண்ணை வடிவம் $r(\cos \theta + i \sin \theta)$ இற் காண்க; இங்கு $r > 0$ உம் $0 < \theta < \frac{\pi}{2}$ உம் ஆகும்.

பாடல் }
சூற } -05
விடல் }



$\angle AOC = \frac{2\pi}{3}$ ஆகும்

$OA = AC$ என்பதால் $\angle AOC = \angle ACO$ ஆகும்.

எனவே $\angle AOC = \frac{\pi}{6}$ ஆகும்.

ஆகவே OC ஆனது நேர் x - அச்சுடன் அமைக்கும் கோணம் $\frac{\pi}{2} - \frac{\pi}{6} = \frac{\pi}{3}$. (5)

மேலும் $OC = 2 \cos \frac{\pi}{6} = \sqrt{3}$. (5)

எனவே தேவையான சிக்கல் எண்: $\sqrt{3} \left(\cos \frac{\pi}{3} + i \sin \frac{\pi}{3} \right)$. (5)

25

Aliter

$y_c = 1 + \cos \frac{\pi}{3} = \frac{3}{2}$ (5)

$z_c = \frac{\sqrt{3}}{2} + \frac{3}{2}i$

$x_c = \sin \frac{\pi}{3} = \frac{\sqrt{3}}{2}$ (5)

$= \sqrt{3} \left(\frac{1}{2} + \frac{\sqrt{3}}{2}i \right)$

$\therefore z_c = \frac{3}{2} + i \frac{\sqrt{3}}{2} = \sqrt{3} \left(\frac{\sqrt{3}}{2} + i \frac{1}{2} \right) = \sqrt{3} \left(\cos \frac{\pi}{6} + i \sin \frac{\pi}{6} \right)$ (5)

$= \sqrt{3} (\cos \frac{\pi}{3} + i \sin \frac{\pi}{3})$

(5)

$\therefore r = \sqrt{3}, \theta = \frac{\pi}{3}$

ஆகவே $r = \sqrt{3}$ உம் $\theta = \frac{\pi}{6}$ உம் ஆகும்.

15

4. ஒவ்வொரு இலக்கமும் ஒரு தடவை மாத்திரம் பயன்படுத்தப்பட்டால், 1,2,3,4,5 என்னும் இலக்கங்களிலிருந்து ஐந்து இலக்கங்களைக் கொண்ட எத்தனை வெவ்வேறு எண்களை ஆக்கலாம் ?

இவ்வெண்களில் (i) எத்தனை இரட்டை எண்கள் உள்ளன ?

(ii) எத்தனையில் 3, 4 ஆகிய இலக்கங்கள் அடுத்தடுத்து உள்ளன ?

4. 5 4 3 2 1
○ ○ ○ ○ ○

தேவையான விடை = 5!

= 120.

5

5

(i) இறுதி இலக்கம் 2 அல்லது 4 ஆக இருக்க வேண்டும்.

தேவையான விடை = $2 \times 4! = 48$

5

(ii)

3 4

ஒன்றாகவும் அதே ஒழுங்கிலும் இருக்கும் போது

தேவையான வழிகளின் எண்ணிக்கை = 4!

(i)

4 3

ஒன்றாகவும் அதே ஒழுங்கிலும் இருக்கும் போது

மீண்டும் தேவையான வழிகளின் எண்ணிக்கை 4!

தேவையான விடை = $2 \times 4! = 48$

5

25

5. $\alpha > 0$ எனக் கொள்வோம். $\lim_{x \rightarrow 0} \frac{1 - \cos(\alpha x)}{\sqrt{4+x^2} - \sqrt{4-x^2}} = 16$ ஆக இருக்கத்தக்கதாக α இன் பெறுமானத்தைக் காண்க.

$$\lim_{x \rightarrow 0} \frac{1 - \cos(\alpha x)}{\sqrt{4+x^2} - \sqrt{4-x^2}}$$

$$= \lim_{x \rightarrow 0} \frac{\sin^2 \alpha x}{(1 + \cos(\alpha x))} \cdot \frac{1}{(\sqrt{4+x^2} - \sqrt{4-x^2})} \cdot \frac{(\sqrt{4+x^2} + \sqrt{4-x^2})}{(\sqrt{4+x^2} + \sqrt{4-x^2})}$$

5

kalvi.lk

5

Conjugate - os'

$$= \lim_{x \rightarrow 0} \frac{\sin^2 \alpha x \cdot (\sqrt{4+x^2} + \sqrt{4-x^2})}{2x^2 (1 + \cos(\alpha x))}$$

செய்யு

$$= \lim_{x \rightarrow 0} \left(\frac{\sin \alpha x}{\alpha x} \right)^2 \times \frac{\alpha^2}{2} \times \frac{(\sqrt{4+x^2} + \sqrt{4-x^2})}{(1 + \cos(\alpha x))}$$

$$= 1^2 \cdot \frac{\alpha^2}{2} \cdot \frac{4}{2} = \alpha^2$$

$$\therefore \alpha^2 = 16 \Rightarrow \alpha = 4 (\because \alpha > 0)$$

25

Aliter

$$\lim_{x \rightarrow 0} \frac{1 - \cos(\alpha x)}{\sqrt{4+x^2} - \sqrt{4-x^2}}$$

$$= \lim_{x \rightarrow 0} \frac{2 \sin^2 \left(\frac{\alpha x}{2} \right) (\sqrt{4+x^2} + \sqrt{4-x^2})}{(\sqrt{4+x^2} - \sqrt{4-x^2}) (\sqrt{4+x^2} + \sqrt{4-x^2})}$$

$$= \lim_{x \rightarrow 0} \frac{\sin^2 \left(\frac{\alpha x}{2} \right)}{x^2} \cdot (\sqrt{4+x^2} + \sqrt{4-x^2})$$

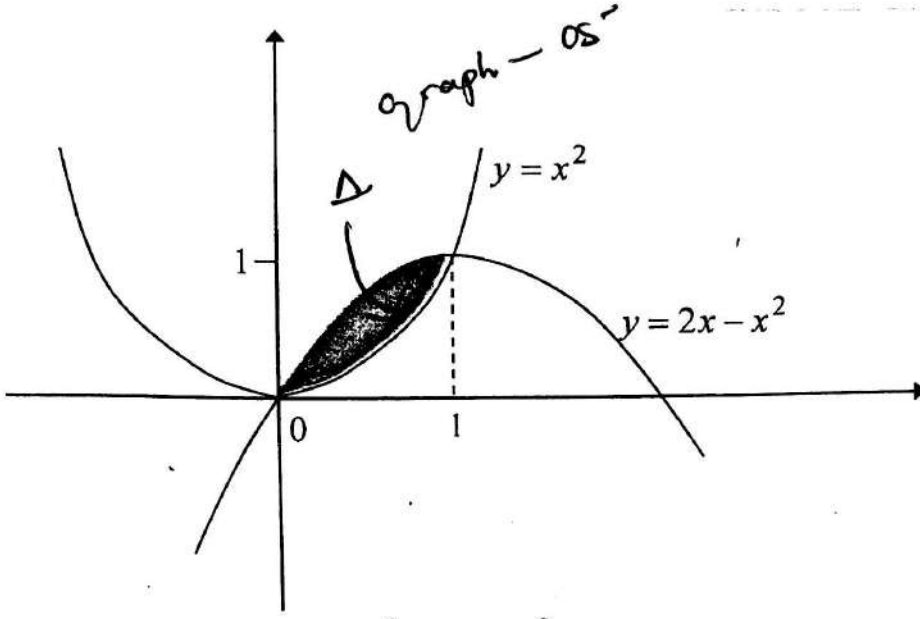
$$= \lim_{x \rightarrow 0} \left(\frac{\sin \left(\frac{\alpha x}{2} \right)}{\frac{\alpha x}{2}} \right)^2 \times \frac{\alpha^2}{4} \times (\sqrt{4+x^2} + \sqrt{4-x^2})$$

$$= 1^2 \cdot \frac{\alpha^2}{4} \cdot 4 = \alpha^2$$

$$\therefore \alpha^2 = 16 \Rightarrow \alpha = 4 (\because \alpha > 0)$$

25

6. $y = x^2$, $y = 2x - x^2$ என்னும் வளையிகளினால் உள்ளடைக்கப்படும் பிரதேசத்தின் பரப்பளவு $\frac{1}{3}$ சதுர அலகுகள் எனக் காட்டுக.



இடைவெட்டும் புள்ளிகளில் : $x^2 = 2x - x^2$
 $x(x-1) = 0$
 $x = 0$ or $x = 1$.

தேவையான பரப்பு = $\int_0^1 [(2x - x^2) - x^2] dx$ (15)

(10) $= 2 \int_0^1 (x - x^2) dx$

$= 2 \left(\frac{x^2}{2} - \frac{x^3}{3} \right) \Big|_0^1$ (5)

$= 2 \left(\frac{1}{2} - \frac{1}{3} \right)$ (5)

$= \frac{1}{3}$ சதுர அலகுகள்

25

7. $0 < \theta < \frac{\pi}{4}$ இற்கு $x = 3 \sin^2 \frac{\theta}{2}$, $y = \sin^3 \theta$ என்னும் பரமானச் சமன்பாடுகளினால் ஒரு வளையி C தரப்பட்டுள்ளது. $\frac{dy}{dx} = \sin 2\theta$ எனக் காட்டுக.
 C மீது உள்ள ஒரு புள்ளி P இல் இருக்கும் தொடலியின் படித்திறன் $\frac{\sqrt{3}}{2}$ எனின், P ஐ ஒத்த பரமானம் θ இன் பெறுமானத்தைக் காண்க.

$\frac{dx}{d\theta} = 6 \sin \frac{\theta}{2} \cos \frac{\theta}{2} \times \frac{1}{2} = 3 \sin \frac{\theta}{2} \cos \frac{\theta}{2}$

(5)

$$\frac{dy}{d\theta} = 3\sin^2 \theta \cos \theta \quad (5)$$

$$\frac{dy}{dx} = \frac{\frac{dy}{d\theta}}{\frac{dx}{d\theta}}$$

$$= \frac{3\sin^2 \theta \cos \theta}{3\sin \frac{\theta}{2} \cos \frac{\theta}{2}}$$

$$= 2\sin \theta \cos \theta \quad (5)$$

$$= \sin 2\theta$$

$$\left. \frac{dy}{dx} \right|_P = \frac{\sqrt{3}}{2}$$

$$\sin 2\theta = \frac{\sqrt{3}}{2} \quad (5)$$

$$2\theta = \frac{\pi}{3} \quad \left(\because 0 < 2\theta < \frac{\pi}{2} \right)$$

$$\theta = \frac{\pi}{6} \quad (5)$$

only $\theta = \frac{\pi}{6}$

25

8. உற்பத்தியினூடாகவும் $2x + 3y - k = 0$, $x - y + 1 = 0$ என்னும் நேர்க்கோடுகளின் வெட்டுப் புள்ளியினூடாகவும் செல்லும் நேர்க்கோடு l எனக் கொள்வோம்; இங்கு $k (\neq 0)$ ஒரு மாறிலி. l இன் சமன்பாட்டை k இன் சார்பிற் காண்க.
- $(1, 1)$, $(3, 4)$ ஆகிய இரு புள்ளிகளும் l இன் ஒரே பக்கத்தில் உள்ளவெனத் தரப்பட்டுள்ளது. $k < 18$ எனக் காட்டுக.

$$l: 2x + 3y - k + \lambda(x - y + 1) = 0 \quad (5)$$

$$\text{உற்பத்தியினூடு } l \text{ செல்வதால் } -k + \lambda = 0$$

$$\therefore \lambda = k \quad (5)$$

$$\therefore l \text{ இன் சமன்பாடு } (2+k)x + (3-k)y = 0 \quad (5)$$

$(1, 1)$ உம் $(3, 4)$ உம் ஒரே பக்கத்தில் இருப்பதால்

$$\Rightarrow [(2+k) + (3-k)][3(2+k) + 4(3-k)] > 0 \quad (5)$$

$$\Rightarrow 5(18-k) > 0$$

$$\Rightarrow k < 18 \quad (5)$$

25

Aliter

$l: x - y + 1 + \lambda(2x + 3y - k) = 0$ இங்கு $\lambda \in \mathbb{R}$. (5)

உற்பத்தியினூடே l செல்வதால்,

$1 - \lambda k = 0$

$\Rightarrow \lambda k = 1$

$\Rightarrow \lambda = \frac{1}{k} \text{ (}\because k \neq 0\text{)}$ (5)

$\therefore l$ இன் சமன்பாடு $\left(1 + \frac{2}{k}\right)x + \left(\frac{3}{k} - 1\right)y = 0$ (5)

(1, 1) உம் (3, 4) உம் ஒரே பக்கத்தில் இருப்பதால்

$\Rightarrow \left[1 + \frac{2}{k} + \frac{3}{k} - 1\right] \left[3 + \frac{6}{k} + \frac{12}{k} - 4\right] > 0$ (5)

$\Rightarrow \frac{5(18 - k)}{k^2} > 0 \Rightarrow k < 18 \text{ (}\because k \neq 0\text{)}$ (5)

25

9. $A \equiv (1, 2)$, $B \equiv (-5, 4)$ எனவும் S என்பது AB ஐ ஒரு விட்டமாகக் கொண்ட வட்டம் எனவும் கொள்வோம்.

(i) வட்டம் S இனதும்.

(ii) வட்டம் S ஐ நிமிர்கோணமுறையாக இடைவெட்டுகின்ற, மையம் (1, 1) ஐ உடைய வட்டத்தினதும் சமன்பாடுகளைக் காண்க.

(i) $\frac{(y-2)(y-4)}{(x-1)(x+5)} = -1$ for $x \neq 1, -5$ இற்கு (5)
 $S: (x-1)(x+5) + (y-2)(y-4) = 0$ (5)
 $x^2 + y^2 + 4x - 6y + 3 = 0$ (10) *ஆரம்பல் இன்புரஸ்*

(ii) தேவையான வட்டம் S' எனின்

$x^2 + y^2 - 2x - 2y + c' = 0$. (5)

S, S' என்பன நிமிர் கோணத்தில் இடைவெட்டுவதால் $\Rightarrow 2gg' + 2ff' = c + c'$,
 இங்கு $g = 2, f = -3, g' = -1, f' = -1, c = 3, c' = c'$.

$\Rightarrow 2(2)(-1) + 2(-3)(-1) = 3 + c'$ (5)

$\Rightarrow c' = -1$ (5)

$\therefore S': x^2 + y^2 - 2x - 2y - 1 = 0$

25

Aliter

(i) $S: (x-1)(x+5) + (y-2)(y-4) = 0$ (10)

$$x^2 + y^2 + 4x - 6y + 3 = 0$$

(ii) தேவையான வட்டம் S' எனின்

$$S': (x-1)^2 + (y-1)^2 = r^2$$
 (5)

$$x^2 + y^2 - 2x - 2y + 2 - r^2 = 0.$$

S, S' என்பன நிமிர் கோணத்தில் இடைவெட்டுவதால்

$$\Rightarrow 2gg' + 2ff' = c + c',$$

இங்கு $g = 2, f = -3, g' = -1, f' = -1, c = 3$ and $c' = 2 - r^2$.

$$2(2)(-1) + 2(-3)(-1) = 3 + (2 - r^2)$$
 (5)

$$\Rightarrow r^2 = 3$$
 (5)

$$\therefore S': x^2 + y^2 - 2x - 2y - 1 = 0$$

25

10. $0 \leq x \leq \frac{\pi}{2}$ இற்குச் சமன்பாடு $\cos x + \cos 2x + \cos 3x = \sin x + \sin 2x + \sin 3x$ ஐத் தீர்க்க.

$$\cos x + \cos 2x + \cos 3x = \sin x + \sin 2x + \sin 3x$$

$$(5)$$

$$(5)$$

$$2 \cos 2x \cos x + \cos 2x = 2 \sin 2x \cos x + \sin 2x$$

$$\cos 2x(2 \cos x + 1) = \sin 2x(2 \cos x + 1)$$
 (5)

$$\cos 2x = \sin 2x \quad (\because 0 \leq x \leq \frac{\pi}{2} \Rightarrow 2 \cos x + 1 \neq 0)$$

$$(5)$$

$$\tan 2x = 1 \quad (\because \cos 2x = 0 \Rightarrow \sin 2x \neq 0)$$

$$2x = \frac{\pi}{4} \quad \left(\because 0 < x < \frac{\pi}{2} \right)$$

$$x = \frac{\pi}{8}$$
 (5)

Important

25

பகுதி B

11. (a) $a \neq 0$ ஆகவும் $a + b + c \neq 0$ ஆகவும் இருக்கத்தக்கதாக $a, b, c \in \mathbb{R}$ எனவும் $f(x) = ax^2 + bx + c$ எனவும் கொள்வோம்.

சமன்பாடு $f(x) = 0$ இல் 1 ஒரு மூலமன்று எனக் காட்டுக.

$f(x) = 0$ இன் மூலங்கள் α, β எனக் கொள்வோம்.

$(\alpha - 1)(\beta - 1) = \frac{1}{a}(a + b + c)$ எனவும் $\frac{1}{\alpha - 1}, \frac{1}{\beta - 1}$ ஆகியவற்றை மூலங்களாகக் கொண்ட இருபடிச்

சமன்பாடு $g(x) = 0$ இனால் தரப்படுகின்றது எனவும் காட்டுக; இங்கு $g(x) = (a + b + c)x^2 + (2a + b)x + a$.

இப்போது $a > 0$ எனவும் $a + b + c > 0$ எனவும் கொள்வோம்.

$f(x)$ இன் இழிவுப் பெறுமானம் m_1 ஆனது $m_1 = -\frac{\Delta}{4a}$ இனால் தரப்படுகின்றதெனக் காட்டுக; இங்கு $\Delta = b^2 - 4ac$ ஆகும்.

$g(x)$ இன் இழிவுப் பெறுமானம் m_2 எனக் கொள்வோம். $(a + b + c)m_2 = am_1$ என உய்த்தறிக.

இதிலிருந்து, எல்லா $x \in \mathbb{R}$ இற்கும் $g(x) \geq 0$ ஆக இருந்தால்-இருந்தால் மாத்திரம் எல்லா $x \in \mathbb{R}$ இற்கும் $f(x) \geq 0$ எனக் காட்டுக.

(b) $p(x) = x^3 + 2x^2 + 3x - 1$ எனவும் $q(x) = x^2 + 3x + 6$ எனவும் கொள்வோம். மீதித் தேற்றத்தைப் பயன்படுத்தி, $p(x)$ ஆனது $(x - 1)$ இனால் வகுக்கப்படும்போது உள்ள மீதியையும் $q(x)$ ஆனது $(x - 2)$ இனால் வகுக்கப்படும்போது உள்ள மீதியையும் காண்க.

$p(x) = (x - 1)q(x) + 5$ என வாய்ப்புப் பார்த்து, $p(x)$ ஆனது $(x - 1)(x - 2)$ இனால் வகுக்கப்படும்போது உள்ள மீதியைக் காண்க.

$$f(x) = ax^2 + bx + c$$

(a) $f(1) = a + b + c \neq 0$.

\therefore 1 ஆனது $f(x) = 0$ இன் மூலமன்று.

5

5

10

$$\alpha + \beta = -\frac{b}{a} \text{ and } \alpha\beta = \frac{c}{a}$$

5

$$(\alpha - 1)(\beta - 1) = \alpha\beta - (\alpha + \beta) + 1$$

5

$$\left. \begin{aligned} &= \frac{c}{a} + \frac{b}{a} + 1 \\ &= \frac{a + b + c}{a} \end{aligned} \right\} \longrightarrow$$

5

15

Let $\alpha_1 = \frac{1}{\alpha - 1}$ and $\beta_1 = \frac{1}{\beta - 1}$.

α_1, β_1 ஐ மூலங்களாகக் கொண்ட இருபடிச் சமன்பாடு $(x - \alpha_1)(x - \beta_1) = 0$.

i.e. $x^2 - (\alpha_1 + \beta_1)x + \alpha_1\beta_1 = 0$. -----(1)

எனவே $\alpha_1 + \beta_1 = \frac{1}{\alpha - 1} + \frac{1}{\beta - 1} = \frac{\alpha + \beta - 2}{(\alpha - 1)(\beta - 1)}$

5

$$= \frac{-\frac{b}{a} - 2}{(a+b+c)/a} = -\frac{(2a+b)}{a+b+c}$$

5

மேலும் $\alpha_1 \beta_1 = \frac{a}{a+b+c}$.

5

(1) இன் படி தேவையான இருபடிச் சமன்பாடு $x^2 + \frac{(2a+b)}{(a+b+c)}x + \frac{a}{a+b+c} = 0$

10

$$\Leftrightarrow (a+b+c)x^2 + (2a+b)x + a = 0$$

5

Important $\Leftrightarrow g(x) = 0$, where $g(x) = (a+b+c)x^2 + (2a+b)x + a$.
தயவுசெய்து

30

$$f(x) = ax^2 + bx + c$$

$$= a\left(x + \frac{b}{2a}\right)^2 - \frac{b^2}{4a} + c$$

5

$$= a\left(x + \frac{b}{2a}\right)^2 - \frac{b^2 - 4ac}{4a}$$

$$= a\left(x + \frac{b}{2a}\right)^2 - \frac{\Delta}{4a}$$

5

$$\geq 0 \quad (\because a > 0)$$

திருவாரூர் கல்வி
10

$$\geq \frac{-\Delta}{4a}; \text{ (சமம் } x = -\frac{b}{2a} \text{ ஆகும் பொழுது)}$$

5

$$\therefore f(x) \text{ இன் இழிவுப் பெறுமானம் } -\frac{\Delta}{4a}$$

5

அதாவது $m_1 = -\frac{\Delta}{4a}$.

25

எனவே $m_2 = -\frac{\Delta'}{4(a+b+c)}$,

5

இங்கு $\Delta' = (2a+b)^2 - 4(a+b+c) \cdot a$

5

$$= 4a^2 + 4ab + b^2 - 4a^2 - 4ab - 4ac$$

$$= b^2 - 4ac$$

$$= \Delta$$

5

$$\text{மேலும் } m_2 = \frac{-\Delta'}{4(a+b+c)}$$

$$= \frac{4a m_1}{4(a+b+c)}$$

$$\Leftrightarrow (a+b+c)m_2 = m_1 a$$

5

20

$f(x) \geq 0$ எல்லா $x \in \mathbb{R}$ இற்கும்

$$\Leftrightarrow m_1 \geq 0$$

5

$$\Leftrightarrow m_2 \geq 0$$

$$\therefore m_2 = \frac{a m_1}{(a+b+c)}$$

5

$g(x) \geq 0$ எல்லா $x \in \mathbb{R}$ இற்கும்

5

15

\Leftrightarrow இன்னமொன்று
less - 05

(b) $p(x)$ ஆனது $(x-1)$ ஆல் வகுக்கப்படும் பொழுது மீதி $p(1) = 5$

5

கடமையு 5, 16

$q(x)$ ஆனது $(x-2)$ ஆல் வகுக்கப்படும் பொழுது மீதி $q(2) = 16$

5

10

$$(x-1)q(x) + 5 = (x-1)(x^2 + 3x + 6) + 5$$

5

$$= x^3 + 3x^2 + 6x - x^2 - 3x - 6 + 5$$

$$= x^3 + 2x^2 + 3x - 1$$

5

$$= p(x).$$

10

$$q(x) = (x-2)(x-5) + 16 \text{ ஆகும்}$$

5

$$\therefore p(x) = (x-1)\{(x-2)(x-5) + 16\} + 5$$

$$= (x-1)(x-2)(x-5) + 16x - 11.$$

5

எனவே தேவையான மீதி $16x - 11$.

5

15

வேறு வேறுகளுக்கும் புள்ளி வழங்குக .

12. (a) $n \in \mathbb{Z}^+$ எனக் கொள்வோம். வழக்கமான குறிப்பீட்டில், $(1+x)^n$ இற்கு ஈருறுப்பு விரியைக் கூறுக. வழக்கமான குறிப்பீட்டில், $r = 0, 1, 2, \dots, n-1$ இற்கு $\frac{{}^n C_{r+1}}{{}^n C_r} = \frac{n-r}{r+1}$ எனக் காட்டுக.

$(1+x)^n$ இன் ஈருறுப்பு விரியில் x^r, x^{r+1}, x^{r+2} ஆகியவற்றின் குணகங்கள் அதே வரிசையில் எடுக்கப்படும்போது $1:2:3$ விகிதங்களில் உள்ளனவாகும். இச்சந்தர்ப்பத்தில் $n = 14$ எனவும் $r = 4$ எனவும் காட்டுக.

(b) $r \in \mathbb{Z}^+$ இற்கு $U_r = \frac{10r+9}{(2r-3)(2r-1)(2r+1)}$ எனவும் $f(r) = r(Ar+B)$ எனவும் கொள்வோம்; இங்கு A, B ஆகியன மெய் மாறிலிகள்.

$r \in \mathbb{Z}^+$ இற்கு $U_r = \frac{f(r)}{(2r-3)(2r-1)} \cdot \frac{f(r+1)}{(2r-1)(2r+1)}$ ஆக இருக்கத்தக்கதாக A, B ஆகிய மாறிலிகளின் பெறுமானங்களைக் காண்க.

$n \in \mathbb{Z}^+$ இற்கு $\sum_{r=1}^n U_r = -3 - \frac{(n+1)(2n+3)}{(4n^2-1)}$ எனக் காட்டுக.

முடிவில் தொடர் $\sum_{r=1}^{\infty} U_r$ ஒருங்குகின்றதென மேலும் காட்டி, அதன் கூட்டுத்தொகையைக் காண்க.

(a) $(1+x)^n = \sum_{r=0}^n {}^n C_r x^r$, இங்கு ${}^n C_r = \frac{n!}{r!(n-r)!}$ for $r = 0, 1, 2, \dots, n$

$r = 0, 1, 2, \dots, n-1$, இற்கு

$$\frac{{}^n C_{r+1}}{{}^n C_r} = \frac{\frac{n!}{(r+1)!(n-r-1)!}}{\frac{n!}{r!(n-r)!}}$$

$$= \frac{1}{\frac{r+1}{1}} = \frac{n-r}{r+1} \quad (1)$$

இதே போல் $r = 0, 1, 2, \dots, n-2$, இற்கு

$$(1) \Rightarrow \frac{{}^n C_{r-2}}{{}^n C_{r-1}} = \frac{n-r-1}{r+2}$$

${}^n C_r : {}^n C_{r+1} : {}^n C_{r+2} = 1:2:3$ எனத்தரப்பட்டுள்ளது

$$\Rightarrow \frac{n-r}{r+1} = 2, \quad \frac{n-r-1}{r+2} = \frac{3}{2}$$

$$\Rightarrow n - r = 2(r + 1) \text{----- (2)} \quad , \quad 2(n - r - 1) = 3(r + 2)$$

$$\Rightarrow 4(r + 1) - 2 = 3r + 6$$

$$\Rightarrow r = 4, \text{ அத்துடன் (2) இன் படி } n = 14.$$

5

5

30

$$(b) \frac{10r + 9}{(2r - 3)(2r - 1)(2r + 1)} = \frac{r(Ar + B)}{(2r - 3)(2r - 1)} - \frac{(r + 1)(Ar + A + B)}{(2r - 1)(2r + 1)}$$

10

$$\Leftrightarrow 10r + 9 = r(Ar + B)(2r + 1) - (r + 1)(Ar + A + B)(2r - 3)$$

5

$$= r[2Ar^2 + (A + 2B)r + B] - (r + 1)[2Ar^2 + (2A + 2B - 3A)r - 3(A + B)]$$

$$= 2Ar^3 + (A + 2B)r^2 + Br - 2Ar^3 - (2B - A)r^2 + 3(A + B)r - 2Ar^2 - (2B - A)r + 3(A + B)$$

$$= \underbrace{(4A + 2B)r^2}_{(4A + 2B)r} - (2A + 4B)r + 3(A + B), \quad r \in \mathbb{Z}^+ \text{ இற்கு}$$

5

$$\Leftrightarrow r^1 : 4A + 2B = 10, \quad r^0 : 3A + 3B = 9$$

10

$$\Leftrightarrow A = 2, \quad B = 1.$$

5

5

40

ஆனால் $U_r = g(r) - g(r+1)$, இங்கு $g(r) = \frac{f(r)}{(2r-3)(2r-1)}$ அத்துடன் $f(r) = r(2r+1)$.

$$r = 1; \quad U_1 = g(1) - g(2)$$

$$r = 2; \quad U_2 = g(2) - g(3)$$

⋮

$$U_{n-1} = g(n-1) - g(n)$$

$$U_n = g(n) - g(n+1)$$

10

$$\sum_{r=1}^n u_r = g(1) - g(n+1)$$

10

$$= \frac{(1)(3)}{(-1)(1)} - \frac{(n+1)(2n+3)}{(2n-1)(2n+1)}$$

$$= -3 - \frac{(n+1)(2n+3)}{(4n^2-1)}$$

10

30

5) இலவசப்படிப்பதற்கு
2) பிழைப்பதற்கு

$$\lim_{n \rightarrow \infty} \sum_{r=1}^n U_r = \lim_{n \rightarrow \infty} \left\{ -3 - \frac{\left(1 + \frac{1}{n}\right)\left(2 + \frac{3}{n}\right)}{\left(4 - \frac{1}{n^2}\right)} \right\}$$

$$= -3 - \frac{1}{2} = -\frac{7}{2}$$

எனவே $\sum_{r=1}^{\infty} U_r$ ஒருங்கும் அதன் கூட்டுத்தொகை $-\frac{7}{2}$ ஆகும்.

25

13. (a) $A = \begin{pmatrix} -4 & -6 \\ 3 & 5 \end{pmatrix}$, $X = \begin{pmatrix} -1 \\ 1 \end{pmatrix}$, $Y = \begin{pmatrix} -2 \\ 1 \end{pmatrix}$ எனக் கொள்வோம்.
 $AX = \lambda X$ ஆகவும் $AY = \mu Y$ ஆகவும் இருக்கத்தக்கதாக λ, μ ஆகிய மெய்யம் மாறிலிகளைக் காண்க.
 $P = \begin{pmatrix} -1 & -2 \\ 1 & 1 \end{pmatrix}$ எனக் கொள்வோம். P^{-1} , AP ஆகியவற்றைக் கண்டு, $P^{-1}AP = D$ எனக் காட்டுக;
இங்கு $D = \begin{pmatrix} 2 & 0 \\ 0 & -1 \end{pmatrix}$.

(b) ஓர் ஆகண் வரிப்படத்தில் புள்ளி A ஆனது சிக்கலெண் $2 + i$ ஐ வகைகுறிக்கின்றது. புள்ளி B ஆனது $OB = 2(OA)$ ஆகவும் $\angle AOB = \frac{\pi}{4}$ ஆகவும் இருக்கத்தக்கதாக உள்ளது; இங்கு O ஆனது உற்பத்தி ஆகும். $\angle AOB$ ஆனது OA இலிருந்து இடஞ்சுழியாக அளக்கப்படுகின்றது. புள்ளி B இனால் வகைகுறிக்கப்படும் சிக்கலெண்ணைக் காண்க.
மேலும் $OACB$ ஓர் இணைகரமாக இருக்கத்தக்கதாகப் புள்ளி C இனால் வகைகுறிக்கப்படும் சிக்கலெண்ணையும் காண்க.

(c) $z \in \mathbb{C}$ எனவும் $w = \frac{2}{1+i} + \frac{5z}{2+i}$ எனவும் கொள்வோம். $\text{Im } w = -1$ எனவும் $|w - 1 + i| = 5$ எனவும் தரப்பட்டுள்ளது. $z = \pm(2 + i)$ எனக் காட்டுக.

(a) $AX = \begin{pmatrix} -4 & -6 \\ 3 & 5 \end{pmatrix} \begin{pmatrix} -1 \\ 1 \end{pmatrix} = \begin{pmatrix} -2 \\ 2 \end{pmatrix}$ 5

$\lambda X = \begin{pmatrix} -\lambda \\ \lambda \end{pmatrix}$ 5

எனவே $AX = \lambda X \Leftrightarrow \begin{pmatrix} -2 \\ 2 \end{pmatrix} = \begin{pmatrix} -\lambda \\ \lambda \end{pmatrix} = 2 \begin{pmatrix} -1 \\ 1 \end{pmatrix}$
 $\Leftrightarrow \lambda = 2.$ 5

$AY = \begin{pmatrix} -4 & -6 \\ 3 & 5 \end{pmatrix} \begin{pmatrix} -2 \\ 1 \end{pmatrix} = \begin{pmatrix} 2 \\ -1 \end{pmatrix}$

$$\mu Y = \begin{pmatrix} -2\mu \\ \mu \end{pmatrix}.$$

$$\text{எனவே } AY = \mu X \Leftrightarrow \begin{pmatrix} 2 \\ -1 \end{pmatrix} = \begin{pmatrix} -2\mu \\ \mu \end{pmatrix} = -1 \begin{pmatrix} -2 \\ 1 \end{pmatrix}$$

$$\Leftrightarrow \mu = -1.$$

5

5

25

$$P = \begin{pmatrix} -1 & -2 \\ 1 & 1 \end{pmatrix}$$

$$\begin{pmatrix} -1 & -2 \\ 1 & 1 \end{pmatrix} \begin{pmatrix} ab \\ cd \end{pmatrix} = \begin{pmatrix} 10 \\ 01 \end{pmatrix}$$

$$-a - 2c = 1$$

$$-b - 2d = 0$$

$$a + c = 0$$

$$b + d = 1$$

$$\Rightarrow c = -1, a = 1$$

$$\Rightarrow d = -1, b = 2$$

$$\therefore P^{-1} = \begin{pmatrix} 1 & 2 \\ -1 & -1 \end{pmatrix}$$

$$AP = \begin{pmatrix} -4 & -6 \\ 3 & 5 \end{pmatrix} \begin{pmatrix} -1 & -2 \\ 1 & 1 \end{pmatrix} = \begin{pmatrix} -2 & 2 \\ 2 & -1 \end{pmatrix}$$

$$P^{-1}AP = \begin{pmatrix} 1 & 2 \\ -1 & -1 \end{pmatrix} \begin{pmatrix} -2 & 2 \\ 2 & -1 \end{pmatrix} = \begin{pmatrix} 2 & 0 \\ 0 & -1 \end{pmatrix} = D.$$

15

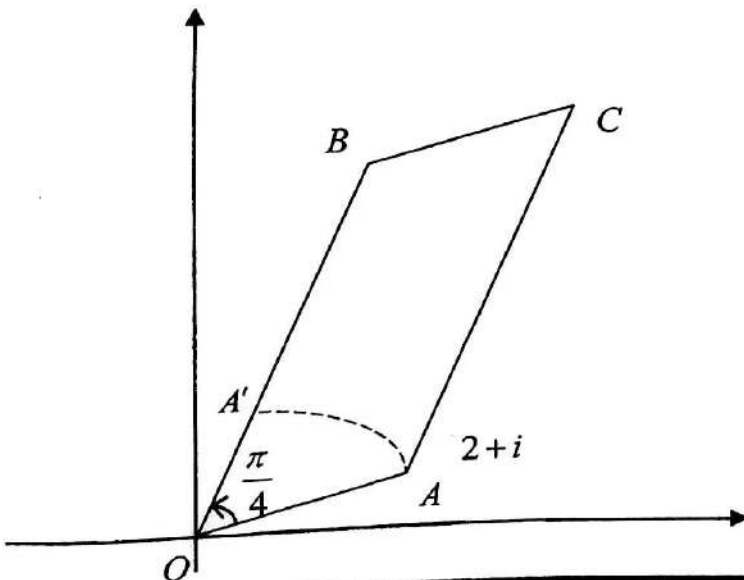
5

5

25

$P^{-1} = \frac{\text{adj } P}{|P|}$
 only → 05 marks
 less → 10

b)



OA ஐ இடம்சுழிப்போக்கில் O பற்றி $\frac{\pi}{4}$ கோணத்தினூடாக சுழற்றும் போது புள்ளி A'

இனால் குறிப்பிடப்படும் பெறப்படும் சிக்கலெண் $z_1 = (2+i) \left(\cos \frac{\pi}{4} + i \sin \frac{\pi}{4} \right)$ 10

$$= \frac{1}{\sqrt{2}} (2+i)(1+i)$$

$$= \frac{1}{\sqrt{2}} (1+3i).$$

5

$$OA = OA' \Rightarrow OB = 2OA'.$$

B புள்ளி இனால் குறிக்கப்படும் சிக்கலெண் z_2

$z_2 = 2z_1$ ஆல் கொடுக்கப்படும்

$$z_2 = \sqrt{2}(1+3i).$$

10

25

புள்ளி C இனால் குறிக்கப்படும் சிக்கலெண்

$$= (2+i) + z_2$$

$$= 2+i + \sqrt{2}(1+3i)$$

$$= (2+\sqrt{2}) + (1+3\sqrt{2})i.$$

10

5

15

$$(c) w = \frac{2}{1+i} + \frac{5z}{2+i}$$

$$= \frac{2(1-i)}{2} + \frac{5z(2-i)}{5}$$

5

5

10

$$= 1-i + z(2-i).$$

$$\text{Im } w = -1 \Rightarrow -1 = -1 + \text{Im } z(2-i)$$

$$\Rightarrow \text{Im } z(2-i) = 0$$

$$\Rightarrow z(2-i) = \bar{z}(2+i) \text{-----(1)}$$

$$|w-1+i| = 5 \Rightarrow |z(2-i)| = 5$$

$$\Rightarrow |z| |2-i| = 5$$

15

$$\Rightarrow |z|\sqrt{5} = 5$$

15

$$|z| = \sqrt{5} \text{ ----- (2)}$$

$$(1) \times z \Rightarrow z^2(2-i) = z\bar{z}(2+i)$$

$$(2) \Rightarrow z\bar{z} = 5$$

$$\therefore z^2(2-i) = (2+i)5$$

10

$$z^2 = \frac{2+i}{2-i} \cdot 5 = \frac{5}{5}(2+i)^2$$

$$\therefore z = \pm(2+i). \leftarrow (10) \text{ OR } 0$$

10

60

14.(a) $x \neq \pm 1$ இற்கு $f(x) = \frac{(x-3)^2}{x^2-1}$ எனக் கொள்வோம்.

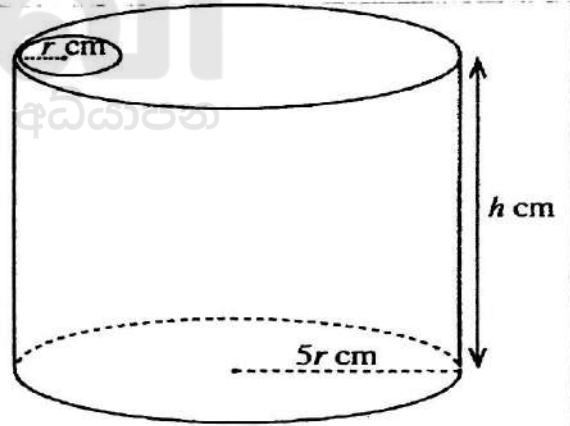
$f(x)$ இன் பெறுதி $f'(x)$ ஆனது $f'(x) = \frac{2(x-3)(3x-1)}{(x^2-1)^2}$ இனால் தரப்படுகின்றதெனக் காட்டுக.

$y = f(x)$ இன் அணுகுகோடுகளின் சமன்பாடுகளை எழுதுக.

கிடை அணுகுகோடானது வளையி $y = f(x)$ ஐ இடைவெட்டும் புள்ளியின் ஆள்கூறுகளைக் காண்க. அணுகுகோடுகளையும் திரும்பற் புள்ளிகளையும் காட்டி $y = f(x)$ இன் வரைபைப் படும்படியாக வரைக.

(b) ஆரை $5r$ cm ஐயும் உயரம் h cm ஐயும் உடைய ஒரு செவ்வட்ட உருளை வடிவத்தில் உள்ள ஒரு மெல்லிய உலோகக் கொள்கலத்திற்கு. ஆரை r cm ஐ உடைய ஒரு வட்டத் துளை உள்ள ஆரை $5r$ cm ஐ உடைய ஒரு வட்ட முடி உள்ளது (உருவைப் பார்க்க). கொள்கலத்தின் கனவளவு 245π cm³ எனத் தரப்பட்டுள்ளது. துளை உள்ள முடியைக் கொண்ட கொள்கலத்தின் மேற்பரப்பின் பரப்பளவு S cm² ஆனது $r > 0$ இற்கு $S = 49\pi \left(r^2 + \frac{2}{r}\right)$ இனால் தரப்படுகின்றதெனக் காட்டுக.

S ஆனது இழிவாக இருக்கத்தக்கதாக r இன் பெறுமானத்தைக் காண்க.



$$(a) f(x) = \frac{(x-3)^2}{x^2-1} \text{ for } x \neq \pm 1.$$

$$f'(x) = \frac{(x^2-1)2(x-3) - (x-3)^2 \cdot 2x}{(x^2-1)^2}$$

15

$$= \frac{2(x-3)[x^2-1-x(x-3)]}{(x^2-1)^2}$$

$$= \frac{2(x-3)(3x-1)}{(x^2-1)^2}$$

5

20

கிடை அணுகுகோடு: $\lim_{x \rightarrow \pm\infty} f(x) = 1$ இதிலிருந்து $y=1$ ஆகும் (5)

மேலும்

$$\lim_{x \rightarrow 1^-} f(x) = -\infty$$

$$\lim_{x \rightarrow 1^+} f(x) = \infty$$

$$\lim_{x \rightarrow -1} f(x) = \infty$$

$$\lim_{x \rightarrow -1^+} f(x) = -\infty$$

நிலைக்குத்து அணுகுகோடு: $x = \pm 1$ (5)

10

தீர்க்க: $y = f(x)$ இல் $y=1$ ஆகும் போது

$$\text{i.e. } \frac{(x-3)^2}{x^2-1} = 1 \quad (5)$$

$$\Leftrightarrow x^2 - 6x + 9 = x^2 - 1$$

$$\Leftrightarrow 6x = 10$$

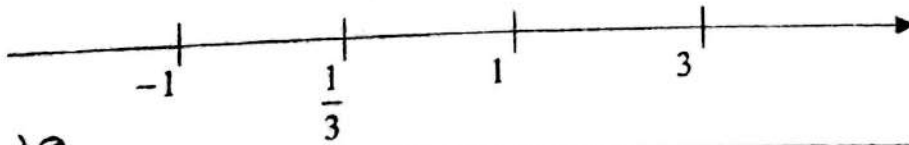
$$\Leftrightarrow x = \frac{5}{3}$$

(5)

எனவே தேவையான புள்ளி $= \left(\frac{5}{3}, 1\right)$ (5)

15

$$f'(x) = 0 \Leftrightarrow x = 3 \text{ or } x = \frac{1}{3}$$



சிறந்த கணித
கூட்டுதல்

	$-\infty < x < -1$	$-1 < x < \frac{1}{3}$	$\frac{1}{3} < x < 1$	$1 < x < 3$	$3 < x < \infty$
$f'(x)$ குறி	(+)	(+)	(-)	(-)	(+)

இரண்டு திரும்பல் புள்ளிகளாவன:

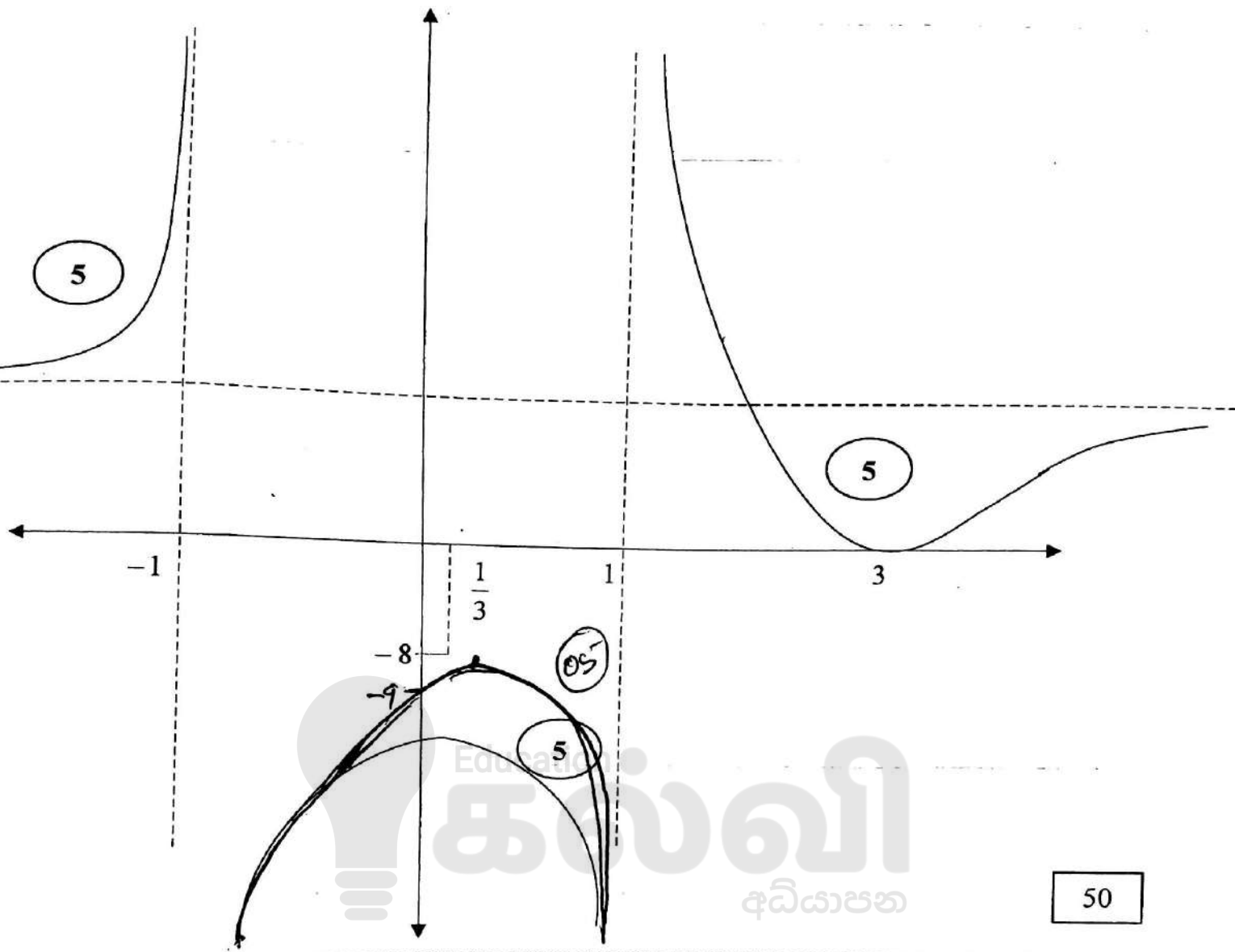
$$\left(\frac{1}{3}, -8\right) - \text{உயர்வுப் புள்ளி. (5)}$$

25

2nd Derivative
மேலும் (10)
கூட்டுதல் (15)

$$f\left(\frac{1}{3}\right) = \frac{\left(\frac{1}{3}-3\right)^2}{\frac{1}{9}-1} = \frac{64}{-8} = -8$$

(3,0) - இழிவுப் புள்ளி. (5)



50

(b) $S = 2\pi(5r)h + \pi(5r)^2 \times 2 - \pi r^2$ (10)

$= 10\pi r h + 49\pi r^2$ ----- (1)

$245\pi = \pi(5r)^2 \times h$ (5)

$\therefore h = \frac{245}{25r^2} = \frac{49}{5r^2}$

(1) $\Rightarrow S = 10\pi r \times \frac{49}{5r^2} + 49\pi r^2$

$= 49\pi \left(\frac{2}{r} + r^2 \right); r > 0.$ (5)

20

$\frac{dS}{dr} = 49\pi \left(2r - \frac{2}{r^2} \right)$ (10) OR 0

5 $\frac{dS}{dr} = 0 \Leftrightarrow 2r = \frac{2}{r^2} \Leftrightarrow r = 1. (\because r > 0)$ 5

5 $\frac{dS}{dr} < 0; 0 < r < 1$ இற்கு, $\frac{dS}{dr} > 0; r > 1$ இற்கு 5

$\therefore S$ இழிவாகும். இங்கு $r = 1$ ஆகும்.. 5

35

2nd derivative less - 05

15.(a) (i) $\int \frac{dx}{\sqrt{3+2x-x^2}}$ ஐக் காண்க.

(ii) $\frac{d}{dx}(\sqrt{3+2x-x^2})$ ஐக் கண்டு, இதிலிருந்து, $\int \frac{x-1}{\sqrt{3+2x-x^2}} dx$ ஐக் காண்க.

மேற்குறித்த தொகையீடுகளைப் பயன்படுத்தி, $\int \frac{x+1}{\sqrt{3+2x-x^2}} dx$ ஐக் காண்க.

(b) $\frac{2x-1}{(x+1)(x^2+1)}$ ஐப் பகுதிப் பின்னங்களாக எடுத்துரைத்து, இதிலிருந்து, $\int \frac{(2x-1)}{(x+1)(x^2+1)} dx$ ஐக் காண்க.

(c) (i) $n \neq -1$ எனக் கொள்வோம். பகுதிகளாகத் தொகையிடலைப் பயன்படுத்தி $\int x^n (\ln x) dx$ ஐக் காண்க.

(ii) $\int \frac{\ln x}{x} dx$ ஐப் பெறுமானங் கணிக்க.

(a)

$\int \frac{dx}{\sqrt{3+2x-x^2}} = \int \frac{10 dx}{\sqrt{4-(x-1)^2}}$ or 10
 $= \sin^{-1}\left(\frac{x-1}{2}\right) + C_1$, இங்கு C_1 எதேச்சையான மாறிலியாகும். 20

(ii) $\frac{d(\sqrt{3+2x-x^2})}{dx} = \frac{1}{2}(3+2x-x^2)^{-1/2} \times (2-2x)$
 $= \frac{1-x}{\sqrt{3+2x-x^2}}$ 10 OR 10

இதிலிருந்து $\int \frac{x-1}{\sqrt{3+2x-x^2}} dx = -\sqrt{3+2x-x^2} + C_2$, இங்கு C_2 எதேச்சையான மாறிலியாகும். 10

$\int \frac{x+1}{\sqrt{3+2x-x^2}} dx = \int \frac{x-1}{\sqrt{3+2x-x^2}} dx + 2 \int \frac{dx}{\sqrt{3+2x-x^2}}$ 10
 $= -\sqrt{3+2x-x^2} + 2 \sin^{-1}\left(\frac{x-1}{2}\right) + C_3$, இங்கு C_3 எதேச்சையான மாறிலியாகும். 10 10 40

$$(b) \frac{2x-1}{(x+1)(x^2+1)} = \frac{A}{x+1} + \frac{Bx+C}{x^2+1}$$

10

$$2x - 1 = A(x^2 + 1) + (Bx + C)(x + 1)$$

$$x^2: 0 = A + B$$

$$x^1: 2 = B + C$$

$$x^0: -1 = A + C$$

$$A - C = -2$$

$$A = -3/2$$

$$C = 1/2$$

$$B = 3/2$$

10

சரிசெய்து 22
less - 05

$$\frac{2x-1}{(x+1)(x^2+1)} = \left(-\frac{3}{2}\right) \frac{1}{x+1} + \left(\frac{1}{2}\right) \frac{3x+1}{x^2+1}$$

$$\int \frac{2x-1}{(x+1)(x^2+1)} dx = \frac{-3}{2} \int \frac{1}{x+1} dx + \frac{1}{2} \int \frac{3x}{x^2+1} dx + \frac{1}{2} \int \frac{1}{x^2+1} dx$$

5

$$= \frac{-3}{2} \ln|x+1| + \frac{3}{4} \ln(x^2+1) + \frac{1}{2} \tan^{-1} x + C_4$$

15

இங்கு C_4 எதேச்சையான மாறிலியாகும்

40

(c) (i) $n \neq -1$,

$$\int x^n (\ln x) dx = \int (\ln x) \cdot \frac{d}{dx} \left(\frac{x^{n+1}}{n+1} \right) dx$$

10

$$= \left(\frac{x^{n+1}}{n+1} \right) (\ln x) - \int \frac{x^{n+1}}{(n+1)} \cdot \frac{1}{x} dx$$

10

$$= \left(\frac{x^{n+1}}{n+1} \right) (\ln x) - \frac{1}{(n+1)} \int x^n dx$$

$$= \left(\frac{x^{n+1}}{n+1} \right) (\ln x) - \frac{1}{(n+1)^2} x^{n+1} + C_5$$

10

இங்கு C_5 எதேச்சையான மாறிலியாகும்.

30

$$(ii) \int_1^3 \frac{\ln x}{x} dx = \frac{(\ln x)^2}{2} \Big|_1^3 = \frac{1}{2} (\ln 3)^2$$

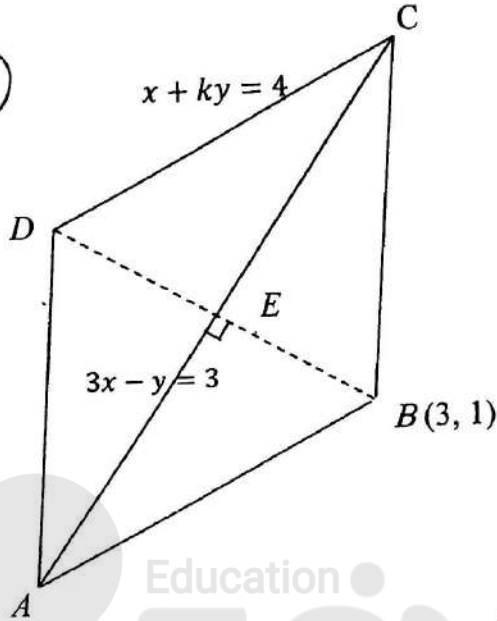
5

15

20

16. (a) ஒரு சாய்சதுரம் ABCD இன் மூலைவிட்டம் AC இன் சமன்பாடு $3x - y = 3$ உம் $B \equiv (3, 1)$ உம் ஆகும். அத்துடன் CD இன் சமன்பாடு $x + ky = 4$ ஆகும்; இங்கு k ஒரு மெய்யம் மாறிலி. k இன் பெறுமானத்தையும் BC இன் சமன்பாட்டையும் காண்க.
- (b) முறையே $x^2 + y^2 = 4$, $(x-1)^2 + y^2 = 1$ என்னும் சமன்பாடுகளினால் தரப்படும் C_1, C_2 என்னும் வட்டங்களை அவற்றின் தொடுகைப் புள்ளியைத் தெளிவாகக் காட்டிப் பரும்படியாக வரைக. ஒரு வட்டம் C_3 ஆனது C_1 ஐ உள்ளேயும் C_2 ஐ வெளியேயும் தொடுகின்றது. C_3 இன் மையம் வளையி $8x^2 + 9y^2 - 8x - 16 = 0$ மீது கிண்கின்றதெனக் காட்டுக.

Use the mirror image less than 10



ஆணைப்படி படித்துள்ள less - 10

BD ⊥ AC

BD இன் சமன்பாடு: $y - 1 = -\frac{1}{3}(x - 3)$ ($\because BD \perp AC$)

$$\frac{x-3}{3} = \frac{y-1}{-1} = t \text{ (say)}$$

$$\therefore x = 3 + 3t, y = 1 - t.$$

10 OR 0

10 OR 0

D க்குத் தொடர்பான பெறுமானம் t என்க.

எனின் $E \equiv \left(3 + \frac{3t}{2}, 1 - \frac{t}{2}\right)$ ஆனது AC யில் கிடக்கும்

$$\therefore 3\left(3 + \frac{3t}{2}\right) - \left(1 - \frac{t}{2}\right) = 3$$

$$\Rightarrow 8 + 5t = 3 \Rightarrow t = -1.$$

$$\therefore D \equiv (0, 2)$$

இது DC யில் கிடக்கும்

$$0 + k \times 2 = 4$$

$$k = 2.$$

$$\left. \begin{array}{l} x + 2y = 4 \\ 3x - y = 3 \end{array} \right\} \Rightarrow 7x = 10; 7y = 9$$

$$C \equiv \left(\frac{10}{7}, \frac{9}{7}\right).$$

BC இன் சமன்பாடு:

10

50

$$y - 1 = \frac{2}{-11}(x - 3)$$

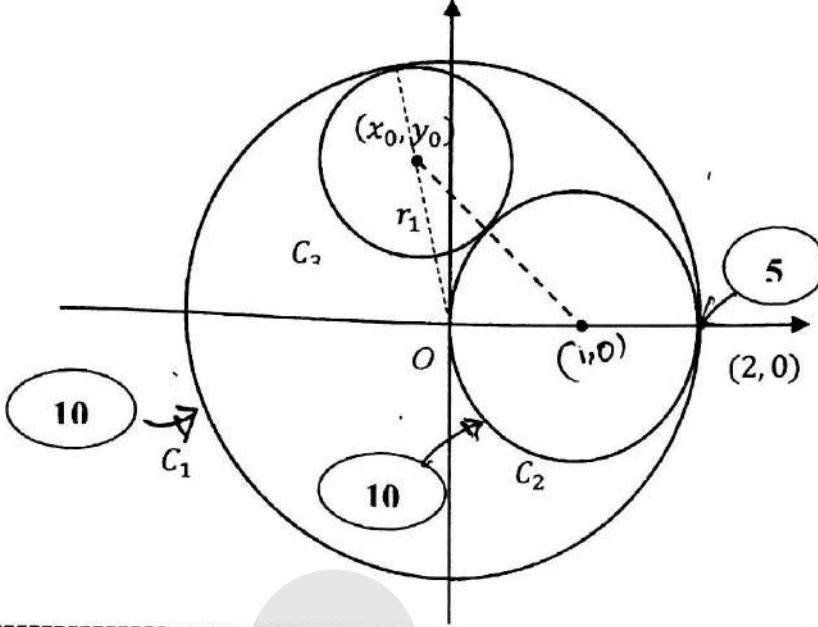
$$-11y + 11 = 2x - 6$$

$$2x + 11y = 17.$$

10

20

(b)



centre & radius
கேள்வி 10-ஐப் பார்த்து
அடையாளம் காணவும்

25

$$C_3 \text{ ஆனது } C_1 \text{ ஐ உட்புறமாகத் தொடும் எனின்} \Rightarrow 2 - r_1 = \sqrt{x_0^2 + y_0^2} \quad 15$$

OR

$$C_3 \text{ ஆனது } C_2 \text{ ஐ வெளிப்புறமாகத் தொடும் எனின்} \Rightarrow 1 + r_1 = \sqrt{(x_0 - 1)^2 + y_0^2} \quad 15$$

OR

$$3 = \sqrt{x_0^2 + y_0^2} + \sqrt{(x_0 - 1)^2 + y_0^2} \quad 5$$

$$(x_0 - 1)^2 + y_0^2 = 9 - 6\sqrt{x_0^2 + y_0^2} + x_0^2 + y_0^2$$

$$x_0^2 - 2x_0 + 1 + y_0^2 = 9 - 6\sqrt{x_0^2 + y_0^2} + x_0^2 + y_0^2$$

$$2x_0 + 8 = 6\sqrt{x_0^2 + y_0^2} \quad 10$$

$$\Rightarrow 9(x_0^2 + y_0^2) = x_0^2 + 8x_0 + 16$$

$$\Rightarrow 8x_0^2 + 9y_0^2 - 8x_0 - 16 = 0 \quad 5$$

$$\text{இதிலிருந்து } (x_0, y_0) \text{ வளையியில் கிடப்பதால், } 8x^2 + 9y^2 - 8x - 16 = 0.$$

5

கூடுதல் வினாவுக்குப் பதிலாக

55

கூடுதல் வினா (a, y) வினாவுக்கு மூலம் less than - 05

17.(a) $\tan(\alpha + \beta)$ இற்கான திரிகோணகணிதச் சர்வசமன்பாட்டை $\tan \alpha, \tan \beta$ ஆகியவற்றின் சார்பில் எழுதுக.

இதிலிருந்து, $\tan 2\theta$ ஐ $\tan \theta$ இன் சார்பிற் பெற்று, $\tan 3\theta = \frac{3 \tan \theta - \tan^3 \theta}{1 - 3 \tan^2 \theta}$ எனக் காட்டுக.

இறுதிச் சமன்பாட்டில் $\theta = \frac{5\pi}{12}$ எனப் பிரதியிட்டு, $\tan \frac{5\pi}{12}$ ஆனது $x^3 - 3x^2 - 3x + 1 = 0$ இன் ஒரு தீர்வு

என்பதை வாய்ப்புப் பார்க்க.

$x^3 - 3x^2 - 3x + 1 = (x+1)(x^2 - 4x + 1)$ என மேலும் தரப்படும்போது $\tan \frac{5\pi}{12} = 2 + \sqrt{3}$ என உய்த்தறிக.

(b) $0 < A < \pi$ இற்கு $\tan^2 \frac{A}{2} = \frac{1 - \cos A}{1 + \cos A}$ எனக் காட்டுக.

வழக்கமான குறிப்பீட்டில், ஒரு முக்கோணி ABC இற்குக் கோசைன் நெறியைப் பயன்படுத்தி

$(a+b+c)(b+c-a) \tan^2 \frac{A}{2} = (a+b-c)(a+c-b)$ எனக் காட்டுக.

(c) $\sin^{-1}\left(\frac{3}{5}\right) + \sin^{-1}\left(\frac{5}{13}\right) = \sin^{-1}\left(\frac{56}{65}\right)$ எனக் காட்டுக.

$$\tan(\alpha + \beta) = \frac{\tan(\alpha) + \tan(\beta)}{1 - \tan \alpha \tan \beta}$$

10

OR

10

$\alpha = \beta = \theta$ என்க

5

$$\tan 2\theta = \frac{\tan \theta + \tan \theta}{1 - \tan \theta \tan \theta}$$

$$= \frac{2 \tan \theta}{1 - \tan^2 \theta}$$

5

இன்னொரு வழி 5

10

$$\tan 3\theta = \tan(\theta + 2\theta)$$

5

$$= \frac{\tan \theta + \tan 2\theta}{1 - \tan \theta \tan 2\theta}$$

5

$$= \frac{\tan \theta(1 - \tan^2 \theta) + 2 \tan \theta}{1 - \tan^2 \theta - 2 \tan^2 \theta}$$

5

$$= \frac{3 \tan \theta - \tan^3 \theta}{1 - 3 \tan^2 \theta}$$

5

20

$$\theta = \frac{5\pi}{12} \Rightarrow \tan\left(\frac{5\pi}{12}\right) = \frac{3 \tan\left(\frac{5\pi}{12}\right) - \tan^3\left(\frac{5\pi}{12}\right)}{1 - 3 \tan^2\left(\frac{5\pi}{12}\right)}$$

5

$$\Rightarrow -3 \tan\left(\frac{5\pi}{12}\right) + \tan^3\left(\frac{5\pi}{12}\right) - 3 \tan^2\left(\frac{5\pi}{12}\right) + 1 = 0. \quad \left(\because \tan\left(\frac{5\pi}{4}\right) = 1.\right)$$

$$\Rightarrow \tan\left(\frac{5\pi}{12}\right) \text{ என்பது } x^3 - 3x^2 - 3x + 1 = 0 \text{ இன் தீர்வாகும்}$$

15

$$(x+1)(x^2 - 4x + 1) = 0$$

$$\tan\left(\frac{5\pi}{12}\right) \neq -1 \Rightarrow \tan\left(\frac{5\pi}{12}\right) \text{ என்பது } x^2 - 4x + 1 = 0 \text{ இன் தீர்வாகும்}$$

5

$$\text{i.e. } x = \frac{4 \pm \sqrt{16-4}}{2} = \frac{4 \pm 2\sqrt{3}}{2} = 2 \pm \sqrt{3}$$

$$\frac{5\pi}{12} > \frac{\pi}{4} \Rightarrow \tan\left(\frac{5\pi}{12}\right) > 1.$$

$$\therefore 2 - \sqrt{3} < 1, \tan\left(\frac{5\pi}{12}\right) = 2 + \sqrt{3}.$$

25

$$(b) 0 < A < \pi.$$

$$\frac{1 - \cos A}{1 + \cos A} = \frac{2 \sin^2\left(\frac{A}{2}\right)}{2 \cos^2\left(\frac{A}{2}\right)} = \tan^2\left(\frac{A}{2}\right)$$

15

கோசைன் விதிப்படி

$$a^2 = b^2 + c^2 - 2bc \cos A.$$

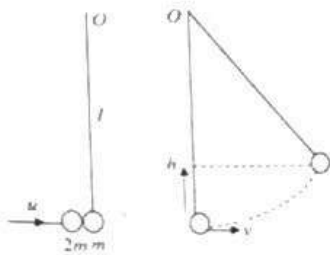
$$\cos A = -\frac{a^2 - b^2 - c^2}{2bc}$$

$$\text{எனவே } \tan^2\left(\frac{A}{2}\right) = \frac{1 + \frac{a^2 - b^2 - c^2}{2bc}}{1 - \frac{a^2 - b^2 - c^2}{2bc}}$$

$$= \frac{2bc + a^2 - b^2 - c^2}{2bc - a^2 + b^2 + c^2}$$

$$= \frac{(a-b+c)(a+b-c)}{(b+c-a)(a+b+c)}$$

A particle of mass m hangs in equilibrium at one end of a light inextensible string of length l whose other end is tied to a fixed point O . Another particle of mass $2m$ collides horizontally with velocity u with the first particle and coalesces with it. Find the velocity with which the composite particle begins to move. Show that if $u = \sqrt{gl}$, then the composite particle reaches a maximum height of $\frac{2l}{9}$ above its initial level.



Let v be the velocity with which the composite particle begins to move.

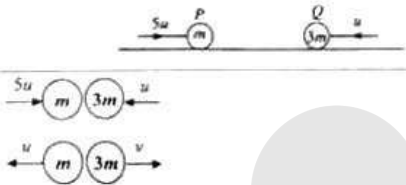
Apply $I = \Delta(Mv)$ for the system:

$$\begin{aligned} \rightarrow 0 &= 3mv - 2m \times u & (5) \\ \Rightarrow v &= \frac{2u}{3} & (5) \end{aligned}$$

By the Conservation of Energy, $(3mg)h = \frac{1}{2}(3m)v^2$, where h is the required height.

$$\therefore h = \frac{v^2}{2g} = \frac{4u^2}{9(2g)} = \frac{4gl}{18g} = \frac{2l}{9} \quad (5) \quad (10)$$

2. A particle P of mass m and a particle Q of mass $3m$ move on a smooth horizontal table along the same straight line towards each other with speeds $5u$ and u respectively, as shown in the figure. After their impact, P and Q move away from each other with speeds u and v respectively. Find v in terms of u , and show that the coefficient of restitution between P and Q is $\frac{1}{3}$.

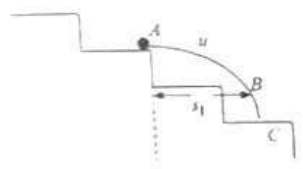
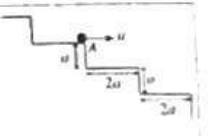


Apply $I = \Delta(Mv)$ for the system:

$$\begin{aligned} \rightarrow 0 &= (3mv - mu) - (5mu - 3mu) & (5) \\ \Rightarrow 3mv &= 3mu & (5) \\ \Rightarrow v &= u, \dots\dots\dots(1) \end{aligned}$$

By Newton's law of restitution:
 $v + u = e(5u - u)$ (10)
 $(1) \Rightarrow 2u = 6eu$
 $\therefore e = \frac{1}{3} \quad (5)$

3. A particle P , projected horizontally with velocity u given by $u = \frac{1}{2}\sqrt{ga}$ from a point A at the edge of a step of a fixed stairway perpendicular to that edge, moves under gravity. Each step is of height a and length $2a$ (see the figure). Show that the particle P will not hit the first step below A , and it will hit the second step below A at a horizontal distance $3a$ from A .



For the motion of P , apply $s = ut + \frac{1}{2}at^2$;


from A to B : $a = \frac{1}{2}gt_1^2$, where t_1 is the time taken to reach the level of the 1st step below A . (5)

$$\begin{aligned} t_1 &= \sqrt{\frac{2a}{g}} \\ \therefore s_1 &= \text{the horizontal distance moved in time } t_1 \\ \rightarrow \text{from } A \text{ to } B: s_1 &= u \times t_1 = \frac{1}{2}\sqrt{ga} \times \sqrt{\frac{2a}{g}} = \frac{1}{2}a < 2a. \end{aligned}$$

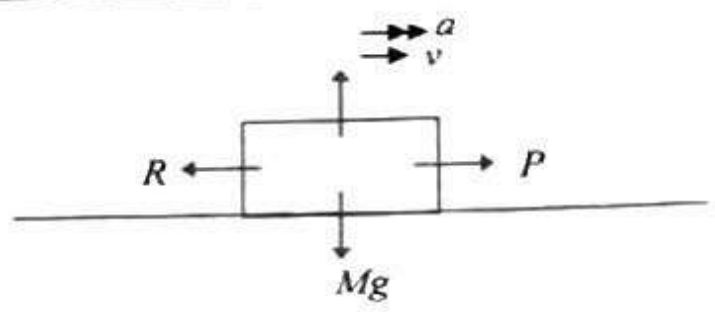
Thus P will not hit the 1st step below A .

Time taken from A to C is $t_2 = \sqrt{\frac{2(2a)}{g}}$. (5)

$$\rightarrow s = ut_2 = \frac{1}{2}\sqrt{ga} \times \sqrt{\frac{2(2a)}{g}} = 3a.$$



4. A car of mass M kg moves along a straight level road against a resistance of constant magnitude R N. At an instant when the car is moving at speed v m s⁻¹, its acceleration is a m s⁻². Show that the power of its engine at this instant is $(R + Ma)v$ W.
 The car then moves with a constant speed v_1 m s⁻¹ against a resistance of the same constant magnitude R N up a straight road inclined at an angle α to the horizontal, working at the same power. Show that $v_1 = \frac{(R + Ma)v}{R + Mg \sin \alpha}$.



Let P N be the tractive force

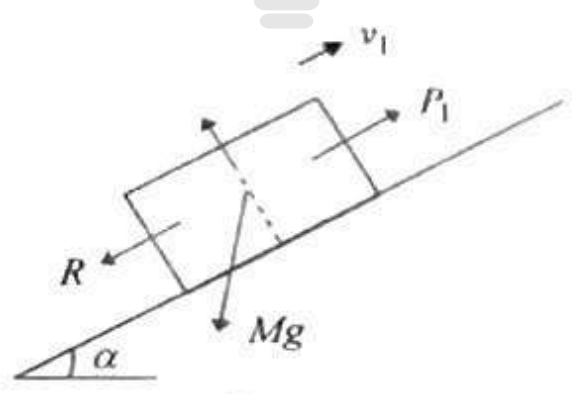
Apply $\underline{F} = m\underline{a} \rightarrow :$

$$P - R = Ma \dots\dots\dots (1) \quad (5)$$

Let H W be the power of its engine.

Then $H = P \times v$

$$= (R + Ma)v \quad (\text{by (1)}) \quad (5)$$



$\underline{F} = m\underline{a} :$ \nearrow

$$P_1 - R - Mg \sin \alpha = 0 \dots\dots\dots (2) \quad (5)$$

Also $H = P_1 \times v_1$

$$\therefore v_1 = \frac{H}{P_1} = \frac{(R + Ma)v}{(R + Mg \sin \alpha)} \quad (\text{by (2)})$$

5 In the usual notation, let $\mathbf{a} = 3\mathbf{i} + 4\mathbf{j}$, $\mathbf{b} = 4\mathbf{i} + 3\mathbf{j}$ and $\mathbf{c} = \alpha\mathbf{i} + (1 - \alpha)\mathbf{j}$, where $\alpha \in \mathbb{R}$.

- Find (i) $|\mathbf{a}|$ and $|\mathbf{b}|$.
 (ii) $\mathbf{a} \cdot \mathbf{c}$ and $\mathbf{b} \cdot \mathbf{c}$ in terms of α .

If the angle between \mathbf{a} and \mathbf{c} is equal to the angle between \mathbf{b} and \mathbf{c} , show that $\alpha = \frac{1}{2}$.

(i) Magnitudes of vectors

$$|\mathbf{a}| = \sqrt{3^2 + 4^2} = 5$$

$$|\mathbf{b}| = \sqrt{4^2 + 3^2} = 5$$

(5)

(ii) $\mathbf{a} \cdot \mathbf{c} = 3\alpha + 4(1 - \alpha) = 4 - \alpha$

(5)

$$\mathbf{b} \cdot \mathbf{c} = 4\alpha + 3(1 - \alpha) = 3 + \alpha$$

Let θ be the angle between \mathbf{a} and \mathbf{c} . Then $\mathbf{a} \cdot \mathbf{c} = |\mathbf{a}| |\mathbf{c}| \cos \theta$ and $\mathbf{b} \cdot \mathbf{c} = |\mathbf{b}| |\mathbf{c}| \cos \theta$

(5)

Since $|\mathbf{a}| = |\mathbf{b}|$, we have $\mathbf{a} \cdot \mathbf{c} = \mathbf{b} \cdot \mathbf{c}$.

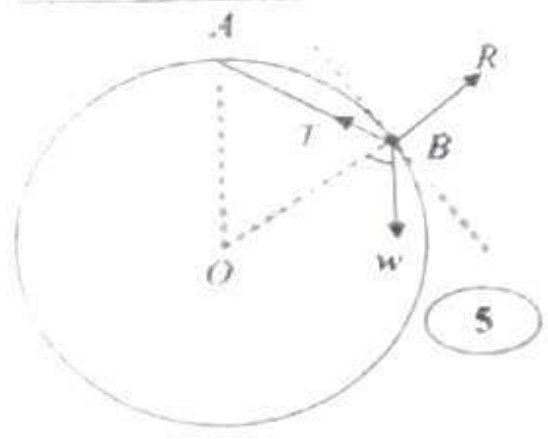
$$\therefore 4 - \alpha = 3 + \alpha$$

$$\Rightarrow \alpha = \frac{1}{2}$$

(5)

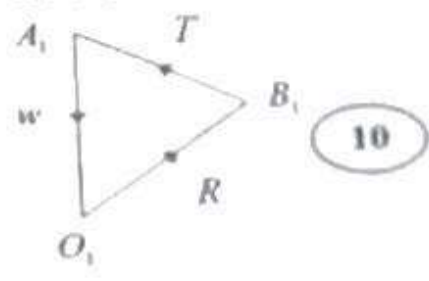
25

6 One end of a light inextensible string of length $2l$ is attached to the highest point of a thin smooth rigid circular wire of radius a ($> \sqrt{2}l$) which is fixed in a vertical plane. A small smooth bead of weight w , which is free to move along the wire, is attached to the other end of the string. The bead is in equilibrium with the string taut, as in the figure. Mark the forces acting on the bead and show that the tension of the string is $\frac{2wl}{a}$.



(5)

Triangle of Forces

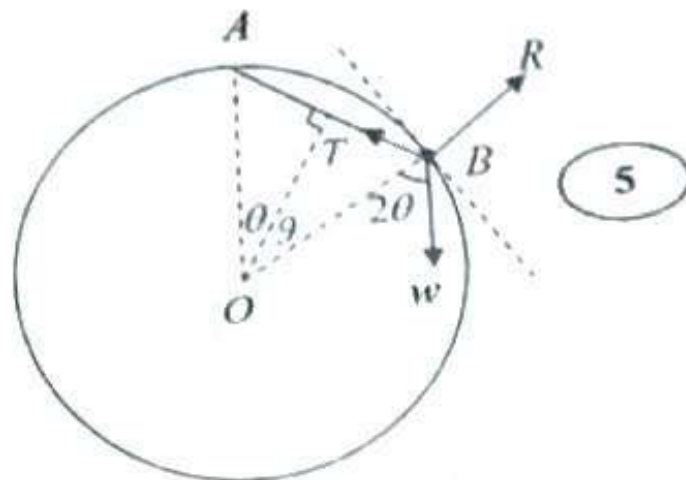


(10)

$$\frac{T}{AB} = \frac{w}{OA} \Rightarrow T = \frac{2wl}{a}$$

(5)

25

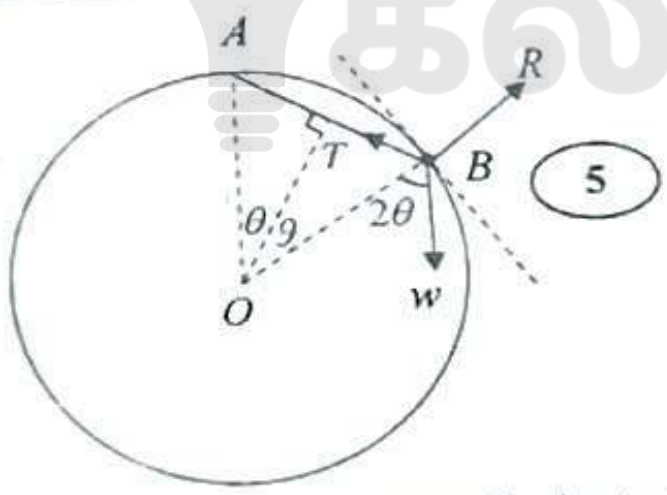


By Lami's Theorem, $\frac{T}{\sin(\pi - 2\theta)} = \frac{w}{\sin\left(\frac{\pi}{2} + \theta\right)}$ (10)

$$\therefore T = w \frac{\sin 2\theta}{\cos \theta}$$

$$= 2w \sin \theta = \frac{2wl}{a} \left(\because \sin \theta = \frac{l}{a} \right) \quad (5)$$

er 2



Resolve in a direction perpendicular to OB

$$T \cos \theta = w \sin 2\theta \quad (10)$$

$$T = w \frac{\sin 2\theta}{\cos \theta} \quad (5)$$

$$= 2w \sin \theta$$

$$= \frac{2wl}{a} \left(\because \sin \theta = \frac{l}{a} \right) \quad (5)$$

7. Let A and B be two events of a sample space Ω . In the usual notation, $P(A) = p$, $P(B) = \frac{p}{2}$ and $P(A \cup B) - P(A \cap B) = \frac{2p}{3}$, where $p > 0$. Find $P(A \cap B)$ in terms of p .
Deduce that if A and B are independent events, then $p = \frac{5}{6}$.

For two events A and B , $P(A \cup B) = P(A) + P(B) - P(A \cap B)$. (5)

This gives us $P(A \cup B) = \frac{3p}{2} - P(A \cap B)$ (1) (5)

It is given that $P(A \cup B) - P(A \cap B) = \frac{2p}{3}$ (2)

$$(1) \text{ and } (2) \Rightarrow \frac{3p}{2} - 2P(A \cap B) = \frac{2p}{3}$$

$$\Rightarrow P(A \cap B) = \frac{5p}{12} \quad (5)$$

If A and B are independent, then $P(A \cap B) = P(A) P(B)$. (5)

$$\Rightarrow \frac{5p}{12} = p \cdot \frac{p}{2}$$

$$\Rightarrow p = \frac{5}{6} \quad (\because p > 0)$$

(5)

8. A bag contains 6 white balls and n black balls which are equal in all respects, except for color. Two balls are taken out at random from the bag, one after the other, without replacement. probability that the first ball is white and the second ball is black is $\frac{4}{15}$. Find the value of n .

$$\text{Probability that the first ball is white} = \frac{6}{n+6}$$

$$\text{Probability that the first ball is white and the second ball is black} = \frac{6}{(n+6)} \cdot \frac{n}{(n+5)}$$

$$\therefore \frac{6}{(n+6)} \cdot \frac{n}{(n+5)} = \frac{4}{15} \quad (5)$$

$$\Rightarrow 2n^2 - 23n + 60 = 0 \quad (5)$$

$\Rightarrow n=4$. ($\because n$ is a positive integer)

5

(Note: no marks if the answer is written as $n=4$ or $n=15$)

9. The mean of three distinct integers less than 11 is 7. When two more integers are taken, mean of all five integers is 5. Also, the only mode of these five integers is 3. Find the integers.

Let $x, y,$ and z be distinct integers less than 11 with a mean of 7

Then $\frac{x+y+z}{3} = 7$. (5)

$\Rightarrow x+y+z = 21$ (1)

Since $x, y,$ and z are distinct and the only mode is 3, at least one of the two integers additionally taken must be 3. Let the other be t

Since the mean of the five integers is 5, we have $\frac{x+y+z+t+3}{5} = 5$ (5)

$\Rightarrow 21+3+t = 25$

$\Rightarrow t = 1$. (5)

Hence the integers are $x, y, z, 3, 1$. Since the only mode is 3, and x, y and z are distinct, exactly one of them must be 3. Let $z = 3$.

Again (1) $\Rightarrow x+y = 18$ (2) (5)

Since x and y are integers less than 11, (2) gives us

$(x = 8 \text{ and } y = 10)$ or $(x = 10 \text{ and } y = 8)$. Hence, the five numbers are 1, 3, 3, 8 and 10.

5

25

1, 2, 3, 4 and 5. The number of times the arrow hits each of the sectors is given in the following frequency table, where p and q are constants.

Number	1	2	3	4	5
Frequency	1	p	q	5	2

If the mean and the variance of the above data are given to be 3 and $\frac{6}{5}$ respectively, find the values of p and q .

Mean $\mu = 3 \Rightarrow \frac{1+2p+3q+20+10}{p+q+8} = 3$ (5)

$\Rightarrow 2p+3q+31 = 3p+3q+24$

$\Rightarrow p = 7$. (5)

$\sigma^2 = \frac{\sum_{i=1}^n f_i x_i^2}{\sum_{i=1}^n f_i} - \mu^2$ (5)

Variance = $\frac{6}{5} \Rightarrow \frac{6}{5} = \frac{1 \cdot 1^2 + 7 \cdot 2^2 + q \cdot 3^2 + 5 \cdot 4^2 + 2 \cdot 5^2}{q+15} - 3^2$ (5)

$\Rightarrow 51(q+15) = 5(1+28+9q+80+50)$

$\Rightarrow q = 5$. (5)

25

Alter

$\sigma^2 = \frac{\sum_{i=1}^n f_i (x_i - \bar{x})^2}{\sum_{i=1}^n f_i}$ (5)

Variance = $\frac{6}{5} \Rightarrow \frac{6}{5} = \frac{1(1-3)^2 + 7(2-3)^2 + q(3-3)^2 + 5(4-3)^2 + 2(5-3)^2}{1+7+q+5+2}$ (5)

$\Rightarrow \frac{6}{5} = \frac{4+7+5+8}{15+q}$ (5)

$\Rightarrow q = 5$. (5)

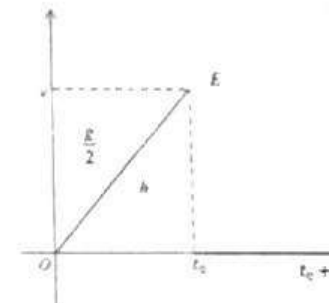
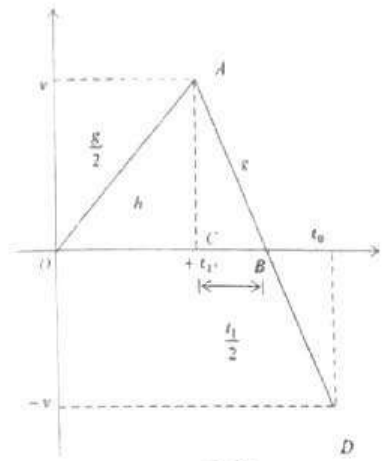
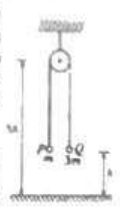
15



11. (a) A particle P of mass m is connected to a particle Q of mass 3m by a light inextensible string passing over a small smooth pulley fixed at a height 3h above an inelastic horizontal floor. Initially the two particles are held at a height h above the floor with the string taut, and released from rest. (See the adjoining figure.) Applying Newton's second law separately to the motions of P and Q, show that the magnitude of acceleration of each particle is $\frac{g}{2}$.

After a time t_0 the particle Q strikes the floor, comes to rest instantly, remains at rest for a further time t_1 , and begins to move up. Sketch the velocity-time graphs separately for the motions of the two particles P and Q until the particle Q begins to move up.

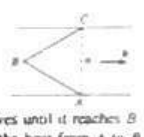
Using these graphs, show that $t_0 = 2\sqrt{\frac{h}{g}}$ and find t_1 in terms of g and h. Show further that the particle P reaches a maximum height $\frac{5h}{2}$ above the floor.



(b) A straight river of breadth a flows with uniform speed u. The points A and C are situated on opposite banks of the river such that the line AC is perpendicular to the direction of flow of the river. Also, a stationary buoy B is fixed in the middle of the river, on the upstream side of AC such that ABC is an equilateral triangle. (See the adjoining figure.) A boat moving with speed v (> u) relative to water starts off from A and moves until it reaches B. Then it moves from B to C. Sketch the velocity triangles for the motions of the boat from A to B and from B to C.

Show that the speed of the boat in its motion from A to B is $\frac{1}{2}(\sqrt{4v^2 - u^2} - \sqrt{3}u)$ and find its speed in the motion from B to C.

Hence, show that the total time taken by the boat for the paths AB and BC is $\frac{a\sqrt{4v^2 - u^2}}{v^2 - u^2}$.



(a)

Apply $E = mg$:

For Q(3m) ↓ $3mg - T = 3mf$ (5)

For P(m) ↑ $T - mg = mf$ (5)

$$\frac{2mg = 4mf}{\Rightarrow f = \frac{g}{2}} \quad (5)$$

15

Particle P (15) Particle Q (10) (25)

From the v-t graphs

Area under OA or OE = $\frac{1}{2} \cdot t_0 \cdot v = h$ (1) (5)

Gradient of OA or OE = $\frac{v}{t_0} = \frac{g}{2}$ (2) (5)

$$(1) \times (2) \Rightarrow \frac{1}{2} \cdot t_0 \cdot \frac{g t_0}{2} = h$$

$$\Rightarrow t_0^2 = \frac{4h}{g}$$

$$\Rightarrow t_0 = 2\sqrt{\frac{h}{g}} \quad (5)$$

15

Also (2) $\Rightarrow v = \frac{g}{2} \cdot 2\sqrt{\frac{h}{g}} = \sqrt{gh}$ (5)



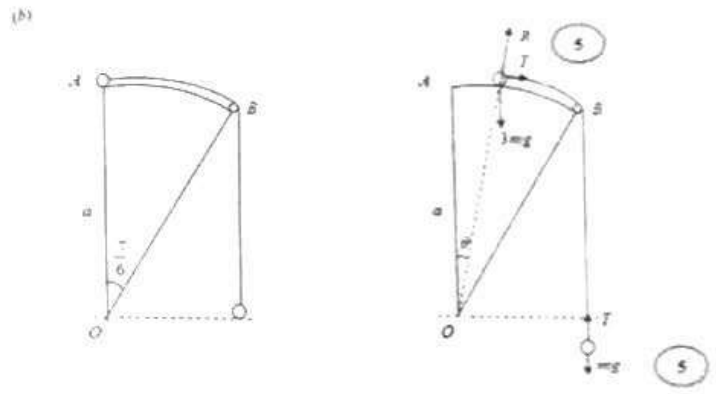
12. (a) The triangle ABC in the figure is a vertical cross-section through the centre of gravity of a uniform wedge of mass $2m$. The line AB is a line of greatest slope of the face containing A and $\angle ACB = \frac{\pi}{4}$. The wedge is placed with the face containing AC on a rough horizontal floor. The face containing AB is smooth. A particle of mass m is held on AB as in the figure and the system is released from rest. It is given that the wedge moves in the direction of BC and that the magnitude of the frictional force exerted on the wedge by the floor is $\frac{R}{6}$, where R is the magnitude of the normal reaction exerted on the wedge by the floor. Obtain equations which are sufficient to determine R , in terms of m and g .



(a) For the System $\rightarrow -\frac{R}{6} = 2mg + m\left(g - \frac{g}{\sqrt{2}}\right)$ (15)

(a) For the system $\uparrow R - 3mg = -m\frac{g}{\sqrt{2}}$ (10)

(b) OAB in the figure is a circular sector of radius a subtending an angle $\frac{\pi}{6}$ at the centre O with OA vertical. It is a cross-section perpendicular to the axis of a smooth cylindrical sector fixed with its axis horizontal. One end of a light inextensible string passing over a small smooth pulley fixed at B is attached to a particle P of mass $3m$ and the other end is attached to a particle Q of mass m . Initially the particle P is held at A and the particle Q hangs freely at the horizontal level of O . The system is released from rest in this position, with the string taut. When OP makes an angle θ ($0 < \theta < \frac{\pi}{6}$) with the upward vertical show that $2a\theta^2 = 3g(1 - \cos\theta) + g\theta$ and that the tension in the string is $\frac{3}{4}mg(1 - \sin\theta)$, and find the normal reaction on the particle P .



By Conservation of Mechanical Energy

$3mga = 3mga \cos\theta - mga\theta + \frac{1}{2}(3m)(a\dot{\theta})^2 + \frac{1}{2}(m)(a\dot{\theta})^2$ (25) PE 10
KE 10
Equation 05

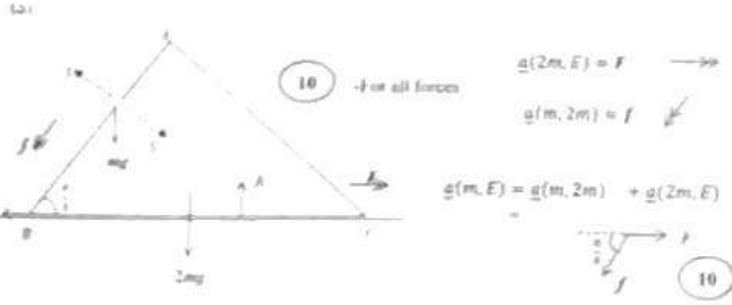
$2a\dot{\theta}^2 = 3g(1 - \cos\theta) + g\theta$ (5)

Applying $\sum F = m\ddot{a}$

For P $\downarrow T + 3mg \sin\theta = 3m\ddot{a}$ (1) (15)

For Q $\downarrow mg - T = m\ddot{a}$ (2) (10)

By (1) and (2)



$\sum(2m, E) = F \rightarrow$

$\sum(m, 2m) = f \leftarrow$

$\sum(m, E) = \sum(m, 2m) + \sum(2m, E)$



Apply $\sum F = m\ddot{a}$

For the Particle $\uparrow mg \frac{\sqrt{2}}{2} + m\left(f - f\frac{\sqrt{2}}{2}\right)$ (15)



$$4T = 3mg(1 - \sin \theta)$$

$$T = \frac{3mg}{4}(1 - \sin \theta)$$

5

30

Applying $F = ma$ for P

$$3mg \cos \theta - R = 3ma\theta^2$$

10

$$R = 3mg \cos \theta - \frac{3m}{2} (3g(1 - \cos \theta) + g\theta^2)$$

10

$$= \frac{3mg}{2} (2\cos \theta - 3 + 3\cos \theta - \theta^2)$$

$$= \frac{3mg}{2} (5\cos \theta - \theta^2 - 3)$$

20

Note

P will not leave the surface for $0 < \theta < \frac{\pi}{6}$

$$R|_{\theta=0} = 3mg > 0$$

$$\frac{dR}{d\theta} = \frac{3mg}{2} (-5 \sin \theta - 2\theta) < 0 \text{ for } 0 < \theta < \frac{\pi}{6}$$

$$R|_{\theta=\frac{\pi}{6}} = \frac{3mg}{2} \left(\frac{5\sqrt{3}}{2} - \frac{\pi}{6} - 3 \right) > 0$$

13. One end of a light elastic string of natural length a and modulus of elasticity $4mg$ is fixed to a fixed point O and the other end to a particle P of mass m . The particle P is released from rest at O . Find the velocity of the particle P when it passes through the point A , where $OA = a$.

Show that the length of the string x ($x \geq a$) satisfies the equation $\ddot{x} + \frac{4g}{a}(x - \frac{5a}{4}) = 0$

Taking $X = x - \frac{5a}{4}$, express the above equation in the form $\ddot{X} + \omega^2 X = 0$, where $\omega > 0$ is a constant to be determined.

Assuming that $X^2 = \omega^2(c^2 - X^2)$, find the amplitude c of this simple harmonic motion.

Let L be the lowest point reached by the particle P . Show that the time taken by P to move from A to L is $\frac{1}{2} \sqrt{\frac{a}{g}} \left(\pi - \cos^{-1} \left(\frac{1}{3} \right) \right)$

At the instant when the particle P is at L , another particle of mass λm ($1 \leq \lambda < 3$) is gently attached to P . Show that the equation of motion of the composite particle of mass $(1 + \lambda)m$ is

$$x + \frac{4g}{(1 + \lambda)g} \left(x - (5 + \lambda) \frac{a}{4} \right) = 0$$

Show further that the composite particle performs complete simple harmonic motion with amplitude $(3 - \lambda) \frac{a}{4}$



from O to A :

$$v^2 = 2ga \Rightarrow v = \sqrt{2ag}$$

05

Tension in the string: $T = \frac{4mg(x-a)}{a}$, $x \geq a$

5

$$F = ma \Rightarrow -T + mg = m\ddot{x}$$

05

Eliminating T : $-4mg \frac{(x-a)}{a} + mg = m\ddot{x}$

5

$$\Rightarrow \ddot{x} + \frac{4g}{a}(x-a) = \frac{4g}{a} \frac{a}{4}$$

$$\Rightarrow \ddot{x} + \frac{4g}{a} \left(x - \frac{5a}{4} \right) = 0 \dots \dots \dots (1)$$

Write $X = x - \frac{5a}{4} \Rightarrow \ddot{X} = \ddot{x}$ and $\dot{X} = \dot{x}$.

5

Then (1) becomes $\ddot{X} + \frac{4g}{a} X = 0$

Hence $\dot{X} + \omega^2 X = 0$, where $\omega = 2\sqrt{\frac{g}{a}}$ ($\because \omega > 0$)

5

5

40

$$\Rightarrow X^2 = \omega^2(c^2 - X^2) \dots \dots \dots (2)$$

$$x = \sqrt{2ga} \text{ when } x = a \Rightarrow X^2 = 2ga \text{ when } X = -\frac{a}{4}$$


5

5

Then (2) $\Rightarrow 2ga = \frac{4g}{a} \left[c^2 - \left(-\frac{a}{4} \right)^2 \right]$

5

5



$$\Rightarrow x = \frac{3a}{4} \quad (1 < x < 2a) \quad (5)$$

Center is given by $x = 0$; $\therefore x = \frac{3a}{4}$ (5)

25

$$AL = \frac{a}{4} = \frac{3a}{4} = a \quad (5)$$

$$\cos \alpha = \frac{1}{3} \quad (5)$$

$$\text{Time taken from } A \text{ to } L = \frac{\pi - \alpha}{\omega} \quad (5)$$

$$= \frac{1}{2} \sqrt{\frac{a}{g}} \left(\pi - \cos^{-1} \left(\frac{1}{3} \right) \right) \quad (5)$$

14. Use the calculator, angle and distance marked.

35



$$T_1 = \frac{4mg(x-a)}{a}$$

For component particle $P = ma$
 $(1 + \lambda)mg - T_1 - T_2 = ma$ (10)

$$(1 + \lambda)mg - \frac{4mg}{a}(x-a) - (1 + \lambda)mg = ma$$
 (5)

$$2 = \frac{4g}{(1 + \lambda)a} (x-a) - g = 0 \quad (5)$$

$$\frac{4x}{(1 + \lambda)a} - \frac{4a}{(1 + \lambda)a} - g = 0$$

$$4x - 4a = (1 + \lambda)a^2/g$$
 (5)

25

$$\text{Centre } C_1, x = OC_1 = (3 + \lambda) \frac{a}{4}$$

$$C_1L = 2a - (3 + \lambda) \frac{a}{4} \quad (5)$$

$$= (3 - \lambda) \frac{a}{4} \quad (5)$$

$$\text{New amplitude } e_1 = (3 - \lambda) \frac{a}{4} > 0 \Rightarrow \lambda < 3$$

Complete Simple Harmonic Motion if and only if

$$AC_1 \geq e_1 \quad (5)$$

$$(5 - \lambda) \frac{a}{4} - a \geq (3 - \lambda) \frac{a}{4}$$

$$5 + \lambda - 4 \geq 3 - \lambda$$

$$\lambda \geq 1 \quad (5) \quad 25$$

Alter

Let $X = A \cos \omega t + B \sin \omega t$, where A and B are constants to be determined.

$$\Rightarrow X = -A \sin \omega t + B \cos \omega t \quad (5)$$

$$\text{At } t = 0, X = 0 \text{ and } \dot{X} = -\frac{a}{4} \text{ and } X = 1 = \sqrt{2} \text{ at } t = \frac{\pi}{4}$$

$$0 = -A \sin 0 + B \cos 0 \quad (5)$$

$$\Delta \quad \frac{\pi}{4} \quad 1 \text{ and } \dot{X} = B \omega \Rightarrow B = \frac{V}{\omega}$$

$$\text{Solution: } X = -\frac{a}{4} \cos \omega t + \frac{V}{\omega} \sin \omega t \quad (5)$$

25

$$\text{Differentiating } X = -\frac{a}{4} \sin \omega t + \frac{V}{\omega} \cos \omega t \quad (5)$$

$$\text{Lowest point } L \text{ is reached when } \dot{X} = 0 \quad (5)$$

18



$$v = \frac{1}{2} \frac{dx}{dt} \quad (1) \quad (5)$$

Centre is given by $x = 0$; so $x = \frac{10}{4}$ (5)

25

$$AL = \frac{a}{4} = \frac{2a}{4} = a \quad (5)$$

$$\cos \alpha = \frac{1}{2} \quad (5)$$

Time taken from A to L = $\frac{\pi - \alpha}{\omega}$ (5)

$$= \frac{1}{2} \sqrt{\frac{10}{g}} \left[\pi - \cos^{-1} \left(\frac{1}{2} \right) \right] \quad (5)$$

16. (a) of the circular arc: angle and distance marked (5)



$$Z = \frac{4mg(x-a)}{a}$$

For composite particle $F = mg$
 $(1 + \lambda)mg - T = (1 + \lambda)ma$ (10)

$$(1 + \lambda)mg - \frac{4mg}{a}(x-a) = (1 + \lambda)ma \quad (5)$$

$$x = \frac{4g}{(1 + \lambda)a}(x-a) - x = 0 \quad (5)$$

$$\frac{4}{(1 + \lambda)a} = 1 \Rightarrow \lambda = \frac{4}{a} - 1$$

$$\lambda = \frac{4}{(1 + \lambda)a} - 1 \Rightarrow \lambda = \frac{4}{a} - 1 \quad (5)$$

25

17

Centre C_1 : $x = OC_1 = (5 + \lambda) \frac{a}{4}$

$$C_1L = 2a - (5 + \lambda) \frac{a}{4} \quad (5)$$

$$= (3 - \lambda) \frac{a}{4} \quad (5)$$

New amplitude $c_1 = (3 - \lambda) \frac{a}{4}$ ($t > 0$) $\therefore \lambda < 3$

Complete Simple Harmonic Motion if and only if

$$AC_1 \geq c_1 \quad (5)$$

$$(5 + \lambda) \frac{a}{4} - a \geq (3 - \lambda) \frac{a}{4}$$

$$5 + \lambda - 4 \geq 3 - \lambda$$

$$\lambda \geq 1 \quad (5) \quad (25)$$

Aliter

Let $X = A \cos \omega t + B \sin \omega t$, where A and B are constants to be determined

$$\Rightarrow X = -A \sin \omega t + B \cos \omega t \quad (5)$$

When $t = 0$ and $x = a$, $X = -\frac{a}{4}$ and $X = 1 - \sqrt{2} g t$

$$-\frac{a}{4} = -A \quad (5)$$

$$1 - \sqrt{2} g t = -A \sin \omega t + B \cos \omega t \Rightarrow B = \frac{V}{\omega}$$

$$\frac{a}{4} = A \quad (5)$$

Solution: $X = -\frac{a}{4} \cos \omega t + \frac{V}{\omega} \sin \omega t$ (25)

Differentiating $X = -\frac{a}{4} \cos \omega t + \frac{V}{\omega} \sin \omega t$ (5)

Lowest point L is reached when $X = 0$ (5)



Then $\tan \alpha = -\frac{a}{a\omega}$ (5)

$\alpha = \pi - \alpha$

$\tan \alpha = \frac{4b}{a\omega}$ where $0 < \alpha < \frac{\pi}{2}$ (5)

Centre C of SHS is such that $x = \frac{5a}{4}$ or $AC = \frac{a}{4}$ (5)

$\frac{a}{4} = c \cos \alpha = \frac{c(a\omega)}{\sqrt{16\omega^2 + a^2\omega^2}}$

$= c \frac{2\sqrt{g\omega}}{\sqrt{16 + 2g\omega + 4g\omega}} = \frac{1}{3}c$ (5)

$\Rightarrow c = \frac{3a}{4}$

Also from above $\alpha = \pi - \cos^{-1}\left(\frac{1}{3}\right)$ (5)

$\therefore = \frac{1}{\omega} \left[\pi - \cos^{-1}\left(\frac{1}{3}\right) \right]$

35

14 (a) The position vectors of two points A and B with respect to an origin O are \mathbf{a} and \mathbf{b} respectively, where O, A and B are not collinear. Let C be the point such that $\vec{OC} = \frac{1}{3}\vec{OB}$ and let D be the point such that $\vec{OD} = \frac{1}{2}\vec{AB}$. By expressing \vec{AC} and \vec{AD} in terms of \mathbf{a} and \mathbf{b} show that $\vec{AD} = \frac{2}{3}\vec{AC}$.

Let P and Q be the points on AB and OD respectively, such that $\vec{AP} = \lambda\vec{AB}$ and $\vec{OQ} = (1-\lambda)\vec{OD}$, where $0 < \lambda < 1$. Show that $\vec{PC} = 2\vec{CQ}$.

(b) In a parallelogram ABCD, let $AB = 2$ m and $AD = 1$ m, and let $\angle BAD = \frac{\pi}{3}$. Also, let E be the mid-point of CD. Forces of magnitudes 5, 5, 2, 4 and 3 newtons act along AB, BC, DC, DA and BE respectively, in the directions indicated by order of the letters. Show that their resultant force is parallel to \vec{AE} , and find its magnitude.

Also, show that the line of action of the resultant force meets AB produced at a distance $\frac{3}{2}$ m from B.

An additional force acting through C is now added to the above system of forces so that the resultant force of the new system is along \vec{AE} . Find the magnitude and direction of the additional force.

19

Let $\vec{OA} = \mathbf{a}$ and $\vec{OB} = \mathbf{b}$

Then $\vec{OC} = \frac{1}{3}\vec{OB} = \frac{\mathbf{b}}{3}$ (5) and $\vec{OD} = \frac{1}{2}\vec{AB} = \frac{\mathbf{b}-\mathbf{a}}{2}$ (5)

$\vec{AD} = \vec{AO} + \vec{OD} = -\mathbf{a} + \frac{\mathbf{b}}{2} - \frac{\mathbf{a}}{2} = -\mathbf{a} + \frac{\mathbf{b}}{2}$ (2) (5)

$= \frac{1}{2}(-2\mathbf{a} + \mathbf{b})$ (1) (5)

By (1) and (2), $\vec{AD} = \frac{3}{2}\vec{AC}$ (5)

25

$\vec{PC} = \vec{PO} + \vec{OC}$

$= \vec{PA} + \vec{AO} + \vec{OC}$

$= -\lambda\vec{AB} - \vec{OA} + \vec{OC}$ (5)

$= -\lambda(\mathbf{b}-\mathbf{a}) - \mathbf{a} + \frac{\mathbf{b}}{3}$ (5)

$= (\lambda-1)\mathbf{a} - \lambda\mathbf{b} + \frac{\mathbf{b}}{3}$

$= (\lambda-1)\mathbf{a} + \frac{1}{3}(1-3\lambda)\mathbf{b}$ (3) (5)

$\vec{CQ} = \vec{CO} + \vec{OQ}$

$= -\vec{OC} + (1-\lambda)\vec{OD}$ (5)

$= -\frac{\mathbf{b}}{3} + (1-\lambda)\frac{1}{2}(\mathbf{b}-\mathbf{a})$ (5)

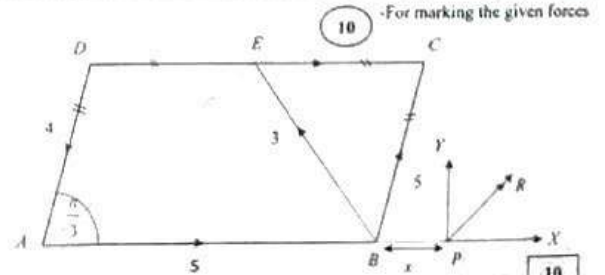
$= \frac{1}{2}[(\lambda-1)\mathbf{a} - \frac{3}{2}\mathbf{b} + \mathbf{b} - \lambda\mathbf{b}]$

$= \frac{1}{2}[(\lambda-1)\mathbf{a} + \frac{1}{2}(1-3\lambda)\mathbf{b}]$ (4) (5)

By (3) and (4), $\vec{PC} = 2\vec{CQ}$ (5)

35

(b)



10

20

Resolving parallel to \overline{AE} : $-4 \cos \frac{\pi}{6} + 2 \cos \frac{\pi}{6} + 5 \cos \frac{\pi}{6} + 5 \cos \frac{\pi}{6}$ (10)

$= 4\sqrt{3}N$ (5)

Resolving \perp to \overline{AE} : $3 - 4 \sin \frac{\pi}{6} + 5 \sin \frac{\pi}{6} - 5 \sin \frac{\pi}{6} - 2 \cos \frac{\pi}{6}$ (10)

$= 3 - 2 + \frac{5}{2} - \frac{5}{2} - 1$

$= 0$ (5)

Resultant R is of magnitude $4\sqrt{3}N$; \perp to \overline{AE} .

(5)

(5)

40

OR $-X = 5 + \frac{3}{2} + 2 - \frac{3}{2} - \frac{4}{2} = 6N$ (10)

$\therefore Y = \frac{\sqrt{3}}{2}(5+3) - \frac{4\sqrt{3}}{2} = 2\sqrt{3}N$ (10)

$\frac{Y}{X} = \frac{2\sqrt{3}}{6} = \frac{1}{\sqrt{3}}$ (5)

Resultant R is of magnitude $2\sqrt{3\sqrt{3}+1} = 4\sqrt{3}N$. (5)

Its line of action makes an angle.

$\tan^{-1}(1/\sqrt{3}) = \pi/6$, with side AB - it is parallel to AE .

(5)

(5)

40

Let P be the point where resultant meets AB produced.

Taking moments about B

$Yx = 4 \times 2 \sin \frac{\pi}{6} - 2 \times 1 \sin \frac{\pi}{6}$ (10)

$2\sqrt{3}x = 3\sqrt{3}$

$x = \frac{3}{2}m$ (5)

Line of action of R meets AB produced at $x = \frac{3}{2}m$ from B .

15

Additional force must be parallel to \overline{EA} (5)



$R \times (2 + \frac{3}{2}) \sin 30^\circ = F \cdot 1 \sin 30^\circ$ (15)

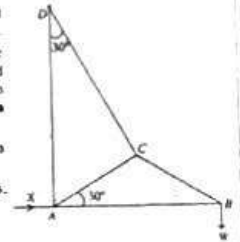
$4\sqrt{3} \times \frac{7}{2} = F$

$F = 14\sqrt{3}N$. (5)

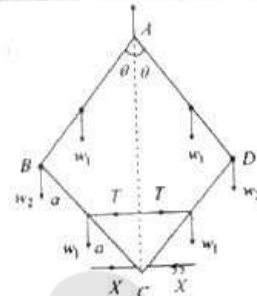
25

15. (a) Four equal uniform rods, each of weight w_1 , are smoothly jointed at their ends to form a rhombus $ABCD$. The mid points of BC and CD are connected by a light rod such that $BAD = 2\theta$. Each of the joints B and D carries equal loads of weight w_2 . The system, hanging symmetrically from the joint A , is in equilibrium in a vertical plane with the light rod horizontal. Show that the thrust in the light rod is $2(2w_1 + w_2) \tan \theta$.

(b) The adjoining figure represents a framework of five light rods AB, BC, CD, AC and AD , smoothly jointed at the ends. It is given that $AC = CB$ and $BAC = 30^\circ = ADC$. The framework is smoothly hinged at D . A weight W is suspended at the joint B and the framework is kept in equilibrium in a vertical plane with AB horizontal and AD vertical, by a horizontal force of magnitude X acting at A . Using Bow's notation, draw stress diagrams for the joints B, C and A in the same figure. Hence, find the value of X and the stresses in all rods, distinguishing between tensions and thrusts.



(a)



(10)

Symmetry (5)

Let $2a$ be the length of each heavy rod.

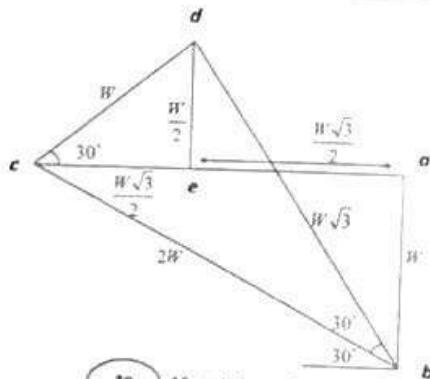
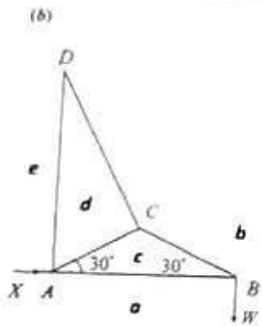
for BC : $X \times 2a \cos \theta - w_1 \times a \sin \theta - T \times a \cos \theta = 0$. (10)
 $\Rightarrow 2X - T = w_1 \tan \theta$ (1) (5)

for AB and BC :

$X + 4a \cos \theta + 2w_1 \times a \sin \theta + w_2 \times 2a \sin \theta - T = 3a \cos \theta = 0$. (20)
 $\Rightarrow 4X - 3T = -2(w_1 + w_2) \tan \theta$ (2) (5)

(1) $\times 2 -$ (2) $\Rightarrow T = 2w_1 \tan \theta + (2w_1 + w_2) \tan \theta$
 $= (4w_1 + 2w_2) \tan \theta$
 $= 2(2w_1 + w_2) \tan \theta$ (10)

65



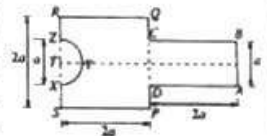
30 -10 each for each joint

Rod	Magnitude	Tension/Trust	
BC(bc)	$2W$	(5)	Tension (5)
AB(ao)	$\sqrt{3}W$	(5)	Thrust (5)
CD(bd)	$\sqrt{3}W$	(5)	Tension (5)
AC(dc)	W	(5)	Tension (5)
AD(de)	$\frac{W}{2}$	(5)	Thrust (5)
$X(eo) = \frac{W\sqrt{3}}{2}$			(5)

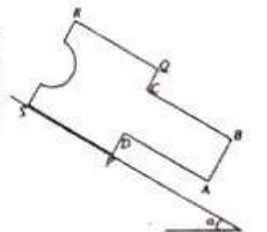
85

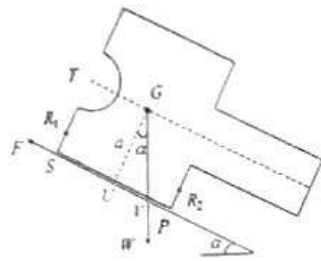
16. Show that the centre of mass of a uniform semi-circular lamina of radius r and centre O is at a distance $\frac{4r}{3\pi}$ from O .

As shown in the adjoining figure, a uniform plane lamina L is made by rigidly attaching a rectangle $ABCD$ to a square $PQRS$ such that DC and PQ lie on the same line with their mid-points coinciding, and removing a semi-circular region XYZ of radius $\frac{a}{2}$ centred at the mid-point T of RS . It is given that $AB = a$ and $AD = PQ = 2a$. Show that the centre of mass of the lamina L lies on the axis of symmetry at a distance ka from RS , where $k = \frac{238}{3(48 - \pi)}$.



As shown in the adjoining figure, the lamina L is in equilibrium on a rough plane inclined at an angle α to the horizontal with its plane vertical and the edge PS on a line of greatest slope such that the point P lies below S . Show that $\tan \alpha < (2 - k)$ and $\mu \geq \tan \alpha$, where μ is the coefficient of friction between the lamina and the inclined plane.





10

Since PS is in contact with the plane, we must have $UV < UP$.

10

i.e. $\mu \tan \alpha < 2a - ka$

$\Rightarrow \tan \alpha < (2 - k)$. (Note that $k < 2$.)

10

$R_1 + R_2 = w \cos \alpha$

10

$F = w \sin \alpha$

5

Since L does not slide, we must have $\mu \geq \frac{F}{R_1 + R_2}$.

10

This gives us $\mu \geq \tan \alpha$.

5

60

17 (a) An unbiased cubical die A shows 1, 2, 3, 4, 5 on its six separate faces. The die A is tossed twice. Find the probability that the sum of the two numbers obtained is 6.

Another die B , identical to A in all respects except for the numbers on the faces, shows 2, 2, 1, 4, 5 on its six separate faces. The die B is tossed twice. Find the probability that the sum of the two numbers obtained is 6.

Now, the two dice A and B are put in a box. One die is taken out of the box at random and tossed twice. Given that the sum of the two numbers obtained is 6, find the probability that the die taken out of the box is the die A .

(b) The mean and the standard deviation of n numbers x_1, x_2, \dots, x_n are μ_1 and σ_1 respectively, and the mean and the standard deviation of m numbers y_1, y_2, \dots, y_m are μ_2 and σ_2 respectively. Let the mean and the standard deviation of all of these $n + m$ numbers be μ_3 and σ_3 respectively.

Show that $\mu_3 = \frac{n\mu_1 + m\mu_2}{n + m}$.

Let $d_1 = \mu_1 - \mu_3$. Show that $\sum_{i=1}^n (x_i - \mu_3)^2 = n(\sigma_1^2 + d_1^2)$.

By taking $d_2 = \mu_2 - \mu_3$, write down a similar expression for $\sum_{j=1}^m (y_j - \mu_3)^2$.

Deduce that $\sigma_3^2 = \frac{(n\sigma_1^2 + m\sigma_2^2) + (nd_1^2 + md_2^2)}{n + m}$.

The number of copies sold per day, during the first 100 days after publishing a new book, had mean 2.3 and variance 0.8. During the next 100 days, the number of copies sold per day had mean 1.7 and variance 0.5. Find the mean and the variance of the number of copies sold per day during the first 200 days.

(d) In a single toss of the die A , the probability $P(n)$ of obtaining a face with number n is given below:

n	1	2	3	4	5
$P(n)$	$\frac{1}{6}$	$\frac{1}{6}$	$\frac{1}{3}$	$\frac{1}{6}$	$\frac{1}{6}$

Let X_i be the number obtained in the i^{th} toss for $i = 1, 2$.

Then $P(X_1 + X_2 = 6) = P(X_1 = 1 \text{ and } X_2 = 5) + P(X_1 = 5 \text{ and } X_2 = 1)$
 $+ P(X_1 = 2 \text{ and } X_2 = 4) + P(X_1 = 4 \text{ and } X_2 = 2)$
 $+ P(X_1 = 3 \text{ and } X_2 = 3)$
 $= 4 \times \frac{1}{6} \times \frac{1}{6} + \frac{1}{3} \times \frac{1}{3}$ 15
 $= \frac{2}{9}$ 5

20



Find

Then $P(X = 5) = 0.1 = 2 \times \frac{1}{3} + \frac{1}{6} + \frac{1}{6}$ (15)

$\frac{1}{4}$ (5)

20

By Bayes' Theorem,

$P(A|B) = \frac{P(A) \cdot P(B|A)}{P(A) \cdot P(B|A) + P(B) \cdot P(B|B)}$ (10)

$\frac{1}{17}$ (5)

10

30

(10) $\mu = \frac{\sum x_i}{n}$ $\mu_1 = \frac{\sum x_j}{m}$ (5) For both

$\frac{\sum x_i + \sum x_j}{m+n}$ (5)

$\frac{m\mu_1 + n\mu_2}{m+n}$ (5)

15

$\sum (x - \mu)^2 = \sum (x - \mu + \mu - \mu)^2$ (5)
 $= \sum (x - \mu + d)^2$

20

$= \sum [(x - \mu)^2 + 2d(x - \mu) + d^2]$ (5)

$= \sum (x - \mu)^2 + 2d \sum (x - \mu) + \sum d^2$ (5)

$= n\sigma^2 + nd^2 + \sum (x - \mu) = \sum (x - \mu)^2$ (5)

$= n(\sigma^2 + d^2)$ (5)

30

Similarly, $\sum (y - \mu)^2 = m(\sigma^2 + d^2)$ where $d_2 = \mu_2 - \mu$ (5)

05

$\sigma^2 = \frac{\sum (x - \mu)^2 + \sum (y - \mu)^2}{m+n}$ (5)

$\frac{n(\sigma^2 + d_1^2) + m(\sigma^2 + d_2^2)}{m+n}$ (5)

$\frac{(n\sigma^2 + m\sigma^2) + nd_1^2 + md_2^2}{m+n}$ (5)

10

For the first 100:

$n = 100, \mu_1 = 2.3, \sigma_1 = 0.8$

For the second 100:

$n = 100, \mu_2 = 1.7, \sigma_2 = 0.5$

From the above, $\mu = \frac{200 + 170}{200} = 1.85$ (5)

Now that $d_1 = -0.5$, and $d_2 = 0.3$

$\sigma^2 = \frac{100}{200} [(0.8)^2 + 0.5^2 + (0.5)^2 + (0.3)^2]$ (5)

30



$P(x)$

Then $P(x) = (x_1 - d_1) + 2 = \frac{1}{3} + \frac{1}{3} + \frac{1}{6} + \frac{1}{6}$ (5)

$\frac{1}{6}$ (5)

20

By Bayes Theorem,

$P(A|B) = \frac{P(A) \cdot P(B|A)}{P(A) \cdot P(B|A) + P(B) \cdot P(B|B)}$ (10)



(10)

30

$\mu_1 = \frac{\sum x_1}{n}$ (5) For both

$\sigma_1^2 = \frac{\sum x_1^2}{n} - \mu_1^2$ (5)

$\mu = \frac{n\mu_1 + m\mu_2}{m+n}$ (5)

15

$\sum (x_1 - \mu)^2 = \sum [(x_1 - \mu_1 + \mu_1 - \mu)^2]$ (5)
 $= \sum [(x_1 - \mu_1 - d_1)^2]$

20

$= \sum [(x_1 - \mu_1)^2 + 2d_1(x_1 - \mu_1) + d_1^2]$ (5)

$= \sum [(x_1 - \mu_1)^2] + 2 \sum d_1(x_1 - \mu_1) + \sum d_1^2$ (5)

$= n\sigma_1^2 + n d_1^2 + 2 \sum d_1(x_1 - \mu_1)$ (5)

$= n(\sigma_1^2 + d_1^2)$ (5)

30

Similarly, $\sum (x_2 - \mu_2)^2 = n\sigma_2^2 + n d_2^2 + 2 \sum d_2(x_2 - \mu_2)$ where $d_2 = \mu_2 - \mu$ (5)

05

$\sigma^2 = \frac{\sum (x_1 - \mu_1)^2 + \sum (x_2 - \mu_2)^2}{m+n}$ (5)

$= \frac{n\sigma_1^2 + n d_1^2 + m\sigma_2^2 + m d_2^2}{m+n}$ (5)

$= \frac{(n\sigma_1^2 + m\sigma_2^2) + n d_1^2 + m d_2^2}{m+n}$ (5)

10

For the first 100:

$n=100, \mu_1=2.3, \sigma_1=0.8$

For the second 100:

$m=100, \mu_2=1.7, \sigma_2=0.7$ (5)

From the above $\mu = \frac{200 + 170}{200} = 1.85$ (5)

Hence that $d_1 = -0.3$, and $d_2 = 0.3$.

$\sigma^2 = \frac{100}{200} [0.8^2 + 0.3^2 + 0.7^2 + 0.3^2]$ (5)

10



$$= \frac{1}{2} [0.64 + 0.25 + 0.09 \times 2]$$

$$= \frac{1.07}{2} = 0.535$$

$$\sigma_1 = \sqrt{0.535} \quad \text{5}$$





எங்கள் குறிக்கோள்

எண்ணிம உலகத்தில் மாணவர்களிற்கென சிறந்ததொரு கற்றல் கட்டமைப்பை உருவாக்குதல்.

அனைத்தும் டிஜிட்டல் மயப்படுத்தப்பட்ட இந்த காலத்தில் பல்வேறு துறைகளும் கால ஓட்டத்துடன் இணைந்து டிஜிட்டல் தளத்தில் பல்கிப்பெருகி வருகின்றன. அந்த வகையில் கல்வித்துறையும் இதற்கு விதிவிலக்கல்ல. இணையவழி கல்வியின் மூலம் கல்வித்துறை புதியதொரு பரிமாணத்தை எட்டியுள்ளது. குறிப்பாக கொரோனா பேரிடர் காலத்தில் நாடே முடக்கப்பட்டிருந்தது. இதனால் மாணவர்களிற்கும் பாடசாலை, கல்வி நிறுவனங்களிற்கு இடையிலான தொடர்பு துண்டிக்கப்பட்டது. அந்த இக்கட்டான சூழ்நிலையில் இணையவழி வகுப்புகள் மாணவர்களிற்கு வரப்பிரசாதமாக அமைந்தது என்பதே உண்மை.

இன்று தொழில்நுட்பம் மாணவர்களை தவறான பாதைக்கு இட்டு செல்வதாக ஓர் எண்ண ஓட்டம் மக்கள் மத்தியில் உள்ளது. தொழில்நுட்பம் என்பது ஒரு கருவி மட்டுமே அதை எவ்வாறு பயன்படுத்துகிறோம் என்பதில் அதன் ஆக்க மற்றும் அழிவு விளைவுகள் தீர்மானிக்கப்படுகிறது. உளியை கொண்டு சிலையை செதுக்க நினைத்தால் அவன் நிச்சயம் சிற்பி ஆகலாம். இங்கு பிரச்சினையாக காணப்படுவது மாணவர்களை வழிப்படுத்த தொழில்நுட்ப உலகில் ஓர் முறையான கட்டமைப்பு இல்லாமையே. அதை உருவாக்குவதே எங்கள் நோக்கம். அதை நோக்கியே எங்கள் பயணம் அமையும்.

எமது இணையத்தினூடக ஊடக உங்களிற்கு தேவையான பரீட்சை வினாத்தாள்களை இலகுவான முறையில் தரவிறக்கம் செய்து கொள்ளமுடியும்.

kalvi.lk

கல்வி சார் செய்திகளை உடனுக்குடன் அறிந்து கொள்ள எமது சமூக ஊடக தளங்களின் ஊடக உடனுக்குடன் அறிந்து கொள்ள முடியும்.



Viber
Community



Whatsapp
Channel



Facebook
Page