



மட்/ககு/புதுக்குடியிருப்பு வாணி வித்தியாலயம் முன்றாம் தவணைப் பரீட்சை - 2019

தரம் - 06

வரலாறு

நேரம்: 2.00 மணித்தியாலம்

பெயர்/சுட்டெண் :

புள்ளிகள் :

பகுதி I

சரியான விடையின் கீழ் கோடிடுக:

01. கீழைத்தேசங்களின் தானிய களஞ்சியம் என வர்ணிக்கப்பட்ட நாடு
1) இந்தியா 2) இலங்கை 3) சீனா 4) ஜப்பான்
02. பூமி உருவாகி சிறிது காலத்தின பின் தோற்றம்பெற்ற உயிரினம்
1) பக்ரீரியா 2) அம்பா 3) ஒபனியா 4) புரோக்காபோட் பக்ரீரியா
03. உலகில் மிகப் பழைய எழுத்துக்கலை முதன் முதலில் தோற்றம் பெற்ற நாகரீகம்
1) எகிப்திய நாகரீகம் 2) சிந்து நதிக்கரை நாகரீகங்கள்
3) மொசுப்பத்தேமிய நாகரீகம் 4) குவாங்கோ நாகரீகம்
04. * மரங்களாலும், தடிகளாலும், இலை குழைகளாலும் வீடுகள் அமைத்தல்
* அம்பு, வில் என்பவற்றைப் பயன்படுத்தி வேட்டையாடல்
* பலவித நிறங்களைப் பயன்படுத்தி கற்பாறைகளில் சித்திரங்கள் வரைதல்
மேற்குறிப்பிட்ட குறிப்புகளோடு தொடர்புடைய மனிதன் வாழ்ந்த காலப்பகுதி
1) இடைக்கற்காலம் 2) புதிய கற்காலம்
3) பழைய கற்காலம் 4) பழைய புதிய கற்காலம்
05. இலங்கையில் இயக்கர்கள் வாழ்ந்த நகரங்கள்
1) நாகதீபம், இரணைமடு 2) திருக்கோயில், களனி
3) களனி, இரணைமடு 4) சிறிசவத்து, லங்காபுர
06. துட்டகாமனின் பெயர் ஒன்று தருக.
1) ஆக்னெதன் 2) ஹமுராய் 3) டூன் காமன் 4) ரைந்டுகள்
07. எகிப்திய நாட்டின் புராதன பெயர்
1) பர்மா 2) கெய்ரோ 3) மிசர் 4) தாய்லாந்து
08. மொசுப்பத்தேமிய நாகரீகத்தில் கலப்பை தாயரிக்க பயன்படுத்தப்பட்ட பொருள்
1) இரும்பு 2) உலோகம் 3) வெள்ளி 4) களிமண்
09. தாதுசேன மன்னனால் அமைக்கப்பட்ட யோதாக்கால்வாயின் நீளம்
1) 51 மைல் 2) 52 மைல் 3) 53 மைல் 4) 54 மைல்
10. கல்வெட்டுக்களில் "பிதாக்" என அழைக்கப்பட்ட மன்னன்
1) மகாசேனன் 2) வலகம்பாம 3) வசபன் 4) துட்டகைமுனு

(10X2=20 புள்ளிகள்)

பொருத்தமான சொல்லை தெரிவுசெய்து இடைவெளி நிரப்புக

(மன்னார், மம்மி, தூபராம, தம்பபன்னி, ஹோமோசேபியன், கி.மு 250, அபயகிரி, ஹோமோ இரெக்டஸ். கி.மு. 544)

01. மகிந்ததேரர் ----- ஆம் ஆண்டு இலங்கைக்கு வருகை தந்தார்
02. முதன் முதலில் நெருப்பை பயன்படுத்திய மனிதன் ----- ஆவான்
03. இறந்த உடலை நீண்காலம் பேணுவைக்கும் முறை ----- என அழைக்கப்படும்
04. விஜயனும் அவனது 700 தோழர்களும் ----- எனும் இடத்தில் வந்திறங்கினர்
05. ----- விகாரை வலகம்பா மன்னனால் நிறுவப்பட்டது.

(5X 2 = 10 புள்ளிகள்)

சரியாயின் சரி (✓) எனவும் பிழையாயின் பிழை (×) எனவும் அடையாளமிடுக

- 1) 1ம் பராக்கிரமபாகு மன்னனால் பொலநறுவையில் கல்விகாரை அமைக்கப்பட்டது. []
- 2) உலகில் முதன்முதலில் சோளம் மத்தியதரைக் கடலில் பயிரிடப்பட்டது []
- 3) நாகரீகம் என்பது நகரமும் அதில் வாழும் குறிப்பிடத்தக்க சனத்தொகையைக் கொண்ட சமூகம் ஆகும் []
- 4) தேவநம்பிய என்பதன் கருத்து “கடவுளுக்குப் பொருத்தமானவன்” என்பதாகும். []
- 5) இலங்கையில் குடியேற்றங்கள் அமைக்கப்பட்டமை தொடர்பான கதை மகாவசம்சத்தில் குறிப்பிடப்பட்டுள்ளது. []

(5X 2 = 10 புள்ளிகள்)

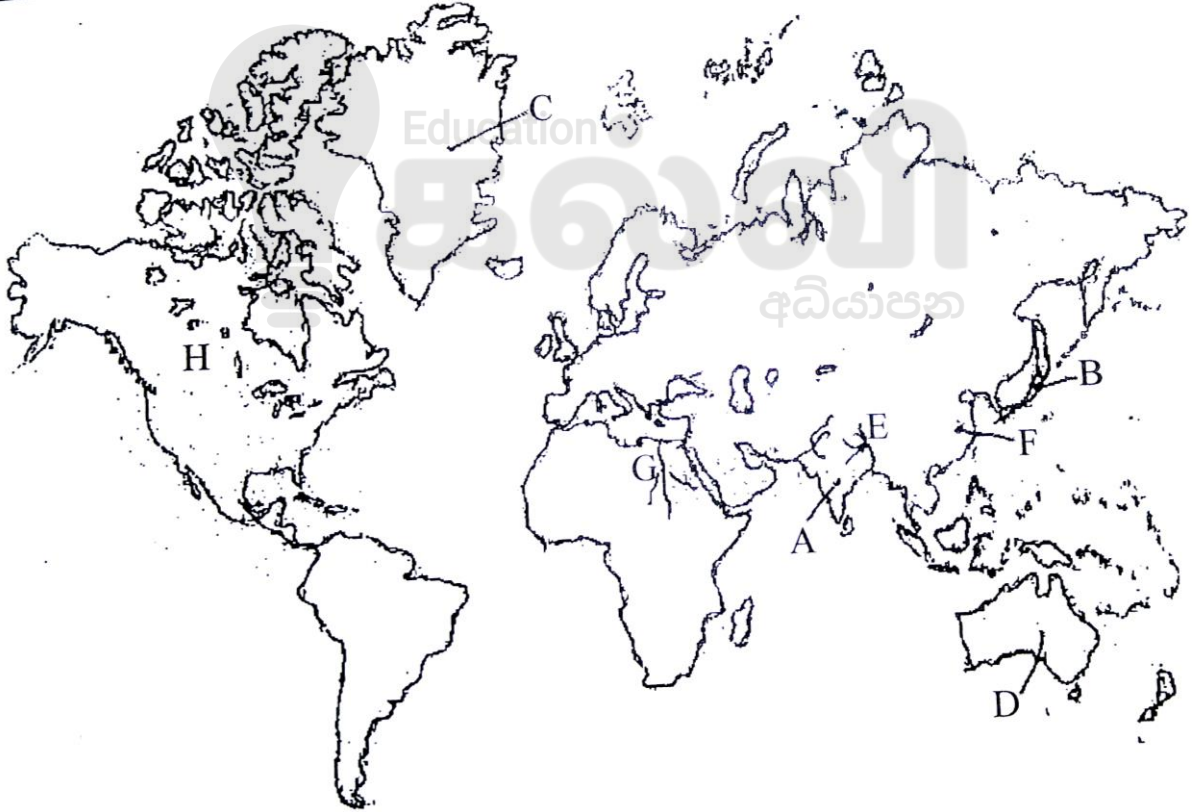
பகுதி II

எல்லா வினாக்களுக்கும் விடை தருக

முதலாம் வினா கட்டாயமானது

முதலாம் வினா உட்பட எல்லாமாக 05 வினாக்களுக்கு விடை தருக

01. (அ) தரப்பட்டுள்ள உலகப் பழுவருவப்படத்தில் A, B, C, D, E, F, G, H அகிய எழுத்துக்களால் காட்டப்பட்டுள்ளவற்றுள் தரப்பட்ட விடயக்கருத்துக்குப் பொருத்தமான எழுத்துக்களை இனங்கண்டு எழுதுக.




- | | | | |
|--------------|-----|------------------|-----|
| 1) இந்தியா | () | 5) கனடா | () |
| 2) கங்கை நதி | () | 6) ஜப்பான் | () |
| 3) சீனா | () | 7) கிறீன்லாந்து | () |
| 4) நைல்நதி | () | 8) அவுஸ்திரேலியா | () |

(8x1 = 8 புள்ளிகள்)

(ஆ) 01) (1) படம் A யினால் காட்டப்படுவது யாது?

(2) இது எந்நாகரீகத்துக்கு உரியது

(2x1 = 2 புள்ளிகள்)

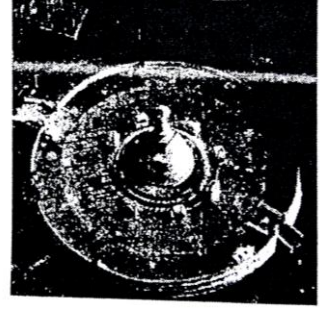


(ஆ) 02) (1) படம் B யில் காட்டப்பட்டுள்ள விகாரை எது?

(2x1 = 2 புள்ளிகள்)

(2) இவ்விகாரை ஆரம்பத்தில் எவ் வடிவத்தில் அமைக்கப்பட்டது

(2x1 = 2 புள்ளிகள்)



02. (1) உள்நாட்டு இலக்கிய மூலாதாரங்கள் 03 தருக?

1) -----

2) -----

3) -----

(3x1 = 3 புள்ளிகள்)

(2) வரலாற்றுக் காலத்தை அளவிடும் முறைகள் 03 தருக?

1) -----

2) -----

3) -----

(3x1 = 3 புள்ளிகள்)

(3) வரலாற்றைக் கற்பதன் பயன்கள் 3 தருக?

1) -----

2) -----

3) -----

(3x1 = 3 புள்ளிகள்)

03. 01) பின்வரும் A, B, C ஆகிய வினாக்களுக்குப் பொருத்தமான விடையை அடைப்பினுள் இருந்து தெரிவு செய்து எழுதுக

(பெலியோ சொயிக் யுகம், மர அட்டை, தாவரங்கள், புதிய கற்காலம், சீனா, இஸ்ரேல்)

A) கற்காலம் மனிதன் பயன்படுத்திய களிமண்ணால் செய்யப்பட்ட அரிவாள் கண்டுபிடிக்கப்பட்ட கற்குகை அமைந்துள்ள இடம்

B) மனிதன் சமய வழிபாடுகளில் முதன்முதலில் ஈடுபட்ட யுகம்

C) சிலூரியன் யுகத்தில் தோற்றம் பெற்ற உயிரினம்

(3x1 = 3 புள்ளிகள்)

02) மானிடப் பரிமாணத்தின் முதல் 3 வளர்ச்சிகளையும் ஒழுங்கு முறையில் தருக.

1) -----

2) -----

3) -----

(3x1 = 3 புள்ளிகள்)

03) விவசாய யுகம் ஆரம்பமானதால் ஏற்பட்ட மாற்றங்கள் 3 தருக

- 1)
- 2)
- 3)

(3x2 = 6 புள்ளிகள்)

04) (1) பின்வரும் A, B, C, ஆகிய விடயங்களுக்குப் பொருத்தமான விடையை அடைப்பினுள் இருந்து தெரிவு செய்து எழுதுக.

(உரோமன் டச்சு சட்டம், நைல்நதி சீன நாகரீகம், ஹமுராபிச் சட்டம், சிந்து நதி, எகிப்திய நாகரீகம்)

A) உலகில் மிகப்பழைய சட்ட நூல்

.....

B) அகனெட்டான் மன்னனின் மனைவி உயிரோடு இருக்கும்போதே அவளின் மேற்பாகத்தைக் கொண்ட உருவம் நிர்மாணிக்கப்பட்டதாக கருதப்படும் நாகரீகம்?

.....

C) ஆபிரிக்கா கண்டத்தினூடாக பாய்ந்து செல்லும் நதி?

.....

(3x1 = 3 புள்ளிகள்)

(2) சிந்து நதி நாகரீகத்துக்கு உட்பட்ட நகரங்கள் 3 தருக.

- 1)
- 2)
- 3)

(3) மொசப்பத்தேமிய நாகரீகத்தின் பொருளாதார அம்சங்கள் 3 தருக?

- 1)
- 2)
- 3)

(3x1 = 3 புள்ளிகள்)

(3x1 = 3 புள்ளிகள்)

05) (1) இலங்கையில் வேட்டை யுகத்தில் மனிதன் உணவாக உட்கொண்ட விலங்கு உணவுகள் 3 தருக?

- 1)
- 2)
- 3)

(3x1 = 3 புள்ளிகள்)

(2) விஜயனுடைய அமைச்சர்களால் அமைக்கப்பட்ட 3 குடியேற்றங்களும் எவை?

- 1)
- 2)
- 3)

(3x1 = 3 புள்ளிகள்)

(3) விஜயன் வருகைக்கு முன் இலங்கையில் காணப்பட்ட வீடமைப்பு முறைகள் 3 தருக

- 1)
- 2)
- 3)

(3x2 = 6 புள்ளிகள்)

06) (1) பின்வரும் A, B, C, தகவல்களுக்குப் பொருத்தமான விடைகளை அமைப்பினுள் இருந்து தெரிவு செய்து எழுதுக?
(திஸ்ஸமகராம, வசபன், 42 வருடங்கள், மகாசேனன், 44 வருடங்கள், திகாமடுல்ல)

A) துட்டகைமுனு மன்னன் உணவு உற்பத்தியை அதிகரிப்பதற்காக தனது சகோதரனை அனுப்பிய பிரதேசம்

B) சுரங்கக் கால்வாய் முறைமூலம் நீர்பாசன நடவடிக்கையை மேற்கொண்ட மன்னன்

C) சோழ மன்னன் எல்லாளன் அநுராதபுரத்தை ஆட்சி செய்த வருடங்கள்

(3x1 = 3 புள்ளிகள்)

(2) 1) மகாசேன மன்னனால் அமைக்கப்பட்ட தூபிகள் 3 தருக.

1) -----

2) -----

3) -----

(3x1 = 3 புள்ளிகள்)

(3) தேவநம்பிய திஸ்ஸ மன்னின் சமயப் பணிகள் 3 தருக

1) -----

2) -----

3) -----

(3x2 = 6 புள்ளிகள்)



தரம்
6,7,8

தமிழ்

ONLINE CLASSES

இலங்கை முழுவதும் உள்ள மாணவர்களை இணைத்து Zoom செயலி மூலமாக இணைய வழியில் நடைபெறும் தமிழ் பாட வகுப்புகள்.

- ✓ மாறாத நேர அட்டவணையுடனான வகுப்புகள்.
- ✓ மாணவர்களின் அடைவு மட்டத்தை உயர்த்த தொடர்ச்சியான பரீட்சைகள்.
- ✓ பயிற்சி செயலட்டைகள் pdf வடிவில் வழங்கப்படும்.

மாதக் கட்டணம்

850/=

Whatsapp ஊடாக எம்மை தொடர்பு கொண்டு வகுப்புகள் தொடர்பான மேலதிக விபரங்களை அறிந்து கொள்ள முடியும்.



075 287 1457

தினமும் வகுப்பு RECORDING வழங்கப்படும்.



கல்வி
Digital Learning Platform

www.kalvi.lk





எங்கள் குறிக்கோள்

எண்ணிம உலகத்தில் மாணவர்களிற்கென சிறந்ததொரு கற்றல் கட்டமைப்பை உருவாக்குதல்.

அனைத்தும் டிஜிட்டல் மயப்படுத்தப்பட்ட இந்த காலத்தில் பல்வேறு துறைகளும் கால ஓட்டத்துடன் இணைந்து டிஜிட்டல் தளத்தில் பல்கிப்பெருகி வருகின்றன. அந்த வகையில் கல்வித்துறையும் இதற்கு விதிவிலக்கல்ல. இணையவழி கல்வியின் மூலம் கல்வித்துறை புதியதொரு பரிமாணத்தை எட்டியுள்ளது. குறிப்பாக கொரோனா பேரிடர் காலத்தில் நாடே முடக்கப்பட்டிருந்தது. இதனால் மாணவர்களிற்கும் பாடசாலை, கல்வி நிறுவனங்களிற்கு இடையிலான தொடர்பு துண்டிக்கப்பட்டது. அந்த இக்கட்டான சூழ்நிலையில் இணையவழி வகுப்புகள் மாணவர்களிற்கு வரப்பிரசாதமாக அமைந்தது என்பதே உண்மை.

இன்று தொழில்நுட்பம் மாணவர்களை தவறான பாதைக்கு இட்டு செல்வதாக ஓர் எண்ண ஓட்டம் மக்கள் மத்தியில் உள்ளது. தொழில்நுட்பம் என்பது ஒரு கருவி மட்டுமே அதை எவ்வாறு பயன்படுத்துகிறோம் என்பதில் அதன் ஆக்க மற்றும் அழிவு விளைவுகள் தீர்மானிக்கப்படுகிறது. உளியை கொண்டு சிலையை செதுக்க நினைத்தால் அவன் நிச்சயம் சிற்பி ஆகலாம். இங்கு பிரச்சினையாக காணப்படுவது மாணவர்களை வழிப்படுத்த தொழில்நுட்ப உலகில் ஓர் முறையான கட்டமைப்பு இல்லாமையே. அதை உருவாக்குவதே எங்கள் நோக்கம். அதை நோக்கியே எங்கள் பயணம் அமையும்.

எமது இணையத்தினூடக ஊடக உங்களிற்கு தேவையான பரீட்சை வினாத்தாள்களை இலகுவான முறையில் தரவிறக்கம் செய்து கொள்ளமுடியும்.

kalvi.lk

கல்வி சார் செய்திகளை உடனுக்குடன் அறிந்து கொள்ள எமது சமூக ஊடக தளங்களின் ஊடக உடனுக்குடன் அறிந்து கொள்ள முடியும்.

