




யா/ கொக்குவில் இந்துக் கல்லூரி
முதலாம் தவணைப்பரீட்சை - 2018

தரம் - 10

சித்திரம்

நேரம் :- 2.00 மணித்தியாலம்

பகுதி I



❖ தரப்பட்ட ஒளிப்படத்தைப் பயன்படுத்தி 1 தொடக்கம் 5 வரையிலான வினாக்களிற்கு விடை தருக?

இக்கட்டம் 1) எனும் பெயர் கொண்டு அழைக்கப்படுகின்றது. பௌத்த மக்களின் முக்கிய வழிபாட்டு கட்டடமாக கருதப்படும் இது 2) எனும் மண்ணால் கட்டப்பட்டதாகும். இக் கட்டடத்தின் விசேட இடத்தை 3) பிடித்திருக்கின்றது. (பத்திரிப்பு) 4) எனும் கலைஞரால் பத்திரிப்பு எனும் அமைப்பு உருவாக்கப்பட்டது. இக்கட்டத்தில் 5) அமைப்பை உடைய சந்திரவட்டக்கல்லை காணலாம்.

❖ 6 தொடக்கம் 10 வரையுள்ள வினாக்கள் ஒவ்வொன்றிற்கும் சரியான விடையை எழுதுக.

6) விஜ்ஜீலதா மேகலதா என சிசிரியாப் பெண்களை வர்ணித்த அறிஞர் யார்?

.....

7) இரத்தினக்கல்லினால் ஆக்கப்பட்ட ஆசனத்தை உள்ளே வைத்து ஆக்கப்பட்ட தாதுகோபம் எது?

.....

8) பள்ளி வாசலின் இரு புறத்தேயும் அமைக்கப்பட்டுள்ள உயரமான தூண்கள் எப்பெயரால் அழைக்கப்படும்.

.....

9) இலங்கையில் சிறந்த காவற்கல் எது?

.....

10) எம்பக்கே தேவாலயத்தின் கூரையமைப்பு எவ்வாறு அழைக்கப்படும்.

.....

❖ 11 தொடக்கம் 15 வரையான வினாக்களிற்கு மிகப்பொருத்தமான விடையின் கீழ் கோடிடுக?

11) திவங்காலயத்தில் கர்ப்பக்கிரகத்தில் காணப்படும் ஓவியம்

- 1) தேமிய ஜாதகக்கதை 2) சங்கிஸ்ஸ புரத்திற்கு புத்தர்
3) தேவ அழைப்பு 4) ஆசங்கவதி ஜாதகம்

12) இலங்கையில் கலைநுட்பம் பொருந்திய சந்திரவட்டக்கல் காணப்படும் இடம்

- 1) தலதாளமாளிகை 2) இராணி மாளிகை
3) விஷ்ணு ஆலயம் 4) பொலநறுவை வட்டதாகே

13) சமச்சீர் வடிவத்தினை வெளிப்படுத்தும் அலங்கார வடிவத்தில் ஒன்று

- 1) பேருண்டபட்சி 2) செரபெண்டிய 3) ரிஷிபகுஞ்சரம் 4) எத்கந்தலிசினிய

14) நடராஜர் வடிவத்தின் உடுக்கை ஏந்திய கை எக் குறியீட்டினை குறிப்பிடுகின்றது.

- 1) காத்தல் 2) அருளல் 3) மறைத்தல் 4) படைத்தல்

15) யானை மதில் தலையையுடைய தாதுகோபம் பின்வருவனவற்றுள் எது?

- 1) தூபராம 2) றூவன் வெலிசாய 3) களனி தாதுகோபம் 4) அபயகிரி

❖ 16 தொடக்கம் 20 வரையான வினாக்களிற்கு சரியாயின் (✓) எனவும் பிழையாயின் (X) எனவும் இடுக?

16) வேடமுக உற்பத்திக்கு ஏழிலைப்பாலை மரம் பயன்படுத்தப்படும் ()

17) சணல்நாரின் மூலம் பாய் பின்னப்படும் ()

18) அவுக்கண புத்தர்சிலை தியான முத்திரையுடையது ()

19) இசுருமுனிய காதலர் சிலையானது பல்லவ மரபை உடையது ()

20) சிகிரியா ஓவியங்கள் ஈரச்சுதை மரபைச் சேர்ந்தனர் ()

❖ 21 – 25 வரையான வினாக்களில் தரப்பட்டுள்ள உருவங்களுக்கு மிகவும் பொருத்தமான வடிவத்தின் அதன் முன்னால் உள்ள உருவங்களில் இருந்து தெரிவு செய்து அடைப்புக்குறிக்குள் பொருத்தமான ஆங்கில எழுத்தை எழுதுக?

21)



(.....)

A




22)



(.....)

B




23)



(.....)

C




24)



(.....)

D



25)



(.....)

E



❖ 26 – 30 வரை தரப்பட்ட சொல்லின் கருத்தை விளக்குகின்ற வகையில் முதுமையான வசனத்தை எழுதுக.

26) மடோல் குருபாவ

.....

27) தூரதரிசனம்

.....

28) கின்னரர்

.....

29) திரிபங்க நிலை

.....

30) ஈரச்சுதை

.....

❖ 31 தொடக்கம் 35 வரையான வினாக்களிற்கு பொருத்தமான விடையைக் கொண்டு இடைவெளியை நிரப்புக.

- 31) கம்பளை இலங்காதிலக விகாரை எனும் மன்னனால் அமைக்கப்பட்டது.
 32) விகாரை “சத்தர்மதிலக” என அழைக்கப்படும்.
 33) சாரணாத் புத்தர் சிலை முத்திரையை காட்டி நிற்கும் சிற்பமாகும்.
 34) “மாமத்யாளன்” எனும் ஓவியம் குகையில் காணப்படுகின்றது.
 35) தூண்கள் மீது அமைக்கப்பட்ட விகாரை என அழைக்கப்படும்.

❖ கீழே தரப்பட்ட ஆக்கத்தை இனங்கண்டு 36 – 40 வரையான வினாக்களிற்கு பொருத்தமான வாக்கியம் அமைக்குக?



- 36) தொனிப்பொருள்
 37) கலைஞர்
 38) வர்ணப்பிரயோகம்
 39) ஒழுங்கமைப்பு
 40) கலைஞரின் நுட்பம்

(40 புள்ளிகள்)

❖ பின்வரும் தலைப்புக்களில் ஏதாவது ஒரு தலைப்பினை தெரிவு செய்து படம் வரைந்து வர்ணம் தீட்டுக?

- 1) மீனவர் வாழ்க்கை
- 2) சுதந்திரமாக திரியும் காட்டு விலங்குகள்
- 3) விலங்கு தாவர வடிவங்களை பயன்படுத்தி சுவர் அலங்காரம்
- 4) பழப்பாணம் ஒன்றிற்கான மேலுறை.
- 5) செவ்வரத்தம் பூவைப்பயன்படுத்தி சீத்தைத்துணியலங்காரம்

2025

1ம் தவணை வகுப்புகள்

தரம் 6 முதல் 11 வரையான
மாணவர்களிற்கான தமிழ் மற்றும் ஆங்கில
மொழிமூல வகுப்புக்கள் ஆரம்பமாகவுள்ளன.

ஆரம்பம் 01.01.2025



இலங்கையின் எப்பாகத்திலிருந்தும்
Zoom app மூலம் எமது வகுப்புகளில்
இணைந்து கொள்ள முடியும்.

அனைத்துப் பாடங்களும் ஒரே கல்வி நிறுவனத்தின் கீழ்...

 Education
கல்வி Kalvi.lk
අධ්‍යාපන



Whatsapp
075 287 1457