



மாகாணக் கல்வித் திணைக்களம்
வடக்கு மாகாணம்
Provincial Department of Education, Northern Province



மூன்றாம் தவணைப் பரீட்சை - 2022 - (2023)

தரம் - 06




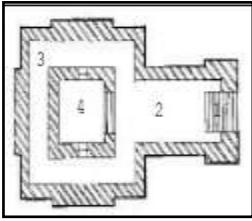
சித்திரக்கலை- I,II

நேரம்:
2.00 மணித்தியாலங்கள்

பெயர் / சுட்டெண்

கவனிக்க: பகுதி I எல்லா வினாக்களுக்கும் இத்தாளில் விடை எழுதுக.

➤ 01 - 05 வரையான வினாக்களுக்கு கீழே காட்டப்பட்டுள்ள படங்களினை இனங்கண்டு அவற்றைப் புள்ளிக்கோட்டில் எழுதுக.



A

B

C

D

E

1. A - 2. B -
3. C - 4. D -
5. E -

(10 புள்ளிகள்)

➤ 6 - 10 வரையான வினாக்களுக்குப் பொருத்தமான விடையின் கீழ் கோடிடுக.

6. மூல வர்ணங்களில் ஒன்றாக அமையும் வர்ணம் எது?
1. சிவப்பு 2. கறுப்பு 3. பச்சை 4. ஊதா
7. வர்ணத்தின் இருண்ட, இளநிலைச்சாயல் எவ்வாறு அழைக்கப்படும்?
1. தூரநோக்கு 2. ஒளிநிழல் 3. வர்ணபலம் 4. தூரதரிசனம்
8. கிறிஸ்தவ தேவாலயத்தின் உள்ளே நிறக்கண்ணாடித் துண்டுகளாலான ஆக்கம் எப்பெயரால் அழைக்கப்படும்?
1. கலிக்கிறபிக் அலங்காரம் 2. மொசைக்கித்திரம்
3. கொலாஜ் 4. கோலம்
9. இந்து ஆலயங்களில் மரச்சிற்ப வேலைப்பாடுகள் நிறைந்த அசையும் பகுதியாக அமைவது எது?
1. கோபுரம் 2. வசந்தமண்டபம் 3. கர்ப்பக்கிரகம் 4. தேர்
10. துணை வர்ணங்களில் ஒன்றாகக் காணப்படும் வர்ணம் எது?
1. ஊதா 2. சிவப்பு 3. மஞ்சள் 4. நீலம்

(05 புள்ளிகள்)

➤ 11 - 15 வரையான வினாக்களுக்குச் சரியாயின் (✓) எனவும் பிழையாயின் (*) எனவும் அடையாளம் இடுக.

11. புகையிரதத் தண்டவாளத்தைக் காட்டப் பயன்படுவது சமாந்தர இரேகையாகும். ()
12. நீலம், சிவப்பு வர்ணங்களைக் கலக்கும்போது பெறப்படுவது கபிலம் ஆகும். ()
13. இலங்கையின் முதலாவது தாதுகோபம் தூபராம ஆகும். ()
14. குளிர்வர்ணங்கள் முன்செல்லும் தன்மையுடையன. ()
15. இந்து ஆலயங்களில் மூலமூர்த்தி அமைந்துள்ள பகுதி கருவறை ஆகும். ()

(05 புள்ளிகள்)

➤ 16 - 20 வினாக்களிற்குப் பொருத்தமான விடையினை இடைவெளிகளில் எழுதுக.

16. கிறிஸ்தவ தேவாலய அடித்தளமானது வடிவத்தில் அமைக்கப்படும்.
17. தூபிகளின் உட்பகுதியில் புத்தரின் வைத்துக் கட்டப்படும்.
18. றம்ழான் தினத்தன்று தானம் வழங்குதல் எனப்படும்.
19. இந்து ஆலயங்களில் சிவனின் வாகனமான சிலை காணப்படும்.
20. நத்தார் பண்டிகையினைக் கொண்டாடுபவர்கள் இனத்தவராவார்.

(10 புள்ளிகள்)


➤ 21 - 25 வரையான வினாக்களுக்குச் சுருக்கமான விடை தருக.

21. தூபியானது அண்டத்தின் தன்மைக்கேற்ப எத்தனை வகைப்படும்?
.....
22. “மஸ்ஜித்” ஒன்றின் முக்கியமான பகுதியான கும்மட்ட வடிவத்தை எவ்வாறு அழைப்பர்?
.....
23. இலங்கையில் ஆரம்பத்தில் கிறிஸ்தவ தேவாலயங்கள் யாரால் அமைக்கப்பட்டன?
.....
24. நத்தார் பண்டிகை கொண்டாடப்படுவதன் நோக்கம் யாது?
.....
25. இந்து ஆலய கர்ப்பக்கிரகம் அமைக்கப் பயன்படும் இரண்டு ஊடகங்கள் தருக.
.....


(10 புள்ளிகள்)

பகுதி - II

கீழே தரப்பட்ட பொருட்களை இரேகை மூலம் வரைந்து ஒளிநிழல் காட்டுக.



பூ ஒன்று



பந்து

(10 புள்ளிகள்)

பகுதி - III

பின்வரும் தலைப்புகளில் ஒன்றைத் தெரிவு செய்து வரைந்து வர்ணம் தீட்டுக.

01. எமது பாடசாலையின் விளையாட்டுப் பூங்கா
02. தைப்பொங்கல் விழா
03. வாசனை மலர்களும் வண்ணத்துப் பூச்சியும்
04. நீலம், மஞ்சள், சிவப்பு நிறங்களைக் கலந்து புதிய கோலங்களை உருவாக்குவோம்.
05. பூக்களைப் பயன்படுத்தி சீத்தைத் துணிக்கான பரவுருப சித்திரம் வரைக.
06. விளையாட்டு விழாவுக்கான அழைப்பிதழ் ஒன்றினை வரைக.

(50 புள்ளிகள்)

தரம் 01 - 10

3ம் தவணை

REVISION | PAPER DISCUSSION

புதிய அனுமதிகள்
வழங்கப்படுகின்றன..

கட்டண விபரங்கள்

ஆரம்பம் - 01.12.2024

மீட்டல் மற்றும் வினாத்தாள்
கலந்துரையாடல் வகுப்புகள்

இலங்கையின் எப்பாகத்திலிருந்தும்
இணைந்து கொள்ள முடியும்.

JOIN NOW

தமிழ் Medium

தரம் 01-02 2000/=

தரம் 03-05 2500/=

தரம் 06-10 3000/=

English Medium

தரம் 06-07 3500/=



KALVI.LK



WHATSAPP

075 287 1457