



யா/கொக்குவில் இந்துக் கல்லூரி

முதலாம் தவணைப் பரீட்சை - 2017




சித்திரம்

தரம் - 07

நேரம் - 2 மணி

பகுதி I

- கீழே தரப்பட்ட படத்தை இனங்கண்டு விடை தருக?



1. பௌத்த மதத்துடன் தொடர்புடையது .....
  2. முப்பரிமாண தன்மையை வெளிப்படுத்துவது .....
  3. பலாப்பெத்தி வடித்தைக் காட்டுவது .....
  4. தூரதரிசன அமைப்பினைக் காட்டும் உரு .....
  5. சமச்சீர் அமைப்பைக் காட்டுவது .....
- பொருத்தமான விடையினைக் கொண்டு இடைவெளிகளை நிரப்புக.
    6. சிலுவை வடிவம் ..... மதத்துடன் தொடர்புடைய வடிவம் ஆகும்.
    7. இலங்கையில் . முதன் முதலில் அமைக்கப்பட்ட தாதுகோபம் ..... ஆகும்.
    8. அலையின் வடிவத்தைக் காட்டப் பயன்படும் ரேகை ..... ஆகும்.
    9. மூலவர்ணங்கள் மூன்றையும் கலக்க ..... வர்ணம் பெறப்படும்.
    10. றூவன் வெலிசாயாவில் ..... மதிலைக் காணலாம்.
  - சரியாயின் சரி(✓) எனவும் பிழையாயின் (x) எனவும் இடுக.
    11. வெப்ப வர்ணங்கள் முன்னோக்கி செல்லும் தன்மை கொண்டவை ( )
    12. வெசாக் பண்டிகை இஸ்லாம் மதத்தவர் கொண்டாடுவது ஆகும். ( )
    13. கோலம் போடுதல் நிகழ்வானது தைப்பொங்கல் பண்டிகையுடன் தொடர்புடையது ( )
    14. மினார் என்பது பள்ளிவாசலின் கட்டிடத்தில் காணப்படும் ஒரு பகுதியாகும். ( )
    15. றன்கொத் விகாரை தேவநம்பிய தீசனால் அமைக்கப்பட்டது. ( )

- 16-20 வரையான வினாக்களிற்கு பொருத்தமான விடையை எழுதுக.

16. அபயகிரி தாது கோபத்தின் வடிவம் எது?

17. மூலவர்ணங்கள் எவை?

18. தனியொரு பிரதியைப் பெறும் அச்ச முறை எது?

19. பனையோலையின் விளிம்பின் வடிவத்தைக் காட்டும் ரேகை எது?

20. பொது வர்ணங்கள் எவை?

(20x1=20 புள்ளிகள்)


## பகுதி II

01.

1. கணிப்பீட்டிற்காக சுவர்ப்பத்திரிகையொன்று தயாரித்திருப்பீர் அதனை அடிப்படையாகக் கொண்டு இவ் வினாக்களிற்கு விடை எழுதுக?
2. எவ்விடயம் சார்பாக சுவர்ப்பத்திரிகை தயாரித்தீர்கள்?
3. தாது கோபங்களின் 4 வடிவங்களையும் தருக?
4. அபயகிரித் தாதுகோபம் கட்டிய மன்னர் யார்?

(3+4+3+10=20 புள்ளிகள்)

02.



கீழ் தரப்படும் தாதுகோபம் தொடர்பாக 5 வசனம் எழுதுக.

1. இத்தூபி யாரால் கட்டப்பட்டது?
2. இத் தூபியினுள் எதனை வைத்து கட்டினார்கள்?
3. இத் தூபியின் வடிவம் யாது?
4. இத் தூபியில் வட்டதாகே அமைத்த மன்னர் யார்?
5. இதன் உயரம் யாது?

(10 புள்ளிகள்)

03. பின்வரும் தலைப்புக்களில் ஒன்றைத் தெரிவு செய்து படம் வரைக.

1. அறுவடைக்காட்சி
2. கடற்கரையில் சிறுவர் விளையாட்டு
3. பாடசாலை சிரமதானக் காட்சி
4. பூக்களையும் இலைகளையும் பயன்படுத்தி சீத்தைத் துணியலங்காரம்
5. விளக்கு மறைப்பு அலங்காரம்

(60 புள்ளிகள்)

தரம் 01 - 10

# 3ம் தவணை

REVISION | PAPER DISCUSSION

ஆரம்பம் - 01.12.2024

மீட்டல் மற்றும் வினாத்தாள்  
கலந்துரையாடல் வகுப்புகள்

இலங்கையின் எப்பாகத்திலிருந்தும்  
இணைந்து கொள்ள முடியும்.

JOIN NOW

புதிய அனுமதிகள்  
வழங்கப்படுகின்றன..

கட்டண விபரங்கள்

தமிழ் Medium

தரம் 01-02

2000/=

தரம் 03-05

2500/=

தரம் 06-10

3000/=

English Medium

தரம் 06-07

3500/=



KALVI.LK



WHATSAPP

075 287 1457