



மத்தியமாகாணக் கல்வித் திணைக்களம் கண்டி



புலமைப்பரிசில் பரீட்சை- 2020
பயிற்சி வினாப்பத்திரம் இலக்கம் 01

பகுதி 1

நேரம் 45 நிமிடம்

தரப்பட்டுள்ள வினாக்களுக்கு சரியான விடையை தெரிவு செய்க
வித்தியாசமான உருவைத் தெரிவு செய்க.

1. 1)



2)



3)



2. 1)



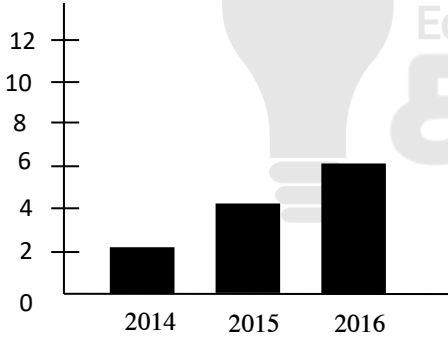
2)



3)



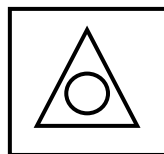
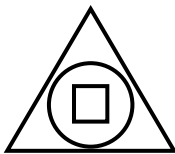

3.



ஒரு பாடசாலையின் புலமைப்பரிசில் பெறுபேறு பின்வரும் வரைபில் காட்டப்பட்டுள்ளது. அதற்கமைய 2019 ஆம் ஆண்டின் எதிர்பார்க்கப்படும் பெறுபேறாக அமையக் கூடியது

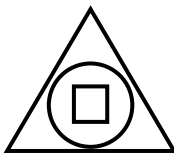
- 1) 8
2) 10
3) 12

4.




அடுத்து வரும் உரு,


1)



2)



3)



5. பின்வரும் அட்டவணையின் படி 82 இருக்க கூடிய நிரல் யாது?

ஜனவரி	பெப்ரவரி	மார்ச்	ஏப்ரல்
.....	58

1) பெப்ரவரி

2) ஏப்ரல்

3) மார்ச்

6. ஒரு பொருளின் விலை கிராமமொன்றில் 150 ரூபாவாலும் அதே பொருளை நகரத்தில் 100 ரூபாவுக்கும் வாங்க முடியும். நகரத்திற்கு செல்ல 15 ரூபா செலவாகிறதெனில் அவ்வாறான இரு பொருளை நகரத்திற்கு சென்று வாங்கி வர எவ்வளவு செலவாகும்?

- 1) 215 ரூபா 2) 200 ரூபா 3) 230 ரூபா





7. கீழ் காணும் பிரச்சினையில் முதலில் காட்டப்பட்டுள்ள கூட்டில் உள்ள மூன்று எண்களுக்கு பதிலாக இடக்கூடியது

$$10 + \boxed{6 + 2} = 18$$

- 1) $\boxed{10 - 2}$ 2) $\boxed{12 - 2}$ 3) $\boxed{12 - 12}$

சில இரகசிய குறியீடுகளும் அவற்றிற்குரிய தமிழ் சொற்களும் கீழே தரப்பட்டுள்ளன.

8.  உங்களுக்கு  தம்பி  போனாரா?  இன்று

 ஆகட்டும்  நல்ல  நாள்  பாடசாலை

இதன்படி நல்வாழ்த்து வாக்கியத்தை தெரிவு செய்க.

- 1)  2)  3) 

9. கீழேத் தரப்பட்டுள்ள பாடலை வாசித்து அதன் கீழுள்ள வினாவுக்கு விடை தருக.

காலை எழுந்தவுடன் படிப்பு – பின்பு

கனிவு கொடுக்கும் நல்ல பாட்டு

மாலை முழுதும் விளையாட்டு – என்று

வழக்கப்படுத்துக் கொள்ளு பாப்பா

இப்பாடலில் கூறப்படுவது,

- 1) படிப்பின் முக்கியத்துவம் 2) விளையாட்டின் முக்கியத்துவம் 3) பாலர் பழக்கங்கள்

10. 8m அகலமும் 8m நீளமும் கொண்ட ஒரு சுவருக்கு தீந்தை அடிப்பதற்கான செலவு 1200 ரூபா எனில், 4m நீளமும் 4m அகலமும் கொண்ட சுவருக்கு தீந்தை பூச செலவாகும் தொகையை தருக.

- 1) 600 ரூபா 2) 400 ரூபா 3) 300 ரூபா

11. 4 கம்பித்துண்டுகளை ஒட்டுவதற்கு ரூபா 210 செலவாகிறது. ஏனில் 2 கம்பித்துண்டுகளை ஒட்டுவதற்கு செலவாகும் தொகையைத் தருக.

- 1) 105 ரூபா 2) 70 ரூபா 3) 100 ரூபா

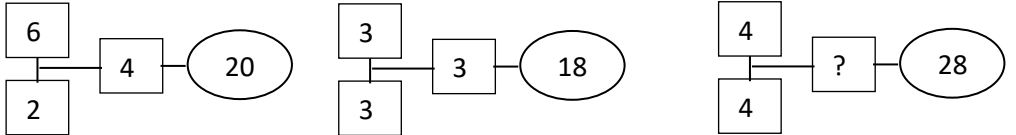
12. ஒரு கொடியில் கட்டப்பட்டிருந்த நிறக் கொடிகளில் 46வது கொடி மஞ்சள் நிறமும், 32வது கொடி நீல நிறமும் 15வது கொடி சிவப்பு நிறமாக இருந்ததெனில் கொடிகளின் நிறங்களை வரிசைப்படுத்துக.

- 1) மஞ்சள், நீலம், சிவப்பு 2) நீலம், மஞ்சள், சிவப்பு 3) சிவப்பு, மஞ்சள், நீலம்

13. ஒரு முக்கோணவடிவ காணித்துண்டைச் சுற்றி தூண்கள் ஊன்றுவதற்கு தீர்மானிக்கப்பட்டுள்ளது. ஒருப்பக்கத்திற்கு 6 தூண்கள் தேவைப்பட்டால் மொத்தமாக தேவைப்படும் தூண்கள் எத்தனை?

- 1) 18 2) 15 3) 16


14. இடைவெளிக்கு வரவேண்டிய இலக்கத்தை தெரிவு செய்க



- 1) 2 2) 3 3) 6

15. இரண்டுக்கு மேற்பட்ட சமச்சீர் கோடுகளைக் கொண்ட உருவைத் தெரிவு செய்க


1)



2)



3)



16. எண் 25 இலிருந்து எத்தனை முறை 5 ஐ கழிக்க முடியும்?

1) 1

2) 3

3) 5



17. பதுளை, ரத்னபுர ஆகிய நகரங்களில் இயற்கை பூங்காக்கள் அதிகரித்து வருவதாக உல்லாசப்பயணிகள் கூறுகின்றனர். இதன்படி அந்நகரங்கள் அமைந்திருக்கும் மாகாணங்கள்,

1) ஊவா, சப்ரகமுவ

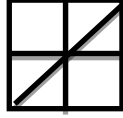
2) நுவரெலிய, ஊவா

3) மேல்மாகாணம், ஊவா

18. வெற்றிடத்திற்கு வரவேண்டிய உரு யாது?




.....



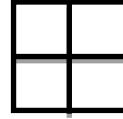
1)



2)



3)



19. ஒரு முக்கோணம் ஒன்றில் எப்போதும் இருக்கக்கூடிய விடயம்

1) சம அளவைக் கொண்ட மூன்று பக்கம்

2) இரு சம அளவைக் கொண்ட மூன்று பக்கம்

3) மூன்று பக்கங்கள் மட்டும்

20. வெற்றிடத்திற்குப் பொருத்தமான சொற்கள்

A	புறா	கிளி
இறால்	மீன்	B

1) தவளை, மைனா

2) நண்டு, மைனா

3) மைனா, கடற்குதிரை

21. நாளை மறுதினம் செவ்வாய்க்கிழமை எனில், நேற்றுக்கு 2 நாட்கள் முந்திய தினம் யாது?

1) வியாழன்

2) சனி

3) செவ்வாய்

22. பின்வரும் வாக்கியங்களை சரியான ஒழுங்கில் எழுதினால் கிடைக்கும் விடை யாது?

1. ஒருவாறு பரீட்சை பெறுபேறு வந்தது.

2. அன்று எனக்கு படபடப்பாக இருந்தது.

3. நான் எதிர்பார்த்தது போலவே சிறந்த புள்ளியை பெற்றதை எண்ணி மகிழ்ந்தேன்

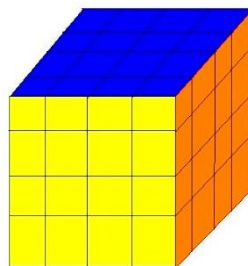
4. ஏனெனில் அன்று பரீட்சை பெறுபேறு வரவிருந்தது.

1) 2, 4, 1, 3

2) 1, 2, 3, 4

3) 4, 2, 3, 1

23. இப்படத்தில் செங்கற்கள் அடுக்கப்பட்டுள்ள விதம் காட்டப்பட்டுள்ளது. இதிலிருந்து 10 செங்கற்கள் அகற்றினால் மிஞ்சும் செங்கற்கள் எத்தனை?



1) 64

2) 52

3) 54

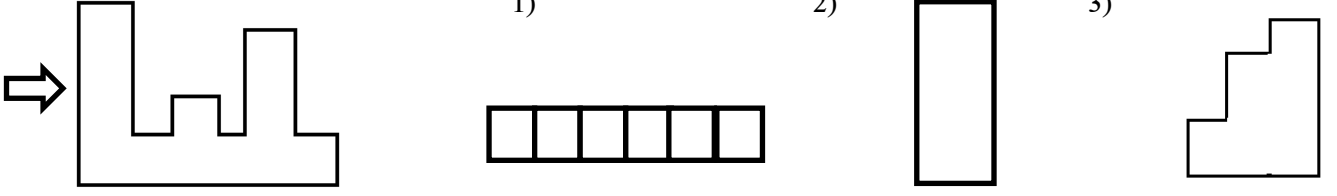
24. ஒரு தாய் அவரின் மகள் ஆகியோரின் நிறை 75Kg ஆகும். மகளின் நிறையானது தாயின் நிறையின் கால் பகுதியாகும். எனின் தாயின் நிறையாக இருக்கக்கூடியது?

1) 15 Kg

2) 55 Kg

3) 60 Kg

25. அம்புக்குறிவழியே இவ்வருவத்தினை நோக்கினால் கண்ணில் படக்கூடிய உரு



26. பலமுறை தோல்விக் கண்ட தோமஸ் அல்வா எடிசன் இறுதியிலே தனது ஆராய்ச்சியில் வெற்றிக்கண்டு மின்குமிழைக் கண்டுப்பிடித்தார். இவ்வாக்கியத்திற்கு பொருத்தமான பழமொழி

1) அடம்பன் கொடியும் திரண்டால் மிடுக்கு

2) முயற்சி திருவினையாக்கும்

3) ஆழமறியாது காலைவிடாதே

27. 'காலை 8.00 மணியிலிருந்து மாலை 4.30 மணிவரை 3 நாட்களுக்கு கண்காட்சி திறக்கப்பட்டிருக்கும்.' குறிப்பு: பகல் போசனத்திற்கென பி.ப 1.00 முதல் 1.45 வரை மூடப்பட்டிருக்கும். இவ்வறிவுறுத்தலின்படி கண்காட்சி நடைபெறும் மொத்த நேரம்

1) 23 மணி 15 நிமிடங்கள்

2) 25 மணி 30 நிமிடங்கள்

3) 23 மணி 25 நிமிடங்கள்

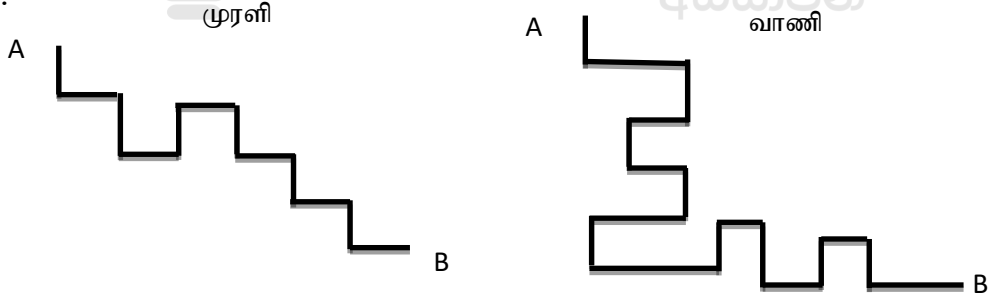
28. தற்போது எனது தந்தையின் வயது 40 வருடங்கள் ஆகும். அதன்படி அவரது அடையாள அட்டை எண்ணாக இருக்கக் முடியாதது

1) 792102161v

2) 802103577v

3) 19802103577v

29. முரளியும் வாணியும் பயணித்த பாதைகள் காட்டப்பட்டுள்ளன. இதன்படி இடப்பக்கத்தில் அதிகமாக திரும்பியவர்.



1) முரளி

2) வாணி

3) கூற முடியாது

30. நான் மாலை நேரத்தில் குளத்தின் வழியே செல்லும் போது அக்குளத்தில் தாமரை பூக்கள் மலர்ந்து மணம் வீசின. இவ்வாக்கியத்தின்படி ஏற்றுக் கொள்ள முடியாத கூற்று,

1) தாமரை மலர்கள் குளத்தில் மலர்வதில்லை.

2) பாதையில் செல்லும் போது குளத்தில் பூத்திருக்கும் பூக்கள்

3) தாமரை பூக்கள் மாலையில் மலர்வதில்லை.

31. குளிப்பான போத்தல்களில் சீனியின் அளவைக் காட்டுவதற்காக தற்போது நிறந்தீட்டப்பட்ட வட்டம் இடப்பட்டுள்ளது. இதன்படி 0 சீனி அளவைக் காட்டும் நிறம்,

1) பச்சை

2) செம்மஞ்சள்

3) சிவப்பு

32. பம்பரம் என்ற சொல்லுக்குப் பதிலாக பயன்படுத்தக் கூடிய குறியீட்டுச் சொல் யாது?

1) 63673

2) 74774

3) 93263

33.



75 ரூபா



110 ரூபா



65 ரூபா

மேலேத் தரப்பட்டுள்ள படங்களின்படி இரண்டு ஆப்பிள்களின் விலை?

1) ரூபா 70

2) ரூபா 60

3) ரூபா 35

34. ஓர் பழக்கடையில் 240 மாம்பழங்கள் வைக்கப்பட்டிருந்தன. அவற்றில் $\frac{4}{8}$ விற்கப்பட்டதன் மிகுதி


மாம்பழங்கள் ரவி, முரளி, கமல் ஆகியோரிடையே சமமாகப் பகிரப்பட்டதெனில் கமலுக்கு கிடைத்த மாம்பழங்கள் எத்தனை?

1) 120

2) 30

3) 40

35.



இவ்வுருவில் அதிகமாகக் காணப்படுவது,

1) வட்டங்கள்


2) செவ்வகங்கள்

3) சதுரங்கள்


36. நான்காக மடிக்கப்பட்ட இக்கடதாசியை முழுவதுமாக விரித்தால் கிடைக்கக்கூடிய படம்?




1)



2)



3)



37. ஒரு தாங்கியின் $\frac{1}{3}$ பகுதி நீர் நிரப்பப்பட்டிருந்தது. இன்னும் 12 லீற்றர் நீர் நிறைத்தால் தாங்கி

நிறைந்துவிடுமெனில் தாங்கியின் கொள்ளளவு யாது?

1) 12 லீற்றர்

2) 18 லீற்றர்

3) 6 லீற்றர்

38. இலங்கையின் தேசிய விளையாட்டில் பங்குபற்றும் வீரர்களின் எண்ணிக்கை?

1) 9 பேர்

2) 6 பேர்

3) 11 பேர்

39. இலங்கையில் பழக்கத்தில் உள்ள நாணயத்தாளில் கையொப்பமிடும் அதிகாரம் உள்ளவர்?

1) ஜனாதிபதி

2) பிரதம மந்திரி

3) நிதியமைச்சர்

40. தற்போது பரவும் தொற்று நோயிலிருந்து பாதுகாப்பு பெற பொருத்தமற்ற விடயம்

1. சமூக இடைவெளியை பேணல்

2. அயலவர்களுடன் மட்டும் விளையாடுதல்

3. அடிக்கடி கைகழுவுதல்.

பயிற்சி வினாப்பத்திரம் இலக்கம் 01
பகுதி 1 விடைகள்

1.	3	21.	1
2.	2	22.	1
3.	3	23.	3
4.	3	24.	3
5.	3	25.	2
6.	3	26.	2
7.	1	27.	1
8.	1	28.	1
9.	3	29.	2
10.	3	30.	1 அல்லது 3
11.	2	31.	1
12.	1	32.	1
13.	2	33.	1
14.	2	34.	3
15.	3	35.	2
16.	3	36.	3
17.	1	37.	2
18.	3	38.	2
19.	3	39.	3
20.	3	40.	2

