



யா/ கொக்குவில் இந்துக் கல்லூரி
முதலாந் தவணைப்பரீட்சை - 2018


தரம் - 07

சித்திரம்

நேரம் :- 2.00 மணித்தியாலம்

பகுதி I

❖ 1 - 5 வரையான வினாக்களுக்கு கீழே தரப்பட்டுள்ள A, B, C, D, E எனும் உருக்களைப் பயன்படுத்தி புள்ளிக்கோட்டில் விடை எழுதுக.



A

B

C

D

E

01. பௌத்த சமயத்துடன் தொடர்புடைய அமைப்பு?
02. சமச்சீர் தன்மையை காட்டும் உரு?
03. முப்பரிமானத் தன்மையை வெளிப்படுத்துவது?
04. அலங்கார உருசை சித்திரிக்கும் அமைப்பு?
05. கிறுக்கல் சித்திரமாக அமைவது?

(5 புள்ளிகள்)

❖ 6 - 10 வரையான வினாக்களுக்கு பொருத்தமான விடையை புள்ளிக் கோட்டில் எழுதுக?

06. புகையின் போக்கை காட்டப்பயன்படும் ரேகை ஆகும்.
07. இலங்கையில் முதல் முதலில் தாது கோபம் கட்டப்பட்டது.
08. இலங்கைத்தாது கோபங்களில் காணப்படும் சதுரகோட்டம் எனும் அமைப்பு இந்திய தாது கோபத்தின் எனும் பகுதிக்கு ஒத்ததாக காணப்படுகின்றது.
09. இந்துக்கோவிலில் சிற்பங்கள் நிறைந்தபகுதி ஆகும்
10. கிறிஸ்தவ தேவாலயக் கிடைப்படம் வடிவம் காணப்படும்

(5 புள்ளிகள்)

❖ 11 – 15 வரையான வினாக்களுக்கு A, B, C, D, E ஆகிய விடைகளில் ஒருத்தமான புள்ளிக்கோட்டில் எழுதுக? (விடைகளை ஆங்கில எழுத்துக்களைப் பயன்படுத்துக)

- | | | |
|-------------------------|-------|---------------------|
| 11. கொலாச் | | A) பொதுவரண |
| 12. பௌத்த மதம் | | B) மினார்த் |
| 13. இஸ்லாம் மதம் | | C) முப்பரிமாணம் |
| 14. கறுப்பு வெள்ளை | | D) தாதுகோபம் |
| 15. நீளம், அகலம், உயரம் | | E) ஒட்டுச்சித்திரம் |


(5 புள்ளிகள்)

❖ 16 – 20 வரையான வினாக்களுக்கு சரியான (✓) எனவும் பிழையாயின் (X) எனவும் அடையாளமிடுக.

- | | |
|--|-----|
| 16. பௌத்தர்களது விசேட தினங்களின் ஒன்று வெசொக் | () |
| 17. ருவான் வெலிசாய மகாதாபி எனவும் அழைக்கப்படுகிறது | () |
| 18. குளிர் வர்ணங்களாக சிவப்பு, மஞ்சள் கருதப்படுகிறது | () |
| 19. புகையின் போக்கை காட்ட அலைரேகை பயன்படும் | () |
| 20. மூலவர்ணங்களை ஒன்றுடன் ஒன்று கலந்தால் கறுப்பு வர்ணம் தோன்றும் | () |

(5 புள்ளிகள்)

❖ 21 – 30 வரையான வினாக்களுக்கு தரப்பட்டுள்ள படத்தினை ஆதாரங்களாகக் கொண்டு விடை தருக.



21. இனம்காண்க.....
22. அனுசரணை வழங்கிய மன்னன்.....
23. காலப்பகுதி.....
24. வடிவம்.....
25. தாதுப்பொருள் யாது?.....



26. இனம்காண்க.....
27. அனுசரணை வழங்கிய மன்னன்.....
28. வடிவம்.....
29. மறுபெயர்.....
30. இங்கு காணப்படும் சினங்கள் 2 தருக.....


(20 புள்ளிகள்)

பகுதி II


பெட்டி ஒன்றிணையும்

பேணி ஒன்றிணையும்

கீழே தரப்பட்டுள்ள அவற்றிற்குரிய இடத்தில் முப்பரிமாணம் வெளிப்படும் வகையில் பென்சிலால் வரைக.



பெட்டி



பேணி

(10 புள்ளிகள்)

- 1) காட்டில் உலாவும் பிராணிகள்
- 2) ஆற்றில் நீராடும் சிறுவர்கள்
- 3) மீனவக்கிராமம்
- 4) பூ, இலை ஆகிய வடிவங்களைப் பயன்படுத்தி சீதைத்துணிக்கான பரவுருவ ஆக்கம்.
- 5) காட்டுன் உருக்களைப் பயன்படுத்தி பரிசுப்பொதி சுற்றும் தாள் ஒன்றினை நிர்மாணிக்குக.

தரம் 01 - 10

3ம் தவணை

REVISION | PAPER DISCUSSION

ஆரம்பம் - 01.12.2024

மீட்டல் மற்றும் வினாத்தாள்
கலந்துரையாடல் வகுப்புகள்

இலங்கையின் எப்பாகத்திலிருந்தும்
இணைந்து கொள்ள முடியும்.

JOIN NOW

புதிய அனுமதிகள்
வழங்கப்படுகின்றன..

கட்டண விபரங்கள்

தமிழ் Medium

தரம் 01-02 2000/=

தரம் 03-05 2500/=

தரம் 06-10 3000/=

English Medium

தரம் 06-07 3500/=



KALVI.LK



WHATSAPP

075 287 1457