



மாகாணக் கல்வித் திணைக்களம்
வடக்கு மாகாணம்
Provincial Department of Education, Northern Province



மூன்றாம் தவணைப் பரீட்சை - 2022 - (2023)

தரம் - 07

சித்திரம் I

நேரம்:
2.00 மணித்தியாலங்கள்

பெயர் / சுட்டெண்

பகுதி - I

- ❖ 01 - 05 வரையான வினாக்களுக்கு கீழே தரப்பட்ட ஒளிப்படத்தைப் பயன்படுத்தி பொருத்தமான விடையை எழுதுக.



01. இத் தாதுகோபம்..... காலத்தைச் சேர்ந்தது.
02. இது எனும் பெயரால் அழைக்கப்படுகிறது.
03. இது பிரதேசத்தில் அமைந்துள்ளது.
04. இத் தாதுகோபத்தினுள் தாதுப்பொருள் வைத்துக் கட்டப்பட்டது.
05. வடிவத்தில் இது அமைக்கப்பட்டுள்ளது. (10 புள்ளிகள்)

- ❖ 06 - 10 வரையான வினாக்களுக்கு மிகப் பொருத்தமான விடையைத் தெரிவு செய்து அதன் கீழ் கோடிடுக.

06. நீல வர்ணத்தின் எதிர் வர்ணம் யாது?
01. சிவப்பு 02. செம்மஞ்சள் 03. ஊதா 04. பச்சை
07. புகையின் போக்கைக் காட்டப் பயன்படும் இரேகை எது?
01. அலைஇரேகை 02. வட்டஇரேகை 03. கிடைஇரேகை 04. சுருள்இரேகை
08. இஸ்லாமியர்களின் வழிபாட்டுத் தலம் எது?
01. கோயில் 02. தேவாலயம் 03. பள்ளிவாசல் 04. தாதுகோபம்
09. கழிவுப்பொருட்களைப் பயன்படுத்தி உருவாக்கப்படும் ஒட்டுச்சித்திரம் எது?
01. கொலாஜ் 02. மொசைக் 03. லைனோகிற்பிக் 04. புனையாஓவியம்
10. இந்து ஆலயங்களில் அதிகளவு சிற்பங்கள் காணப்படும் கட்டட அமைப்பு எது?
01. விமானம் 02. கோபுரம் 03. கற்பக்கிரகம் 04. வசந்தமண்டபம்

(5 புள்ளிகள்)

❖ 11 – 15 வரையான வினாக்களுக்கு மிகப் பொருத்தமான விடையைப் புள்ளிக்கோட்டின் மீது எழுதுக.

11. பொது வர்ணங்கள் எவை?

.....

12. கிறிஸ்தவ தேவாலயங்களின் இரண்டு கட்டட நிர்மாண முறைகளும் எவை?

.....

13. பொம்மலாட்ட வகைகள் இரண்டு தருக.

.....

14. இலங்கையில் காணப்படாத தாதுகோப அண்ட அமைப்புகள் இரண்டு தருக.

.....

15. அபயகிரி தாதுகோப வாசலின் இருமருங்கிலும் காணப்படும் பைரவ வடிவங்கள் இரண்டு தருக.

.....

(10 புள்ளிகள்)

❖ 16 - 20 வரையான வினாக்களுக்கு சரியாயின் (சரி) எனவும் பிழையாயின் (பிழை) எனவும் எழுதுக.

16. வெசாக் பண்டிகை பௌத்த மக்களால் கொண்டாடப்படுகிறது. ()

17. ருவான்வெலிசாய தாதுகோபம் மணி வடிவத்தில் அமைக்கப்பட்டுள்ளது. ()

18. வரலாற்றுக்கு முற்பட்டகால தொறவக்க குகையில் வில்வித்தைக்காரன் எனும் ஓவியம் காணப்படுகிறது. ()

19. குழந்தைகளை படுக்க வைக்க பயன்படுத்தும் பாய் “தடுக்கு” எனப்படும். ()

20. “பிஸ்க பூசா” என்பது ஒரு காட்டுன் பாத்திரம் ஆகும். ()

(5 புள்ளிகள்)

❖ 21 - 25 வரையான வினாக்களுக்குத் தரப்பட்ட ஒளிப்படங்களை அவதானித்து அதன் பெயர்களை புள்ளிக் கோட்டில் எழுதுக.

21.




.....

22.



.....

23.



.....

24.



.....

25.




.....


(10 புள்ளிகள்)

பகுதி - II

➤ கீழே தரப்பட்ட பொருட்களை இரேகை மூலம் வரைந்து ஒளிநிழல் காட்டுக.



தகரப்பேணி



உதைபந்து

(10 புள்ளிகள்)

பகுதி - III

❖ கீழே தரப்பட்ட தலைப்புக்களில் வரைந்து வர்ணம் தீட்டுக.

01. ஆற்றில் நீராடும் சிறுவர்கள்.
02. காட்டில் சுற்றித்திரியும் விலங்குகள்.
03. சீத்தைத் துணிக்கான பரவுருப அலங்காரம்.
04. மேசைவிரிப்புக்கான அலங்காரம்.
05. டெங்கு நோயைத் தடுப்போம் எனும் தலைப்பில் சுவரெட்டி.

(50 புள்ளிகள்)

தரம் 01 - 10

3ம் தவணை

REVISION | PAPER DISCUSSION

புதிய அனுமதிகள்
வழங்கப்படுகின்றன..

கட்டண விபரங்கள்

ஆரம்பம் - 01.12.2024

மீட்டல் மற்றும் வினாத்தாள்
கலந்துரையாடல் வகுப்புகள்

இலங்கையின் எப்பாகத்திலிருந்தும்
இணைந்து கொள்ள முடியும்.

JOIN NOW

தமிழ் Medium

தரம் 01-02 2000/=

தரம் 03-05 2500/=

தரம் 06-10 3000/=

English Medium

தரம் 06-07 3500/=



KALVI.LK



WHATSAPP

075 287 1457