

நல்லூர், யாழ்ப்பாணக் கல்விக்கோட்டம்
இரண்டாம் தவணைப் பரீட்சை - 2015

தரம் : 07

சீத்திரம்

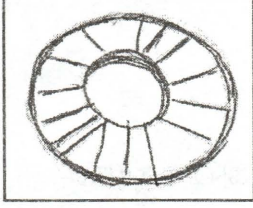
நேரம் :

2.00 மணித்தியாலம்


பெயர் / சுட்டெண் :

பகுதி - I


* கீழே தரப்பட்டுள்ள படத்தை இனங்கண்டு விடை தருக.




A



B



C



D

01. A என்னும் படம் குறிப்பது
1) சந்திரன் 2) வண்டில் சில்லு 3) நட்சத்திரம் 4) சூரியன்
02. யானையை குறியீடாக குறித்து நிற்கும் B படம் காணப்படுவது
1) பில்லவ குகை 2) தொறவக குகை
3) தந்திரி மலை குகை 4) அல்ரா மீரா குகை
03. மனித வடிவத்தினை வெளிப்படுத்தும் C படம் -
1) தொறவக குகை 2) தந்திரி மலை குகை
3) கோகுல் குகை 4) பில்லவ குகை காணப்படுகிறது.
04. D என்னும் படத்தில்
1) மனிதனையும் பிராணியையும்
2) மந்தை மேய்ப்பு தொழிலை
3) மனிதனையும் வாகனத்தையும்
4) இரு மனிதரின் சண்டையை வெளிப்படுத்துகிறது.
05. இக் குறியீட்டு சித்திரங்கள் யாவும்
1) கற்பாறையில் 2) சுவரில் 3) துணியில் 4) மரங்களில்
வரையப்பட்டுள்ளது.

* கீழ்க்கண்ட இடங்களில் பொருத்தமான விடையை தெரிந்து நிரப்புக.

துட்டகைமுனு, தாதுகோபம், சூபராமா, அபயகிரி, தானிய குவியல்

06. இலங்கையில் கட்டப்பட்ட முதல் தாதுகோபம் ஆகும்.
07. சூவான்வலிசாய மன்னனால் கட்டப்பட்டது.
08. வட்டகாமினி அபயன் தாதுகோபத்தை கட்டினான்.
09. புத்தபெருமானின் சாம்பலையும் அவரது பொருட்களையும் வைத்து தாதுகோபம் கட்டப்பட்டது.
10. தானியக்கார என்பது வடிவத்தினைக் குறிக்கும்.

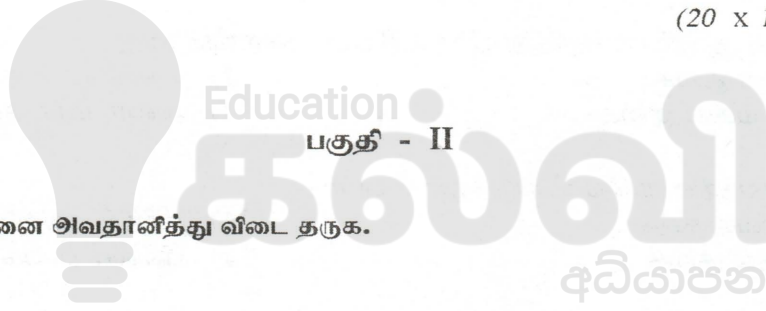
* சரியாயின் (✓) எனவும், பிழையாயின் (✗) எனவும் குறியீடு கீடுக.

11. கேத்திர கணித முறையை பின்பற்றி எழுத்துக்களை தெளிவாக எழுத முடியும். ()
12. சுற்றுறைகளில் எழுத்துக்கள் பல்வேறு மொழிகளில் அமைதல் வேண்டும். ()
13. கோலம் போடுவதற்கு அளவுத்திட்டம் வேலையில்லை. ()
14. வர்த்தக பெயர் பலகையை பிரகாசமான வர்ணங்கள் பாவிப்பதை தவிர்க்க வேண்டும். ()
15. 'பனர்' தெளிவாக செய்தியை கொடுக்க மாட்டாது. ()

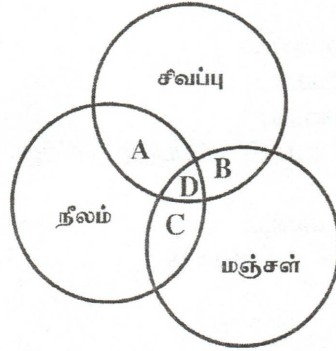
* 16 - 20 வரையுள்ள வினாக்களுக்கு பொருத்தமான விடையளிக்குக.

16. முதல் வர்ணங்கள் எவை?
17. செவ்விளநீர் குலையை வரையும் போது கூடுதலாக பயன்படுத்தும் இரேகை யாது?
18. சித்திரம் ஒன்றை வரைய தேவையான பொருட்கள் எவை?
19. கோல அலங்காரம் பயன்படுத்தப்படும் சந்தர்ப்பம் இரண்டு தருக?
20. பிறையும் நட்சத்திரமும் எம் மதத்தவர்களின் வழிபாட்டு தலத்தில் காணப்படும்?

(20 x 1 = 20 புள்ளிகள்)



அ. பின்வரும் படத்தினை அவதானித்து விடை தருக.



- 1) A என்னும் இடத்தில் வரும் வர்ணம் யாது?
- 2) B என்னும் இடத்தில் வரும் வெப்ப வர்ணம் யாது?
- 3) C என்னும் இடத்தை பிடிக்கும் வர்ணம் யாது?
- 4) கண்ணுக்கு குளிர்ச்சியைத் தரும் வர்ணம் ஒன்று தருக?
- 5) D என்ற இடத்தில் காணப்படும் வர்ணம் எது?

(5 x 2 = 10 புள்ளிகள்)

* உமது பாடசாலையில் இரண்டாம் தவணை கணிப்பீட்டுக்கு நீங்கள் பக்கபுர்ப்பி ஒன்று செய்திருப்பீர்கள். அது தொடர்பான வினாக்களுக்கு விடை தருக.

- 1) இலங்கை தாதுகோபங்களின் வடிவங்கள் ஆறு எவை? (06 புள்ளிகள்)
- 2) இன்று இலங்கையில் காணப்படும் வடிவங்களுக்கு உதாரணம் தருக? (03 புள்ளிகள்)
- 3) இலங்கையில் முதல் கட்டப்பட்ட தாதுகோபம் எது? (01 புள்ளி)

* A என்னும் நிரலை B நிரலுடன் தொடர்புபடுத்துக.

A	B
1) கோலம்	வெளிச்சக்கூடு
2) பௌத்தர்	விளம்பரம்
3) வர்த்தகம்	அச்சுப் பதித்தல்
4) அழைப்பிதழ்	கேத்திர கணித முறை
5) எழுத்துக்கள்	இந்துக்கள்

பகுதி - III

Education

* விரும்பிய தலைப்பினை கீழ் தெரிந்தெடுத்து பூர்த்தி செய்க.

- 1) பாடசாலையில் நடந்த சிரமதானம்
- 2) மாட்டு வண்டிக்காரர்
- 3) வீட்டின் முன் முற்றத்திற்கு பொருத்தமான கோலம் வரைக.
- 4) அன்னையர் தினத்தில் உமது அம்மாவுக்காக வரைந்த வாழ்த்து மட்டை வரைந்து பூரணப்படுத்துக.
- 5) இலை பூக்களைக் கொண்ட சீத்தை துணிக்கான அலங்காரம் வரைக, வர்ணமிடுக.
- 6) வட்ட தட்டிற்கு பொருத்தமான அலங்காரத்தை வரைந்து வர்ணமிடுக.

(50 புள்ளிகள்)



Education

කල්වි

අධ්‍යාපන

தரம் 01 - 10

3ம் தவணை

REVISION | PAPER DISCUSSION

ஆரம்பம் - 01.12.2024

மீட்டல் மற்றும் வினாத்தாள்
கலந்துரையாடல் வகுப்புகள்

இலங்கையின் எப்பாகத்திலிருந்தும்
இணைந்து கொள்ள முடியும்.

JOIN NOW

புதிய அனுமதிகள்
வழங்கப்படுகின்றன..

கட்டண விபரங்கள்

தமிழ் Medium

தரம் 01-02

2000/=

தரம் 03-05

2500/=

தரம் 06-10

3000/=

English Medium

தரம் 06-07

3500/=



KALVI.LK



WHATSAPP

075 287 1457