



வலயக்கல்வி அலுவலகம் - யாழ்ப்பாணம்

இரண்டாம் தவணைப் பரீட்சை - 2018

தரம் - 8

சித்திரம்

நேரம் :- 2.00 மணித்தியாலம்

சுட்டெண் :-

பகுதி - I

❖ கீழே காணப்படும் உருக்களை அவதானித்து 1 - 25 வரையான வினாக்களுக்கு இடைவெளிகளை நிரப்புக.




A



B



C



D



E

- படம் A ஆனது முழங்கை மடிக்கப்பட்டு முன்னோக்கிக் காட்டப்படும் முத்திரையாகும்.
- படம் B ஆனது மட்பாண்ட உற்பத்திக்கு பயன்படும்ஆகும்.
- படம் C ஆனதுஆசனத்தில் அமர்ந்திருக்கும் புத்த வடிவமாகும்.
- படம் D ஆனதுகைப்பணிவேலையைக் காட்டுகிறது.
- படம் E ஆனது இடத்தில் உள்ள குகைச்சித்திரத்தை குறித்து நிற்கின்றது.

❖ சரியான விடையின் கீழ் கீறிடுக.

- சைவத் தமிழ் மக்களிடையே காணப்படும் ஆலயத்துடன் தொடர்புபட்ட சாந்திக்கிரிகை முறை
 - 1) தொவால் மடுவ
 - 2) பஹன் மடுவ
 - 3) தைப்பொங்கல்
 - 4) கும்பாபிஷேகம்
- தாழ் நிலபிரதேசத்தின் காணப்படும் பிரதான சாந்திக்கிரிகை
 - 1) கொஹொம்பகங்காரிய
 - 2) தொவால் மடுவ
 - 3) பஹன் மடுவ
 - 4) மேற்கூறிய எதுவுமல்ல

08. மூல வர்ணங்களை சம அளவில் கலப்பதால் பெறப்படும் வர்ணம்

- 1) கறுப்பு 2) கரும் சிவப்பு 3) கபிலம் 4) ஊதா

09. ஆசனங்களில் பத்மாசனம் பின்வருவனவற்றில் குறிப்பது

- 1) வஜ்ர குறியீடு 2) அல்லிமலர் 3) சிங்கஉருவம் 4) தாமரைமலர்

10. “அநிமிசலோச்சன பூஜாவ” என்று அழைக்கப்படும் முத்திரை

- 1) தர்மசங்கர முத்திரை 3) பரத்துக்கதுக்கித்த முத்திரை
3) பூமிஸ்பரிச முத்திரை 4) தியான முத்திரை

11. பாரம்பரிய மட்பாண்டக் கைத்தொழிலுக்குரிய மூலப்பொருள்

- 1) உருக்கு / இரும்பு 2) மெழுகு 3) பித்தளை 4) களிமண்

12. செவ்வக வடிவடைய ஆசனம்

- 1) பத்மாசனம் 2) பத்திராசனம் 3) வீராசனம் 4) மேற்கூறியது எதுவுமல்ல

13. 17 அடி நீளமான பைசான் எருது வரையப்பட்ட புராதன குகை

- 1) அல்ராமீராக்குகை 2) கோகுல் குகை
3) பொண்டிதகோவே குகை 4) லாஸ்கோ

14. இளைப்பாறும் பைசன் வடிவம், குதிரை வடிவம், பனிமான், காட்டுப் பன்றி போன்ற சித்திரங்கள் காணப்படும் குகை எது?

- 1) லாஸ்கோ 2) அல்ரா மீராக் குகை
3) கோகுல் குகை 4) பொண்டித கோவே குகை

15. பின்வருவனவற்றில் பொது வர்ணங்கள் எவை?

- 1) சிவப்பு, கறுப்பு 2) வெள்ளை, சிவப்பு
3) மஞ்சள், செம்மஞ்சள் 4) கறுப்பு, வெள்ளை

❖ சரியாயின் சரி (✓) எனவும் பிழையாயின் (✗) எனவும் இடுக.

16. லாஸ்கோ குகை பிரான்சில் உள்ளது. ()

17. 12 ஆண்டுக்கு ஒரு முறை கும்பாபிஷேகம் நிகழ்த்தப்படுகிறது. ()

18. இலங்கையில் மகா விகாரை தூபாரமை ஆகும். ()


19. றூவான் வெலிசாய துட்டகைமுனு அரசனால் கட்டப்பட்டதாகும். ()

20. அபயகிரி விகாரைக்கு உத்தர சைத்திய எனவும் அழைப்பர். ()

❖ சுருக்கமான விடை எழுதுக.

21. பண்டைய காலத்தில் சாந்திக் கிரிகைகள் நடத்தப்பட்டமைக்கான காரணம் 01 தருக?
.....
22. இலங்கையின் அழ்வாராச்சியின் போது மட்பாண்டங்கள் கிடைக்கப்பெற்ற இடம் ஒன்று எழுதுக?
.....
23. பாதங்களால் இயக்கப்படும் வளைதல் சில்லினால் உருவாக்கப்படும் பொருள் ஒன்று தருக?
.....
24. தெய்வீக வடிவத்தினுள் அடங்கும் பாரம்பரிய அலங்கார உரு ஒன்று தருக?
.....
25. சிற்பங்களில் முத்திரைகள் பெரும்பாலும் எதன் மூலம் வெளிப்படுத்தப்படுகின்றது?
.....

❖ கீழ்த்தரப்படும் நிழல்ப்படம் தொடர்பாக கேட்கப்படும் வினாக்களுக்கு விடை எழுதுக



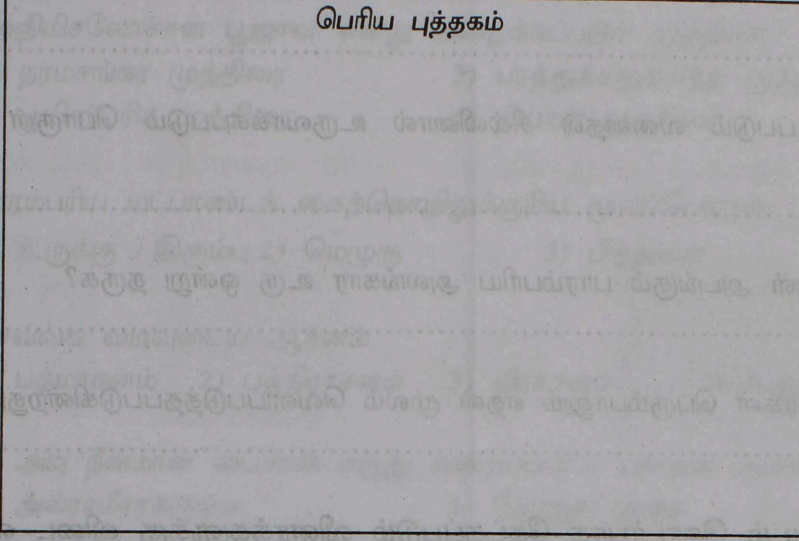
26. இது எந்த குகைச் சித்திரத்துக்குரிய ஓவியத்தை காட்டுகிறது.
27. இது எந்த நாட்டுக்குரிய குகைச்சித்திரம்.
28. இந்த ஓவியத்தின் புற வரைக் கோடு (Outline) எந்த வர்ணத்தால் இடப்பட்டுள்ளது?
29. இந்த ஓவியத்தில் எத்தனை முக்கிய வரைதல் நுட்பங்கள் பயன்படுத்தப்பட்டுள்ளது.
30. இதே போல இலங்கையில் காணப்படும் குகை ஓவியம் ஒன்று எழுதுக?

(30X1 =30 புள்ளிகள்)

பகுதி II


❖ கீழே குறிப்பிடப்படும் பொருட்களை அவற்றின் வடிவம் புலப்படும் வகையில் பென்சிலால் வரைந்து ஒளி நிழல் காட்டுக.

பெரிய புத்தகம்



(10 புள்ளிகள்)

பிளாஸ்டிக் வாளி



(10 புள்ளிகள்)

பகுதி III

❖ பின்வரும் தலைப்புக்களில் ஒன்றினை வரைந்து வர்ணம் தீட்டுக.

- 01) இந்து/ கிறிஸ்தவ/பௌத்த வழிபாட்டுத் தலத்தை வழிபடுவோர்
- 02) இயற்கை அழகை இரசிப்போர்.
- 03) தேசிய சுகந்திர விழா
- 04) தலையணை உறை ஒன்றுக்கான அலங்காரம்
- 05) பூக்கள் , இலை கொடிகளைப் பயன்படுத்தி சேலைக்கரை அலங்காரம்.
- 06) சாரத்தின் கரைப்பகுதி அலங்காரம்.
- 07) பாடசாலை கலை விழா அழைப்பிதழ்.
- 08) சிறுவர் பாடல் அல்லது கதைக்கான சித்திரம்.

2025

1ம் தவணை வகுப்புகள்

தரம் 6 முதல் 11 வரையான
மாணவர்களிற்கான தமிழ் மற்றும் ஆங்கில
மொழிமூல வகுப்புக்கள் ஆரம்பமாகவுள்ளன.

ஆரம்பம் 01.01.2025



இலங்கையின் எப்பாகத்திலிருந்தும்
Zoom app மூலம் எமது வகுப்புகளில்
இணைந்து கொள்ள முடியும்.

அனைத்துப் பாடங்களும் ஒரே கல்வி நிறுவனத்தின் கீழ்...

 Education
கல்வி Kalvi.lk
අධ්‍යාපන



Whatsapp
075 287 1457