

# வலயக்கல்வி அலுவலகம் - யாழ்ப்பாணம்

## முன்றாம் தவணைப் பரீட்சை - 2018

தரம் - 6

செய்முறைத் தொழில் நுட்பத்திறன்

நேரம் :- 2.00 மணித்தியாலம்

சுட்டெண் :- .....

### பகுதி - I

#### ❖ மிகப்பொருத்தமான விடையைத் தெரிவு செய்க.

01. மூடுபடையாக பயிர்செய்யக்கூடிய தாவரங்கள்

- |                            |                                |
|----------------------------|--------------------------------|
| 1) கத்தரி, மிளகாய், வெண்டி | 2) வல்லாரை, நிலக்கடலை, வற்றாளை |
| 3) பூசணி, பாகல், புடோல்    | 4) வாழை, மரவள்ளி, இரசவள்ளி     |

02. அலங்காரமான இலைத் தாவரங்கள்

- |                                    |                                  |
|------------------------------------|----------------------------------|
| 1) சீனியாஸ், அந்தூரியம், ஒக்கிட்டு | 2) மணிவாழை, அலாமந்தா, ஜொப்ரா     |
| 3) கோலியாஸ், சேம்பு, குரோட்டன்     | 4) போகன்விலா, டெய்லியா, ஜெரனியம் |

03. வீட்டுத்தோட்டத்திற்கு வண்ணாத்துப் பூச்சிகளை வரவழைக்க பயிரிடப்படும் பூப்பயிர்

- |              |                |             |                |
|--------------|----------------|-------------|----------------|
| 1) செவ்வந்தி | 2) சூரியகாந்தி | 3) பாலோலியா | 4) பாத்தீனியம் |
|--------------|----------------|-------------|----------------|

04. நாற்றுக்களை சாடிக்கு சாடி மாற்ற வேண்டிய சந்தர்ப்பங்களில் பொருத்தமற்றது.

- |   |  |
|---|--|
| 1) தாவரவேர் சாடிக்கு வெளிவரும் போது           | 2) தாவரங்கள் வளர்ப்பதற்கு சாடியில் இடவசதி இல்லாத போது          |
| 3) தாவரம் இலைத்தளிர்களுடன் நன்றாக வளரும் போது | 4) பசளைகளை உபயோகித்த போதும் தாவரங்கள் வளர்ச்சியை காட்டாத தன்மை |

05. வீட்டுத்தோட்ட மண்ணை தூர்வையாக்கும் செயற்பாட்டை செய்யும் பிராணி

- |        |            |             |            |
|--------|------------|-------------|------------|
| 1) எலி | 2) மண்புழு | 3) களவொத்தா | 4) எறும்பு |
|--------|------------|-------------|------------|

06. துண்டாக்க அல்லது வேறாக்க பயன்படும் உபகரணம் அல்லாதது

- |                  |                         |
|------------------|-------------------------|
| 1) வெட்டும் உளி  | 2) தகடு வெட்டும் கத்தரி |
| 3) பற்றாசுக்கோல் | 4) கைக்குறடு            |

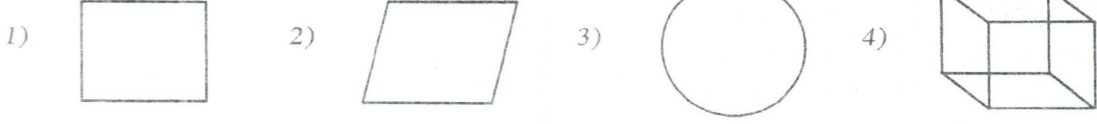
07. உணவுக்கூம்பகத்தின்படி குறைவாக உட்கொள்ள வேண்டிய உணவு வகை?

- |                               |  |
|-------------------------------|--|
| 1) தானியங்கள், கிழங்கு வகைகள் | 2) பழவகைகள்                              |
| 3) கொழுப்பும் சீனியும்        | 4) மீன், முட்டை, இறைச்சி, பருப்பு வகைகள் |

08. நாம் உயிர்வாழத் தேவையானவை (அவசியமானவை)

- |            |                 |              |            |
|------------|-----------------|--------------|------------|
| 1) தேவைகள் | 2) விருப்பங்கள் | 3) பொருட்கள் | 4) சேவைகள் |
|------------|-----------------|--------------|------------|

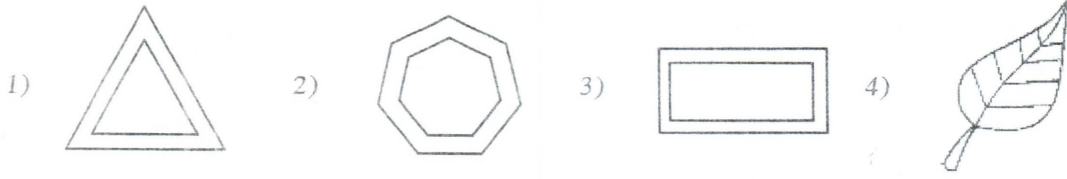
09. நீளம், அகலம், உயரம் கொண்ட உருவம்



10. உணவு பழுதடைதலில் செல்வாக்கு செலுத்தும் பெளதீக காரணி

- 1) ஈஸ்ட் 2) வெப்பநிலை  
3) பூஞ்சனம் 4) பற்றீரியா

11. பின்வருவனவற்றில் முறைசார வடிவம் யாது?



12. போசணைத் தரம் கொண்ட புதிய மீனின் இயல்புகளில் ஒன்று

- 1) விரலால் அழுத்தும் போது குழி விழுதல்  
2) பிரகாசமற்ற கண்  
3) பிரகாசமான கண்  
4) வாலில் பிடித்துத் தூக்கும் போது வளைதல்

13. வீட்டுத் தோட்டப் பயிர்களில் காணப்படும் நோய்ப்பீடைகளைப் புகையூட்டல் மூலம் கட்டுப்படுத்தப்படும் பொருள்

- 1) மரமுந்திரிகைகளின் மேற்றோல் 2) பழைய குப்பைக்கூளங்கள்  
3) வைக்கோல் 4) பொச்ச மட்டை

14. இலாப நோக்கமற்ற நிறுவனங்களில் ஒன்றாக கொள்ளத்தக்கது

- 1) நீதிமன்றங்கள் 2) தனியார் வைத்திசாலை  
3) நவீன சந்தைத் தொகுதி 4) வர்த்தக வங்கிகள்

15. சந்தையில் காணப்படும் தயாரிக்கப்பட்ட உணவிற்கு உதாரணமாக அமைவது

- 1) நூடில்ஸ் 2) தேயிலை 3) அரிசிமா பைக்கற் 4) குரக்கன்

16. இயற்கைப் பீடை நாசினி

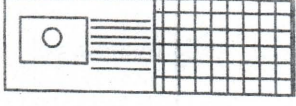
- 1) யூரியா 2) குளோரின்  
3) புகையிலைச்சாயம் 4) கிரமக்கோன்



17. ஸ்டென்சில் உருவாக்கப் பயன்படுவது

- 1) மெல்லிய கடதாசி மட்டை
- 2) கண்ணாடித்துண்டுகள்
- 3) எக்ஸ்ரே கடதாசி
- 4) A3 கடதாசி

18.



பின்வரும் பயன்பாட்டில் உள்ள குறியீடு?

- 1) சமையல் அறைச் சுவர்
- 2) சமையல் அறை யன்னல்
- 3) சமையலறைக் கதவு
- 4) உணவு சமைப்பதற்கு முன் தயாரிக்கும் அலகு

19. சுட்டுத்துண்டில் காணப்படாதது

- 1) உள்ளடங்கியுள்ள பொருளின் நிறை
- 2) உணவின் சுவை
- 3) பல்வேறு தரச் சான்றிதழ்கள்
- 4) போசணை தொடர்பான விபரங்கள்

20. பற்றாசுக் கோலின் முனை எவற்றால் ஆக்கப்பட்டுள்ளது?

- 1) செப்பு உலோகம்
- 2) வெண்கலம்
- 3) இரும்பு
- 4) நாகம்

(20x1=20 புள்ளிகள்)

Education

பகுதி I

❖ முதலாம் வினா உட்பட ஏனையவற்றில் இரண்டு வினாக்களைத் தெரிவு செய்து எல்லாமாக மூன்று வினாக்களுக்கு விடை தருக.

01.

- 1) செய்முறைத்தொழிநுட்ப பாடத்தில் செய்த கணிப்பீட்டின் வகை யாது?
- 2) அவற்றுக்கு நீங்கள் பயன்படுத்திய உபகரணங்களையும் பொருட்களையும் பட்டியல் படுத்துக.
- 3) செயற்பாட்டில் நீர் பெற்ற அனுபவங்கள் எவை?
- 4) செயற்பாட்டின் போது உமக்கு ஏற்பட்ட இடர்ப்பாடுகள் எவை?

(1+3+3+3=10 புள்ளிகள்)

02.

- 1) வீட்டுத்தோட்டத்திற்கு வரும் விருந்தினர்கள் மூன்றைக் குறிப்பிட்டு அவை வாழக்கூடிய இடங்களையும் தருக?
- 2) பாடசாலைத் தோட்டத்திற்கு வரும் உயிரினங்களால் ஏற்படும் நன்மைகள் நான்கு தருக?
- 3) வீட்டுத்தோட்டத்திற்கு வரும் விருந்தாளரை உபசரிக்கும் முறைகள் இரண்டு தருக?

03.

- 1) உணவு பழுதடைவதில் செல்வாக்குச் செலுத்தும் காரணிகள் எவை?
- 2) உணவைப் பாதுகாக்கும் முறைகள் நான்கு தருக?
- 3) உணவை நீண்ட காலம் வைத்திருக்க பின்பற்றக்கூடிய எளிய முறைகள் இரண்டினை உதாரணத்துடன் தருக?

04.

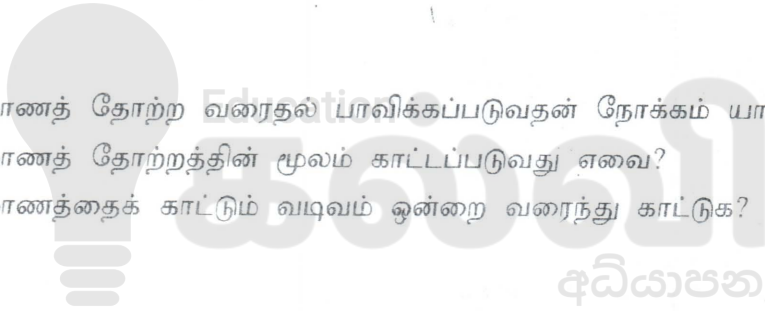
- 1) அலங்கார கேக் பொதியொன்றினை செய்வதற்குத் தேவையான பொருட்கள் உபகரணங்களைத் தருக?
- 2) அலங்கார கேக் பொதியொன்றிற்கான படத்தை வரைந்து நிறம் தீட்டுக.?
- 3) குண்டுசி தாங்கி செய்வதற்குத் தேவையான பொருட்கள், உபகரணங்கள் எவை?

05.

- 1) சுயதொழில் முயற்சிகள் மூலம் மனிதன் பெறும் அனுகூலங்கள் மூன்று தருக?
- 2) முதலீடு செய்வதற்கு ஏற்ற நிறுவனங்கள் மூன்று தருக?
- 3) மூலப்பொருள் செலவைக் குறைத்துக் கொள்ளக்கூடிய முறைகள் இரண்டு தருக?

06.

- 1) முப்பரிமாணத் தோற்ற வரைதல் பரவிக்கப்படுவதன் நோக்கம் யாது?
- 2) முப்பரிமாணத் தோற்றத்தின் மூலம் காட்டப்படுவது எவை?
- 3) முப்பரிமாணத்தைக் காட்டும் வடிவம் ஒன்றை வரைந்து காட்டுக?



தரம் 01 - 10

# 3ம் தவணை

REVISION | PAPER DISCUSSION

ஆரம்பம் - 01.12.2024

மீட்டல் மற்றும் வினாத்தாள்  
கலந்துரையாடல் வகுப்புகள்

இலங்கையின் எப்பாகத்திலிருந்தும்  
இணைந்து கொள்ள முடியும்.

JOIN NOW

புதிய அனுமதிகள்  
வழங்கப்படுகின்றன..

கட்டண விபரங்கள்

தமிழ் Medium

தரம் 01-02 2000/=

தரம் 03-05 2500/=

தரம் 06-10 3000/=

English Medium

தரம் 06-07 3500/=



Education

கல்வி  
අධ්‍යාපන

KALVI.LK



WHATSAPP

075 287 1457