


மாகாணக் கல்வித் திணைக்களம் -வடக்கு மாகாணம்
முதலாம் தவணைப் பரீட்சை-2019
கணிதம்

தரம்- 2

பெயர்.....

(1) வகைப்படுத்தி வரைக







(2) தொடர்புபடுத்துக



Education

கல்வி

අධ්‍යාපන



கூடுதலாக உள்ளது?.....


(3) அடுத்து வரும் உருவை வரைக



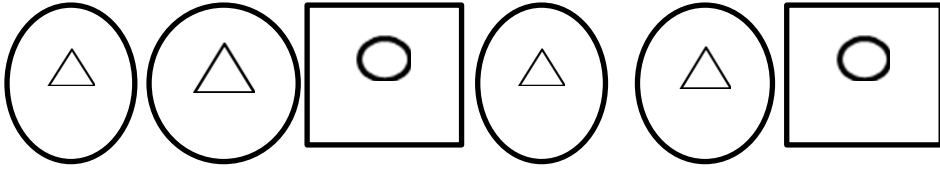
.....



.....



.....



.....



.....

(4) கூட்டுக

$$\begin{array}{r} 5 \\ 2 \\ \hline \end{array}$$

$$\begin{array}{r} 7 \\ 2 \\ \hline \end{array}$$

$$\begin{array}{r} 4 \\ 3 \\ \hline \end{array}$$

$$\begin{array}{r} 8 \\ 1 \\ \hline \end{array}$$

$$\begin{array}{r} 5 \\ 3 \\ \hline \end{array}$$

$$\begin{array}{r} 6 \\ 3 \\ \hline \end{array}$$

$$\begin{array}{r} 4 \\ 4 \\ \hline \end{array}$$

$$\begin{array}{r} 5 \\ 4 \\ \hline \end{array}$$

$$\begin{array}{r} 6 \\ 1 \\ \hline \end{array}$$

$$\begin{array}{r} 6 \\ 2 \\ \hline \end{array}$$

(5) கழித்தல்

$$5-2= \underline{\quad}$$

$$8-4= \underline{\quad}$$

$$6-2= \underline{\quad}$$

$$5-1= \underline{\quad}$$

$$9-5= \underline{\quad}$$

$$8-3= \underline{\quad}$$

$$9-6= \underline{\quad}$$


$$8-5= \underline{\quad}$$

$$7-2= \underline{\quad}$$

(6) தொடர்புபடுத்துக

பதினைந்து	19
பதினேழு	16
ஒன்பது	18
பதினெட்டு	9
பதினாறு	15
பத்தொன்பது	17

(7) எண்ணிற்கேற்ப படம் வரைக



12



13

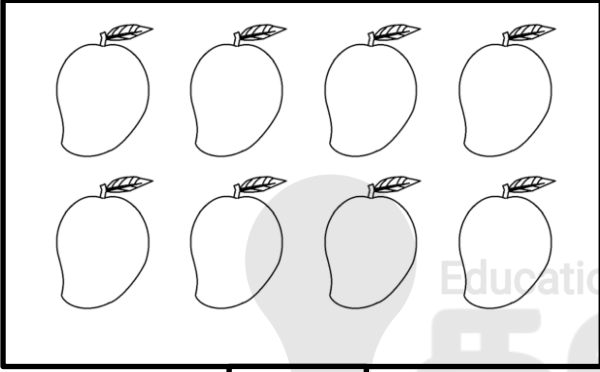
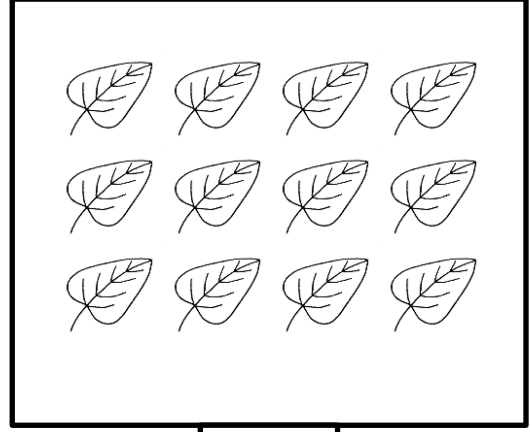



18



8

(8) எண்ணி இலக்கம் எழுதுவோம்



(9) எண்பெயரை எழுதுக

8 -

10 -

13 -

15 -

20 -