

யாழ்ப்பாணம் இந்துக் கல்லூரி

முதலாம் தவணைப் பரீட்சை

தரம் : 07

சித்திரம்

நேரம் : 2 மணி


இவ்வினாத்தாள் மூன்று பகுதிகளைக் கொண்டது

பகுதி I

எல்லா வினாக்களுக்கும் விடை தருக.

இல 1-5 வரை கீழே தரப்பட்டுள்ள தாது கோபத்தை இனங்கண்டு அது தொடர்பாக கேட்கப்படும் வினாக்களுக்கு பொருத்தமான விடையைத் தெரிந்து அதன்கீழ் கோடிடுக.

1)



1) புகழ்பெற்ற இத்தாது கோபத்தின் பெயர் என்ன?

1. அபயகிரி
2. றாவான் வெளிசாய
3. நற்கொத்
4. தூபராம

2) இது கி.மு 3ம் நூற்றாண்டில் எந்த அரசனால் கட்டுவிக்கப்பட்டது

1. தூட்டகைமுனு
2. வலகம்பாகு
3. தேவனம்பியதீசன்
4. தாதுசேனன்

3) இத்தாதுகோபம் மணிவடிவமாக எந்த ஆண்டு மாற்றியமைக்கப்பட்டது

1. 1842
2. 1841
3. 1823
4. 1853

4) இத்தாது கோபத்தை சுற்றுவர எத்தனை தூண்கள் காணப்பட்டன

1. 90
2. 68
3. 85
4. 88

5) தாதுகோபத்துக்குரிய வட்டதாகே எந்த அரசனால் கட்டப்பட்டது

1. தேசவநம்பியதீசன்
2. இலஞ்சதிஸ்ஸ
3. தூட்டகைமுனு
4. சத்தாதிஸ்ஸன்

6 - 15 வரையான வினாக்களுக்குப் பொருத்தமான விடையைத் தெரிவித்து அதன்கீழ் கோடிடுக

6) தாய் வர்ணம் எனப்படுவது

1. சிவப்பு, மஞ்சள், பச்சை
2. சிவப்பு, நீலம், ஊதா
3. நீலம், சிவப்பு, மஞ்சள்
4. பச்சை, நீலம், செம்மஞ்சள்

7) சிவப்பு, நீலம், மஞ்சள் மூன்றையும் கலப்பதன் மூலம் பெறப்படும் வர்ணம்

1. சாம்பல்
2. ஊதா
3. கபிலம்
4. கறுப்பு

8) கடலைக் காட்ட பயன்படுத்தும் இரேகை

1. கிடை இரேகை
2. சாய்வு இரேகை
3. அலை இரேகை
4. கோண இரேகை

- 9) வலகம்பா என அழைக்கப்படும் மன்னன்
1. தாதுசேனன்
 2. வட்டகாமினி அபயன்
 3. தேனம்பியதீஸ்ஸ
 4. பராக்கிரமபாகு
- 10) போத்துக்கேயர் எத்தேவாலயங்களை நிர்மானிப்பதில் முன்னோடியாகத் திகழ்ந்தார்கள்?
1. தாதுகோபங்கள்
 2. கிறிஸ்தவ
 3. இந்து
 4. மசூதி
- 11) உருவம் ஆக்குவதற்கு இலகுவான ஊடகம்
1. சவர்க்காரம்
 2. மென்களி
 3. கல்
 4. மரம்
- 12) றூவான் வெலிசாயாவின் வடிவம்
1. மணி
 2. நெற்குவியல்
 3. நீர்க்குமிழி
 4. பாணை
- 13) தாதுகோபத்தின் அமைப்பில் கர்மிகா என்பது
1. அண்டம்
 2. சதுரக்கோட்டம்
 3. கொத்த
 4. தேவதாவெட்டுவ
- 14) இந்து சமயக் கட்டிடத்தின் பிரதான அம்சம்
1. கோயில்
 2. தூண்கள்
 3. கோபுரம்
 4. மூலஸ்தானம்
- 15) துடிக்கை வாய்விட்டுத் தட்டிப் பயன்படுகின்ற அரங்கங்கள்
- 1) இயல்பு, லைக்கன் 2) கடிப்புவெள்ளை 3) உண்டி மசூதி 4) இயல்பு, வட்டம்
- 16 - 25 வரையான வினாக்களுக்கு சுருக்கமான விடையினைத் தருக
- 16) இந்துசமயக் கட்டிடங்களில் காணப்படும் நந்தியின் உருவம் என்ன ஊடகத்தால் ஆக்கப்படுகின்றது.

.....

17) பள்ளிவாசலின் சுவர்களிலும் சாளரங்களிலும் எழுதப்பட்டிருப்பவை என்ன

.....

18) தைப்பொங்கல் எவ்வாறான விழாவாகக் காணப்படுகின்றது.

.....

19) நம்சான் பெருநாள் எப்போது கொண்டாடப்படுகிறது

.....

20) நத்தார் என்ற சொல் எந்த நாட்டுச் சொல்லாகும்?

.....

21) தாதுகோபத்தின் உள் வைத்துக் கட்டப்பட்டிருக்கும் பொருள் என்ன?

.....

22) பாரம்பரிய அலங்கார வடிவத்தில் தாமரை இதழ் வடிவத்தைக் கொண்ட அலங்கார வடிவத்தின் பெயர் என்ன?

.....

23) மினார் என அழைக்கப்படுவது எது?

.....

24) ரூவான் வெலிசாய மருவில் காணப்படும் மூன்று சிலைகளின் பெயர்களைக் குறிப்பிடுக.

.....

25) அநுராதபுரத்திலுள்ள ஒருதாது கோபத்திற்கு யானை மதிலைக்கட்டி வெள்ளையடித்து பூர்த்தி செய்த மன்னன் யார்

26 - 30 வரையான வினாக்களுக்கு சரியாயின் சரி எனவும் பிழையாயின் பிழை எனவும் குறிக்கவும்

26) இந்துசமயக் கொடியில் காணப்படும் வடிவம் ரிஷபம் ()

27) கிராமங்களில் புத்தரை மையமாக வைத்து வெசாக் விழா கொண்டாடப்படுகிறது. ()


28) பச்சை, நீலம், ஊதா ஆகியவண்ணங்கள் குளிர் வர்ணங்களாகும். ()

29) துட்கைமுனுவின் சகோதரன் ஜடாதிஸ்னாவான் ()

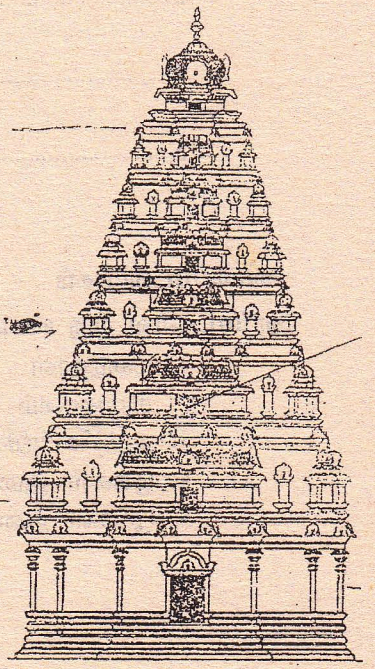
30) 7 கி.மு 1ஆம் நூற்றாண்டில் அபயகிரி கட்டப்பட்டது. ()

(30புள்ளிகள்)

கீழ் தரப்பட்டுள்ள படங்களை சிவதானித்து பொருத்தமான உருவங்களை இனங்கண்டு தொடர்புபடுத்துக.



கீழ் காட்டப்பட்டுள்ள நிற்படம் தொடர்பாக தரப்பட்டுள்ள வினாக்களுக்கு சுருக்கமான விடை தருக.



1. இக்கட்டிடத்தின் பிரதான அம்சம் எது?
.....
2. இக்கட்டிடம் எச் சிறப்புப் பெயர் கொண்டு அழைக்கப்படும்?
.....

3. இந்துசமயக் கொடியில் காணப்படும் குறியீட்டு வடிவம் என்ன?

4. இந்துசமயத்தவர்களின் பிரதான மூன்று ஆலயங்களை தருக?

5. மூன்று ஆலயங்களின் முழுமுதற் கடவுளின் பெயரை குறிப்பிடுக?

பகுதி II

இப்பகுதியிலுள்ள முதலாம் வினா கட்டாயமானது ஏனையவற்றில் இருந்து இருவினாக்களை தெரிவு செய்து மொத்தம் மூன்று வினாக்களுக்கு விடை தருக.

01)

1. நீங்கள் கணிப்பீட்டிற்காக செய்த ஒப்படை என்ன?

2. நீர் தெரிவு செய்த வழிபாட்டுத் தலங்களைக் குறிப்பிடுக.

3. தெரிவு செய்த வழிபாட்டுத் தலங்களில் வரலாற்று சிறப்பம்சங்களை குறிப்பிடுக.

1. இந்து :

2. பௌத்த :

4. இக் கணிப்பீட்டின் மூலம் நீர் பெற்றுக்கொண்ட அனுபவங்களைக் குறிப்பிடுக.

(10புள்ளிகள்)

02) அபயகிரி விகாரை பற்றி 5 சுருக்கமான குறிப்புக்கள் தருக.

1.

2.

3.

4.

5.

பகுதி II

வண்ணப்படவாக்கம்

தரப்பட்ட உள்ள ஒரு விடயத்தினைத் தெரிவு செய்து அதனை வண்ணப் படவாக்கமாக யூர்த்தி செய்க

1. மழைநாள்

2. சிரமதானம்

3. ஆற்றில் நீர் அருந்தும் பிராணிகள்

4. பூக்கள் இலைகளைப் பயன்படுத்தி ஒரு கதவுச்சீலை (ஸ்கேட்டின்)

5. பூக்கள் இலைகளைப் பயன்படுத்தி சீத்தை துணி அலங்காரம்

தரம் 01 - 10

3ம் தவணை

REVISION | PAPER DISCUSSION

ஆரம்பம் - 01.12.2024

மீட்டல் மற்றும் வினாத்தாள்
கலந்துரையாடல் வகுப்புகள்

இலங்கையின் எப்பாகத்திலிருந்தும்
இணைந்து கொள்ள முடியும்.

JOIN NOW

புதிய அனுமதிகள்
வழங்கப்படுகின்றன..

கட்டண விபரங்கள்

தமிழ் Medium

தரம் 01-02 2000/=

தரம் 03-05 2500/=

தரம் 06-10 3000/=

English Medium

தரம் 06-07 3500/=



KALVI.LK



WHATSAPP

075 287 1457