

# நல்லூர், யாழ்ப்பாணம்

முதலாம் தவணைப் பரீட்சை - 2014

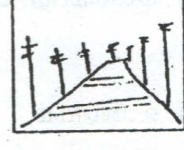

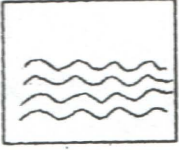
தரம் - 07

சித்திரம்

நேரம்- 2.00 மணித்தியாலயம்

பகுதி அ

1) 1 - 5 வரை கீழே தரப்பட்ட A, B, C, D, E எனும் உருவை தெரிந்து அதனை குறிக்கும் ஆங்கில எழுத்தை புள்ளிக்கோட்டின் மீது எழுதுக.



1) கிறுக்கல் சித்திரம் என அழைக்கப்படுவது.....

2) தூரதரிசனத்தைக் காட்டுவது.....

3) அலையின் அசைவைக் காட்டுவது.....

4) பரவுருப சித்திரமாக அமைவது.....

5) சமச்சீர்ற்ற தன்மையைக் காட்டுவது.....

2) 6 - 10 வரையான வினாக்களுக்கு பொருத்தமான விடையினை அடைப்புக்குறிக்குள் இருந்து தெரிந்தெடுத்து எழுதுக.

(சமாந்தர ரேகை, மொனோ அச்சு, பரவுருசித்திரம், கோபுரம், துட்டகைமுனு)

6) ருவன்வெலிசாய தாதுகோபம்.....மன்னனால் கட்டப்பட்டது.

7) தனியொரு பிரதி மட்டும் பெறப்படும் முறை..... ஆகும்.

8) சைவ ஆலயங்களில் சிற்ப வேலைப்பாடுகள் அதிகம்..... பகுதியில் காணப்படுகின்றது.

9) அலங்காரமொன்றினை யாதேனுமொரு ஒழுங்கு முறையில் வரைவது..... எனப்படும்

10) புகை வண்டிப்பாதையைக் காட்ட.....ரேகை பயன்படும்.

தரம் - 07

1

சித்திரம்

3) தொடர்பு படுத்துக.

- |                      |                  |
|----------------------|------------------|
| 11) கொலாச்           | வார்த்தல்        |
| 12) நீளம், உயரம்     | தூரதரிசனம்       |
| 13) கறுப்பு, வெள்ளை  | ஒட்டுச்சித்திரம் |
| 14) மின்கம்பத் தொடர் | இருபரிமாணம்      |
| 15) உலோகம்           | போது வர்ணங்கள்   |

4) 16 - 20 வரையான வினாக்கள் சரியாயின் சரி (✓) எனவும் பிழையாயின் பிழை (x) எனவும் அடையாளமிடுக.

- 16) பௌத்தர்களின் விசேட தினங்களிலொன்று வெசாக் ஆகும் ( )
- 17) மூல வர்ணங்களை ஒன்றுடனொன்று கலக்கும் போது கறுப்பு வர்ணம் பெறப்படும் ( )
- 18) ருவன்வெலிசாய மகாதாபி எனவும் அழைக்கப்படுகின்றது. ( )
- 19) குளிர்வர்ணங்கள் சிவப்பு, மஞ்சள் என்பனவாகும் ( )
- 20) புகையின் போக்கை காட்ட சுருள்ரேகை பயன்படும் ( )

(20x 1=20 புள்ளிகள்)

பகுதி ஆ

எல்லா வினாக்களுக்கு விடை தருக.

1) நீர் கணிப்பீட்டிற்காக ஒப்படையொன்று தயாரித்திருப்பீர்

அ) எவ்விடயம் தொடர்பாக ஒப்படை தயாரித்தீர்

ஆ) நீர் அறிந்து கொண்ட இந்து சமய கட்டட அமைப்புக்களை குறிப்பிடுக.

.....  
.....  
.....

இ) பள்ளிவாசலின் இருப்பக்கங்களிலும் காணப்படும் நீண்ட தூண்கள் எவ்வாறு அழைக்கப்படும்?


.....

ஈ) தூபிகளின் வடிவங்கள் 3 தருக.

.....

(10 புள்ளிகள்)

2)



அ) இத் தாது கோபத்தின் பெயர்

ஆ) இதை கட்டிய மன்னன்

இ) இதன் தற்போதைய வடிவம்

ஈ) இதன் உயரம்

உ) இது கட்டப்பட்ட காலம்

(10 புள்ளிகள்)

3) சுருக்கமான விடை தருக.

அ) மூலவர்ணங்கள் எவை?

.....

ஆ) குளிர்வர்ணங்கள், வெப்பு வர்ணங்களை வகைப்படுத்துக.

.....

இ) பொது வர்ணங்கள் எவை?

.....

ஈ) சிவப்பு வர்ணத்தின் எதிர் வர்ணம் எது?

.....

உ) வர்ண வலம் சாயல் என்றால் என்ன?

.....

(10 புள்ளிகள்)

பகுதி இ

பின்வருவனவற்றுள் ஒன்றைத் தெரிந்து வரைந்து வர்ணத்தீட்டுக.

- 1) பட்டம் விடும் சிறுவர்கள்
- 2) சிரமதானம் செய்வோர்
- 3) மாலைக் காட்சி
- 4) மேசைச் சேலைக்கான அலங்காரம்
- 5) சீத்தைத் துணிக்கான அலங்காரம்

(50 புள்ளிகள்)

# 2025

## 1ம் தவணை வகுப்புகள்

தரம் 6 முதல் 11 வரையான  
மாணவர்களிற்கான தமிழ் மற்றும் ஆங்கில  
மொழிமூல வகுப்புக்கள் ஆரம்பமாகவுள்ளன.

ஆரம்பம் 01.01.2025



இலங்கையின் எப்பாகத்திலிருந்தும்  
Zoom app மூலம் எமது வகுப்புகளில்  
இணைந்து கொள்ள முடியும்.

அனைத்துப் பாடங்களும் ஒரே கல்வி நிறுவனத்தின் கீழ்...



Education

கல்வி Kalvi.lk  
අධ්‍යාපන



Whatsapp

075 287 1457