

யா/கரவெட்டி மாணிக்கவாசகர் வித்தியாலயம்.


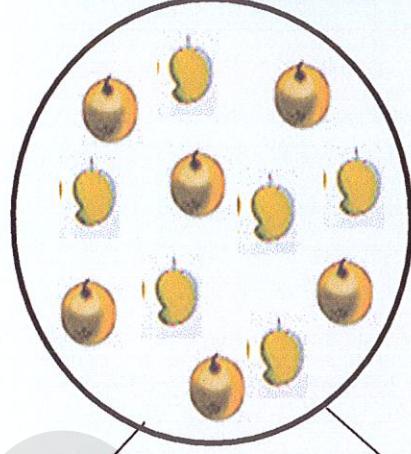
முதலாம் துவணைப் பரீட்சை 2021

குரம் - 1

கணிதம்



நேரம்-1.00மணி

1. வேறுபடுத்துக.



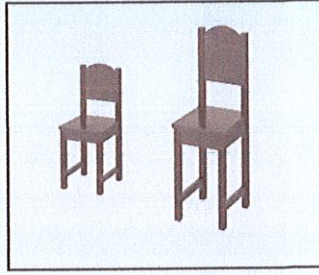
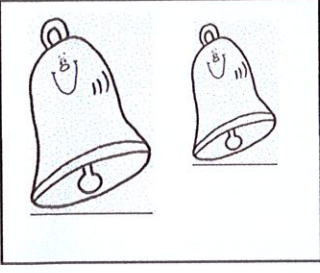
(20 புள்ளிகள்)

2. பெரிய உருவின் கீழ்க் கோட்டுக.



(10 புள்ளிகள்)

3. சிறிய உருவின் கீழ் கோடு வரையுங்கள்.



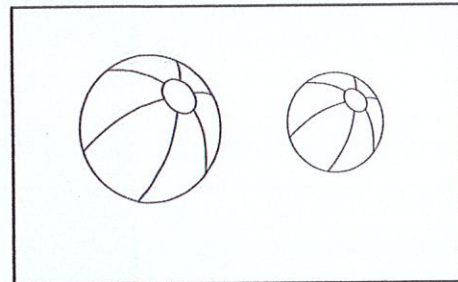


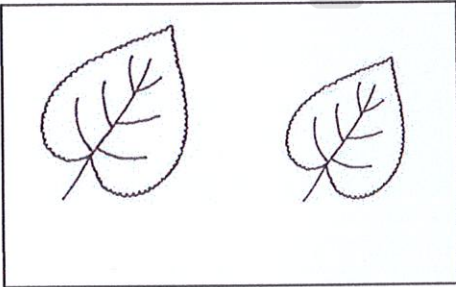
(10 புள்ளிகள்)

4. ஒன்றுடன் ஒன்று இணையுங்கள்.



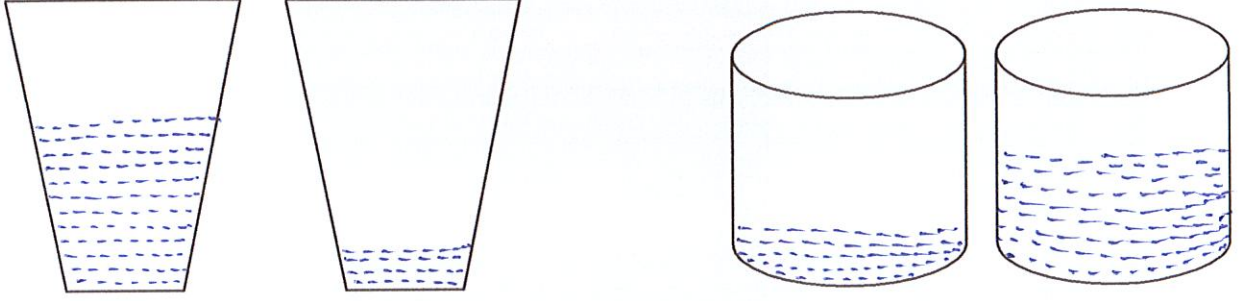
(10 புள்ளிகள்)

5. பெரிய உருவிற்கு நிறம் தீட்டுக.



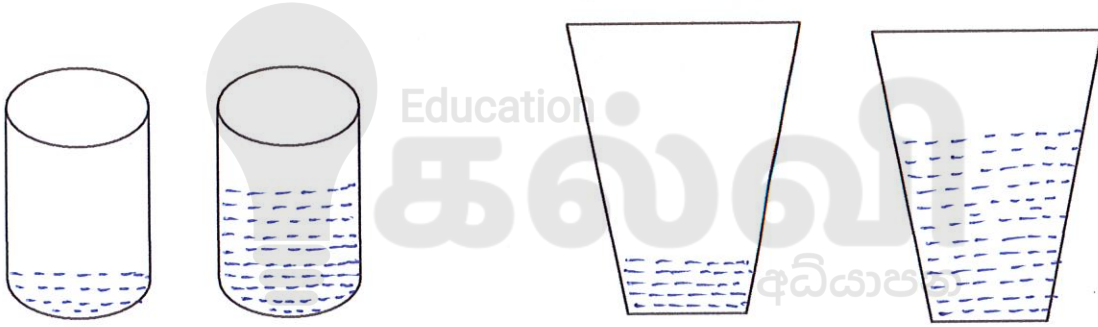
(20 புள்ளிகள்)

6. அதிகளவு நீர் கொள்ளும் பாத்திரத்தின் கீழ்க் கோடிடுக.



(15 புள்ளிகள்)

7. குறைந்தளவு நீர் கொள்ளும் பாத்திரத்தின் கீழ்க் கோடிடுக.



(15 புள்ளிகள்)