

முதலாம் தவணைப்பரீட்சை- 2014

நல்லூர் - யாழ்ப்பாணம்




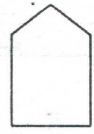
தரம் - 7

செயன்முறைத் தொழில்நுட்பம்

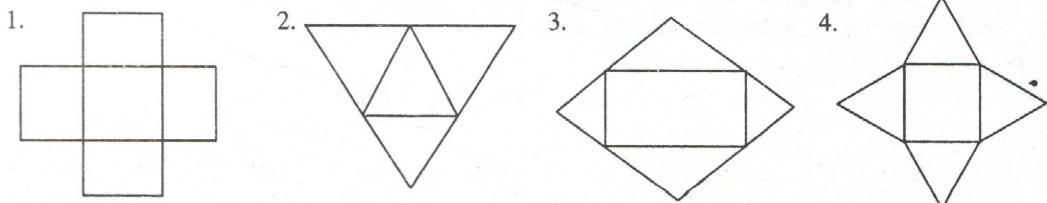
நேரம்- 1.30 நிமிடங்கள்

பகுதி I

எல்லா வினாக்களுக்கும் விடை தருக.
பொருத்தமான விடையின் கீழ் கோடிடுக.

01. இலங்கையில் பிரபல்யம் அடைந்துள்ள விவசாய நடவடிக்கை யாது?
 1. அலங்கார மீன் வளர்ப்பு
 2. ஆடை உற்பத்தி
 3. கால்நடை வளர்ப்பு
 4. பயிர்ச்செய்கை
02. இயற்கைப் பசளைகளில் ஒன்று
 1. யூரியா
 2. அமோனியா
 3. கூட்டெரு
 4. பொஸ்பேற்று
03. சாடித்தாவரமொன்றின் இலைகள் மஞ்சள் நிறமாகிக் காணப்பட்டது. இதற்கு இடக்கூடிய பசளை
 1. யூரியா
 2. பொட்டாசியம்
 3. பொட்டாசியம் மியூரியேற்
 4. பொட்டாசியம் சல்பேற்று
04. கொத்துமுனை நோய் உண்டாகும் தாவரம்
 1. தென்னை
 2. மா
 3. பலா
 4. வாழை
05. உடலுக்கு சக்தியை வழங்கும் உணவு வகை
 1. காபோவைதரேற்று, கொழுப்பு
 2. காபோவைதரேற்று, விற்றமின்
 3. புரதம், கனியுப்பு
 4. புரதம், கொழுப்பு
06. நிழலான இடங்களில் வளரக்கூடிய தாவரம்
 1. பொலிபியா
 2. சீனியாஸ்
 3. அந்தூரியம்
 4. கோலியாஸ்
07. இலைக்கறி வகையில் காணப்படும் கனிப்பொருள் யாது?
 1. கல்சியம், இரும்பு
 2. உயிர்ச்சத்து B,C
 3. புரதம்
 4. காபோவைதரேற்று
08. புதிய மீனின் இயல்புகளில் ஒன்று அல்லாதது
 1. கண்கள் பிரகாசமாக காணப்படல்
 2. செதில் இலகுவில் தழராது
 3. தசையில் உறுதி காணப்படல்
 4. பூக்கள் கருஞ்சிவப்பு நிறமாகக் காணப்படல்
09. இரண்டாம் வகை நெம்புகோலுக்கு உதாரணம்
 1. பாக்குவெட்டி
 2. சாவணம்
 3. கத்தரிக்கோல்
 4. ஒற்றைச் சில்லு தள்ளு வண்டி
10. படம் பிறேம் பண்ணல், யன்னல்களைப் பொருத்துதல், கண்ணாடி வேலைகள் போன்றவற்றிற்குப் பயன்படுத்தப்படும் ஆணி
 1. மென்றகட்டாணி
 2. கம்பியாணி
 3. திருகாணி
 4. கொக்கியாணி
11. கேத்திர கணித திண்ம உருக்களில் அல்லாதது.
 1. 
 2. 
 3. 
 4. 

12. சாதாரண கடித உறையின் விரியல் பின்வருவனவற்றில் எது?



செயன்முறைத் தொழில்நுட்பம்

1

தரம் - 7

13. பொருட்களில் காணப்படும் பண்பு அல்லாதது?
 1. தொட்டுணரக் கூடியது
 2. வடிவமைப்புடையது
 3. கண்ணால் பார்க்கக் கூடியது
 4. சேமித்து வைக்க முடியாதது
14. குட்டியினும் மீனிணம் எது?
 1. கப்பி பிளேட்
 2. கோல்ட்பில் ஏன்ஜல்
 3. சீப்ரா பாபல்சிப்
 4. குராபி ரேற்
15. முடிவுப் பொருள் ஒன்றினை உருவாக்குவதற்கு முன்னர் செய்யப்பட வேண்டியது
 1. அப்பொருளின் வரை படத்தை வரைதல்
 2. தேவையான மூலப்பொருட்களை இனங்காணல்
 3. திட்டத்தைத் தயாரித்தல்
 4. தேவையான கருவி உபகரணங்களைப் பட்டியற்படுத்தல்
16. பயிர்களுக்குச் சேதங்களை ஏற்படுத்தும் பூச்சிகளைக் கட்டுப்படுத்த பயன்படுத்தக் கூடியது
 1. யூரியாக் கரைசல்
 2. சாணக்கரைசல்
 3. வேப்பிலைக் கரைசல்
 4. பொஸ்பேற்று கரைசல்
17. லோம் மண் எனப்படுவது
 1. மணல் மண்
 2. களி மண்
 3. இருவாட்டி மண்
 4. அடையல் மண்
18. மீன் தொட்டியில் மீன்களுக்கு ஏற்படும் நோய்கள் அல்லாதது
 1. பங்கசு
 2. பற்றீரியா
 3. ஒட்டுண்ணிகள்
 4. நிக்கெட்ஸ்
19. தண்டுத்துண்டங்கள் மூலம் இனப்பெருக்கம் செய்யக்கூடிய அலங்காரத் தாவரம்
 1. தாழை
 2. பன்னங்கள்
 3. பெப்ரோமியா
 4. டீபன்பர்சியா
20. வெய்யிலில் உலர்த்தி நீண்டகாலம் பேணக்கூடிய உணவுப் பொருள்
 1. பாவற்காய்
 2. தக்காளிப்பழம்
 3. புடலங்காய்
 4. பூசணிக்காய்
 (20x1=20 புள்ளிகள்)

பகுதி II

முதலாம் வினா கட்டாயமாகவும் ஏனையவற்றில் இரண்டு வினாவும் எல்லாமாக மூன்று வினாக்களிற் கு விடை தருக.

01. 1. நீர் செய்த செயற்பாடு ஒன்றினைக் குறிப்பிடுக.
 2. அச்செயற்பாட்டிற்குப் பயன்படுத்திய பொருட்கள், உபகரணங்களை அட்டவணைப்படுத்துக.
 3. மேற்படி செயற்பாட்டை படிமுறையாகத் தருக. (10 புள்ளிகள்)
02. 1. பயிலிருந்து சிறப்பான அறுவடையைப் பெறவேண்டுமாயின் எவ்வாறான நடவடிக்கைகளை மேற்கொள்ள வேண்டும்?
 2. உணவு தயாரிப்பதற்காக தன்னை ஆயத்தம் செய்யும் முறைகள் 4 தருக.
 3. உணவில் பயன்படுத்தப்படும் இலைக்கறி வகைகள் 4 தருக. (10 புள்ளிகள்)
04. 1. தேவைகளுக்கும், விருப்பங்களுக்குமான வேறுபாட்டினைத் தருக.
 2.

பொருள்	அளவு	விலை
கோதுமை மா	250g	25.00
முட்டை	5	75.00
சீனி	250g	25.00
மாஜரீன்	250g	80.00
ஏனைய செலவு		150.00

மேற்குறிப்பிட்ட 1kg பட்டர் கேக் செலவு விபரம் தரப்பட்டுள்ளது. முப்பது துண்டுகள் வெட்டக்கூடியதாக உள்ளது.

- A. முழு மொத்தச் செலவு யாது?
 B. ஒரு கேக் துண்டின் விலை யாது?

(10 புள்ளிகள்)

2025

1ம் துவணை வகுப்புகள்

தரம் 6 முதல் 11 வரையான
மாணவர்களிற்கான தமிழ் மற்றும் ஆங்கில
மொழிமூல வகுப்புக்கள் ஆரம்பமாகவுள்ளன.

ஆரம்பம் 01.01.2025



இலங்கையின் எப்பாகத்திலிருந்தும்
Zoom app மூலம் எமது வகுப்புகளில்
இணைந்து கொள்ள முடியும்.

அனைத்துப் பாடங்களும் ஒரே கல்வி நிறுவனத்தின் கீழ்...



Education

கல்வி Kalvi.lk
අධ්‍යාපන



Whatsapp

075 287 1457