



வலயக்கல்வி அலுவலகம் - வடமராட்சி
முன்றாம் தவணைப்பரீட்சை - 2018

தரம் - 5

சுற்றாடல் சார் செயற்பாடுகள்

நேரம் : 1.30 மணி

கூட்டுண் :

புள்ளி

01) சரியான விடையின் கீழ் கோடிடுக.

- 1) இலங்கையின் மிக உயரமான நீர்வீழ்ச்சி
1) தியலும 2) துன்கிந்த 3) பம்பரகந்த 4) லக்சபான
- 2) பிறைப்பூ பூக்கும் காலம்
1) புரட்டாதி 2) ஐப்பசி 3) கார்த்திகை 4) சித்திரை
- 3) மீனவர் சிறு மீன்களைப் பிடிப்பதற்குப் பயன்படுத்தும் கூடை வடிவில் அமைந்த உபகரணம்
1) மடி 2) நாம்புவ 3) கரைவலை 4) அத்தாங்கு
- 4) விளக்குத்திரி வழியாக விரைவில் மேல்தோக்கிச் செல்லும் எண்ணெய் வகை
1) தேங்காய் எண்ணெய் 2) மண்ணெண்ணெய்
3) நெய் 4) எள் எண்ணெய்
- 5) தண்டு கோதிப்புழுவினால் தாக்கப்படும் தாவரம்
1) கத்தரி 2) நெல் 3) பூவரசு 4) வெண்டி
- 6) வொலிபோல் (கரப்பந்து) விளையாட்டிற்கான குழு ஒன்றில் உள்ள விளையாட்டு வீரர்களின் எண்ணிக்கை
1) 6 2) 7 3) 10 4) 12
- 7) கண்டமாலை நோய்க்குப் பிரதான காரணம்
1) அயடின் குறைபாடு 2) இரும்புச்சத்துக் குறைபாடு
3) விற்றமின் குறைபாடு 4) கல்சியம் குறைபாடு
- 8) மகாசேனன் கட்டுவித்த குளம்
1) திசாவாவி 2) மின்னேரியாக்குளம்
3) பராக்கிரம சமுத்திரம் 4) கலாவாவி
- 9) வயலின் ஒரு பிரிவில் இருந்து வேறொரு பிரிவிற்கு தண்ணீர் செல்வதற்கு வரம்பில் வெட்டப்பட்டிருக்கும் பாதை
1) நீரோடை 2) கலிங்கற் தொட்டி
3) மடைக்கதவு 4) கிணறு

- 10) இலங்கையின் உயர்ந்த நிலத்தையும் தாழ்ந்த நிலத்தையும் காட்டும் படத்தில் உயர்ந்த நிலம் தீட்டப்பட்டிருக்கும் நிறம்
 1) பச்சைநிறம் 2) நீலநிறம்
 3) கபிலநிறம் 4) சிவப்பு நிறம்
- 11) இலங்கையில் ஒரே மாகாணத்தில் இருந்து இரு பிரதான ஆறுகள் கடலுக்குள்ளே பாய்கின்றன
 1) கிங்கங்கை, களுகங்கை 2) மகாவலிகங்கை, களுகங்கை
 3) களனி கங்கை, களுகங்கை 4) வளவகங்கை, களனி கங்கை
- 12) காந்தத் துண்டை நோக்கி கவரப்படும் பொருள் சோடி
 1) பித்தளையும் இரும்பும் 2) அலுமினியமும் பித்தளையும்
 3) இரும்பும் உருக்கும் 4) இரும்பும் அலுமினியமும்
- 13) இலங்கைக்கேயுரிய பிராணிகளில் ஒன்று
 1) நீலப்புள் 2) மயில் 3) கிளி 4) காகம்
- 14) பட்டை பயன்படுத்தப்படுவது
 1) தச்சன் வேலைத்தலத்தில் 2) கொல்லன் கம்மாலையில்
 3) வயலில் 4) சுரங்கத்தில்
- 15) மரங்களைச் செதுக்க பயன்படுத்தத்தக்க மிக சிறந்த உபகரணம்
 1) துறப்பணம் 2) கத்தரிக்கோல் 3) சீவுளி 4) உளி
- (15 X 2 = 30 புள்ளிகள்)

02) சொற்களை வைத்து இடைவெளி நிரப்புக.

(நீலம், ஊதா, பழப்புளி, தேயிலைச் சக்கை, கடுகு, வெண்டி, சீதேவியார் செங்கமுநீர், இருவேரி, பசவக்குளம், கதிர்காமம், திருகோணமலை, பருப்பு, மா, மரவட்டை, பிரதேச செயலாளரிடம், கிராம அலுவலரிடம்)

- 1) விரைவில் முளைக்கும் வித்து வகைகளில் _____
 வித்து ஒன்றாகும்.
- 2) காற்றின் உதவியுடன் பரவும் தாவரம் _____
 ஆகும்.
- 3) _____ புரதச்சத்து மிக்கதாகும்.
- 4) தேசப்படங்களில் நதிகளைக் காட்டுவதற்குப் பயன்படுத்தப்படும் நியம நிறம் _____ ஆகும்.

- 5) ஆபத்து ஏற்படுவதை உணர்ந்தவுடன் தனது உடலை வட்டமாக சுருட்டிக் கொள்வது _____ ஆகும்.
- 6) நீலச்சாயத்தையும், சிவப்புச்சாயத்தையும் கலந்து தயாரிக்கப்படும் நிறம் _____ ஆகும்.
- 7) ஒருவர் வதிவை உறுதிப்படுத்தும் சான்றிதழைப் பெறச் செல்ல வேண்டியது _____ ஆகும்.
- 8) இலங்கையின் முதன் முதலாக அமைக்கப்பட்ட குளம் _____ ஆகும்.
- 9) மாணிக்க கங்கைக்கு அருகில் அமைந்துள்ள சரித்திரப் புகழ் வாய்ந்த நகரம் _____ ஆகும்.
- 10) பித்தளைப் பாத்திரங்களைத் துப்புரவாக்கி மினுக்குவதற்கு _____ மிகப் பொருத்தமானதாகும்.

(10 X 1 = 10 புள்ளிகள்)

03) மின்வருவன சரியாயின் சரி எனவும் மிழையாயின் மிழை எனவும் VOJf.

- 1) சூரியகாந்தி கொத்துக்களாக பூக்கும் மலர் வகை ஆகும். ()
- 2) தேசிய கீதத்தை இசைக்கும் சந்தர்ப்பங்களில் உடம்பை நிமிர்த்தி வைத்து கால்களை விரித்து கைகளின் விரல்களை மடித்து நின்றல் வேண்டும். ()
- 3) எதிரி வாலைப்பிடிக்க முயலும் போது தனது வாலைப் பிய்த்துக் கொண்டு செல்வது கபறகொயா ஆகும். ()
- 4) பொலித்தீன் விரைவாக உக்குவதற்கு மண் உதவுகின்றது. ()
- 5) இலங்கையின் தேசியக் கொடியைச் சுற்றிவர நான்கு பக்கங்களிலும் உள்ள மஞ்சள் நிறக் கீற்று நாட்டில் வாழும் இனங்களின் ஒற்றுமையைக் குறிக்கின்றது. ()
- 6) சந்திர கிரகணம் ஆரம்பிக்கும் போது சந்திரன் படிப்படியாக கருமையடைகின்றது. ()
- 7) ஆண்டிற்கு ஒரு தடவை மட்டும் காய்க்கும் பழம் பப்பாசி ஆகும். ()

- 8) மகாவலி கங்கை கடலுடன் சங்கமமாகும் இடத்திற்கு அண்மையில் அமைந்துள்ள நகரம் திருகோணமலை ஆகும். ()
- 9) சைக்கிளின் பின்புறச் சேறு தடுப்பானில் சிவப்பு நிற (டெயில் லைற்) ஒளித்தெறியி பொருத்தப்பட்டிருப்பது. இரவில் பின்புறம் வரும் வாகனங்களுக்குத் தெரிய வேண்டுமாதலால். ()
- 10) வெற்றிலை, மளகு, திப்பிலி என்பவற்றின் இலைகள் ஒத்த வடிவமுடையவை ஆகும். ()
- (10 X 1 = 10 புள்ளிகள்)

04) சுருக்கமான விடை தருக.

- 1) வீட்டுத்தோட்டத்தில் பயன்படுத்தப்படும் நான்கு உபகரணங்கள் தருக.

- 2) பைக்கற்றில் அடைக்கப்பட்ட உணவை வாங்கும் போது கவனிக்க வேண்டிய விடயங்கள் எவை?

- 3) தச்சத் தொழிலாளி பயன்படுத்தும் உபகரணங்கள் 3 தருக.

—

4) சிலோன் நஷனல் ரிவீவ் (Ceylon National Review) எனும் சஞ்சிகையின் பிரதம ஆசிரியராக இருந்தவர்?

—

5) தாவரத்தின் பயன்கள் நான்கு தருக?

—

—

—

—

6) பழுதடைந்த உணவை உட்கொள்வதால் ஏற்படும் பாதிப்புக்கள் இரண்டு தருக?

—

—

—

7) கவ்வாத்துச் செய்யப்படும் தாவரங்கள் இரண்டு தருக?

—

—

8) இடி, மின்னலில் இருந்து பாதுகாப்பு பெறும் முறைகள் இரண்டு தருக?

—

9) இலங்கையின் பண்டைய தகவல்களை தேடி அறிய உதவுவன எவை?

10) வாகன விபத்துக்கள் ஏற்படுவதற்குரிய இரண்டு காரணங்கள் தருக.

(10 X 2 = 20 புள்ளிகள்)

05) ஆங்கில உச்சரிப்பின் தமிழ்க் கருத்தினை தமிழில் எழுதுக.

1) Be Careful

2) I am Sorry

3) Don't Shout Please

(3 X 1 = 3 புள்ளிகள்)

06) பின்வரும் ஆங்கிலச் சொற்கள் ஒவ்வொன்றிலும் ஓர் எழுத்து விடுபட்டுள்ளது. அவ் எழுத்தை வெற்றிடத்தில் எழுதுக.


1) Cha _____ K

2) Pe _____ cock

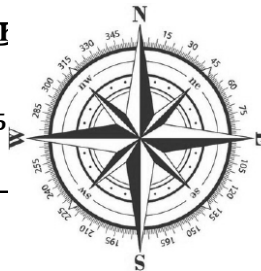
(2 X 1 = 2 புள்ளிகள்)

07) பின்வரும் வாக்கியத்தின் கருத்துகளை


1)



(பு) கெ



முதுக.



2) தாத்தா வெட அரிலா ஆவாம அஹன்ன

1) அடி தகம்

—
—



2) அடி முடித்து வெ

—
—

(2 X 2 = 4 புள்ளிகள்)

09) தொடர்புபடுத்துக.

1) நீர் சுத்திகரிப்பு

தாவீது

2) கொங்காலே கொட பண்டா

ஸாவீனாக்கல்லாரி அதிபர்

3) கடை யா

மட்டி

4) நினைபடுத்தல்

தேச


5) உப்பிட்டு வைத்துப் பேணுதல்

குளோரன்


(5 X 1 = 5 புள்ளிகள்)

10) கீழே தரப்பட்ட உபகரணங்களின் வயர்களை எழுதுக.

A)



B)



C)

