

 <h2 style="text-align: center;">மாகாணக் கல்வித் திணைக்களம் வடக்கு மாகாணம்</h2> <h3 style="text-align: center;">Provincial Department of Education, Northern Province</h3> 						
கல்விப் பொதுத் தராதரப் பத்திர (சாதாரண தர) மூன்றாம் தவணைப் பரீட்சை - 2022 (2023) General Certificate of Education (Ord.Level) Third Term Examination- 2022 (2023)						
<table border="1" style="width: 100%; border-collapse: collapse;"> <tr> <td style="width: 30%;">நேரம்: 1.00 மணித்தியாலம்</td> <td style="width: 40%; text-align: center;">வரலாறு - I</td> <td style="width: 30%; text-align: center;">IITL எண் :</td> </tr> <tr> <td></td> <td></td> <td style="text-align: center;">33 T I,II</td> </tr> </table>	நேரம்: 1.00 மணித்தியாலம்	வரலாறு - I	IITL எண் :			33 T I,II
நேரம்: 1.00 மணித்தியாலம்	வரலாறு - I	IITL எண் :				
		33 T I,II				
பெயர் / சுட்டெண்						

கவனிக்க:

- ♦ எல்லா வினாக்களுக்கும் விடை எழுதுக.
- ♦ 1தொடக்கம் 40 வரையான வினாக்கள் ஒவ்வொன்றிலும் (1), (2), (3), (4) என இலக்கமிடப்பட்ட விடைகளில் சரியான அல்லது மிகப் பொருத்தமான விடையைத் தெரிவு செய்க.
- ♦ உமக்கு வழங்கப்பட்டுள்ள விடைத்தாளில் ஒவ்வொரு வினாவுக்கும் உரிய வட்டங்களில் உமது விடையின் இலக்கத்தை ஒத்த வட்டத்தினுள்ளே புள்ளியை (X) இடுக.

பகுதி - I

01. சிஹல அட்டகதா, உத்தர விஹார அட்டகதா, வினய அட்டகதா என்னும் நூல்கள் தொடர்பான சரியான கூற்று,
- 1) இராசரட்டைக்கால பௌத்த சமயம் பற்றிக்கூறும் நூல்களாகும்
 - 2) கம்பளை -கோட்டை காலத்தில் எழுந்த தூது இலக்கியங்கள் ஆகும்.
 - 3) தீபவம்சம், மகாவம்சம் ஒத்தவையாக அமையக் காரணமான நூல்களாகும்
 - 4) கோட்டை -கண்டி காலத்தில் போர்க்காவியங்கள் எழுச்சிபெறக் காரணமான நூல்களாகும்
02. கல்வெட்டுக்கள் அவை எழுதப்பட்டுள்ள இடத்தின் இயல்பிற்கேற்ப பலவாறாக வகைப் படுத்தப்பட்டுள்ளன. அவ்வகையில் ஆரம்பகால கல்வெட்டுக்களின் வகையாக அமைவது
- 1) பாறைக் கல்வெட்டு
 - 2) குகைக் கல்வெட்டு
 - 3) தூண் கல்வெட்டு
 - 4) சுவர்க் கல்வெட்டு
03. இலங்கையில் பின்வரும் எந்த இடத்தில் வரையப்பட்டுள்ள பெண் உருவங்கள் மின்னலையும் முகிலையும் காண்பிக்கும் குறியீடுகள் என ஆய்வாளர்களால் கூறப்பட்டுள்ளன.
- 1) சீகிரியா குகை ஓவியங்கள்
 - 2) கண்டி தலதாமாளிகை ஓவியங்கள்
 - 3) தம்புள்ளை குகை ஓவியங்கள்
 - 4) மாளிகாவில ஓவியங்கள்
04. நாம் தொல்பொருள் மூலாதாரங்களைப் பேணிப் பாதுகாக்க வேண்டியதன் அவசியத்தை உணர்த்துவது,
- 1) அவை எமது முன்னோர்களால் பாதுகாக்கப்பட்டு வந்தமையால் ஆகும்.
 - 2) எமது நாட்டின் தனித்துவத்தை வெளிப்படுத்தும் வகையில் அமைந்திருப்பதால் ஆகும்.
 - 3) எமது நாட்டுக்கு சுற்றுலாப் பயணிகளை கவரத்தக்க வகையில் அமைந்திருப்பதால் ஆகும்.
 - 4) அரசியல் தலைவர்களின் கவனக்குவிப்புக்கு காரணமாக அமைவதால் ஆகும்.

05. கால அளவீட்டுக்கமைய 28000 வருடங்கள் பழமையான வரலாற்றுக்கு முற்பட்ட காலத்துக்குரிய கற்சாதனங்கள் கிடைக்கப்பெற்றுள்ள குகை வசிப்பிடம் எது?
- 1) பட்டதொம்பலென
2) பாகியன்கல
3) பதிராஜவேல
4) அலிகல
06. ஆற்றுப்பள்ளத்தாக்குகளுக்கு அப்பால் ஆரம்பமான ஆரம்ப வரலாற்றுக்காலக் குடியிருப்புக்கள் ஆற்றங்கரையை நோக்கி வருதல் தொடர்பான தெளிவான குடியிருப்புக்களின் சான்றுகள் கிடைக்கப்பெற்ற நதி,
- 1) கும்புக்கன் ஓயா
2) மாணிக்க கங்கை
3) கிரிந்தி ஓயா
4) வளவை கங்கை
- பின்வரும் கூற்றுக்களை அடிப்படையாகக் கொண்டு 07ஆம் வினாவுக்கு விடை தருக.
- A பிரதேச ஆட்சியாளர்களாக இருந்த மாமன்மாருடன் போரிட்டு அப்பிரதேசங்களைக் கைப்பற்றல்.
B சத்திரிய குல முறைப்படி இரண்டாவது தடவையாக முடிசூடுதல்.
C ஒழுங்கமைந்த யுத்தச் செயற்பாட்டுக்கு தலைமைத்துவத்தை வழங்குதல்
D நாட்டை நிர்வாக அலகுகளாகப் பிரித்து அதிகாரிகளை நியமித்தல்
E இலங்கைத் தீவை முதன் முதலில் ஒன்றுபடுத்துதல்
07. இவற்றுள் துட்டகைமுனு மன்னனோடு தொடர்புடைய கூற்றுக்களாக அமைபவை
- 1) CE
2) BD
3) BE
4) DE
08. மன்னராட்சிக் காலத்தில் பல்வேறு பொறுப்புக்களை நிறைவேற்றிய அதிகாரிகளுள் அரச ஆவணங்களின் தலைவர் எவ்வாறு அழைக்கப்பட்டார்
- 1) பன அதெக
2) படகரிக
3) பதகு
4) கனபெடிக
09. புராதன கால ஆசியக் கண்டத்தைச் சேர்ந்த அரசர்கள் சூடிக்கொள்ள விரும்பிய பட்டமாக அமைவது,
- 1) ஆண்டவன்
2) மலையின் அரசன்
3) குபேரன்
4) போதிசத்துவர்
10. வைத்திய சேவைக்காக பிரசவ விடுதிகளை அமைத்த மன்னர்களை மட்டும் கொண்ட விடையாக அமைவது,
- 1) 1ஆம் உபதிஸ்ஸ, 4ஆம் காசியப்பன்
2) பண்டுகாபயன், 4ஆம் காசியப்பன்
3) 1ஆம் உபதிஸ்ஸ, பண்டுகாபயன்
4) 4ஆம் காசியப்பன், புத்ததாசன்

11. பண்டைய இலங்கையில் வெளிநாடுகளுடன் தொடர்புகளைப் பேணிய மன்னர்களின் பெயர்கள் நிரல் “அ” விலும் அவர்கள் மேற்கொண்ட தொடர்புகள் நிரல் “ஆ” விலும் தரப்பட்டுள்ளன. அவற்றை சரியாக இணைப்பதனால் கிடைக்கும் விடையாவது.

(அ)

(ஆ)

- | | |
|-----------------------|--|
| 1. முதலாம் விஜயபாகு | A. பத்தினித்தெய் கோயில் திறப்பு விழாவிற்காக இந்தியாவின் சேர நாடு செல்லல் |
| 2. முதலாம் கஜபாகு | B. எகிப்து நாட்டுடன் வர்த்தக தொடர்புகளை மேற்கொள்ளல் |
| 3. தேவநம்பியதீசன் | C. பர்மாவிலிருந்து பிக்குகளை வரவழைத்தல் |
| 4. முதலாம் புலனேகபாகு | D. திரிலோகசுந்தரி என்னும் கலிங்க நாட்டு இளவரசியைத் திருமணம் செய்தல் |
| | E. அரிட்டன் மூலமாக அசோகனுக்கு பரிசுப் பொருட்களை அனுப்புதல் |

1) CDEB

2) ACDE

3) DABE

4) DAEB

12. பொதுமக்களுக்குத் தேவையான சேவையை வழங்கி மக்களின் நம்பிக்கையினைப் பெற்றுக் கொண்டதாக வரலாற்றில் கூறப்படும் அந்நிய இன மன்னர்கள்,

- 1) எல்லாளன், நிசங்கமல்லன் 2) நிசங்கமல்லன், கலிங்கமாகன்
3) எல்லாளன், ஸ்ரீமாறஸ்ரீபல்லபன் 4) 1ம் இராஜஇராஜசோழன், 1ம் இராஜேந்திரசோழன்

- 13 ருவன்வெலிசாய தாதுகோப அமைப்போடு தொடர்புபடாத கூற்றாக அமைவது

- 1) “வஜ்ரசம்பட்ட” என்னும் கருவி பொருத்தப்பட்டிருத்தல்
2) கட்டடத்தின் அடித்தளம் 10.5 அடி ஆழமாக்கப்பட்டிருத்தல்
3) கட்டடத்தின் நீள அகலத்திற்கேற்ப மலசலகூடங்கள் அமைக்கப்பட்டிருத்தல்
4) “நவநீதம்” என்னும் களிமண் பூசப்பட்டிருத்தல்

14. புராதன காலத்தில் மன்னர்களால் அறவிடப்பட்ட “மாத்திரிக்க மத்சய பாகய” என்னும் வரியோடு தொடர்புடைய விடயம்,

- 1) குளங்களில் மீன்பிடித்தலுக்காக அறவிடப்பட்ட வரியாகும்.
2) குளங்களில் இருந்து நீரைப் பெற்றுக்கொண்டவர்களிடம் அறவிடப்பட்ட வரியாகும்.
3) குளங்களை பராமரிப்பதற்காக அறவிடப்பட்ட வரியாகும்.
4) குளங்களில் இருந்து வயலை நோக்கி வரும் சிறு வாய்க்காலில் மீன்பிடித்தலுக்காக அறவிடப்பட்ட வரியாகும்.

15. புராதன கால மக்களால் கடைப்பிடிக்கப்பட்ட பசுக்களின் பாதுகாப்பின் பொருட்டு சாந்தி பூசை செய்யும் பழக்கம் தற்போதும் பின்பற்றப்படும் மாகாணங்கள் முறையே

- | | |
|------------------------|---------------------|
| 1) சப்பரகமுவ, வடமத்திய | 2) சப்பிரகமுவ, ஊவா |
| 3) ஊவா, வடமத்திய | 4) வடமத்திய, மத்திய |

16. புராதன காலத்தில் எழுதப்பட்ட நூல்கள் “அ” நிரலிலும் அவற்றில் இடம்பெறும் தகவல்கள் நிரல் “ஆ” பகுதியிலும் தரப்பட்டுள்ளன. இவற்றைப் பொருத்தினால் வரும் சரியான விடை.
- அ ஆ
1. தம்பியா அட்டுவா கெட்டபத A. பிள்ளைகளுக்கு கல்வியறிவை வழங்குவது பெற்றோர்களின் கடமையாகும்
 2. சத்தர்மரத்னாவலிய B. கல்வியறிவில் சிறந்து விளங்கிய பெண்கள் மதுபாச்சிகா என அழைக்கப்படல்
 3. சகஸ்ஸ வத்துப்பகரண C. எனது மகளுக்கு தயிர் உண்பதற்கு ஒரு சோடி மாடு தேவைப்படுமே என தந்தை ஒருவர் கூறுதல்
 4. சத்தர்மலங்கார D. சாலியகுமாரனின் மனைவியான அசோகமாலா சுவையான உணவு சமைத்து அனைவரது பாராட்டுக்களையும் பெற்றமை
- E செல்வந்தர்கள் விரும்பி உண்ணும் உணவு பற்றிக் குறிப்பிடுதல்
- 1) BEAD 2) BCDA 3) DCEB 4) BDCA
7. புராதன காலத்தில் பல்வேறு மன்னர்கள் பல்வேறு சட்டங்களை இயற்றியுள்ளனர். அவர்களுள் நிசங்கமல்லன், 4ஆம் மகிந்தன், ஆமண்டகாமினி அபய போன்ற மன்னர்களோடு தொடர்புடைய சட்டங்களாக அமைபவை,
- 1) சூழல் பாதுகாப்புச் சட்டங்கள் 2) வரி அறவீட்டுச் சட்டங்கள்
 - 3) விவசாய ஒழுங்கமைப்புச் சட்டங்கள் 4) உயிரினப் பாதுகாப்புச் சட்டங்கள்
18. பின்வருவனவற்றுள் கம்பளை இராசதானியுடன் தொடர்புடைய விடயமாகக் கருத முடியாதது,
- 1) தாய் வழி அரசரிமை முறை பின்பற்றப்படுதல்
 - 2) அரச குடும்பத்துடன் நெருங்கிய இரு பிரபுத்துவக் குடும்பங்கள் காணப்படல்
 - 3) மார்க்கோபோலோ என்னும் இஸ்லாமிய தேசசஞ்சாரியின் வருகை இடம்பெறல்
 - 4) சீனத் தளபதியினால் வீர அழகேஸ்வரன் கைதுசெய்யப்பட்டு அழைத்துச் செல்லப்படல்
19. புராதன காலத்தில் மிகை உற்பத்திக்குச் சொந்தக்காரர்கள் வாழ்ந்தனர் என்பதனை வெளிப்படுத்தும் இலக்கிய மூலாதாரமாக அமைவது,
- 1) ஜாதக அட்டகதா 2) தம்பியா அட்டுவா கெட்டபதய .
 - 3) உத்தர விஹார அட்டகதா 4) சிஹல அட்டகதா
20. தம்மிடம் சரணடைந்திருந்த குசுமாசனதேவியை கண்டியின் அரசியாக்க போர்த்துக்கேயர் மேற்கொண்ட படையெடுப்பினை எதிர்கொண்ட கண்டியின் ஆட்சியாளன்
- 1) செனரத் 2) 1ஆம் விமலதர்மகூரியன்
 - 3) 2ஆம் இராஜசிங்கன் 4) 2ஆம் விமலதர்மகூரியன்
21. 2ஆம் விமலதர்மகூரியன், விஜய இராஜசிங்கன், கீர்த்தி ஸ்ரீ இராஜசிங்கன் ஆகிய கண்டி மன்னர்களுக்கு ஒல்லாந்தர் வழங்கிய உதவியாக அமைவது,
- 1) மணப்பெண்களை அழைத்துவர கப்பல்கள் வழங்குதல்
 - 2) மன்னர்களின் வெளிநாட்டுப் பயணங்களுக்கு கப்பல்களை வழங்குதல்
 - 3) வெளிநாட்டு வர்த்தகத்திற்காக கப்பல்களை வழங்குதல்
 - 4) உபசம்பதா சடங்கிற்காக பௌத்த பிக்குகளை வரவழைக்க கப்பல்களை வழங்குதல்

22. மாயாதுன்னையால் உருவாக்கப்பட்ட சீதாவாக்கை இராச்சியம் குறுகிய காலத்தில் வீழ்ச்சியடைந்தமையோடு **தொடர்புபடாத** காரணியாக அமைவது,
- 1) போர்த்துக்கேயருக்கு எதிராக அடிக்கடி போரில் ஈடுபடல்
 - 2) இவனது மகனான 1ஆம் இராஜசிங்கன் பௌத்த எதிர்ப்புக் கொள்கையை பின்பற்றல்
 - 3) தனக்கு உதவிய கோணப்பு பண்டாரவை 1ஆம் இராஜசிங்கன் கொலை செய்தல்
 - 4) அரசரிமை கோர பொருத்தமான உரிமையாளன் இல்லாது போதல்
23. கி.பி 1638, கி.பி 1766 ஆகிய ஆண்டுகளில் இடம்பெற்ற ஒப்பந்தங்கள் பற்றிய சரியான கூற்றாக அமைவது,
- 1) கண்டி இராச்சிய மன்னர்களுக்கு பாதிப்பை ஏற்படுத்திய ஒப்பந்தங்களாகும்.
 - 2) போர்த்துக்கேயருக்கும் கண்டி மன்னர்களுக்கும் இடையிலான ஒப்பந்தங்களாகும்.
 - 3) கண்டி இராச்சியத்தின் உரிமையை ஏற்றுக்கொண்ட ஒப்பந்தங்களாகும்
 - 4) கண்டி இராச்சிய மன்னர்கள் தமது அதிகாரத்தை உறுதிப்படுத்த மேற்கொண்ட ஒப்பந்தங்களாகும்.
24. கண்டி இராச்சியம் பிரித்தானியருக்கு அடிமைப்பட்டமையை உத்தியோகபூர்வமாக ஒப்புக் கொண்ட வரலாற்று முக்கியத்துவம் வாய்ந்த ஆவணம்,
- 1) கண்டிப் பிரகடனம்
 - 2) கண்டி ஒப்பந்தம்
 - 3) கண்டி அறிக்கை
 - 4) கண்டிப் பிரசுரம்
25. பொதுமக்கள் மத்தியில் இருந்து தோன்றிய தலைவர்களால் பிரித்தானியருக்கு எதிராக மேற்கொண்ட போராட்டமாகக் கருதப்படுவது,
- 1) கி.பி 1848ஆம் இரண்டாவது சுதந்திரப் போராட்டம்
 - 2) கி.பி 1833ஆம் ஆண்டு கோல்புறாக் - கமரன் சீர்திருத்தத்திற்கு எதிரான போராட்டம்
 - 3) கி.பி 1818ஆம் ஆண்டு முதலாவது சுதந்திரப் போராட்டம்
 - 4) கி.பி 1797ஆம் ஆண்டு கரையோரப் பிரதேசங்களில் இடம்பெற்ற போராட்டம்
26. பிரித்தானியர் ஆட்சிக்காலத்தில் இடம்பெற்ற தேசிய சமய மறுமலர்ச்சிக் காலத்தில் பராபவ என்னும் சிங்கள நாடகத்தின் மூலம் மதுபாவனையால் ஏற்படும் தீமைகளை வெளிக்காட்டியவர்
- 1) பியதாஸ சிரிசேன
 - 2) வலிசிங்க ஹரிச்சந்திர
 - 3) ஜோன் த சில்வா
 - 4) அநகாரிக தர்மபால
27. கோல்புறாக் - கமரன் சீர்திருத்தத்தில் அறிமுகப்படுத்தப்பட்ட இனவாரிப் பிரதிநிதித்துவ முறையை முற்றாக நீக்கிய அரசியல் யாப்புச் சீர்திருத்தம்,
- 1) டொனமூர் சீர்திருத்தம்
 - 2) மனிங் - டெவன்சியர் சீர்திருத்தம்
 - 3) மனிங் சீர்திருத்தம்
 - 4) குறா - மக்கலம் சீர்திருத்தம்
28. இலங்கையர்களால் இலங்கை தேசிய சங்கம் என்னும் அமைப்பு உருவாக்கப்பட்டமை வரலாற்றின் முக்கிய ஒரு சந்தர்ப்பமாகக் கொள்ளப்படுவதற்கான காரணம்,
- 1) பிரித்தானியருக்கு எதிராக தொடர் போராட்டங்களை மேற்கொண்டு சுதந்திரத்தை பெற்றுத்தந்தமையால்.
 - 2) சிங்கள, தமிழ், முஸ்லிம் தலைவர்கள் அனைவரும் ஒன்று சேர்ந்து உருவாக்கியதால்.
 - 3) படித்த இலங்கையர்கள் இந்த அமைப்பில் உறுப்பினர்களாகச் செயற்பட்டதனால்.
 - 4) சாதாரண மக்களையும் இதில் இணைத்துக் கொண்டு போராட்டங்களை மேற்கொண்ட மையால்.
29. கோல்புறாக் இலங்கைக்கு வருவதற்கு முன்னர் அரசின் ஏகபோக உரிமையாகக் காணப்பட்ட வர்த்தகப் பொருட்களாவன,
- 1) உப்பு, யானைத் தந்தம்
 - 2) கறுவா, மாணிக்கம்
 - 3) கறுவா, உப்பு
 - 4) யானைத் தந்தம், மாணிக்கம்

30. தேசிய முக்கியத்துவம் வாய்ந்த ஒரு விடயத்தில் நேரடியாக மக்கள் ஆணையைக் கோரிப் பெறக்கூடிய வழியாக பொதுசன அபிப்பிராயத் தேர்தலை அறிமுகம் செய்த அரசியல் யாப்புச் சீர்திருத்தம்,
- 1) டொனமூர் அரசியல் சீர்திருத்தம்
 - 2) சோல்பரி அரசியல் சீர்திருத்தம்
 - 3) முதலாம் குடியரசு அரசியல் யாப்பு
 - 4) இரண்டாம் குடியரசு யாப்பு
31. பிரித்தானியர் ஆட்சிக்காலத்தின் இறுதிப் பகுதியில் நெல் உற்பத்தி அதிகரித்தமைக்கு பிரதான காரணமாக அமைவது,
- 1) நெல் உற்பத்தியில் பிரித்தானியர் ஆர்வம் காட்டியமை.
 - 2) காணியும் விவசாயத்தின் பொறுப்பும் இலங்கையர்களுக்கு வழங்கப்பட்டமை.
 - 3) மக்களிடையே நெல்லுக்கான கேள்வி அதிகரித்தமை.
 - 4) இலங்கையின் நெல்லுக்கு ஐரோப்பிய சந்தையில் அதிக கேள்வி ஏற்பட்டமை.
32. கி.பி 1970 -1977 க்கு இடைப்பட்ட காலப்பகுதியில் அரசு பின்பற்றிய கைத்தொழில் தொடர்பான கொள்கையாக அமைந்தது,
- 1) பாரம்பரியக் கைத்தொழிலை ஊக்குவித்தல்
 - 2) பாரிய கைத்தொழில்களை ஆரம்பித்தல்
 - 3) பொருத்தும் கைத்தொழிலை மேற்கொள்ளல்
 - 4) பதிலீட்டுக் கைத்தொழிலை ஆரம்பித்தல்
33. மறுமலர்ச்சிக் காலத்தில் தோன்றிய கலைப்படைப்புக்களின் இயல்பாகக் கருதக்கூடியது,
- 1) கலைஞர்களின் பெயரால் படைப்புக்கள் வெளிவரல்
 - 2) வகுப்புக்களின் பெயரால் படைப்புக்கள் வெளிவரல்
 - 3) திருச்சபையால் படைப்புக்களுக்கு அனுசரனை வழங்கப்படல்
 - 4) மக்களிடையே சமயப் படிப்பினையை ஏற்படுத்துதல்
34. கைத்தொழில் புரட்சிக் காலத்தில் கண்டுபிடிப்புக்களை மேற்கொண்ட ஆபிரகாம் டர்பி என்பரோடு தொடர்புடைய துறையாக அமைவது,
- 1) நெசவு
 - 2) நிலக்கரி
 - 3) இரும்புருக்கு
 - 4) தொடர்பாடல்
- **கீழே தரப்பட்ட A, B என்ற கூற்றுக்களை அடிப்படையாகக் கொண்டு 35ஆம் 36ஆம் வினாக்களுக்கு விடை தருக.**
- A - பெல்ஜியம் வழியாக பிரான்சை ஆக்கிரமித்தல்
B - போலந்தை ஆக்கிரமித்தல்
35. மேற்படி கூற்றுக்களோடு தொடர்புடைய நாடாக அமைவது
- 1) இத்தாலி
 - 2) ஆஸ்திரியா
 - 3) யப்பான்
 - 4) ஜேர்மனி
36. இரண்டாம் உலக மகாயுத்தம் தொடர்பான சரியான விடையாக அமைவது,
- 1) A சரியானது B பிழையானது
 - 2) A பிழையானது B சரியானது
 - 3) Aயும் Bயும் சரியானது
 - 4) A யும் Bயும் பிழையானது

➤ கீழே தரப்பட்டுள்ள A,B,C,D என்பவற்றில் தரப்பட்டுள்ள சோடிக் கூற்றுக்களை அவதானித்து 37 தொடக்கம் 39 வரையான வினாக்களுக்கு விடைதருக.

A 1- அமெரிக்க சுதந்திரப் போர்

B 1- ரஷ்யப் புரட்சி

2- பொஸ்டன் தேநீர் விருந்து

2- உணவு, நிலம், சமாதானம்

C 1- அமெரிக்கா யுத்தத்தில் ஈடுபடல்

D 1- ஸ்டேட் ஜெனரல் கூட்டப்படல்

2- பேர்ள் துறைமுகம் மீதான தாக்குதல்

2- 14ஆம் லூயி

37. முதலாவது ஏற்படுவதற்கு இரண்டாவது ஆரம்ப நிகழ்வாக அமையும் சோடி யாது?

1)A

2)B

3)C

4)D

38. இரண்டாவதன் காரணமாக முதலாவது நடைபெறுவதற்கு காரணமாக அமைந்த சோடி யாது?

1)A

2)B

3)C

4)D

39. முதலாவதற்கும் இரண்டாவதிற்கும் இடையில் எவ்வித தொடர்பையும் காட்டாத சோடி யாத?

1)A

2) B

3) C

4)D

40. சர்வதேச சமாதானத்திற்கும் பாதுகாப்பிற்கும் அச்சுறுத்தலாக அமையும் மோதல்கள் குறித்து ஆராய்ந்து அவற்றை சமாதானமாகத் தீர்ப்பதற்கு சிபாரிசுகளை முன்வைக்கும் ஐக்கிய நாடுகள் சபையின் கூறாக அமைவது,

1) பொதுச்சபை

2) பாதுகாப்புச்சபை

3) செயலகம்

4) சர்வதேச நீதிமன்றம்

(40 X 2 = 80 புள்ளிகள்)

 <h2 style="text-align: center;">மாகாணக் கல்வித் திணைக்களம் வடக்கு மாகாணம்</h2> <h3 style="text-align: center;">Provincial Department of Education, Northern Province</h3> 					
கல்விப் பொதுத் தராதரப் பத்திர (சாதாரண தர) மூன்றாம் தவணைப் பரீட்சை - 2022 (2023) General Certificate of Education (Ord.Level) Third Term Examination- 2022 (2023)					
நேரம்: 3.00 மணித்தியாலங்கள்	வரலாறு - II History - II	HTL எண் :			
		<table border="1" style="width: 100%; border-collapse: collapse;"> <tr> <td style="width: 33%; text-align: center;">33</td> <td style="width: 33%; text-align: center;">T</td> <td style="width: 33%; text-align: center;">II</td> </tr> </table>	33	T	II
33	T	II			
பெயர் / சுட்டெண்					

மேலதிக வாசிப்பு நேரம்: 10 நிமிடங்கள்

வினாப்பத்திரத்தை வாசித்து வினாக்களைத் தெரிவு செய்வதற்கும் விடை எழுதும்போது முன்னுரிமை வழங்கும் வினாக்களை ஒழுங்குபடுத்திக் கொள்வதற்கும் மேலதிக வாசிப்பு நேரத்தைப் பயன்படுத்துக.

கவனிக்க:

- ◆ பகுதி I இன் வினா முதலாம் வினா கட்டாயமானது.
- ◆ பகுதி II இல் ஊந்து வினாக்களுக்கு விடை தருக.
- ◆ எல்லாமாக ஆறு வினாக்களுக்கு விடை தருக.

பகுதி - I


01. (அ) கீழே (i) எனக் குறிப்பிடப்பட்டுள்ள வரலாற்று முக்கியத்துவம் வாய்ந்த இடங்கள் அனைத்தையும் வழங்கப்பட்டுள்ள இலங்கைப் புறவுருவப்படத்திலும் (ii) எனக் குறிப்பிடப்பட்டுள்ள வரலாற்று முக்கியத்துவம் வாய்ந்த இடங்கள் அனைத்தையும் வழங்கப்பட்டுள்ள உலகப் புறவுருவப் படத்தின் பகுதியிலும் குறித்துப் பெயரிடுக.
- (i) கல்லோயா, பதவியாக் குளம், கொத்மலை நீர்த்தேக்கம், குருநாகல், கம்பளை, புத்தளம், ஹெமன்கெயில், கலாதீத்த, நீர்கொழும்பு, மினிஹாகல்கந்த, பூநகரி, சீகிரியா.
(12 புள்ளிகள்)
- (ii) பர்மா, உரோம், பத்தேவியா, ஹிரோசீமா, சுயெஸ் கால்வாய், இஸ்தான்புல்.
(6 புள்ளிகள்)
- (ஆ) (I) பின்வரும் கூற்றுக்களுக்குரிய விடைகளை A,B,C,D ஒழுங்கில் தருக.
- A. சகல பிரதேசத்தலைவர்களுடனும் நல்லுறவைப் பேண வேண்டியதன் தேவையை உணர்ந்து செயற்பட்ட அனுராதபுர ஆட்சியாளன்.
- B. போர்த்துக்கேயர், ஒல்லாந்தர் ஆகிய இரு ஐரோப்பிய இனத்தவர்களுடன் போர் நடவடிக்கைகளில் ஈடுபட்ட கண்டியின் ஆட்சியாளன்
- C. பிரித்தானியராட்சிக் காலத்தில் இலங்கையில் இடம்பெற்ற சமய தேசிய மறுமலர்ச்சிக்கு பங்களிப்புச்செய்த எகிப்து நாட்டிலிருந்து நாடு கடத்தப்பட்டு வருகை தந்த இஸ்லாமியர்.
- D. இரண்டாம் உலக மகாயுத்த காலத்தில் நாசிகளுக்கு எதிரான போரில் பிரித்தானிய மக்களையும் அதன் குடியேற்ற நாடுகளையும் ஈடுபடுத்துவதில் வெற்றி பெற்ற பிரித்தானியப் பிரதமர்.
(4 புள்ளிகள்)
- A,B படங்களை அவதானித்து கேட்கப்பட்டுள்ள வினாக்களுக்குரிய விடைகளை வினா இலக்க ஒழுங்கு முறைப்படி உங்கள் விடைத்தாளில் எழுதுக.
- (II) 1. படம் A இல் எதன் மாதிரி அமைப்பு காட்டப்பட்டுள்ளது?
2. இந்த அமைப்பு புராதன காலத்தில் எத்தேவைக்காக பயன்படுத்தப்பட்டது?
3. இதனை இயக்குவதற்கு பயன்படுத்தப்பட்ட சக்தி எது?
4. இந்த மாதிரி அமைப்பின் உண்மையான அமைப்பு காணப்பட்ட இடம் எது?



(A)

(4 புள்ளிகள்)

- (III) 1. படம் B இல் காட்டப்பட்டிருப்பவர் யார்?
 2. இவர் பதவி வகித்த சிறப்புப் பதவியின் பெயர் யாது?
 3. இவரது பதவியை நியமனம் செய்யும் அதிகாரம் யாருக்கு வழங்கப்பட்டது?
 4. இவர் இப்பதவிக்கு வருவதற்கு முதல் வகித்த பதவியின் பெயர் என்ன?



(B) (4 புள்ளிகள்)

பகுதி - II

02. (I) முன்வரலாற்றுக்கால பண்பாட்டைக் கற்பதற்கு ஆதாரமாக அமையும் முன்வரலாற்றுக்கால மயானங்களுள் ஒன்றான கல்லறை மயானங்கள் அமைந்திருந்த இடங்கள் **மூன்று** தருக. (3 புள்ளிகள்)
- (II) A) வரலாற்றுக்கு முற்பட்ட கால மனிதன் உணவைப் பெற்றுக்கொண்ட முறைகள் **இரண்டைக்** குறிப்பிடுக? (2 புள்ளிகள்)
 B) வரலாற்றுக்கு முற்பட்ட கால மனிதர்கள் வாழ்ந்த **இரு** வகையான வாழ்விடங்களும் எவை? (2 புள்ளிகள்)
- (III) ஆரம்பவரலாற்றுக் காலத்தில் குடியிருப்புக்களின் ஒழுங்கமைப்பும் நிர்வாகமும் செயற்படுத்தப்பட்ட முறையினை **இரு** காரணிகளின் துணையுடன் விளக்குக. (5 புள்ளிகள்)
- (IV) வரலாற்றுக் காலத்தில் விவசாயம் ஒழுங்கமைக்கப்பட்டிருந்த முறையினை **மூன்று** பிரிவுகளின் ஊடாக விளக்குக. (6 புள்ளிகள்)
03. (I) வரலாற்றுக்கு முற்பட்ட காலத்தில் கல்லாயுதங்களை தயாரிப்பதற்குப் பயன்படுத்தப்பட்ட **மூன்று** வகையான கற்களைப் பெயரிடுக. (3 புள்ளிகள்)
- (II) A) எலஹராக் கால்வாய் மூலம் நீரைப் பெற்றுக்கொள்ளும் குளங்கள் **இரண்டு** தருக. (2 புள்ளிகள்)
 B) புராதன காலத்தில் பௌத்த பிக்குகளின் நீர்த்தேவையினைப் பூர்த்தி செய்வதற்காக அமைக்கப்பட்ட பொய்கைகள் **இரண்டு** தருக. (2 புள்ளிகள்)
- (III) புராதன காலத்தில் பாரிய குளமொன்றானது பல தொழிநுட்பச் சிறப்புக்களைக் கொண்ட மைந்த கூறுகளைக் கொண்டதாக அமைக்கப்பட்டது. அவ்வாறான கூறுகள் **இரண்டைக்** குறிப்பிட்டு விளக்குக. (5 புள்ளிகள்)
- (IV) முன்வரலாற்றுக்கால மனிதர்களின் பிரயோக தொழிநுட்ப ஆற்றலை வெளிப்படுத்தும் முனைப்பான சந்தர்ப்பங்கள் **மூன்றைக்** குறிப்பிட்டு விளக்குக. (6 புள்ளிகள்)
04. (I) மாயரட்டைப் பிரதேச எல்லைக்குள் அமைக்கப்பட்ட இரண்டாம் நகரமயமாக்கல் நகரங்கள் **மூன்றினைக்** குறிப்பிடுக. (3 புள்ளிகள்)
- (II) பின்வரும் A,B,C,D கூற்றுக்களோடு தொடர்புடைய விடயங்களை அடைப்புக்குள்ளிருந்து தெரிவுசெய்து எழுதுக.
 A) மகா விஜயபாகு பொலன்னறுவையைத் தலைநகரமாக்கியதில் செல்வாக்குச் செலுத்திய பிரதான துறைமுகம்.
 B) இலங்கையின் தென்பகுதியின் கலாசாரத்தைக் காட்டும் கண்ணாடியாகத் திகழ்ந்த நகரம்.
 C) சங்க தளபதியினால் மினிப்பே என்னும் இடத்தில் கோட்டை அமைக்கப்பட்ட நதிக்கரை.
 D) இராசரட்டை நாகரிகம் வீழ்ச்சியடைந்த பின்னர் இலங்கையின் வடமத்திய, கிழக்கு, வடமேல் மாகாணங்களில் சனத்தொகை குறைவான பகுதிகளில் தோன்றிய சிறிய ஆட்சி அலகுகளுக்கு வழங்கப்பட்ட பெயர். (4 புள்ளிகள்)
 (யாழ்ப்பாண இராச்சியம், மாகம, கல்லோயா, கோகர்ண, மகாவலிகங்கை, வன்னி இராச்சியம்)

- (III) புராதன காலத்தில் உலர்வலயத்தில் நகரங்கள் தோற்றம் பெறுவதில் செல்வாக்குச் செலுத்திய காரணிகள் **இரண்டைக்** குறிப்பிட்டு விளக்குக. (5 புள்ளிகள்)
- (IV) தம்பதெனியாவின் சிறந்த ஆட்சியாளனாக இரண்டாம் பராக்கிரமபாகு மன்னன் கருதப்படுகின்றார். அந்த மன்னனால் ஆற்றப்பட்ட அரசியல், இலக்கிய, சமயப் பணிகள் **ஒவ்வொன்றினைக்** குறிப்பிட்டு விளக்குக. (6 புள்ளிகள்)
- 05 (I) ஆறாம் விஜயபாகு மன்னன் கி.பி 1521இல் கொலை செய்யப்பட்ட பின்னர் இலங்கையில் காணப்பட்ட இராச்சியங்களுள் **மூன்றினைக்** குறிப்பிடுக. (3 புள்ளிகள்)
- (II) பின்வரும் A,B,C,D கூற்றுக்களோடு தொடர்புடைய விடயங்களை அடைப்புக்குள்ளிருந்து தெரிவுசெய்து எழுதுக.
- A) பிரதானிகளின் கட்டளைகளைச் செய்திகளை பிராந்திய அதிகாரிகளுக்குக்கொண்டு சென்றவர்கள்.
- B) அரசு மானிகைச் செயற்பாடுகளில் உணவு வழங்கலுக்குப் பொறுப்பான அதிகாரி
- C) கண்டி இராச்சிய காலத்தில் நெசவுக்காக அறவிடப்பட்ட வரி
- D) 1ஆம் விமலதர்மசூரிய மன்னனால் இரும்புருக்கு கைத்தொழிலை முன்னேற்ற நடவடிக்கை எடுக்கப்பட்ட இடங்களில் **ஒன்று**, (4 புள்ளிகள்)
(வலப்பனை, ஹெந்தபத்த, கிரிவவுல, பத்வடனநிலமே, கடுபுள்ளே, சலுவடனநிலமே, படஹெலபத்த, கோறளை)
- (III) கோட்டை இராச்சியம் இலகுவில் போர்த்துக்கேயர் வசமாகியதில் செல்வாக்குச் செலுத்திய காரணிகள் **இரண்டைக்** குறிப்பிட்டு விளக்குக. (5 புள்ளிகள்)
- (IV) கண்டி இராச்சிய சமூக அமைப்பின் இயல்புகள் **மூன்றைக்** குறிப்பிட்டு விளக்குக. (6 புள்ளிகள்)
- 06 (I) A) இலங்கையில் கடமையாற்றிய இறுதி ஒல்லாந்து ஆளுநர் யார்? (1 புள்ளி)
B) பிரித்தானியர் கண்டி இராச்சியத்தை கைப்பற்றுவதற்கு முன்னர் தொடர்புகளை ஏற்படுத்திய கண்டி மன்னர்கள் **இருவரைக்** குறிப்பிடுக. (2 புள்ளிகள்)
- (II) பின்வரும் A,B,C,D கூற்றுக்களோடு தொடர்புடைய விடயங்களை எழுதுக.
- A) கண்டி இராச்சியம் பிரித்தானியரால் கைப்பற்றப்படுவதற்கு சாதகமான சூழலை ஏற்படுத்துவதில் முக்கிய பங்களிப்புச் செய்த அதிகாரி
- B) இலங்கையின் கரையோரப் பிரதேசங்களில் பிரித்தானிய அரசும் ஆட்சி நடவடிக்கைகளில் ஈடுபடல் வேண்டும் எனச் சிபாரிசு செய்தவர்.
- C) முதலாவது சுதந்திரப் போராட்டக் காலத்தில் நிலத்தை பாழடையச்செய்யும் கொள்கையைக் கடைப்பிடித்த ஆளுநர்.
- D) இரண்டாவது சுதந்திரப் போராட்டக்காலத்தில் தம்புள்ளையில் மன்னனாக முடிசூடிக் கொண்டவர் (4 புள்ளிகள்)
- (III) கி.பி 1815இல் பிரித்தானியரால் கண்டி இராச்சியம் கைப்பற்றப்படுவதற்கு ஸ்ரீ விக்கிரம இராஜசிங்க மன்னனின் செயற்பாடுகள் பங்களிப்புச் செய்தமையை **இரு** ஆதாரங்களின் ஊடாக விளக்குக. (5 புள்ளிகள்)
- (IV) பிரித்தானியருக்கு எதிராக இலங்கையர்கள் கி.பி 1818இல் சுதந்திரப் போராட்டம் ஒன்றினை முன்னெடுத்தமைக்கான காரணங்கள் **மூன்றைக்** குறிப்பிட்டு விளக்குக. (6 புள்ளிகள்)
07. (I) பின்வரும் அரசியல் யாப்புச் சீர்திருந்தங்களோடு தொடர்புடைய யாப்புக்களை குறிப்பிடுக.
- (A) இனவாரிப் பிரதிநிதித்துவமுறை நீக்கப்படல்
(B) மகாதேசாதிபதி என்னும் பதவி அறிமுகப்படுத்தப்படல்
(C) அரசின் வர்த்தக ஏகபோக உரிமை நீக்கப்படல் (3 புள்ளிகள்)

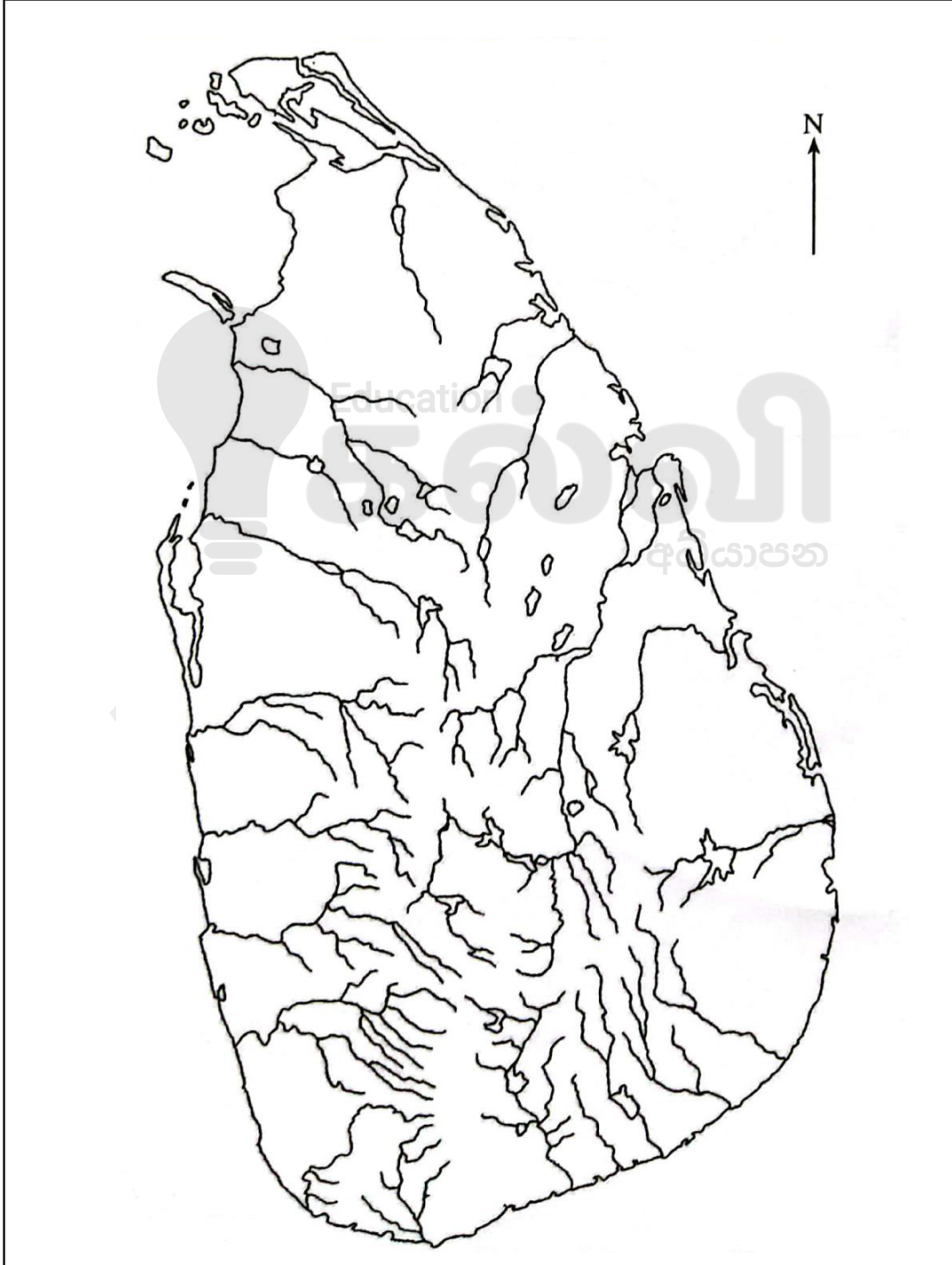
- (II) A) பிரித்தானியர் ஆட்சிக்காலத்தில் தொழிற்சங்கங்களை அமைத்து தொழிலாளர் உரிமைகளை பெற்றுக்கொடுக்க நடவடிக்கைகளை மேற்கொண்ட முக்கிய தலைவர்கள் **இருவரைக்** குறிப்பிடுக. (2 புள்ளிகள்)
- B) பிரித்தானியர் ஆட்சிக்காலத்தில் ஏற்பட்ட சமூக மாற்றங்களில் ஒன்றாக மத்தியதர வர்க்கத்தினரின் தோற்றம் அமைந்துள்ளது. அவ்வர்க்கத்தினர் தோற்றம் பெற்றமையில் செல்வாக்குச் செலுத்திய காரணிகள் **இரண்டு** தருக. (2 புள்ளிகள்)
- (III) இலங்கையின் உலர்வலயம் குடியேற்றத் திட்டங்களை அமைப்பதற்கு ஏற்ற இடமாகத் தெரிவு செய்யப்பட்டமைக்கான காரணங்கள் **இரண்டைக்** குறிப்பிட்டு விளக்குக. (5 புள்ளிகள்)
- (IV) சுதந்திர இலங்கையில் நெல் விவசாயத்தை முன்னேற்ற மேற்கொள்ளப்பட்ட நடவடிக்கைகள் **மூன்றைக்** குறிப்பிட்டு விளக்குக. (6 புள்ளிகள்)

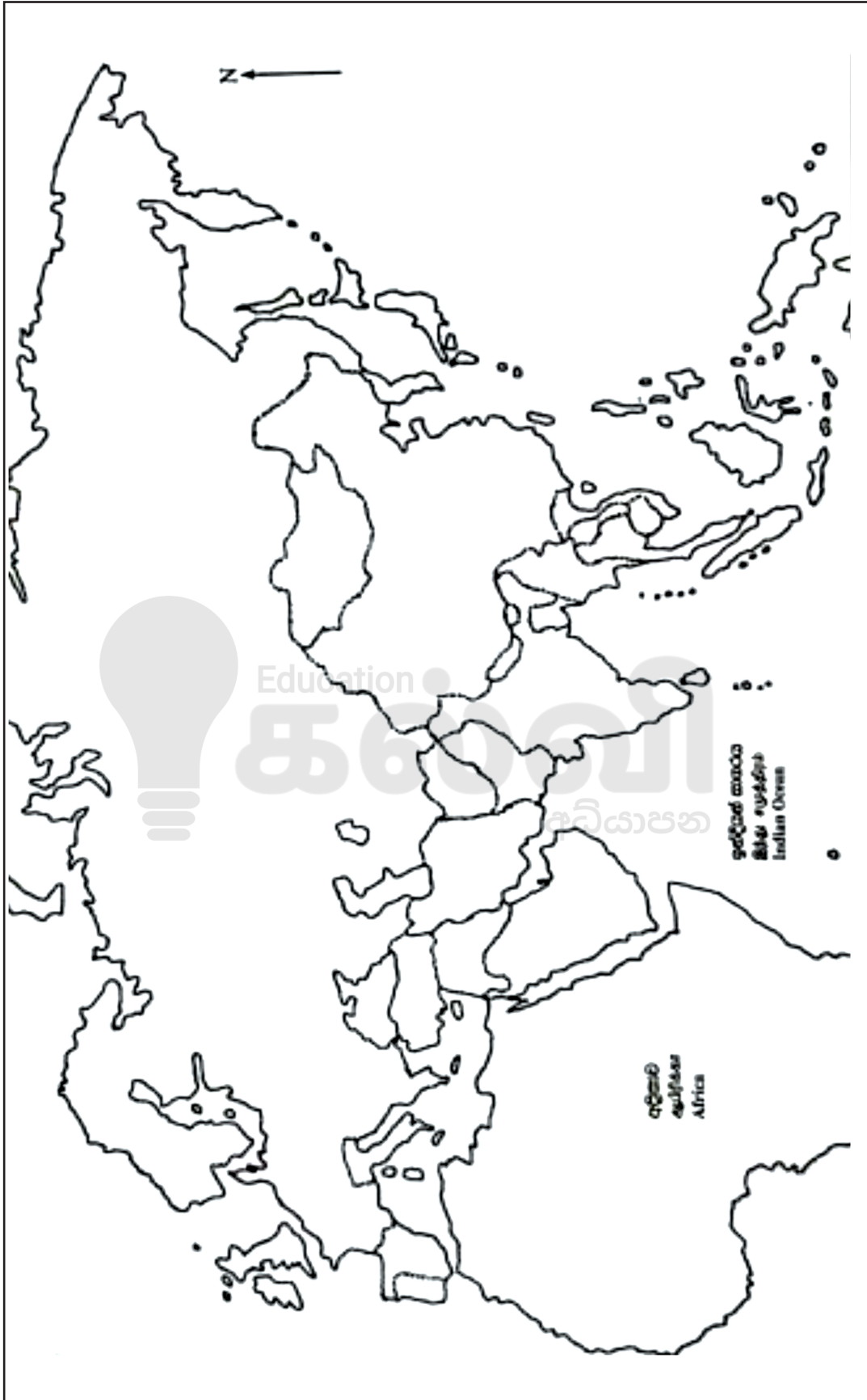
பகுதி - III

08. (I) மறுமலர்ச்சிக் காலத்தில் வாழ்ந்த பின்வரும் எழுத்தாளர்களோடு தொடர்புடைய தாய் நாடுகளைக் குறிப்பிடுக.
(A) பொக்காஷியோ (B) தோமஸ்மூர் (C) இராஸ்மஸ் (3 புள்ளிகள்)
- (II) மறுமலர்ச்சிக் காலத்தில் இடம்பெற்ற விடயங்கள் A,B,C,D எனத் தரப்பட்டுள்ளன இவற்றோடு தொடர்புடையவர்களை முறையே விடைத்தாளில் எழுதுக.
A) புளோரன்ஸ் நகரில் கலைகளை வளர்ப்பதில் பங்களிப்புச் செய்தவர்
B) சிஸ்டைன் ஆலயத்தின் பாவுகையில் உலகப்புகழ்பெற்ற ஓவியங்களை வரைந்தவர்.
C) ஆபிரிக்காவின் தென்முனைக்கு நன்னம்பிக்கைமுனை எனப்பெயர் சூட்டியவர்
D) வியாழனைச்சூழ உபகோள்கள் இருப்பதைக் கண்டறிந்தவர் (4 புள்ளிகள்)
- (III) மறுமலர்ச்சியானது உலகமயமாதலுக்கு பங்களிப்புச் செய்த முறையினை **இரு** காரணிகளின் ஊடாக விளக்குக. (5 புள்ளிகள்)
- (IV) ஐரோப்பாவில் ஏற்பட்ட மறுமலர்ச்சியானது இலங்கையின் அரசியல், பொருளாதார, சமூக பண்பாட்டுக் துறைகளில் ஏற்படுத்திய சாதகமான மாற்றங்கள் **ஒவ்வொன்று** வீதம் குறிப்பிட்டு விளக்குக. (6 புள்ளிகள்)
- 09 (I) அமெரிக்காவில் குடியேற்றங்களை அமைப்பதில் ஈடுபட்ட ஐரோப்பிய நாடுகள் **மூன்றினைக்** குறிப்பிடுக. (3 புள்ளிகள்)
- (II) அமெரிக்க சுதந்திரப் போர் இடம்பெறுவதில் செல்வாக்குச்செலுத்திய காரணிகள் **இரண்டினைக்** குறிப்பிடுக. (4 புள்ளிகள்)
- (III) பிரான்சியப் புரட்சி ஏற்படுவதில் செல்வாக்குச் செலுத்திய அரசியல் காரணிகள் **இரண்டைக்** குறிப்பிட்டு விளக்குக. (5 புள்ளிகள்)
- (IV) உலக அரசியல் அரங்கில் மாற்றங்களை ஏற்படுத்திய புரட்சியாக ரஷ்யப் புரட்சி கொள்ளப் படுவதற்கான காரணங்கள் **மூன்றைக்** குறிப்பிட்டு விளக்குக. (6 புள்ளிகள்)

 மடகாணக் கல்வித் திணைக்களம் வடக்கு மடகாணம் Provincial Department of Education, Northern Province 					
கல்விப் பொதுத் தராதரப் பத்திர (சாதாரண தர) மூன்றாம் துவணைப் பரீட்சை - 2022 (2022) General Certificate of Education (Ord.Level) Third Term Examination- 2022 (2023)					
	வரலாறு History	III TL எண் :			
பெயர் / கட்டெண்		<table border="1"><tr><td style="width: 33%;">33</td><td style="width: 33%;">T</td><td style="width: 33%;">II</td></tr></table>	33	T	II
33	T	II			

01. அ(I)





01. අ(II)

GRADE
6-11

STUDY WITH US..!
ICT
ONLINE CLASSES

இலங்கை முழுவதும் உள்ள மாணவர்களை இணைத்து Google Meet செயலி மூலமாக இணைய வழியில் நடைபெறும் ICT பாட நிகழ்நிலை வகுப்புகள்.

Conducted by
Pathmanathan Pathmaraj
(BIT, B.COM, PGDM, MBA, ACPM, MCP, N+)

TAMIL MEDIUM

MONTHLY

ENGLISH MEDIUM

600/=

Whatsapp ஊடாக எம்மை தொடர்பு கொண்டு வகுப்புகள் தொடர்பான மேலதிக விபரங்களை அறிந்து கொள்ள முடியும்.



075 287 1457



கல்வி
Digital Learning Platform

www.kalvi.lk





எங்கள் குறிக்கோள்

எண்ணிம உலகத்தில் மாணவர்களிற்கென சிறந்ததொரு கற்றல் கட்டமைப்பை உருவாக்குதல்.

அனைத்தும் டிஜிட்டல் மயப்படுத்தப்பட்ட இந்த காலத்தில் பல்வேறு துறைகளும் கால ஓட்டத்துடன் இணைந்து டிஜிட்டல் தளத்தில் பல்கிப்பெருகி வருகின்றன. அந்த வகையில் கல்வித்துறையும் இதற்கு விதிவிலக்கல்ல. இணையவழி கல்வியின் மூலம் கல்வித்துறை புதியதொரு பரிமாணத்தை எட்டியுள்ளது. குறிப்பாக கொரோனா பேரிடர் காலத்தில் நாடே முடக்கப்பட்டிருந்தது. இதனால் மாணவர்களிற்கும் பாடசாலை, கல்வி நிறுவனங்களிற்கு இடையிலான தொடர்பு துண்டிக்கப்பட்டது. அந்த இக்கட்டான சூழ்நிலையில் இணையவழி வகுப்புகள் மாணவர்களிற்கு வரப்பிரசாதமாக அமைந்தது என்பதே உண்மை.

இன்று தொழில்நுட்பம் மாணவர்களை தவறான பாதைக்கு இட்டு செல்வதாக ஓர் எண்ண ஓட்டம் மக்கள் மத்தியில் உள்ளது. தொழில்நுட்பம் என்பது ஒரு கருவி மட்டுமே அதை எவ்வாறு பயன்படுத்துகிறோம் என்பதில் அதன் ஆக்க மற்றும் அழிவு விளைவுகள் தீர்மானிக்கப்படுகிறது. உளியை கொண்டு சிலையை செதுக்க நினைத்தால் அவன் நிச்சயம் சிற்பி ஆகலாம். இங்கு பிரச்சினையாக காணப்படுவது மாணவர்களை வழிப்படுத்த தொழில்நுட்ப உலகில் ஓர் முறையான கட்டமைப்பு இல்லாமையே. அதை உருவாக்குவதே எங்கள் நோக்கம். அதை நோக்கியே எங்கள் பயணம் அமையும்.

எமது இணையத்தினூடக ஊடக உங்களிற்கு தேவையான பரீட்சை வினாத்தாள்களை இலகுவான முறையில் தரவிறக்கம் செய்து கொள்ளமுடியும்.

kalvi.lk

கல்வி சார் செய்திகளை உடனுக்குடன் அறிந்து கொள்ள எமது சமூக ஊடக தளங்களின் ஊடக உடனுக்குடன் அறிந்து கொள்ள முடியும்.



Viber
Community



Whatsapp
Channel



Facebook
Page