



எட்டுக்கள்

02

முதலாந் தவணை மாநிரி வினாத்தாள்


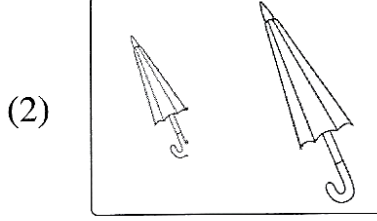

தரம்
01

கணிதம்




புள்ளி

பெயர் :

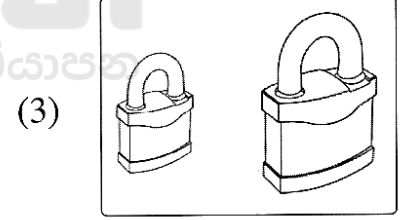


(1) உயரம் கூடிய உருவிற்கு நிறம் தீட்டுக.






(2) உயரம் குறைந்த உருவின் கீழ் கோடு வரைக.



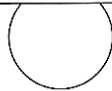



(3) பெரிய உருவிற்கு நிறம் தீட்டுக.



(4) சிறிய உருவின் கீழ் கோடு வரைக.



(5) உருக்களை எண்ணி இலக்கமிடுக.





(60 புள்ளிகள்)

(6) ஒன்றுடன் ஒன்று இணைக்குக. கூட உள்ள தொகுதியைச் சுற்றி வட்டமிடுக.





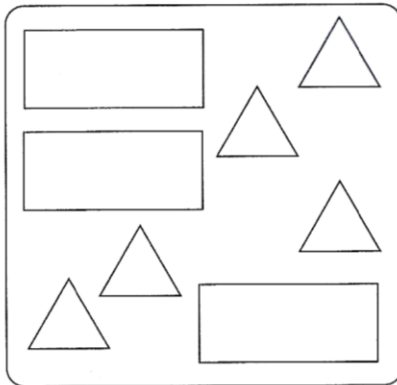
(10 புள்ளிகள்)

(7) சிறிய உருவிலிருந்து பெரிய உரு வரை வரிசைப்படுத்துக.



(15 புள்ளிகள்)

(8) வடிவங்களுக்கேற்ப வகைப்படுத்தி வரைக.



(15 புள்ளிகள்)