



மாகாணக் கல்வித் திணைக்களம்
வடக்கு மாகாணம்
Provincial Department of Education, Northern Province



மூன்றாம் தவணைப் பரீட்சை - 2022 - (2023)

தரம் - 08

சித்திரம்

நேரம்:
2.00 மணித்தியாலங்கள்

பெயர் / சுட்டெண்

பகுதி-I

- ❖ கீழே தரப்பட்டுள்ள ஒளிப்படத்தைப் பயன்படுத்தி 1 - 5 வரையான வினாக்களுக்கு விடை எழுதுக.



(A)



(B)



(C)



(D)



(E)

01. A என்னும் எழுத்தினால் குறிக்கப்படும் மலைநாட்டு நடனப் பாரம்பரியத்துடன் தொடர்புடைய சாந்திக்கிரியை எவ்வாறு அழைக்கப்படுகின்றது?
.....
02. B எழுத்தினால் காட்டப்படும் உடும்பு எனும் குகைச்சித்திரம் காணப்படும் குகை எது?
.....
03. C எழுத்தினால் காட்டப்பட்டுள்ள நிழற்படம் எக்கைத்தொழிலுடன் தொடர்புடையது?
.....
04. D எனும் எழுத்தினால் காட்டப்படும் சிற்பத்தின் ஆசன முறை யாது?.....
05. E எழுத்தினால் காட்டப்பட்டுள்ள குகை ஓவியத்தின் பெயர் யாது?.....

❖ 6 தொடக்கம் 10 வரையான வினாக்களுக்குச் சுருக்கமான விடை எழுதுக.

06. பொருள் ஒன்றைப் பிடித்திருக்கும் போது விரல்கள் அமைந்திருக்கும் கை முத்திரையின் பெயர் யாது?

07. பித்தளைக் கைத்தொழில் சிற்பங்கள் அமைக்கப் பயன்படுத்தப்படும் நுட்பமுறை யாது?

08. பன்னிரெண்டு ஆண்டுகளுக்கு ஒருமுறை நடைபெறும் கிரியையின் பெயர் யாது?


09. இந்துப் பெண் தெய்வங்களில் கீழே தொங்கவிடப்பட்ட கையினால் குறிக்கப்படும் முத்திரை யாது?.....

10. சிங்க உடலும் யானைத்தலையும் கொண்ட கற்பனை விலங்கின் பெயர் யாது?

❖ 11 தொடக்கம் 15 வரையான பின்வரும் படங்களை அவதானித்து அதன் பெயரை புள்ளிக் கோட்டில் எழுதுக.



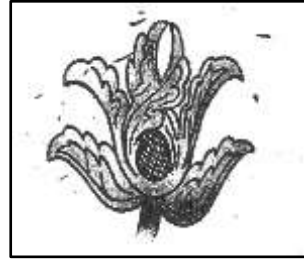
11.



13.



12.



14.



15.

❖ 16 தொடக்கம் 20 வரையான வாக்கியங்கள் சரியாயின் (✓) எனவும் பிழையாயின் (✗) எனவும் அடையாளம் இடுக.

16. எம்பக்க தேவாலயத்தில் மரச்செதுக்கு வேலைப்பாடுகள் காணப்படுகின்றன. ()
17. தந்திரி மலைக்குகையில் யானையும் குட்டியும் என்ற ஓவியம் காணப்படுகின்றது. ()
18. கறுப்பு, வெள்ளை வர்ணங்களைச் சேர்க்கும்போது பெறப்படும் வர்ணம் பச்சையாகும். ()
19. பாய் இழைத்தல் கைத்தொழிலில் ஈடுபடுவோரை கின்னர் என அழைப்பார். ()
20. சப்பிரகமுக பிரதேச நடனப் பாரம்பரியத்துடன் தொடர்புடைய சாந்திக் கிரியை கும்பாபிஷேகம் ஆகும். ()

(20x1=20புள்ளிகள்)

❖ 20 தொடக்கம் 25 வரையான வினாக்களுக்குப் பின்வரும் ஒளிப்படத்தை அவதானித்து விடை தருக.




21. மேலே காட்டப்பட்டுள்ள நிழற்படம் குறிக்கும் கைத்தொழில் யாது?
.....
22. இக் கைத்தொழிலுக்குப் பயன்படுத்தப்படும் மூலப்பொருள் (ஊடகம்) யாது?
.....
23. இக் கைத்தொழிலுக்குப் பயன்படுத்தப்படும் உபகரணம் எது?
.....
24. இக் கைத்தொழிலில் பாண்டங்களை உருவாக்கும் முறை ஒன்று தருக.
.....
25. இக் கைத்தொழில் மூலம் உருவாக்கப்படும் வீட்டுப் பாண்டங்கள் இரண்டு தருக.
.....

(5x2=10 புள்ளிகள்)

பகுதி – II

- பின்வரும் உருக்களை இரேகை மூலம் வரைந்து முப்பரிமாணத்தில் காட்டுக.



பெட்டி

கரப்பந்து/ உதைபந்து

(2x10=20 புள்ளிகள்)

பகுதி – III

கீழே தரப்பட்ட தலைப்புக்களில் ஒன்றை மாத்திரம் வரைந்து வர்ணம் தீட்டுக.

1. வயல் அறுவடையில் ஈடுபடும் தொழிலாளர்கள்.
2. பரபரப்பான பஸ் நிலையம் அல்லது புகையிரத நிரலயம்.
3. தழுவணை உறை ஒன்றிக்கான அலங்காரம்.
4. வண்ணத்துப் பூச்சி உருவை பயன்படுத்தி பரவுருவ சீத்தைத்துணி ஒன்றை வரைக.
5. உமது பாடசாலையின் பெயர்ப்பலகை ஒன்றை வடிவமைக்குக.

(50புள்ளிகள்)

2025

1ம் தவணை வகுப்புகள்

தரம் 6 முதல் 11 வரையான
மாணவர்களிற்கான தமிழ் மற்றும் ஆங்கில
மொழிமூல வகுப்புக்கள் ஆரம்பமாகவுள்ளன.

ஆரம்பம் 01.01.2025



இலங்கையின் எப்பாகத்திலிருந்தும்
Zoom app மூலம் எமது வகுப்புகளில்
இணைந்து கொள்ள முடியும்.

அனைத்துப் பாடங்களும் ஒரே கல்வி நிறுவனத்தின் கீழ்...



Education
கல்வி Kalvi.lk
අකමර



Whatsapp
075 287 1457