


மாகாணக் கல்வித் திணைக்களம் -வடக்கு மாகாணம்
முதலாம் தவணைப் பரீட்சை-2024
கணிதம்

தரம்- 2

பெயர்.....

(1) வகைப்படுத்தி வரைக






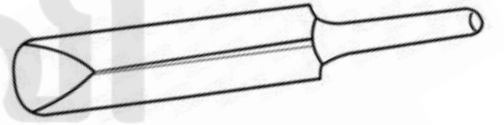
(2) தொடர்புபடுத்துக



Education

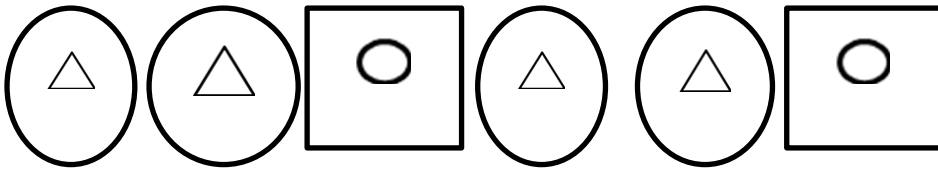

கல்வி

අධ්‍යාපන



கூடுதலாக உள்ளது?.....

(3) அடுத்து வரும் உருவை வரைக



(4) கூட்டுக

$\begin{array}{r} 5 \\ 2 \\ \hline \end{array}$	$\begin{array}{r} 4 \\ 3 \\ \hline \end{array}$	$\begin{array}{r} 5 \\ 3 \\ \hline \end{array}$	$\begin{array}{r} 4 \\ 4 \\ \hline \end{array}$	$\begin{array}{r} 6 \\ 1 \\ \hline \end{array}$
$\begin{array}{r} 7 \\ 2 \\ \hline \end{array}$	$\begin{array}{r} 8 \\ 1 \\ \hline \end{array}$	$\begin{array}{r} 6 \\ 3 \\ \hline \end{array}$	$\begin{array}{r} 5 \\ 4 \\ \hline \end{array}$	$\begin{array}{r} 6 \\ 2 \\ \hline \end{array}$


(5) கழித்தல்

$5-2=$ _____	$5-1=$ _____	$9-6=$ _____
$8-4=$ _____	$9-5=$ _____	$8-5=$ _____
$6-2=$ _____	$8-3=$ _____	$7-2=$ _____

(6) தொடர்புபடுத்துக

பதினைந்து	19
பதினேழு	16
ஒன்பது	18
பதினெட்டு	9
பதினாறு	15
பத்தொன்பது	17

(7) எண்ணிற்கேற்ப படம் வரைக



12



13

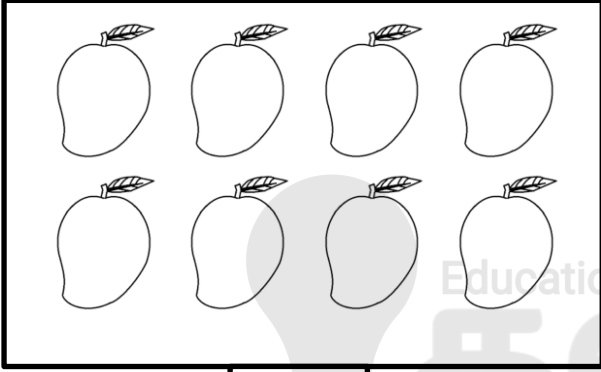
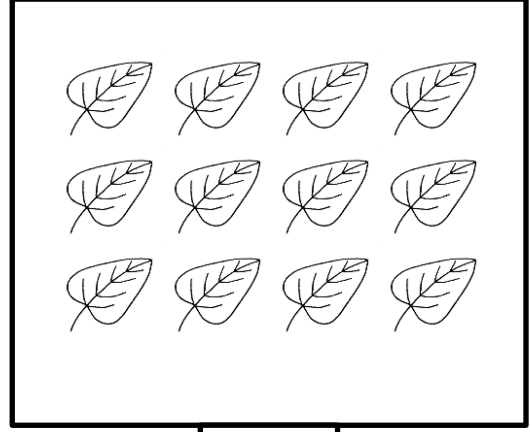



18



8

(8) எண்ணி இலக்கம் எழுதுவோம்



(9) எண்பெயரை எழுதுக

8 -

10 -

13 -

15 -

20 -