

இர/நிவி/பரகட்டிய தமிழ் வித்தியலயாம் (இரத்தினபுரி)

முதலாம் தவணை பரீட்சை-2021



கணிதம்

தரம்-03

மாணவர் பெயர்.....

புள்ளிகள்

நேரம் - 01 மணித்தியாலம்

100

பின்வரும் வினாக்களுக்கு விடை தருக.

01.கூட்டுக

+	2	4	6	9
1				
3				
5				
7				
9				

புள்ளிகள்-10

02.கழிக்கவும்.

01.12-6 = 02.6-4 =

03.16-9 = 04.13-8 =

05.14-4 = 06.12-7 =

07.10-1 = 08.6-4 =

09.9-9 = 10.30-29 =

03.ஒரு கிழமையில் உள்ள நாட்களின் பெயர்களை எழுதுக.

புள்ளிகள்-10

1.
2.
3. புதன்கிழமை
4.
5.
6.
7.

புள்ளிகள்-10

04.இடைவெளி நிரப்புக.

01. $2 \times 2 = \dots\dots\dots$

02. $7 \times 2 = \dots\dots\dots$

03. $5 \times \dots\dots\dots = 10$

04. $\dots\dots\dots \times 2 = 12$

05. $\dots\dots\dots \times 2 = 6$

06. $1 \times 2 = \dots\dots\dots$

07. $12 \times 2 = \dots\dots\dots$

08. $8 \times \dots\dots\dots = 16$

09. $5 \times 4 = \dots\dots\dots$

10. $5 \times 5 = \dots\dots\dots$

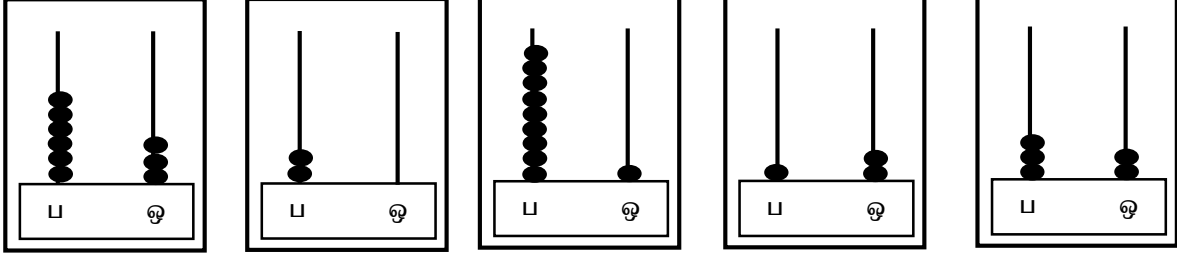
புள்ளிகள்-10

05. தரப்பட்டுள்ள எண்களின் பெயர்களை எழுதுக.

எண்	பெயர்
10	
35	
20	
16	
59	
72	
88	
50	
99	
100	

புள்ளிகள்-10

06.எண்சட்டத்தில் வகைகுறிக்கப்பட்டுள்ள எண்களை கீழே உள்ள கோட்டில் எழுதுக.



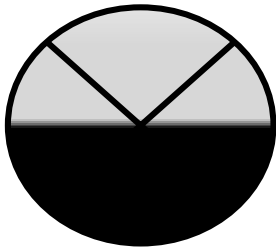
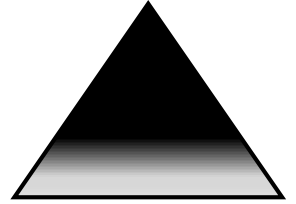


பின்வரும் வடிவங்களின் பெயர்களை எழுதுக.



புள்ளிகள்-10

07.தரப்பட்டுள்ள படங்களை அவதானித்து அவற்றில் நிறந்தீட்டப்பட்டுள்ள பகுதியின் பெயரை அடைப்பில் இருந்து தெரிவு செய்து எழுதுக.

(அரைவாசி, கல்வாசி)



புள்ளிகள்-10

08.பின்வரும் வினாக்களை வாசித்து விடைத் தருக.

1. கூட்டுத்தொகை 60 கிடைப்பதற்கு 40 உடன் எத்தனையை கூட்ட வேண்டும்?
.....
2. ஒருவரிடம் 48 மாம்பழங்கள் இருந்தன. அவற்றில் 23 மாம்பழங்களை விற்றார். எனின் அவரிடம் மிகுதி எத்தனை மாம்பழங்கள் இருக்கும்?
.....
3. 100 என்ற எண்ணிற்கு முன்னால் உள்ள யாது?
.....
4. ஓர் ஆண்டில் எத்தனை மாதங்கள் உள்ளன?
.....
5. ஒரு வாரத்தில் உள்ள பாடசாலை விடுமுறை நாட்கள் எத்தனை? அவற்றின் பெயர்களை தருக.
.....

புள்ளிகள்-15

6. படத்தை அவதானித்து தரப்பட்டுள்ள வினாக்களுக்கு விடைத் தருக.



1. பிள்ளையின் இடதுகைப் பக்கத்தில் இருப்பது என்ன?
.....
2. பிள்ளையின் வலதுகைப் பக்கத்தில் இருப்பது என்ன?
.....

புள்ளிகள்-05

09.தீர்க்க.

$\begin{array}{r} 33 \\ +41 \\ \hline \end{array}$	$\begin{array}{r} 47 \\ +21 \\ \hline \end{array}$	$\begin{array}{r} 09 \\ +19 \\ \hline \end{array}$	$\begin{array}{r} 18 \\ +77 \\ \hline \end{array}$	$\begin{array}{r} 99 \\ +01 \\ \hline \end{array}$
$\begin{array}{r} 63 \\ -22 \\ \hline \end{array}$	$\begin{array}{r} 42 \\ -42 \\ \hline \end{array}$	$\begin{array}{r} 29 \\ -20 \\ \hline \end{array}$	$\begin{array}{r} 72 \\ -59 \\ \hline \end{array}$	$\begin{array}{r} 85 \\ -19 \\ \hline \end{array}$

புள்ளிகள்-10