



வலயக் கல்வி அலுவலகம் - வடமராட்சி

மூன்றாம் தவணைப் பரீட்சை - 2017

சித்திரக்கலை

தரம் : 06

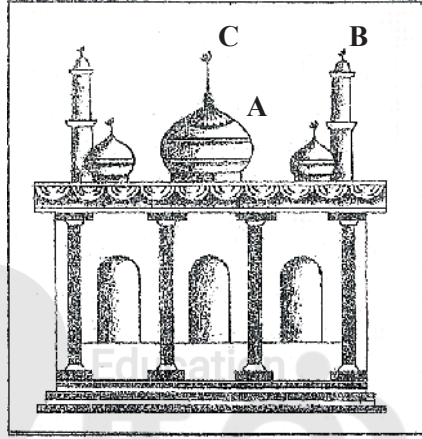
நேரம் : 2.00 மணி

சுட்டெண் :

பகுதி - ஐ

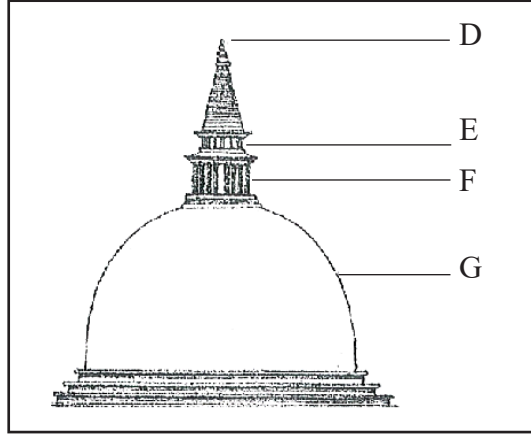
எ எல்லா வினாக்களுக்கும் இத்தாளிலேயே விடையளிக்குக.

ற 01 - 05 வரையான வினாக்களுக்கு தரப்பட்டுள்ள படத்தை இனங்கண்டு விடையளிக்குக.



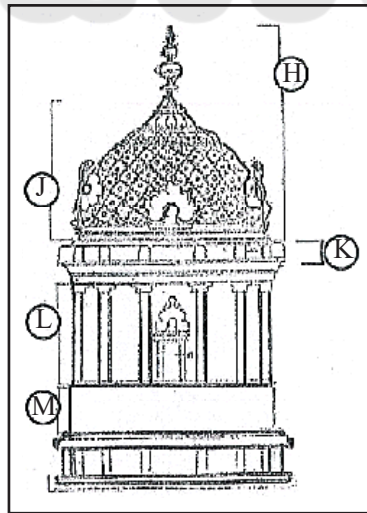
- (1) மேலே படத்தில் காட்டப்பட்டுள்ளது எந்தச் சமயத்தவரது வழிபாட்டுத் தலமாகும்.
.....
- (2) A என்ற எழுத்தால் குறிக்கப்படும் கூர்துனிப்பகுதியுடன் கூடிய விசாலமான கும்மட்ட வடிவம் எப்பெயரால் அழைக்கப்படும்?
.....
- (3) B என்ற எழுத்து குறிக்கும் விசேஷமான உருளை வடிவை ஒத்த மிக உயரமான தூண் அமைப்பு எப்பெயரால் அழைக்கப்படும்?
.....
- (4) C என்ற எழுத்து குறிக்கும் பகுதியின் பெயர் யாது?
.....
- (5) இவ் வழிபாட்டுத் தலத்தினுள் சுவர்களில் அரபி எழுத்துக்களால் குர்ஆன் வசனங்கள் எம்முறையில் எழுதி அலங்கரிக்கப்பட்டிருக்கும்?
.....

ற 06 - 10 வரையான வினாக்களுக்கு தரப்பட்டுள்ள படத்தை இனங்கண்டு விடையளிக்குக.



மேலே காட்டப்பட்டிருப்பது பௌத்த சமயத்தவரது வழிபாட்டுத்தலமாகிய (6).....
 ஆகும். இதில் D என்ற எழுத்துக் குறிக்கும் பகுதி (7).....
 ..ஆகும். இங்கு E என்ற எழுத்தால் குறிப்பிடப்படும் பகுதி (8).....
 .. எனப்படும். F என்ற எழுத்தால் குறிக்கப்படும் சதுரகோட்டம் என்னும் பகுதியானது இந்தியாவில்
 சாஞ்சி தூபியில் காணப்படும் (9)..... என்னும் அமைப்பை
 ஒத்துள்ளது. இக்கட்டடக் கலைக்கு வடிவத்தைக் கொடுக்கும் பகுதியான G (10).....
 எனக் குறிப்பிடப்படுகிறது.

w 11 - 15 tiuahd tpdhf;fSf;F fPNo cs;s glj;ij mbg;gilahff; nfhz;L tpilaspf;Ff.




இந்துக் கோயிலில் காணப்படும் கர்ப்பக் கிரகத்தின் கட்டடக் கலை அம்சங்களை இப்படம்
 குறித்து நிற்கின்றது. இதில் ஒவ்வொரு எழுத்தும் குறிக்கும் பகுதியின் பெயரினைக் குறிப்பிடுக.

- (11) H -
 (12) J -
 (13) K -
 (14) L -
 (15) M -

w 16 - 20 tiuahd tpdhf;fSf;F rupahd tpilapd; fPo;f;NfhbLf.

- (16) மூல வர்ணங்களைக் குறிக்கும் தொகுதியாக அமைவது
(1) சிவப்பு, மஞ்சள், செம்மஞ்சள்
(2) பச்சை, நீலம், ஊதா
(3) சிவப்பு, மஞ்சள், செம்மஞ்சள்
(4) பச்சை, செம்மஞ்சள், ஊதா
- (17) கோலம் போடுதலுடன் தொடர்புடைய இந்துசமயப் பண்டிகை
(1) நத்தார் (2) தைப்பொங்கல் (3) வெசாக் (4) ரமழான்
- (18) நீலவர்ணத்துடன் சிவப்பு வர்ணத்தைக் கலக்கும் பொழுது பெறப்படும் வர்ணம்
(1) கபிலம் (2) செம்மஞ்சள் (3) பச்சை (4) ஊதா
- (19) உயிரற்ற வகையைச் சேர்ந்த அலங்கார வடிவமாக அமைவது
(1) அரும்பு (2) சீனமலர் (3) பேருண்டப்பறவை (4) கஜசிங்க
- (20) தூபராம தாது கோபத்தின் தற்போதைய வடிவமாகக் காணப்படுவது
(1) தானியக் குவியல் (2) நீர்க்குமிழி வடிவம் (3) பாளை வடிவம் (4) மணி வடிவம்

w 21 - 25 tiuahd tpdhf;fSf;F jug;gl;Ls;s glj;ij ,dq;fz;L tpilaspf;Ff.



- (21) இதில் P என்ற எழுத்தால் குறிக்கப்படும் பகுதி எப்பெயரால் அழைக்கப்படும்?
.....
- (22) இக்கட்டட அமைப்பில் Q என்ற எழுத்து குறிக்கும் பகுதியின் பெயர் யாது?
.....
- (23) இலங்கையில் உள்ள கிறிஸ்தவ தேவாலயங்கள் அமைக்கப்படும் இரண்டு வகையான கட்டட நிர்மாணப் பாணிகளும் எவை?
.....
- (24) கிறிஸ்தவ தேவாலயத்தின் கிடைத்திட்டம் என்ன வடிவானது?
.....
- (25) இலங்கையில் முதன்முதலில் கிறிஸ்தவ தேவாலயங்களை அமைத்த இந்தியர் யார்?
.....

(25 × 2 = 50 புள்ளிகள்)

gFjp - II

v gpd;tUk; jiyg;Gf;fspy; xd;wpidj; njupT nra;J tiue;J tu;zk; jPl;Lf.

- (1) சனக்கூட்டம் நிறைந்த கிராமத்துக் கடை
- (2) சமயச் சடங்கு
- (3) பிள்ளையைத் தாலாட்டும் தாய்
- (4) விளையாட்டு விழாவுக்கான அழைப்பிதழ்
- (5) சமய விழாவொன்றுக்கான வாழ்த்து அட்டை
- (6) பூச்சாடி ஒன்றிற்கான அலங்காரம்
- (7) மூலவரணங்களைப் பயன்படுத்தி புதிய வகையிலான கோலம்

(50 புள்ளிகள்)



2025

1ம் தவணை வகுப்புகள்

தரம் 6 முதல் 11 வரையான
மாணவர்களிற்கான தமிழ் மற்றும் ஆங்கில
மொழிமூல வகுப்புக்கள் ஆரம்பமாகவுள்ளன.

ஆரம்பம் 01.01.2025



இலங்கையின் எப்பாகத்திலிருந்தும்
Zoom app மூலம் எமது வகுப்புகளில்
இணைந்து கொள்ள முடியும்.

அனைத்துப் பாடங்களும் ஒரே கல்வி நிறுவனத்தின் கீழ்...



Education

கல்வி Kalvi.lk
අකමර



Whatsapp

075 287 1457