



கமுகமுகு/அரசினர் முஸ்லிம் கலவன் பாடசாலை - சாய்ந்தமருது
இரண்டாந் தவணைக் கணிப்பீடு - 2023

தரம்

3

சுற்றாடல்சார் செயற்பாடு

புள்ளிகள்


வகுப்பு

நேரம்:

1 மணி 15 நிமிடம்


சுட்டெண்/பெயர்:

01.சரியான விடையின் கீழ்க் கோடிடுக

- பின்வரும் பொருட்களில் உக்கும் பொருள்
1. கண்ணாடிக் கீலம் 2. பொலித்தீன் 3. சிரட்டை
- ஆசிரியர் கூறுவதைப் பின்பற்றி நடப்பவர்கள் எதற்கு ஒப்பாவார்கள்
1. மயிர்க்கொட்டி 2. வண்டு 3. வண்ணத்துப்பூச்சி
- முஸ்லிம்களின் வேத நூல் எது?
1. பகவத்கீதை 2. பைபிள் 3. அல்குர்ஆன்
- இலங்கைக்கு சுதந்திரம் கிடைத்த ஆண்டு
1. 1948ம் வருடம் 2. 1947ம் வருடம் 3. 1972ம் வருடம்
- பின்வரும் தாவரங்களுள் ஆணி வேர் காணப்படும் தாவரம்
1. பப்பாசி 2. தென்னை 3. பனை
-  படத்தில் காணப்படும் இலையின் பெயர் குறிப்பது
1. ஆமணக்கு 2. பப்பாசி 3. மரவள்ளி
- மரமொன்றை துளையிடும் பிராணி எது?
1. மைனா 2. மரங்கொத்தி 3. கொக்கு
- பொபதி செய்யப்பட்ட உணவுகளை வாங்கும் போது அவதானிக்க வேண்டியது
1. உற்பத்தித் திகதி 2. நிறை 3. காலாவதித்திகதி
- நீரைச் சுத்திகரிக்கப் பயன்படும் இரசாயணப் பொருள் எது?
1. விறகுக்கரி 2. குளோரின் 3. சாம்பல்
- பொது வாகனங்களில் ஒன்று எது?
1. புகையிரதம் 2. உந்துருளி 3. துவிச்சக்கர வண்டி

(10X2=20புள்ளிகள்)

02. மிகச் சரியான சொல்லுடன் படத்தை இணைக்குக

1.  தாள்களை பிணைத்தல்

2.  தர்மச் சக்கரம்

3.  டெங்கு நோய்

4.  ஒலி எழுப்பத்தடை

5.  கம்பளித்தையல்

4.(5X2=10புள்ளிகள்)

03. அடைப்பினுள் உள்ள வாகனங்களின் பெயர்களை வகைப்படுத்தி அட்டவணையில் எழுதுக

கார்	படகு	விமானம்	முச்சக்கர வண்டி	தோணி
பேருந்து	ஹெலிகொப்டர்	கப்பல்	பரகூட்	வள்ளம்

தரையில் பயணிக்கும் வாகனங்கள்	நீரில் பயணிக்கும் வாகனங்கள்	ஆகாயத்தில் பயணிக்கும் வாகனங்கள்

(10X1=10புள்ளிகள்)

04.சரியாயின் (✓) எனவும் பிழையாயின் (✗) எனவும் அடையாளம் இடுக

1. உக்கும் குப்பைகளால் சூழலுக்கு நன்மை ஏற்படும் ()
2. சுதந்திர தின விழாவில் மட்டுமே தேசியக் கீதம் இசைக்கப்படும். ()
3. மரஞ்செடி கொடிகள் சூழலுக்கு குளிர்ச்சியைத் தருகின்றன. ()
4. எமது பிரதான உணவு வேளைகள் கலப்புணவாக இருக்க வேண்டும். ()
5. நீர் இல்லாவிட்டால் சுற்றாடல் செழிப்பாக இருக்கும். ()

(5X2=10புள்ளிகள்)

05.பொருத்தமான விடை எழுதுக?

1. சூழலில் நீர் காணப்படும் இடங்கள் 02 எழுதுக.:

1.....2.....

2. நீரின் பயன்கள் 02 எழுதுக?

1..... 2.....

3. எரிபொருள் இன்றி பயணம் செய்யும் வாகனங்கள் 02 எழுதுக

1..... 2.....

4. விரைவில் பழுதடையக் கூடிய உணவுகள் 02 எழுதுக

1..... 2.....

5. தொற்றும் நோய்கள் 02 எழுதுக

1..... 2.....

6. நான்கு சில்லுகளைக் கொண்ட வாகனங்கள் 02 எழுதுக

1..... 2.....

7. பானம் தயாரிக்க உதவும் பழங்கள் 02 தருக?

1..... 2.....

8. வகுப்பறையில் பயன்படுத்தும் உபகரணங்கள் 02 தருக.:

1..... 2.....

9. உணவை அசுத்தமடையச் செய்யும் பிராணிகள் 02 எழுதுக?

1..... 2.....

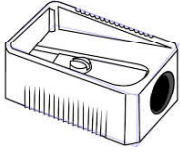
10. தேசியக் கொடியில் காணப்படும் நிறங்கள் 02 எழுதுக?

1..... 2.....

(10X3=30புள்ளிகள்)

06. பின்வரும் பொருள்களினால் பெறக் கூடிய பயன்களை கோட்டில் எழுதுக.

1.



.....

2.



.....

3.



.....

4.



.....

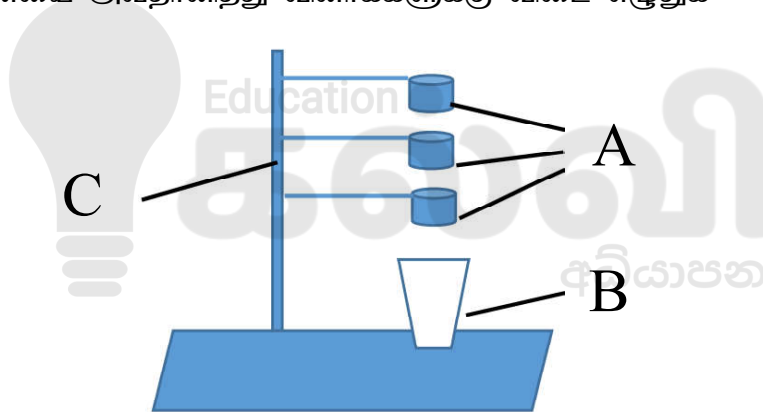
5.



.....

(5X2=10புள்ளிகள்)

பின்வரும் பரிசோதனையை அவதானித்து வினாக்களுக்கு விடை எழுதுக



1. படத்தில் குறிக்கப்பட்ட A,B,C ஆகிய எழுத்துக்கள் குறித்து நிற்பவை யாவை?

A B..... C

2. உருவின் பெயர் என்ன?

.....

3. இந்தப் பரிசோதனை எதற்காக செய்யப்படுகின்றது?

.....

(5X2=10புள்ளிகள்)