



9. நீளத்தை அளக்கப் பயன்படும் நியம அலகு யாது?

- 1) சென்றி மீற்றர்                      2) கிலோ கிராம்                      3) மீற்றர்


10. ஒரு வாரத்தில் எத்தனை நாட்கள்?

- 1) 6    2) 7    3) 5

(10 x 2 = 20 புள்ளிகள்)

02. நீளத்தை அளக்கப் பயன்படும் நியம அலகு யாது?

1)



.....

2)



.....

3)



.....

4)



.....

(4 x 3 = 12 புள்ளிகள்)

03. எண்களில் எழுதுவோம்.

1) இருபத்தேழு .....

2) ஐம்பத்தெட்டு .....

3) தொண்ணூறு .....

4) முப்பத்தொன்பது .....

(4 x 2 = 08 புள்ளிகள்)

04. வெற்றிடங்களை நிரப்புவோம்.

- 1) பத்துக்கள் 8 ஒன்றுகள் 0 → எண் .....
- 2) பத்துக்கள் 3 ஒன்றுகள் 6 → எண் .....
- 3) பத்துக்கள் 5 ஒன்றுகள் 3 → எண் .....
- 4) பத்துக்கள் 2 ஒன்றுகள் 6 → எண் .....
- 5) பத்துக்கள் 9 ஒன்றுகள் 2 → எண் .....

(5 x 2 = 10 புள்ளிகள்)

05. கூட்டுவோம்.

- 1)  $\begin{array}{r} 35 \\ + 24 \\ \hline \end{array}$       2)  $\begin{array}{r} 70 \\ + 12 \\ \hline \end{array}$       3)  $\begin{array}{r} 34 \\ + 15 \\ \hline \end{array}$       4)  $\begin{array}{r} 48 \\ + 11 \\ \hline \end{array}$

(4 x 3 = 12 புள்ளிகள்)

06. கழிப்போம்.

- 1)  $\begin{array}{r} 17 \\ - 5 \\ \hline \end{array}$       2)  $\begin{array}{r} 35 \\ - 11 \\ \hline \end{array}$       3)  $\begin{array}{r} 48 \\ - 6 \\ \hline \end{array}$

4)  $11 - 4 = \dots\dots$


(4 x 3 = 12 புள்ளிகள்)

07. பெருக்குவோம்.


- 1)  $3 \times 2 = \square$       2)  $8 \times 2 = \square$

(2 x 3 = 06 புள்ளிகள்)

08. கடி்கார முகத்தில் காட்டப்படும் நேரத்தை எழுதுக.




நேரம் ..... மணி




நேரம் ..... மணி

தரப்பட்ட நேரத்தை கடி்கார முகத்தில் குறித்துக் காட்டுக.



நேரம் 4.00 மணி



நேரம் 1.00 மணி

(4 x 3 = 12 புள்ளிகள்)

09. வருடத்தின் முதலாவது மாதம் எது?

.....

10. ஒரு கூடையில் 12 பழங்கள் உள்ளன. அவற்றை இருவருக்கு சமமாக வகுத்தால் ஒருவருக்கு எத்தனை கிடைக்கும்?

.....

(2 x 4 = 08 புள்ளிகள்)