



கமுக/கமுக/஁ர஑ினர் முஸ்லிம் கலவன் ப஁ட஑஁லை - ஑஁ய்ந்தமருது

஁ரண்ட஁ந் தவணைக் கனிப்பீடு - 2023

தர஁ம்  
**5**

஑ுற்ற஁டல்஑஁ர் ஑ெயற்ப஁஁டு

புள்ளிகள்

வகுப்பு

நேரம்:

1 மணி 30 நிமிடம்

஑ுட்வெண்/வெயர்:

எல்ல஁ வின஁க்களுக்கும் ஁த்த஁ளிலேயே விடை எழுதுக

(01) ஑ூழலில் மற்றும் ஁ருகில் , தூரத்தில் கேட்கும் ஁லிகளை உணர்வதுடன் எமது ஁தயத்துடிப்பு, மு஑்஑விடும் ஑த்தம் என்பவை எ஁க்குக் கேட்கின்றனவ஁? என உணரும் மனதை ஁ரு நிலைப்படுத்தும் ஑ெயற்ப஁ட்டை எவ்வ஁று ஁ழைப்பது?

- (1) உடலைத்தளர்த்துதல், (2) மனவறுதிப்ப஁டு.  
(3) மனதைத்தளர்த்துதல்.



(02) பின்வருவனவற்றுள் ஑ிறந்த ஑க஁த஁ரப்பழக்கம் எது?

- (1) தினமும் க஁லையில் ஁றை வணக்கத்தில் ஈடுபடுதல்  
(2) தினமும் ஁ரு வேளை பல் துலக்குதல்  
(3) ஏனைய ம஁ணவர்களுடன் ஁ற்றுமையுடன் ஑ெயற்படுதல்.

(03) உணவு உண்ணுதல் தொடர்ப஁க எம்மிடமிருக்க வேண்டிய ஑ிறந்த பழக்கம்.

- (1) உடனடி உணவுகளை ஁டிக்கடி பயன்படுத்துதல்.  
(2) ஁னிப்பு ஑வைய஁ன உணவுகளை ஁டிக்கடி உண்ணுதல்  
(3) பிரத஁ன உணவு வேளைகளில் ஑ீரையொன்றை ஑ேர்த்துக் கொள்ளுதல்

(√x2=14)

(04) ஑ரட்டை ஁ன்றின஁ல் மூடப்பட்ட புற் தரையின் ஁ரு பகுதி படத்தில் க஁ட்டப்பட்டுள்ளது. ஁ரு வ஁ரத்தின் பின் ஑ரட்டையை நீக்கின஁ல் புல்லுக்கு ய஁து நிகழ்ந்திருக்கும்.



- (1) புற்கள் ப஑்஑ை நிறம஁கக் க஁ணப்படும்  
(2) புற்கள் மஞ்஑ள் நிறத்தில் க஁ணப்படும்  
(3) புற்கள் கருகிக் க஁ணப்படும்.

(05) மிக விரைவில் வளரக்கூடிய த஁வரம்

- (1) ஁வரை (2) மூங்கில் (3) ஁லுப்பை

(06) வ஁னிலை தொடர்ப஁ன எதிர்வ஑ுறலை உடனுக்குடன் ஁றியத் தரும் ஁டகம் எது?

- (1) தொலைபே஑ி (2) பத்திரிகை (3) வ஁னொலி

(07)

**A**

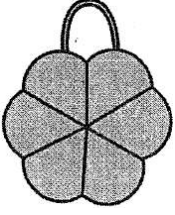
**B**


**C**

**D**

மேற்படி உப஑ரணத்தொகுதியை ஁மைத்து ஁வத஁னித்து வரும் போது எந்த முகவையில் க஁ணப்படும் வித்து விரைவ஁க முளைப்பதை ஁வத஁னிக்கல஁ம்?

- (1) முகவை- B (2) முகவை- C (3) முகவை- D

- (08) கலாவாவிக் கடவுள், சமத்துவக் கொடை வேந்தன் என அழைக்கப்பட்ட மன்னன் யார்?  
 (1) தாதுசேனன் (2) மகாசேனன் (3) பராக்கிரமபாகு
- (09) கிறுக்கல் கவிதைகள், சுவரோவியங்கள் ஆகிய காணப்படும் வரலாற்று இடம்?  
 (1) சிகிரியா (2) யாப்பகூவ (3) இசறுமுனி
- (10) வீட்டுத்தோட்டத்தில் பயிர்களுக்கு இடையில் செவ்வந்திச் செடியை நடுவதன் நோக்கம்.  
 (1) வீட்டுத் தோட்டத்திற்கு அழகைச் சேர்ப்பதற்கு  
 (2) பயிர்களுக்கு சேதம் விளைவிக்கும் பூச்சிகளை விரட்டுவதற்கு  
 (3) வீட்டுத்தோட்டத்தின் இட அளவை உச்ச அளவில் பயன்படுத்துவதற்கு
- (11) கைபிடியுடன் கூடிய பாத்திரத்தில் தேநீர் பரிமாறும் போது  
 (1) நாம் பாத்திரத்தின் கைப்பிடியில் பிடித்து ஏனையவர்களுக்கு பரிமாறுதல்.  
 (2) பாத்திரத்தின் கைப்பிடி பிடிப்பவரின் வலதுபக்கத்தில் அமையுமாறு பரிமாறுதல்.  
 (3) பாத்திரத்தின் கைப்பிடி எம்மை நோக்கி அமைத்திருக்கும் நிலையில் பரிமாறுதல்.
- (12) “ ஏப்ரன் ” எனப்படுவது  
 (1) தையலில் போது பயன்படுத்துவது (2) சமையலின்போது பயன்படுத்துவது  
 (3) வரைதலின் போது பயன்படுத்துவது.
- (13) இவ் உபகரணத்தை கூராக்குவதற்கு பயன்படும் கருவி எது?  
 (1) உளி (2) அரம் (3) எண்ணெய்க்கல்
- (14)  இதன் பயன்பாடாக அமைவது?  
 (1) ஊசி செருக (2) கரும்பலகை அழிக்க  
 (3) சமையலின் போது உணவை பாதுகாக்க
- (15) பின்வருவனவற்றுள் வழுவழுப்புத் தன்மை கொண்ட காய்கறி எது?  
 (1) கத்தரி (2) வெண்டி (3) வாழைக்காய்
- (16) இலகுவில் சமிக்கக் கூடிய உணவுகளை உட்கொள்ள வேண்டியது எவ் உணவு வேளையிலாகும்  
 (1) காலை வேளை (2) பகல் வேளை (3) இரவு வேளை
- (17) கொம்பு ஓணான், நீர்ப்பாம்பு என்பன  
 (1) முவையூட்டிகள் (2) மீனினங்கள் (3) நகருயிர்கள்
- (18) வித்து முளைத்தலுக்கு அவசியமற்ற காரணி  
 (1) நீர் (2) வளி (3) சூரியஒளி
- (19) தண்டுத்துண்டங்களை நட்டு புதிய தாவரமொன்றைப் பெற முடியாதது  
 (1) இஞ்சி (2) கரும்பு (3) கற்பூரவள்ளி
- (20) கீழ்த் தரப்படும் உணவுப்பொதியை இப்போது உண்பதற்கு



(✓x2=26)



- (1) பொருத்தமானது  
 (2) பொருத்தமற்றது  
 (3) கூறமுடியாது.

② அடைப்புக்குள் தரப்பட்டுள்ள சொற்களைக் கொண்டு இடைவெளிகளைப் பூர்த்தி செய்க.

( குறடு , சதைகரைச்சான் , மேம்பாலம் , குளோரின் , நாகா )

- (1) கிணற்று நீரை சுத்தப்படுத்த ..... பயன்படுத்துவர்.
- (2) ஏதாவது ஒன்றை உறுதியாகப் பிடித்துக் கொள்ள .....பயன்படுத்தப்படும்.
- (3) இலங்கையின் தேசிய மரம் ..... ஆகும்.
- (4) இலைகளில் வேர் இழுக்கச் செய்யும் தாவரம் .....ஆகும்.
- (5) சன நெரிசல் உள்ள இடங்களில் வீதியைக் கடக்க ..... அமைக்கப்பட்டிருக்கும்.

③ A பகுதிக்குப் பொருத்தமான விடையின் ஆங்கில எழுத்தை மட்டும் B பகுதியில் தெரிவு செய்து அடைப்பில் எழுதுக.

| A பகுதி                   | B பகுதி            |
|---------------------------|--------------------|
| (1) பொசன் பண்டிகை (.....) | A கிழங்கு          |
| (2) குழாய் நீர் (.....)   | B சுத்தியல்        |
| (3) வான்வழி (.....)       | C பௌத்தர்          |
| (4) முள்ளங்கி (.....)     | D நகர்ப்புற மக்கள் |
| (5) தச்சன் (.....)        | E ஆகாய விமானம்     |

(✓x1=20)


④ பின்வரும் கூற்றுக்கள் சரியாயின் அடையில் ✓ எனவும் பிழையாயின் ✗ எனவும் அடைப்பில் இடுக.

- (i) அசுத்தமான நீரைப்பருகுவதால் நெருப்புக் காய்ச்சல் ஏற்படும். (.....)
- (ii) ஆள்அடையாள அட்டை வழங்குவது ஆட்பதிவுத்திணைக்களமாகும் (.....)
- (iii) மின்கலமொன்றில் வடமுனை, தென்முனை காணப்படும் (.....)
- (iv) உலக சிறுவர் தினம் கொண்டாடப்படுவது ஒக்டோபர் 1ஆம் திகதியாகும் (.....)
- (v) மகாசேனன் மின்னேரியக் குளத்தைக் கட்டினான் (.....)
- (vi) புரத உணவுகள் உடலுக்கு சக்தியைத் தருவனவாகும் (.....)
- (vii) ரூபா 100யில் பார்வையற்றோர் பிறையில் புள்ளிகள் 3 காணப்படும். (.....)
- (viii) இலங்கையின் உயர்ந்த மலை சிவனொளிபாத மலையாகும் (.....)
- (ix) தேசப்படமொன்றில் மலைகள் பச்சை நிறத்தால் காட்டப்பட்டிருக்கும் (.....)
- (x) கழிவுப் பொருட்களைக் கொண்டு கொலாச் ஆக்கம் செய்யலாம் (.....)

(✓x2=20)

5 கீழ்வரும் வினாக்களுக்கான விடைகளை புள்ளிக் கோட்டில் எழுதுக.

(01) இலங்கையில் சுதந்திரத்திற்காகப் பாடுபட்ட இருவரது பெயர்களையும் எழுதுக.



(02) நுளம்பினால் பரவும் நோய்கள் இரண்டு எழுதுக.

(03) நாம் இலவசமாகப் பெறும் சேவைகள் 2ஐ எழுதுக.

(04) வேர்களினால் தாவரங்களுக்குக் கிடைக்கும் நன்மைகள் 2ஐ எழுதுக.

(05) பொதி செய்யப்பட்ட பொருளின் தரத்தை உறுதி செய்து வழங்கும் முத்திரை 2ஐ தருக.

(06) போதுமானவு நீரை அருந்தாமையால் ஏற்படும் பாதிப்புக்கள் 2ஐ தருக.

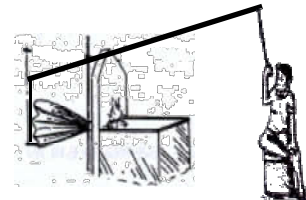

(07) உடலுக்கு சக்கியைத் தரும் உணவுக்கூறுகள் எவை?

(08) பிரதேச செயலகம் ஒன்றினால் ஆற்றப்படும் சேவைகள் 2 தருக?

(09) தேசப்படமொன்றின் பின்வரும் பாதைகளினால் வெளிப்படுத்தும் கருத்து யாது?



(10) பின்வரும் உபகரணங்களின் பெயர்களை எழுதுக?



(✓x2=40)