




மாகாணக் கல்வித் திணைக்களம் - வடக்கு மாகாணம்

க.பொ.த (சாதாரண தர)ப் பரீட்சை

மூன்றாந் தவணை - 2018



வரலாறு I

33

T

I

01 மணித்தியாலம்

கவனிக்க :

- எல்லா வினாக்களுக்கும் விடை எழுதுக. இவ்வினாத்தாளுக்கு 80 புள்ளிகள் வழங்கப்படும்
- 01 தொடக்கம் 40 வரையுள்ள வினாக்கள் ஒவ்வொன்றிலும் (1), (2), (3), (4) என இலக்கமிடப்பட்ட விடைகளில் சரியான அல்லது மிகப் பொருத்தமான விடையைத் தெரிவு செய்க.
- உமக்கு வழங்கப்பட்டுள்ள விடைத்தாளில் ஒவ்வொரு வினாவுக்கும் உரிய வட்டங்களில் உமது விடையின் இலக்கத்தை ஒத்த வட்டத்தினுள்ளே புள்ளியை (x) இடுக.
- விடைத்தாளில் மறுபக்கத்தில் தரப்பட்டுள்ள மற்றைய அறிவுறுத்தல்களையும் கவனமாக வாசித்து பின்பற்றுக.

101. தீபவம்சம் பின்வரும் எந்த மன்னனின் ஆட்சி காலம் முடிவுவரை இந்நாட்டின் அரசியல் மற்றும் பௌத்தசமயம் தொடர்பான தகவல்களை வழங்குகின்றது.
 - 1) துட்டைகைமுனு
 - 2) மகாசேனன்
 - 3) 1ம் பராக்கிரமபாகு
 - 4) வலகம்பாகு
102. இலங்கை வரலாற்றை அறிய உதவும் போர்க்காவியமாக அமையும் நூல்
 - 1) மயூரசந்தேசய
 - 2) பெரகும்பா சிரித்த
 - 3) ராஜாவலிய
 - 4) சீதாவாக்க சட்டன
103. இலங்கைக்கு வருகை தந்து நேரடி அனுபவங்களைப் பெற்று இலங்கைபற்றி எழுதியுள்ள எழுத்தாளர்களில் ஒல்லாந்து நாட்டு இலக்கிய நூலாசிரியர் யார்?
 - 1) பிலிப்பஸ்பட்டியஸ்
 - 2) ரிபைரோ
 - 3) பாகியன்
 - 4) பிளினி
104. இலங்கையில் மரபு ரீதியான தொல்பொருட்களை பாதுகாக்க வேண்டியதன் அவசியம் ஏனெனில்
 - 1) சுற்றுலாத்துறையின் வருகைக்கு காரணமாக அமைவதினால்
 - 2) இலங்கையின் தனித்துவத்தை எடுத்துக்காட்ட காரணமாக அமைவதனால்
 - 3) எதிர்கால சந்ததியினருக்கு காட்டவேண்டுமென்பதால்
 - 4) கடந்த கால ஆட்சியாளர்களின் செயற்பாடுகளை அறிந்து கொள்ள முடியும் என்பதனால்
105. ஆங்கிலேய கப்பல் மாலுமியின் மகனான நொபேட்நொக்ஸ் கப்பல் விபத்து காரணமாக இலங்கையை வந்தடைந்த போது அவரை சிறையிலடைத்த மன்னன்
 - 1) 1ம் இராஜசிங்கன்
 - 2) சிறிவிஜய ராஜசிங்கன்
 - 3) இராஜாதி இராஜ சிங்கன்
 - 4) 2ம் இராஜசிங்கன்

06. இலங்கையில் வரலாற்றுக்கு முற்பட்டகால மனிதர்களின் வளர்ந்த ஆண் ஒருவரினதும் பெண் ஒருவரினதும் மூளையின் அளவு முறையே
- 1) 1700 கனசென்ரி மீற்றரும் 940 கன சென்ரி மீற்றரும்
 - 2) 1600 கனசென்ரி மீற்றரும் 920 கன சென்ரி மீற்றரும்
 - 3) 1740 கனசென்ரி மீற்றரும் 960 கன சென்ரி மீற்றரும்
 - 4) 1650 கனசென்ரி மீற்றரும் 900 கன சென்ரி மீற்றரும்
07. வரலாற்றுக்கு முற்பட்ட காலத்துக்குரிய கற்சாதனங்கள் கிடைக்கப்பெற்றுள்ள பூந்தல வெல்லே கங்கொட பிரதேசத்தில் இரணைமடு படிவுக்குரிய கற்கால சரளைக்கற்படிவு கால அளவீட்டிற்கமைய
- 1) இருபத்தெண்ணாயிரம் ஆண்டுகளுக்கு முற்பட்டதாகும்.
 - 2) முப்பத்தெண்ணாயிரம் ஆண்டுகளுக்கு முற்பட்டதாகும்.
 - 3) எண்பதினாயிரம் ஆண்டுகளுக்கு முற்பட்டதாகும்.
 - 4) ஒரு இலட்சத்து இருபத்தையாயிரம் ஆண்டுகளுக்கு முற்பட்டதாகும்.
08. பின்வருவனவர்களுள் தன்னை குபேரக் கடவுளாகக் கருதிக்கொண்ட மன்னன்
- 1) நிஸ்ஸங்கமல்லன்
 - 2) 1ம் காசியப்பன்
 - 3) குட்டகண்ண அபய
 - 4) 5ம் காசியப்பன்
09. பின்வரும் எந்த மன்னனுடைய காலத்தில் அரசவரி அறவீடு முறைப்படுத்தப்பட்டதுடன் நாட்டை நிர்வாக அல்குகளாக பிரித்து நிர்வகிப்பதற்கும் முயற்சிகள் மேற்கொள்ளப்பட்டது?
- 1) வசபன்
 - 2) துட்டகைமுனு
 - 3) 1ம் விஜயபாகு
 - 4) பண்டுகாபயன்
- கர்ப்பிணித் தாய்மாரின் தேவைக்காகப் பிரசவ விடுதிகளைக் கட்டுவதற்கு நடவடிக்கைகளை மேற்கொண்ட மன்னன்
- காய்ச்சல் நோயால் பீடிக்கப்பட்ட நோயாளர்களைப் பராமரிக்கவென தனியான வைத்தியசாலை ஒன்றை நிறுவிய மன்னன்
10. மேற்கூறிய இரண்டு தகவல்களுடன் தொடர்புடைய மன்னர்கள் முறையே
- 1) புத்ததாஸ, நான்காம் காசியப்பன்
 - 2) நான்காம் காசியப்பன், புத்ததாஸ
 - 3) முதலாம் உபதிஸ்ஸ, நான்காம் காசியப்பன்
 - 4) நான்காம் காசியப்பன், முதலாம் உபதிஸ்ஸ
11. புராதன காலத்தில் நீண்டதூரத்தை அளக்க பயன்படுத்தப்பட்ட அலகு அல்லாதது எது?
- 1) கவ்வ
 - 2) யொதுன்
 - 3) வியத்த
 - 4) உசக
12. இலங்கையில் சமனலவெவ இரும்பு உருக்குலை எந்த மாகாணத்தில் கண்டறியப்பட்டது?
- 1) ஊவா மாகாணம்
 - 2) மத்திய மாகாணம்
 - 3) தென்மாகாணம்
 - 4) சப்பிரகமுவ மாகாணம்
13. கல்வெட்டு மூலாதாரங்களில் வாய்க்கால்களில் மீன்பிடிப்பதற்காக அரசுக்குச் செலுத்திய வரி எவ்வாறு அழைக்கப்பட்டது?
- 1) தக்கபதி
 - 2) மதரமஞ்சக்க
 - 3) போஜக்கபதி
 - 4) கெதிஅட
14. கி.பி 9ஆம் நூற்றாண்டில் நிலவிய உள்நாட்டு வர்த்தகம் தொடர்பான சட்டங்களைக் கூறும் சொரபொரவெவக் கல்வெட்டை அமைத்த மன்னன்
- 1) நான்காம் மகிந்தன்
 - 2) ஐந்தாம் காசியப்பன்
 - 3) நான்காம் காசியப்பன்
 - 4) மூன்றாம் உதய

15. பின்வரும் நிரல் Iஇல் இலங்கையில் வரலாற்றுக் காலத்தில் காணப்பட்ட கிராமியக் குடியிருப்புகள் சில குறிப்பிடப்பட்டுள்ளன நிரல் II ஆனது அவற்றின் பிரதான பொருளாதார நடவடிக்கைகளைக் குறித்துக் காட்டுகின்றது.

| நிரல் I | நிரல் II |
|----------------|-----------------------|
| 1. வட்டக்காம | A. விவசாயம் |
| 2. மணிகாரகாம | B. இரத்தினம் அகழ்வோர் |
| 3. கும்பகாரகாம | C. விலங்கு வேளாண்மை |
| | D. மட்பாண்டம் வணைதல் |
| | E. தச்சுத்தொழில் |

நிரல் I ற்கு அமைவாக நிரல் II ஐ ஒழுங்குபடுத்தும் போது கிடைக்கும் சரியான விடை எது?

- 1) E, B, D 2) B, D, E 3) C, D, E 4) A, C, E
16. கலிங்கமாகன் பொலன்னறுவையை ஆட்சி செய்து கொண்டிருந்த போது மகியங்கனைக்கு அண்மையில் மினிப்பே என்னும் இடத்தில் மகாவலி கங்கைக்கரையில் அமைந்த மலையில் சுயாதீன ஆட்சியை நடாத்திச் சென்ற பிரதேசத்தின் தலைவர்
- 1) சுபதளபதி 2) புவனேபாகு (ஆதிபாதன்)
- 3) சங்கதளபதி 4) வீரவாகு
17. பின்வரும் வரலாற்று நிகழ்வுகளைக் கவனிக்க
- A. தர்மசேன தேரரால் சத்தர்மரத்னாவலிய நூல் எழுதப்பட்டமை
- B. அம்பலுகல குமாரன் ஏழாம் பராக்கிரமபாகுவை பதவி நீக்கிவிட்டு எட்டாம் வீரபராக்கிரமபாகு என்ற பெயரில் முடிசூடிக் கொண்டமை
- C. பாளிமொழியிலிருந்து பன்சிய பனஸ் ஜாதகக் கதை சிங்களத்தில் மொழிபெயர்க்கப்பட்டமை
- D. இலங்கையில் இருந்து எகிப்துக்கு அனுப்பப்பட்ட வர்த்தகத் தூதுக்குழுவினரை கெய்ரோ நகரில் வைத்து எகிப்திய சுல்தான் வரவேற்றமை.
- மேற்கூறப்பட்ட வரலாற்று நிகழ்வுகளை அவை நடைபெற்ற கால ஒழுங்கில் கொண்ட சரியான விடை எது?
- 1) A, C, B, D 2) C, A, D, B 3) C, D, A, B 4) A, D, C, B
18. போர்த்துக்கேயர் இலங்கைக்கு வந்த காலப்பகுதியில் கோட்டையை ஆட்சி செய்த மன்னன் யார்?
- 1) ஆறாம் பராக்கிரமபாகு 2) எட்டாம் வீரபராக்கிரமபாகு
- 3) ஆறாம் புவனேபாகு 4) ஏழாம் பராக்கிரமபாகு
19. கண்டி இராச்சியத்தில் உரிமையையும் அனுபவித்தலையும் அடிப்படையாகக் கொண்டு அரச மாளிகைக்காகப் பயன்படுத்திய நிலம் எவ்வாறு அழைக்கப்பட்டது?
- 1) கபடாகம் 2) நிந்தகம் 3) விகாரகம் 4) பரவேனிகம்
20. கண்டி இராச்சியத்திலே போர்த்துக்கேயர் தங்கள் அதிகாரத்தை ஏற்படுத்துவதற்கு கையாண்ட தந்திரம்
- 1) கோனப்பு பண்டாரனை அரசனாக்கியமை
- 2) கண்டிப் பிரதானிகளின் உதவியைப் பெற்றுக்கொண்டமை
- 3) கண்டி இராச்சியத்திலே கத்தோலிக்க சமயத்தை பரப்பியமை
- 4) தங்கள் பாதுகாப்பில் இருந்த குசுமாசனதேவிக்கு அரசு பதவி வழங்கியமை

21. யாழ்ப்பாண இராச்சியம் தொடர்பாக பின்வரும் கூற்றுக்களில் தவறான கூற்று எது
- 1) யாழ்ப்பாண இராச்சியத்தின் முதல் மன்னாக விஜய சூழங்கை என்னும் ஆரியச்சக்கரவர்த்தி ஆட்சி செய்துள்ளான்.
 - 2) யாழ்ப்பாண இராச்சியம் பற்றி அறிய யாழ்ப்பாண வைபவமாலை நூல் துணைபுரிகின்றது.
 - 3) ஆறாம் பராக்கிரமபாகு அம்பலுகல் குமாரசுவாமி மூலம் யாழ்ப்பாணத்தை கோட்டை இராசதானியின் கீழ் கொண்டு வந்தான்.
 - 4) வசப மன்னன் காலத்தில் யாழ்குடாநாடு நாகதீப (நகதிவ) என்று அழைக்கப்பட்டது.
- அட்டவணையை அவதானித்து 22 ஆம் 23 ஆம் வினாக்களுக்கு விடை அளிக்க.

| நிரல் I | நிரல் II | நிரல் III |
|---------------------|---|----------------|
| A. கலிலியோ கலிலி | D. கோள்கள் அனைத்தும் சூரியனை நீள் வட்டப் பாதையில் சுற்றி வருதல் | G. இங்கிலாந்து |
| B. ஐசக் நியூட்டன் | E. தொலைநோக்கி | H. ஜேர்மனி |
| C. ஜொஹென்ஸ் கெப்லர் | F. புவியீர்ப்பு விசை | I. இத்தாலி |

22. நிரல் II இல் E உடன் தொடர்புடைய மறுமலர்ச்சிக்கால விஞ்ஞானியையும் அவருடைய தாய் நாட்டையும் குறிக்கும் விடை எது?
- 1) A யும் I யும் 2) B யும் I உம் 3) B யும் H உம் 4) A யும் H உம்
23. நிரல் II இல் D யுடன் தொடர்புடைய மறுமலர்ச்சிக்கால விஞ்ஞானியையும் அவரது தாய் நாட்டையும் குறிக்கும் விடை எது?
- 1) B யும் H உம் 2) C யும் G யும் 3) A யும் I யும் 4) C யும் H உம்
24. பல்வேறு கண்டு பிடிப்புக்களைச் செய்த சிலரின் பெயர்கள் கீழே தரப்பட்டுள்ளன.
- A. ஜோர்ச் ஸ்மிதன் B. எட்மன் காட்ரைட்
C. ரிச்சட் ஆக்ரைட் D. டெம்லர் E. குக்லி மார்க்கோனி
- மேற்குறிப்பிட்டுள்ளவர்களுள் கைத்தொழிற்புரட்சியின் போது போக்குவரத்துத்துறையுடன் தொடர்புடைய கண்டு பிடிப்புக்களைச் செய்தோரைக் காட்டும் விடை எது?
- 1) B, E 2) B, C 3) A, E 4) A, D
25. கைத்தொழில் புரட்சியின் காரணமாக முன்னேற்றமடைந்த பொருளாதார விளைவைக் காட்டும் விடையைத் தெரிவுசெய்க.
- 1) நகர மயமாக்கலில் முன்னேற்றம் விரைவுபடுத்தப்பட்டமை
 - 2) பொதுவுடைமைவாதம், தாராண்மை வாதம் போன்ற அரசியற்கொள்கைகள் தோற்றம் பெற்றமை
 - 3) வகுப்பு ரீதியான சமூகவமைப்பு தோற்றம் பெற்றமை
 - 4) பல்தேசிய வணிகங்கள் முன்னேற்றம் அடைந்தமை
26. பிரித்தானியர் இங்கையைக் கைப்பற்ற வேண்டுகொண்ட எண்ணம் உருவாகுவதில் செல்வாக்குச் செலுத்திய பிரதான காரணி எது?
- 1) கிறிஸ்தவ மதத்தினைப் பரப்பதல்
 - 2) இலங்கை கறுவாவின் உயர்தரம்
 - 3) திருகோணமலைத் துறைமுகத்தின் அமைவிடம்
 - 4) பெருந்தோட்டப் பயிர்ச் செய்கைக்கான காணிகளைப் பெற்றுக்கொள்ளல்

27. கி.பி 1762இல் ஆங்கிலேயத் தூதுவனாகிய ஜோன்பைபஸ் கண்டிக்கு வருகை தந்த போது கண்டி இராச்சியத்தின் ஆட்சியாளன் யார்?
- 1) கீர்த்தி ஸ்ரீ ராஜசிங்கன் 2) இரண்டாம் இராஜசிங்கன்
3) இராஜாதி ராஜசிங்கன் 4) 1ம் விமலதர்ம சூரியன்
28. பின்வருவனவர்களுள் மாளிகாகந்த வித்தியோதய பிரிவெனாவைத் தோற்றுவித்தவர் யார்?
- 1) வலாணை சித்தார்த்த தேரர் 2) இரத்தமலாணை தரம்லோகதேரர்
3) ஹிக்கடுவ ஸ்ரீ சுமங்கல தேரர் 4) புலத்கம ஸ்ரீ சுமண திஸ்ஸ தேரர்
- கீழே குறிப்பிடப்பட்டுள்ள A தொடக்கம் F வரையான கூற்றுக்களை அடிப்படையாகக் கொண்டு 29ஆம் 30ஆம் வினாக்களுக்கு விடை எழுதுக.
- A. நாடு ஐந்து மாகாணங்களாகப் பிரிக்கப்பட்டமை
B. தேசிய அரசு பேரவை
C. நிர்வாகக் குழுமுறை
D. பிரதேசவாரிப் பிரதிநிதித்துவ முறை
E. ஆளுநர் நாயகம் பதவி
F. பொதுசன அபிப்பிராயத் தேர்தல்
29. டொனமூர் யாப்புச் சீர்திருத்தம், சோல்பரியாப்புச் சீர்திருத்தம் ஆகியவற்றுடன் தொடர்புடைய தகவல்களை கொண்டிருக்கும் விடை எது?
- 1) B யும் C யும் 2) C யும் E யும் 3) D யும் F உம் 4) E யும் F உம்
30. 1972ம் ஆண்டின் அரசியல் யாப்பு, 1978ஆம் ஆண்டின் அரசியல் யாப்பு ஆகியவற்றில் உள்ளடங்கிய தகவல்களை கொண்டிருக்கும் விடை எது
- 1) E யும் F உம் 2) B யும் C யும் 3) D யும் E யும் 4) B யும் F உம்
31. இலங்கையில் முதன்மையானதும் இறுதியானதுமான அதிகாரம் பெற்ற உச்ச நீதிமன்றத்தின் தலைவர் யார்
- 1) சட்டமா அதிபர் 2) ஜனாதிபதி 3) பிரதம நீதியரசர் 4) நீதி அமைச்சர்
- கீழே A, B, C, D ஆகியவற்றால் தரப்பட்டுள்ள விடயங்களைக் கவனத்திற் கொண்டு 32 தொடக்கம் 35 வரையான வினாக்களுக்கு விடையளிக்குக.
- A. 1 கோப்பிப் பயிர்ச்செய்கை B. 1 சாமுவெல் மோஸ்
2 ஹெமிலியா வெஸ்டாக்ஸ் 2 தொடர்பாடல்துறை
- C. 1 1818ஆம் ஆண்டின் சுதந்திரப் போராட்டம் D. 1 சுமணதிஸ்ஸ தேரர்
2 மியூரன் குழுவின் சிபாரிசுகள் 2 பௌத்த மறுமலர்ச்சி
32. முதலாம் நபரின் கண்டுபிடிப்பு காரணமாக இரண்டாவது உருவாகியது
- 1) A 2) B 3) C 4) D
33. முதலாவது வீழ்ச்சிக்கு இரண்டாவது காரணமாகியது
- 1) A 2) B 3) C 4) D
34. முதலாம் நபரின் செயற்பாடு காரணமாக இரண்டாவது துரித வளர்ச்சி கண்டது
- 1) A 2) B 3) C 4) D
35. முதலாவதிற்கும் இரண்டாவதிற்கும் இடையில் எந்தவித தொடர்பும் இல்லாத கருத்துச்சோடி
- 1) A 2) B 3) C 4) D


36. 19ம் நூற்றாண்டின் இலங்கையில் நிலவிய சமய பண்பாட்டு விழிப்புணர்ச்சி தொடர்பான நான்கு சோடிகளுள் பொருத்தமற்ற சோடி எது?
- 1) ஆறுமுகநாவலர் - சைவப்பிரகாச வித்தியசாலை ஆரம்பிக்கப்பட்டமை
 - 2) அறிஞர் எம்.சி.எம்.சித்திலெப்பை - முஸ்லீம் கல்விச் சபையைத் தோற்றுவித்தமை
 - 3) அநாகரிக தர்மபால - மகாபோதி சங்கத்தை ஆரம்பித்தமை
 - 4) வலானே சித்தாத்ததேரர் - பேலியகொட வித்தியாலங்கார பிரிவேனாவை தோற்றுவித்தமை
37. இலங்கையின் அரசியல் தலைவர்களும் அவர்கள் தலைமை தாங்கிய அரசியல் கட்சிகளும் தரப்பட்டுள்ளன இவற்றுள் பிழையான சோடி எது?
- 1) கொல்வின் R.D சில்வா - இலங்கை கம்யூனிஸ்ட்சுட்சி
 - 2) S.W.R.D பண்டார நாயக்கா - சிறிலங்கா சுதந்திரக் கட்சி
 - 3) S.J.V செல்வநாயகம் - சமஷ்டிக் கட்சி
 - 4) A.E குணசிங்க - தொழிற்கட்சி
38. மேற்கு ஐரோப்பிய நாடுகளின் பாதுகாப்பிற்காக ஐக்கிய அமெரிக்காவின் தலைமையில் உருவாக்கப்பட்ட அமைப்பு
- 1) வோர்சோ
 - 2) நேட்டோ
 - 3) சார்க்
 - 4) அணிசேரா நாடுகள்
39. சர்வதேச சமாதானத்திற்கும் பாதுகாப்பிற்கும் அச்சுறுத்தலாக அமையும் மோதல்கள் குறித்து ஆராய்ந்து பார்த்து அவற்றினை சமதானமாகத் தீர்ப்பதற்கு சிபார்சுகளை முன்வைத்தல்
- மேற்கூறிய கடமையுடன் தொடர்புடைய ஐக்கியநாடுகளில் நிறுவனம் யாது?
- 1) பாதுகாப்புச் சபை
 - 2) பொதுச்சபை
 - 3) செயலகம்
 - 4) சமூக பொருளாதார சபை
40. இரண்டாம் உலகப்போர் நடைபெற்ற காலத்தில் ஐக்கிய அமெரிக்காவின் ஜனாதிபதி யார்?
- 1) ஜோசப்ஸ்டாலின்
 - 2) வின்சன்ட் சேர்ச்சில்
 - 3) பிராங்னின் டி ரூஸ்வெல்ட்
 - 4) க்ளெமன்ஷோ



மாகாணக் கல்வித் திணைக்களம் - வடக்கு மாகாணம்

க.பொ.த (சாதாரண தர)ப் பரீட்சை

மூன்றாம் தவணை - 2018



வரலாறு II

33

T

II

மூன்று மணித்தியாலம்

- ❖ பகுதி Iஇன் முதலாம் வினா கட்டாயமானது.
- ❖ பகுதி II இல் இருந்து நான்கு வினாக்களுக்கும் பகுதி III இல் இருந்து ஒரு வினாவுக்கும் விடை எழுதுக
- ❖ எல்லாமாக ஆறு வினாக்களுக்கு விடை எழுதுக.
- ❖ இந்த வினாத்தாளுக்கு 120 புள்ளிகள் வழங்கப்படும்.


பகுதி I

01. (அ) கீழே (i) இல் குறிப்பிடப்பட்டுள்ள வரலாற்று முக்கியத்துவம் வாய்ந்த இடங்கள் அனைத்தையும் தரப்பட்டுள்ள இலங்கைப்புறவுருவப் படத்திலும் (II) இல் குறிப்பிடப்பட்டுள்ள வரலாற்று முக்கியத்துவம் வாய்ந்த இடங்கள் அனைத்தையும் தரப்பட்டுள்ள உலகப்புறவுருவப் படத்திலும் குறித்துப்பெயரிடுக.

- i. மாணிக்க கங்கை, திஸ்ஸவாவி, வல்லிபுரம், மகாவாலுகாம, திருகோணமடு, காசம, மகாவலி கங்கை, புத்தளம், கம்பளை, பராக்கிரம சமுத்திரம், பாகியன்கல, ஜம்புகோளப்பட்டினம் (12 புள்ளிகள்)
- ii. கொன்ஸ்தாந்தி நோபிள், மலாக்காநீரினை, ஸ்பெயின், பாரசீக வளைகுடா, பிரான்ஸ், கஸ்பியன்கடல் (6 புள்ளிகள்)

- ஆ. i. கீழே A, B, C, மற்றும் D ஆகியவற்றில் தரப்பட்டுள்ள வரலாற்று முக்கியத்துவம் வாய்ந்த தகவல்களுக்குரிய விடைகளை ஒழுங்குமுறைப்படி உங்கள் விடைத்தாளில் எழுதுக
- A. அபயகிரி விகாரையைக் கட்டிய மன்னன்
 - B. இரண்டாம் உலகப்போருடன் தொடர்புடைய ஜேர்மானிய நாசிச ஆட்சியாளன்
 - C. கண்டி இராச்சியத்தில் நாயக்கர் வம்சத்தினரின் ஆட்சியை ஆரம்பித்து வைத்த முதலாவது நாயக்கர் வம்ச ஆட்சியாளன்.
 - D. கி.பி 1946ஆம் ஆண்டில் ஐக்கிய தேசியக் கட்சியை நிறுவிய தலைவர் (4 புள்ளிகள்)

A, B ஆகிவற்றினால் கீழ் காட்டப்பட்டுள்ள படங்களை அவதானித்து தரப்பட்ட வினாக்களுக்கான விடைகளை ஒழுங்குமுறையில் உங்கள் விடைத்தாளில் எழுதுக.



(A)

- ii. 1. A யினால் காட்டப்படும் நிர்மாணிப்பு யாது?
 2. இந்த நிர்மாணிப்பு எக்காலப் பகுதிக்குரியது?
 3. இது அமைந்து காணப்படும் மாவட்டம் எது?
 4. இது அன்றைய சமூகத்தில் யாரால் பயன்படுத்தப்பட்டதாகக் கருதப்படுகின்றது. (4 புள்ளிகள்)

- iii. 1. B குறிக்கும் நிர்மாணிப்பின் பெயர் என்ன?
 2. இந்த நிர்மாணிப்பின் முக்கியமான நோக்கம் என்ன?
 3. இந்த நிர்மாணிப்பை மேற்கொள்வதற்கு இலங்கைக்கு உதவி புரிந்த நாடு எது?
 4. இந்த நிர்மாணிப்புக்கு கிழக்கு பக்கமாக காணப்படும் அணைக்கட்டின் பெயர் என்ன?



(B)

(4 புள்ளிகள்)

Education

பகுதி II

02. i. இலங்கையில் வரலாற்றுக்கு முற்பட்ட காலப்பகுதிக்குரிய மனிதன் வாழ்ந்ததாகக் கருதப்படுகின்ற தாழ்நில ஈரவலயக் குகைகள் மூன்றினைப் பெயரிடுக. (3 புள்ளிகள்)

- ii. இலங்கையில் வரலாற்றுக்கு முற்பட்ட காலப்பகுதிக்குரிய மனிதன் வாழ்ந்த பின்வரும் கற்குகைகள் மற்றும் கரையோர வெட்டவெளிகள் காணப்படுகின்ற மாவட்டங்களைக் குறிப்பிடுக.

- A. பாகியன்கல B. பெல்லன்பதி பெலஸ்ஸ
 C. பூந்தல D. சீகிரிய பொத்தான

(4 புள்ளிகள்)

- iii. a. இலங்கையில் வரலாற்றுக்கு முற்பட்ட கால மனிதன் உட்கொண்ட உணவின் தன்மை பற்றி அதிகளவிலான ஆதாரங்கள் கிடைக்கப்பெற்ற இரண்டு காலநிலை வலயங்களைக் குறிப்பிடுக. (2 புள்ளிகள்)

- b. மேற் குறிப்பிடப்பட்ட காலநிலை வலயங்களில் ஒன்றில் இருந்து வரலாற்றுக்கு முற்பட்ட கால மனிதன் பெற்றுக்கொண்ட உணவுகள் மூன்றினைக் குறிப்பிடுக.

(3 புள்ளிகள்)

- iv. முன் வரலாற்றுக் காலத்தில் வாழ்ந்த மனிதர்கள் இறந்த பின்னர் பின்பற்றப்பட்ட மரணச்சடங்கு முறைகளை இரண்டு காரணிகளை அடிப்படையாகக் கொண்டு விளக்குக.

(6 புள்ளிகள்)

03. i. இலங்கையில் அதிகாரம் மையப்படுத்தப்பட்ட நிர்வாகத்திற்குரித்தான பின்வரும் பணிகளையும் அப்பணிகளுடன் தொடர்புடைய நபர்களின் உத்தியோகப் பெயர்களையும் அடைப்புக்குறிக்குள் இருந்து தெரிவு செய்து ஒழுங்கு முறைப்படி எழுதுக.
- A. உணவுச்சாலை அதிகாரி
B. அரசு செயலகத் தலைவர்
C. யானைப் பிரிவின் தலைவர்
(நட அதேக, ஹதி அதேக, ரூப அதேக, பனபெடிக, பதகு)
- (3 புள்ளிகள்)
- ii. பின்வரும் விடயங்கள் ஒவ்வொன்றுடனும் தொடர்புடைய நபர்கள் யார் என்பதை ஒழுங்குமுறையில் எழுதுக.
- A. கிராமத்து இல்லத் தலைவர்களில் இருந்தே கமிக என்பவர் தெரிவுசெய்யப்படுவதாக “சமந்தபாசதிகா” நூலில் குறிப்பிட்டவர்
B. பருமகர்களுக்கு அரசாங்கத்தில் உயர்பதவிகளை வழங்கி அரசியல் அதிகாரத்தை மையப்படுத்தும் செயற்பாட்டை ஆரம்பித்து வைத்த மன்னன்.
C. தம்புள்ள விகாரை பாறைக் கல்வெட்டில் தன்னை நரேஸ்வர (மனிதர்களின் கடவுள்) என அறிமுகப்படுத்திய மன்னன்
D. கல்வெட்டுக்களில் தன்னை இனம் காட்டிக்கொள்ள காலிங்க சக்கரவர்த்தி பெருமான் எனக் குறிப்பிட்ட மன்னன்
- (4 புள்ளிகள்)
- iii. புராதன இலங்கையில் அரசரிமை கிடைத்த விதத்தினை இரு உதாரணங்களின் அடிப்படையில் விளக்குக.
- (5 புள்ளிகள்)
- iv. இந்நாட்டின் முக்கியமான ஆட்சியாளர்களுள் 1ம் விஜயபாகு மன்னன் சிறப்பான ஒருவர் என்பதனை மூன்று காரணிகளின் அடிப்படையில் விளக்குக.
- (6 புள்ளிகள்)
04. i. பின்வரும் குளங்களைக் கட்டிய மன்னர்களின் பெயர்களை A, B, C ஒழுங்கு முறையில் எழுதுக.
- A. கவுடுலுவாவி B. திஸ்ஸவாவி C. நாச்சதுவ வாவி
- (3 புள்ளிகள்)
- ii. பின்வரும் A, B, C மற்றும் D என்னும் விபரங்களுடன் தொடர்புடைய நீர்ப்பாசன அமைப்புக்களின் பெயர்களை ஒழுங்கு முறையில் எழுதுக.
- A. தெதுறு ஓயா மூலமாக மாகல்ல வாவிக்கு நீரினைக் கொண்டு செல்வதற்கு அமைக்கப்பட்ட கால்வாய்

- B. அம்பன் கங்கை வழியாகப் பராக்கிரம சமுத்திரத்துக்கு நீரைப் பாய்ச்கவதற்காக அமைக்கப்பட்ட அணைக்கட்டு
- C. மிகவும் நுண்மையான சரிவினைப் பயன்படுத்தி கலாவாவியில் இருந்து அநுராதபுர திஸ்ஸவாவிக்கு நீரைக் கொண்டு செல்ல அமைக்கப்பட்ட கால்வாய்
- D. மழை நீரினால் ஊட்டம்பெற்ற குளங்களை கால்வாய்கள் மூலம் தொடுக்கும் குளத்தொகுதிக்கு உலர்வலய மக்கள் வழங்கிய பெயர் (4 புள்ளிகள்)
- iii. குளமொன்றில் முக்கியமான தொழில்நுட்பக் கூறுகள் இரண்டினைக் குறிப்பிட்டு அவற்றின் நிர்மாணிப்பு, பயன்பாடுகள் பற்றி சுருக்கமாக விளக்குக. (5 புள்ளிகள்)
- iv. புராதன காலத்தில் இலங்கையில் மந்தைவளர்ப்பு இடம்பெற்றிருந்தது என்பதற்கு மூன்று ஆதாரங்களை முன்வைத்து விளக்குக. (6 புள்ளிகள்)
05. i. கீழ்வரும் A, B, C ஆகியவற்றால் குறிப்பிடப்பட்டுள்ள செயற்பாடுகளுடன் தொடர்புடைய ஆட்சியாளர்களை ஒழுங்குமுறையில் எழுதுக.
- A. கி.பி 1409 இல் செங்கோ தளபதி இலங்கை வந்தபோது அவரை முறைப்படி வரவேற்கத் தவறிய றைகம ஆட்சியாளன்
- B. ஆடு, பசு, எருமை என்பவற்றைக் கொல்வோருக்கு மரணதண்டனை விதிக்கும் சட்டத்தை அறிமுகப்படுத்திய மன்னன்
- C. பத்தினி தெய்வக் கோயில் ஒன்றின் திறப்பு விழாவிற்காக தென்னிந்தியாவின் சேர இராச்சியத்துக்கு சென்ற மன்னன் (3 புள்ளிகள்)
- ii. இலங்கையில் இரண்டாவது நகரமயமாக்கல் காலகட்டத்துக்குரிய பண்டைய நிர்வாக நகரங்கள் நான்கினைத் தருக. (4 புள்ளிகள்)
- iii. தம்பதெனியா இராசதானியை தலைநகரமாக மாற்றிய 3ம் விஜயபாகு மன்னனின் சமயப் பணிகள் இரண்டினைக் குறிப்பிட்டு விளக்குக. (5 புள்ளிகள்)
- iv. ஆறாம் பராக்கிரமபாகு மன்னன் சிறந்த ஆட்சியாளனாகக் கருதப்படுவதற்குரிய காரணிகள் மூன்றினைக் குறிப்பிட்டு அவற்றினைச் சுருக்கமாக விளக்குக. (6 புள்ளிகள்)
06. பின்வரும் தகவல்களுடன் தொடர்புடைய A, B, C மூன்று நபர்கள் யாவர் என்பதனை ஒழுங்குமுறைப்படி குறிப்பிடுக.
- A. கண்டி இராச்சியத்தில் முதன்முறையாக சுதந்திர அரசொன்றை உருவாக்கிய முதல் மன்னன்
- B. தலதாமாளிகைக்கு மனங்கவர் பத்திரிப்பு எனும் எண் கோண மண்டபத்தை அமைத்த மன்னன்
- C. ஆங்கிலேயர் இலங்கையில் கரையோரத்தைக் கைப்பற்றிய போது கண்டி இராச்சியத்தினை ஆட்சி செய்து கொண்டிருந்த ஆட்சியாளன் (3 புள்ளிகள்)

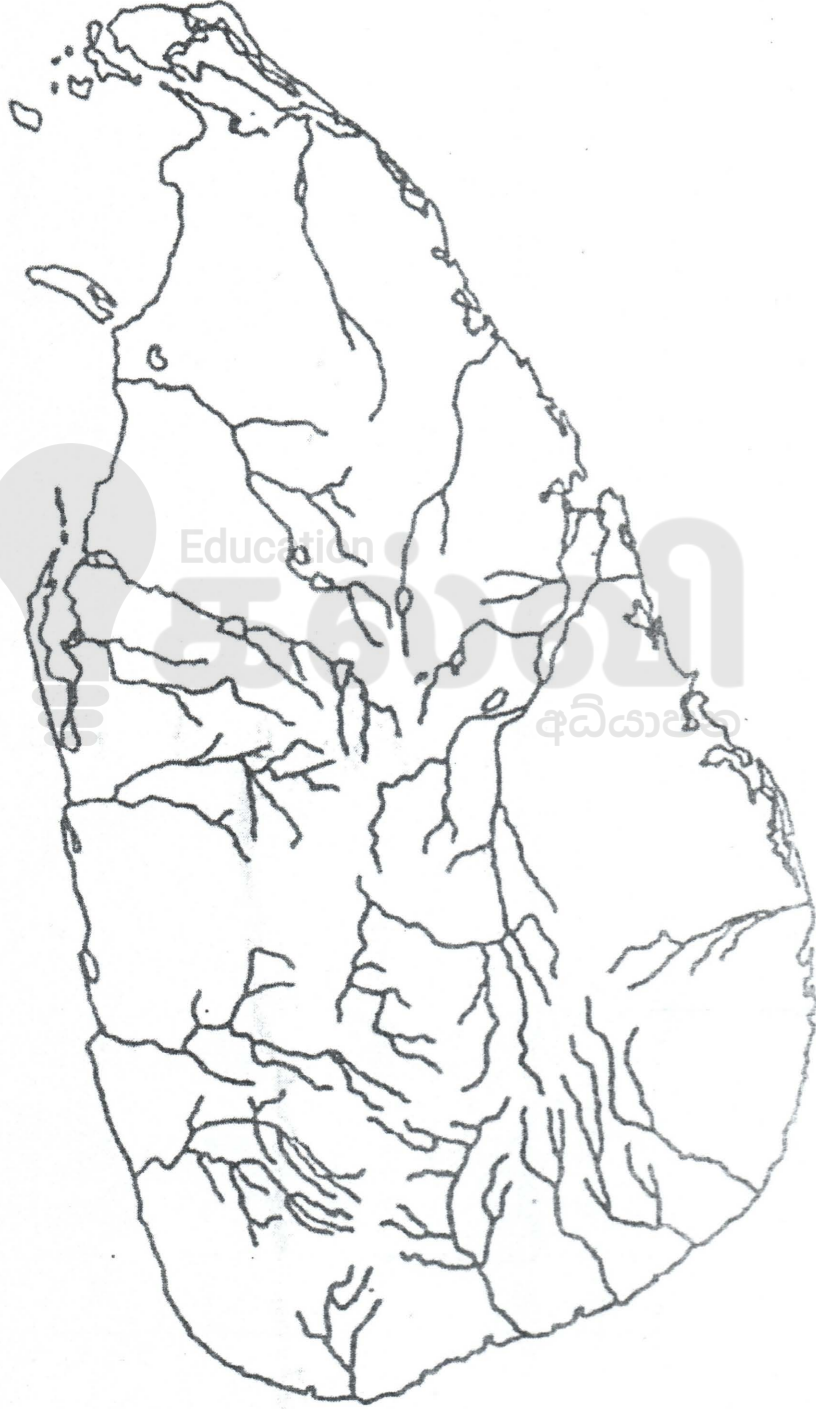


மாகாணக் கல்வித் திணைக்களம்
வடமாகாணம்



1. (அ) (1)

கட்டெண் :





1. (அ) (ii)



எங்கள் குறிக்கோள்

எண்ணிம உலகத்தில் மாணவர்களிற்கென சிறந்ததொரு கற்றல் கட்டமைப்பை உருவாக்குதல்.

அனைத்தும் டிஜிட்டல் மயப்படுத்தப்பட்ட இந்த காலத்தில் பல்வேறு துறைகளும் கால ஓட்டத்துடன் இணைந்து டிஜிட்டல் தளத்தில் பல்கிப்பெருகி வருகின்றன. அந்த வகையில் கல்வித்துறையும் இதற்கு விதிவிலக்கல்ல. இணையவழி கல்வியின் மூலம் கல்வித்துறை புதியதொரு பரிமாணத்தை எட்டியுள்ளது. குறிப்பாக கொரோனா பேரிடர் காலத்தில் நாடே முடக்கப்பட்டிருந்தது. இதனால் மாணவர்களிற்கும் பாடசாலை, கல்வி நிறுவனங்களிற்கு இடையிலான தொடர்பு துண்டிக்கப்பட்டது. அந்த இக்கட்டான சூழ்நிலையில் இணையவழி வகுப்புகள் மாணவர்களிற்கு வரப்பிரசாதமாக அமைந்தது என்பதே உண்மை.

இன்று தொழில்நுட்பம் மாணவர்களை தவறான பாதைக்கு இட்டு செல்வதாக ஓர் எண்ண ஓட்டம் மக்கள் மத்தியில் உள்ளது. தொழில்நுட்பம் என்பது ஒரு கருவி மட்டுமே அதை எவ்வாறு பயன்படுத்துகிறோம் என்பதில் அதன் ஆக்க மற்றும் அழிவு விளைவுகள் தீர்மானிக்கப்படுகிறது. உளியை கொண்டு சிலையை செதுக்க நினைத்தால் அவன் நிச்சயம் சிற்பி ஆகலாம். இங்கு பிரச்சினையாக காணப்படுவது மாணவர்களை வழிப்படுத்த தொழில்நுட்ப உலகில் ஓர் முறையான கட்டமைப்பு இல்லாமையே. அதை உருவாக்குவதே எங்கள் நோக்கம். அதை நோக்கியே எங்கள் பயணம் அமையும்.

எமது இணையத்தினூடக ஊடக உங்களிற்கு தேவையான பரீட்சை வினாத்தாள்களை இலகுவான முறையில் தரவிறக்கம் செய்து கொள்ளமுடியும்.

kalvi.lk

கல்வி சார் செய்திகளை உடனுக்குடன் அறிந்து கொள்ள எமது சமூக ஊடக தளங்களின் ஊடக உடனுக்குடன் அறிந்து கொள்ள முடியும்.



Viber
Community



Whatsapp
Channel



Facebook
Page