



யாழ்ப்பாணம் வலயக் கல்வி அலுவலகம் மூன்றாம் தவணைப் பரீட்சை - 2019

தரம் : 03





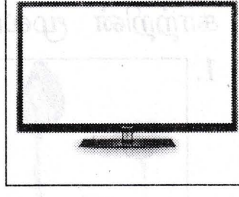




சுற்றாடல் சார் செயற்பாடு

1.15 மணித்தியாலம்


சுட்டெண்.....

பகுதி - I

01) மிகச் சரியான விடையின் கீழ் கோடிடுக.

- கடதாசிக் கழிவுகளை இட வேண்டிய குப்பைக் கூடையின் நிறம்
1. பச்சை 2. நீலம் 3. சிவப்பு 4. செம்மஞ்சள்
- இரவில் மலரும் மலர்
1. செவ்வரத்தை 2. தாமரை 3. மல்லிகை 4. செவ்வந்தி
- வரலாற்று புகழ் மிக்க நகரமாக விளங்குவது
1. புத்தளம் 2. கொழும்பு 3. அநுராதபுரம் 4. மன்னார்
-  பின்வரும் வீதிச் சமிக்ஞை குறிப்பது
1. வாகனம் நிறுத்தத்தடை 2. நேரே செல்லத்தடை
3. ஒலிபெழுப்பத் தடை 4. பாதசாரி கடக்கத் தடை
- கட்புல செவிப்புல ஊடகம்
1.  2.  3.  4. 
- அதிகமாக இருளை விரும்பும் பிராணி
1. தேன் 2. எறும்பு 3. கரப்பான் பூச்சி 4. தும்பி
- பொருளொன்றை அறைவதற்கும் கழற்றுவதற்கும் பயன்படும் உபகரணம்
1.  2.  3.  4. 
- பாடசாலையின் முக்கிய நிகழ்வுகளை பதிவு செய்யும் புத்தகம்
1. பாடநூல் 2. பயிற்சிக் கொப்பி
3. தினசரி நாட்குறிப்பு 4. சம்பவத்திரட்டுப் புத்தகம்

9.



பின்வரும் உருவின் பெயர்

1. குப்பைக்கூடை
2. கோழிக்கூடு
3. கூட்டெருப்பாத்திரம்
4. பூம்பாத்தி

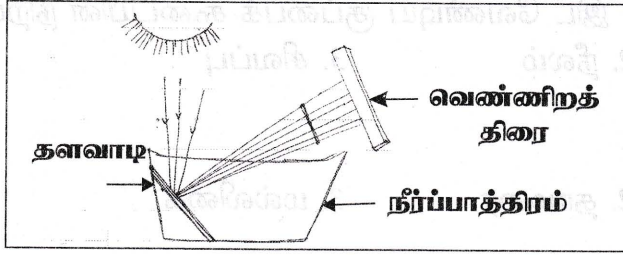
10.

நாட்டு மக்கள் அனைவரினாலும் கொண்டாடப்படும் விழா

1. சித்திரைப்புத்தாண்டு
2. சுதந்திர தினம்
3. தீபாவளி
4. நத்தார்

11.

பின்வரும் பரிசோதனை குறிப்பது



1. சூரிய ஒளியில் வெப்பம் உண்டு என அறிய
2. சூரிய ஒளியில் ஏழு நிறங்கள் உண்டு என அறிய
3. நீர் ஆவியாகும் என்பதை அறிய
4. சூரிய ஒளியில் விற்றமின் D உண்டு என அறிய

12.


ஈமெயில் என்பதன் தமிழ் கருத்து

1. செய்தி
2. மின்னஞ்சல்
3. இணையம்
4. தொலைநகல்

13.

காற்றின் மூலம் பரவும் வித்து


1.



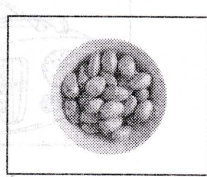
2.



3.



4.



14.

பயணச் சீட்டைப் பெற்றதன் பின்னர் ஏறி பயணம் செய்யும் வாகனம்

1. மகிழுந்து
2. புகையிரதம்
3. வான்
4. பேருந்து

15.



பின்வரும் வானியல் குறியீடு

1. சாதாரணவானம்
2. இடி மின்னல்
3. கரும்பனி
4. அதிக வெப்பம்

(2×15=30 புள்ளிகள்)

02) இணைக்குக.

1. இராமபாணம்
2. சிகிரியா
3. பத்திரிகை
4. காலாவதித் திகதி
5. இரவில் நடமாடும்

- ஆந்தை
அச்ச ஊடகம்
புத்தகம்
சித்திரக் குன்றம்
பால்பக்கற்


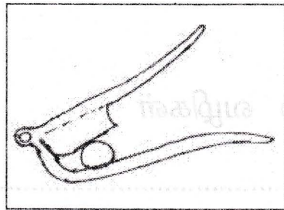
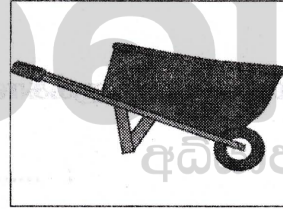
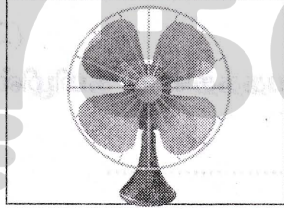
(2×5=10 புள்ளிகள்)

03) சரியாயின் (✓) எனவும் பிழையாயின் (×) எனவும் அடைப்புக்குள் இடுக.

1. வேடுவர்களின் பிரதான தொழில் வேட்டையாடுதல். ()
2. வாகனங்கள் இரவில் பயணிக்கும் போது தலைமை விளக்கு எரியும் ()
3. வகுப்பறையில் முதலுதவிப் பெட்டி அவசியமில்லை. ()
4. பேருந்தில் புகைத்தல் நன்று. ()
5. நாம் மிக வேகமாக ஓடக்கூடிய இடம் சமதரையாகும். ()

(2×5 =10 புள்ளிகள்)

04) பின்வரும் படங்களின் பெயர்களை எழுதுக.



(4×3=12 புள்ளிகள்)

05) பொருத்தமான சொல்லை வைத்து இடைவெளி நிரப்புக.


(இரும்பினால், கல்சியம், ஒற்றுமை, பசு, வெள்ளப்பெருக்கு, கிரிகொரங்க)

1. அதிகமான மழைவீழ்ச்சியால் ஏற்படும்.
2. எமக்கு போசாக்கான நிறையுணவை வழங்குகின்றது.

3. கூட்டமாக வேலை செய்யும் போது ஏற்படுகின்றது.
4. வேடுவர்களின் நடனமாக காணப்படுகின்றது.
5. நெத்தலி கருவாட்டில் அதிகம் உண்டு.
6. புகையிரதத்தின் சில்லுகள் ஆனவையாகும்.
($6 \times 2 = 12$ புள்ளிகள்)

05) தரப்பட்ட படங்களிற்கான ஆங்கிலப் பதங்களை எழுதுக.

1.



2.



Education

($2 \times 2 = 4$ புள்ளிகள்)

07) பின்வரும் தமிழ் சொற்களுக்கான சிங்களப் பதத்தினை தமிழில் எழுதுக.

பூ :

விளையாட்டு மைதானம் :

($1 \times 2 = 2$ புள்ளிகள்)

08) சுருக்கமான விடை எழுதுக.

1. பாடசாலையில் எமக்கு செய்தி கிடைக்கும் வழிகள்

1)..... 2).....

2. உக்காத பொருள்கள் இரண்டு எழுதுக.

1)..... 2).....

3. பழங்கால கிராமிய விளையாட்டுக்கள்

1)..... 2).....

4. தாவரம் வளரத் தேவையான காரணிகள் இரண்டு எழுதுக.

1)..... 2).....

5. நேரகூசிப்படி பயணிக்கும் வாகனங்கள்

1)..... 2).....

6. மழை பெய்யப் போவதை அறிந்த மிருகங்களின் நடத்தைகள் 2 எழுதுக.

1)..... 2).....

7. உணவை பாதுகாக்கும் முறைகள் 2 எழுதுக.

1)..... 2).....

8. சுய சுத்தம் பேணுவதற்கு செய்யக்கூடியவை இரண்டு எழுதுக.

1)..... 2).....

9. பாவனைப் பொருட்களை உரிய இடத்தில் வைப்பதால் ஏற்படும் நன்மைகள் 2 எழுதுக.

1)..... 2).....

10. உங்களிடம் காணப்படும் நல்ல பண்புகள் இரண்டு எழுதுக.

1)..... 2).....

(10×2=20 புள்ளிகள்)

.....

.....

.....

.....

.....

.....

.....

.....

.....

.....

.....

.....

.....

.....



Education

කල්වි

අධ්‍යාපන