


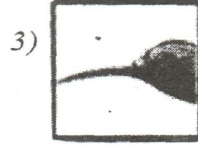

நல்லூர், யாழ்ப்பாணக் கல்விக்கோட்டம்

இரண்டாம் தவணைப் பரீட்சை - 2015

தரம் : 05	சுற்றாடல் சார் செயற்பாடுகள்	நேரம் : 1.30 மணித்தியாலம்
வெயர் / சுட்டெண் :		

01. சரியான விடையின் கீழ் கோடிடுக.

01. பின்வருவனவற்றில் இதய வடிவான இலை
 1. செவ்வரத்தை
 2. பூவரசு
 3. பலா இலை
02. நத்தைகளை உணவாகக் கொள்ளும் பறவை
 1. காகம்
 2. வெளவால்
 3. செண்பகம்
03. இளம் பருவத்தில் பால் குடித்து வளரும் பிராணி
 1. முதலை
 2. வெளவால்
 3. ஆந்தை
04. காற்றால் பரவும் வித்துக்களில் ஒன்று
 1. எருக்கலை
 2. தேங்காய்
 3. வெண்டி
05. இலங்கையின் அரச இலச்சினையிலுள்ள நெற்கதிர் குறிப்பது
 - 1.சௌபாக்கியம்
 2. தன்னிறைவு
 3. உலக நிலைப்பாடு
06. நாரூருவேர் கொண்ட தாவரம்
 1. கீழ்காய் நெல்லி
 2. வேம்பு
 3. பனை
07. நீராவியில் அவிக்கும் உணவு
 1. இட்டலி
 2. தோசை
 3. ரொட்டி
08.  இப்படம் குறிக்கும் நிறுவனம் யாது?
 1. இலங்கை ஒலிபரப்புக் கூட்டுத்தாபனம்
 2. இலங்கை ரூபவாஹினி கூட்டுத்தாபனம்
 3. அஞ்சல் திணைக்களம்
09. சக்தி குறைவாக விரயமாகும் விளையாட்டு அல்லாதது
 1. காற்பந்து
 2. கரம்
 3. சதுரங்கம்
10. தேசப்படத்தில் வயலைக் குறிக்கப் பயன்படும் நிறம்
 1. பச்சை
 2. மஞ்சள்
 3. கபிலம்
11. தேன் சிட்டின் அலகைக் குறிப்பது




12. வண்ணத்துப் பூச்சியின் குடம்பிப் பருவம்

1. கறையான்

2. மயிர்க்கொட்டி

3. கூட்டுப்புழு



1.

இவ் உடுக்கோலத்திற்கு வழங்கும் பெயர்

1. சிறுகரடி

2. வேட்டைக்காரன்

3. கார்த்திகை

14. பாராளுமன்றத்தைச் சுற்றி ஓடும் ஆறு

1. தியவன்ன

2. மாணிக்ககங்கை

3. களனிகங்கை

15. SLDA காணப்படும் பொருள்

1. பற்பசைப் பெட்டி

2. பால்மாப்பெட்டி

3. தீப்பெட்டி

16. நமக்கு இலவசமாகக் கிடைக்கும் சேவை அல்லாதது

1. கல்வி

2. மின்சாரம்

3. சுகாதாரம்

17. கறிசமைக்கப் பயன்படும் வாழை

1. மொந்தன்

2. கதலி

3. இதரை

18. கலாவாயியைக் கட்டுவித்த மன்னன்

1. தாதுசேனன்

2. மகாசேனன்

3. தேவநம்பியதீசன்

19. "நாம்புவ" எனும் உபகரணம் பயன்படுத்துவது

1. வளைதல் தொழில்

2. மீன்பிடித் தொழில்

3. மாணிக்கக்கல் அகழ்ந்தெடுத்தல்

20. நீர் வளம் குறையக் காரணமாக அமையக் கூடியது

1. அதிகம் பருகுதல்

2. பாத்திரங்கள் கழுவுதல்

3. காடழித்தல்

(20x ½ = 30 புள்ளிகள்)

02. சரியாயின் (R) எனவும் பிழையாயின் (F) எனவும் எழுதுக.

01. வெற்றிலை மருத்துவக் குணங்களைக் கொண்டது. ()

02. ஞானக் கீரை என்பது வல்லாரை ஆகும். ()

03. களனி நதி அமைந்துள்ள மாவட்டம் மேல்மாகாணம் ஆகும். ()

04. தொற்று நோய் பரவும் போது உடனடியாகப் பொது சுகாதார பரிசோதகருக்கு அறிவிக்க வேண்டும். ()

05. ஒட்டுத்தொழிலாளி பாதுகாப்பிற்காக கண்ணாடி அணிவர். ()

06. பௌத்த சமயத்தவரின் புனித நூல் திருக்குர்ஆன் ஆகும். ()
07. இரவு வானின் எழிலைக் கண்டு இரசிக்க அரிய இருவிழியன் உதவும். ()
08. தேசப்படத்தில் புகையிரதப் பாதையைக் குறிக்கும் நிறம் பச்சை. ()
09. பூமிக்கு மிக இருகிலுள்ள உடு சூரியனாகும். ()
10. வெளவால் முட்டையிட்டுக் குஞ்சு பொரிக்கும் பறவை ஆகும். ()
- (10 x 1 = 10 புள்ளிகள்)

03. பின்வருவனவற்றை வாசித்து தொடர்புபடுத்துக.

- | | |
|-------------------------|---------------------|
| 1. மீலி மூட்டைப் பூச்சி | சுனாமி |
| 2. சர்வதேச இலட்சினை | படிக்கட்டு |
| 3. இயற்கை அனர்த்தம் | கத்தரி |
| 4. விபத்து | உடல் வலிமை குன்றும் |
| 5. கொள்ளை நோய் | I.S.O |
- (5x2 = 10 புள்ளிகள்)

04. பொருத்தமான சொல்லை வைத்து கீறீட்ட இடத்தை நிரப்புக.

(நீச்சல், ஊதுவர்த்தி, ஓடும் நீர், இரும்பாணி, நிலத்தில் புரண்டு உருள)

1. மின்காந்தம் ஒன்றை ஆக்கும் போது காந்தம் போன்று தொழிற்படும்.
2. தீ பற்றிய ஒருவருக்கு உடனடியாகச் செய்ய வேண்டிய முதலுதவி விடல் வேண்டும்.
3. நீர் விளையாட்டுக்களில் ஒன்றாகும்.
4. காற்று வீசும் திசையை அறிய உதவும்.
5. மண்ணரிப்பு ஏற்பட காரணமாக அமைகிறது.
- (5x2 = 10 புள்ளிகள்)

05. வினாக்களிற் கு விடை தருக.

01. காந்தத்தின் வகைகள் 03 தருக.

.....

02. வேலையை இலகுவாக்கும் உபகரணங்கள் 03 தருக.

.....

03. வித்து முளைத்தலுக்கு அவசியமான காரணிகள் 03 தருக.

.....

.....

.....

04. வெடித்துப் பரவும் வித்துக்கள் 03 தருக.

.....

05. நகர்ப்புற மக்கள் நீரை எவ்வாறு பெறுகின்றனர்?

.....

06. பாடசாலையில் ஏற்படக்கூடிய விபத்துக்கள் 03 தருக.

.....

.....

.....

07. நீர் மாசடைவதைத் தடுக்கும் வழிகள் 03 தருக.

.....

.....

.....

08. இலங்கைக்கு மட்டும் உரித்தான பறவைகள் 03 தருக.

.....

09. புல்லினங்களில் மிகவும் உயர்ந்த தாவரம் எது?

.....

10. அயடீன் குறைபாட்டில் ஏற்படும் நோய் எது?

.....

(10x3= 30 புள்ளிகள்)

06. ஆங்கிலச் சொல்லின் தமிழ் கருத்தை எழுதுக.

1. Bottle Opener -
2. Scissors -
3. Salt -

(3x1 = 3 புள்ளிகள்)

07. தமிழ்ச் சொல்லை ஆங்கிலத்தில் எழுதுக.

1. தபால் நிலையம் -
2. கூடு -
3. எறும்புகள் -

(3x1 = 3 புள்ளிகள்)

08. சீங்கள் வாக்கியத்திற்கு தமிழ்க் கருத்தை எழுதுக.

1. மம நான்னத -
2. வேகயென் துவன்ன -
3. போலய விசி கரன்ன -

(3x1 = 3 புள்ளிகள்)

09. சீங்களத்தில் கூறும் விதத்தை தமிழில் எழுதுக.

1. உங்கள் வீட்டு முகவரி -

(1 புள்ளி)

