

யா/கொக்குவில் இந்து ஆரம்ப பாடசாலை முதலாந்தவணைப் பரீட்சை - 2019

சுற்றாடல்

பெயர் :

தரம் - 5

நேரம்: 1மணி30நிமிடம்

1. சரியான விடையின் கீழ் கோடிடுக

1. சூரிய நமஸ்காரச் செயற்பாடுகளில் இரண்டாம் கட்டம்



2. மனதை ஒருநிலைப்படுத்தும் செயற்பாடுகளின் ஒழுங்கு முறை

- 1) உடலைத் தளர்த்துதல், மனதைத் தளர்த்துதல், உதிப்பு, மனவறுதி, பிரார்த்தனை
- 2) உடலைத் தளர்த்துதல், மனதைத் தளர்த்துதல், மனவறுதி, பிரார்த்தனை, உதிப்பு
- 3) பிரார்த்தனை, உதிப்பு, மனவறுதி, உடலைத் தளர்த்துதல், மனதைத் தளர்த்துதல்

3. நான் ஒரு சிறு பிள்ளை என்னால் ஆற்றப்பட வேண்டிய கடமைகளை வீட்டிற்கும் வகுப்பிற்கும் பாடசாலைக்கும் செய்யும் ஒரு சிறு பிள்ளையாவேன் இவ்வெண்ணம் மனதை ஒரு நிலைப்படுத்தும் செயற்பாட்டின் எத்தனையாவது படிநிலைக்கு உரியது

- 1) 2வது படிநிலை
- 2) 4ம் படிநிலை
- 3) 5ம் படிநிலை

4. நோய்வாய்ப்படாதிருக்க விரும்பும் முக பாவனை


1)



2)



3)



5. எதிரிகளிடமிருந்து தப்பித்துக் கொள்வதற்காக ஓட்டினான் புகுந்து பாதகாப்புப் பெறும் பிராணிகளின் கூட்டம்

- 1) அட்டை, ஆமை, தேரை
- 2) ஆமை, கடலாமை, நத்தை
- 3) ஆமை, கடலாமை, தேரை

6. சுய சுத்தமுள்ள பிராணிகளின் கூட்டம்

- 1) நாய், பூனை
- 2) பூனை, சேவல்
- 3) பூனை, காகம்

7. அவுஸ்ரேலியாவின் தேசிய சின்னம்

- 1) பன்டா
- 2) காட்டுக்கோழி
- 3) கங்காரு

8. இயற்கை உழவன் என அழைக்கப்படும் பிராணி

- 1) நண்டு
- 2) மண்புழு
- 3) மரவட்டை

9. பாணம் தயாரிக்கப் பயன்படும் இலை எது?

- 1) கொத்தமல்லி
- 2) கோப்பி
- 3) தேயிலை

10. பூசணி பூவின் நிறம் யாது

- 1) சிவப்பு 2) வெள்ளை 3) மஞ்சள்

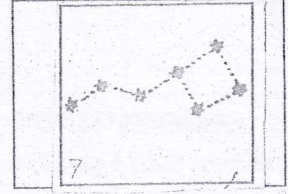
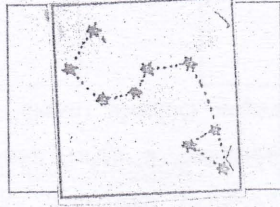
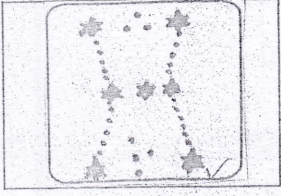
11. SLDA தரச்சான்றிதழ் காணப்படும் பொருள்

- 1) பற்பசை 2) தீப்பெட்டி 3) அயலன் கலந்த உப்பு

12. செந்நிறக்கோள் என அழைக்கப்படுவது

- 1) சனி 2) வெள்ளி 3) செவ்வாய்

13. வேட்டைக்காரன் உடுத்தொகுதியின் சரியான வடிவம்



14.



இது எப்பிராணியை குறிக்கிறது

- 1) தேவாங்கு 2) ஆந்தை 3) மரங்கொத்தி

15. துரமான தேயிலையின் நிறம்

- 1) மஞ்சள் 2) இளம்மஞ்சள் 3) ஊதா

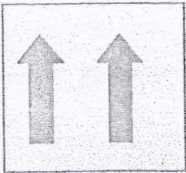
16. நெல்லில் இருந்து பதரை நீக்க உதவும் சக்தி

- 1) மழை 2) விலங்கு 3) காற்று

17. சர்க்கரைச் சாதம் ஆக்கும் போது சுவைக்காக சாதத்தினுள் இடப்படாத வித்து

- 1) பாசிப்பயறு 2) சோளம் 3) மரமுந்திரிகை

18.



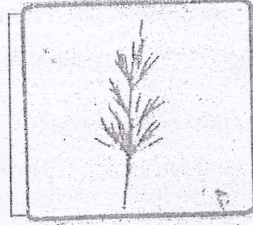
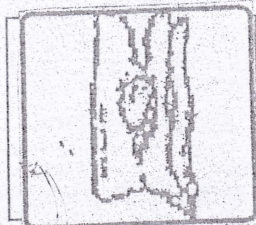

இக்குறியீடு குறித்து நிற்பது

- 1) மீள்சுழற்சி 2) இப்பக்கம் மேலே 3) உடையக் கூடியது

19. P.H.I என அழைக்கப்படுபவர்

- 1) குடும்ப சுகாதார தாதி 2) பொதுச் சுகாதார பரிசோதகர் 3) பேருந்து நடத்துநர்

20. நீரின் மூலம் பரவும் வித்து



(40 புள்ளி)

2 தரப்பட்டுள்ள சொற்களை பொருத்தமான இடங்களில் வைத்து இடைவெளி நிரப்புக

- 1) சூழலின் இனிமையான செவிமடுப்பதால் மனம் அமைதியுறும்
- 2) இயற்கையாகவே ஒரு சுவையான பானம்
- 3) தற்போதைய தேசிய அடையாள அட்டையிலுள்ள இலக்கங்களின் எண்ணிக்கை.....ஆகும்.
- 4) சூரியனுக்கு அண்மையில் உள்ள கோள்
- 5) டெங்கு நுளம்பு நீரில் முட்டையிடும்
(ஒலிகளைச், பன்னிரண்டு, செவ்விளநீர், புதன், சுத்தமான, ஒன்பது, வெள்ளி)

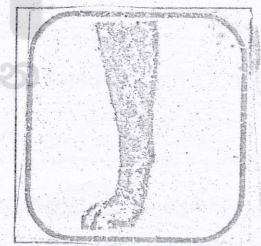

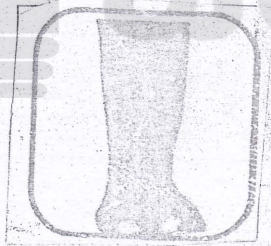
(10 புள்ளி)

3. சரியாயின் சரி எனவும் பிழையாயின் பிழை எனவும் எழுதுக

- 1) இலங்கை இந்தியாவிற்கு வடக்கே அமைந்துள்ள ஒரு தீவாகும். ()
- 2) மாணிக்க கங்கைக்கு அண்மையிலுள்ள புனித நகர் மிகிந்தலை ஆகும். ()
- 3) சீதேவியார் செங்கமுநீர் காற்றின் உதவியுடன் பரவும் தாவரம் ஆகும். ()
- 4) கடவுள் சீட்டினை பெறும் இடம் குடிவரவு குடியகல்வு திணைக்களம் ஆகும். ()
- 5) நெல் ஆணி வேர் தாவரங்களில் ஒன்றாகும். ()

(10 புள்ளி)

4. பின்வரும் கால்களுக்குரிய பிராணிகளின் பெயரை எழுதுக



(8 புள்ளி)

5. பின்வரும் பாடலை வாசித்து கீறிட்ட இடத்தில் வரவேண்டிய சொற்களை எழுதுக

பளிங்கு கண்ணை..... நானும்

பார்க்கஅம்மா - இது

.....கொள்ளைநோக்கி

ஒடப் அம்மா.

(5 புள்ளி)

6. பின்வரும் ஆங்கில வாக்கியத்தின் தமிழ் கருத்தை எழுதுக

1) Happy New Year

2) I Will Come Tomorrow

(2 புள்ளி)

7. தமிழ் கருத்தை எழுதுக

அ(ப்)பி பாசல(ட்)ட யமு

ஓயாகே நம மொக(க்)த?

(2 புள்ளி)

8. சிங்களத்தில் சொல்லப்படும் விதத்தை தமிழ் எழுத்தில் எழுதுக

பாம்பு

(1 புள்ளி)

9. தமிழ் கருத்திற்கான ஆங்கிலச் சொல்லை எழுதுக

வானம்

சந்தை

(2 புள்ளி)

10. சரியான விடையினை புள்ளிக்கோட்டில் எழுதுக

1) மனதை ஒருநிலைப்படுத்தும் செயற்பாட்டின் நன்மைகள் 2 தருக

.....

2) பாடசாலைக்கு ஆற்ற வேண்டிய கடமை/பொறுப்புகள் 2 தருக

.....

3) மகிழ்ச்சியான முக பாவனைக்கு உரிய சந்தர்ப்பங்கள் 2 தருக

.....

4) பின்வரும் பிராணிகளால் சூழலுக்கு கிடைக்கும் நன்மையை எழுதுக

வெளவால்..... தேன்

5) பால் உணவுகள் 2 தருக

.....

6) காற்று சக்தியை பயன்படுத்தி செய்யும் வேலைகள் 2 தருக

.....

7) எமக்கு இலவசமாக கிடைக்கும் சேவை 2 தருக

.....

8) வித்து நீக்கிய பின் உணவாக பயன்படும் காய்கள் 2 தருக

.....

9) இலங்கைக்கே உரித்தான பிராணிகள் 2 தருக

.....

10) 1. மழை வீழ்ச்சியை அளக்கப் பயன்படும் அலகு யாது?

2. காற்றின் வேகத்தை அளக்கப் பயன்படும் கருவ யாது?

(20 புள்ளி)