



யாழ்ப்பாணம் வலயக் கல்வி அலுவலகம் மூன்றாம் தவணைப் பரீட்சை - 2019

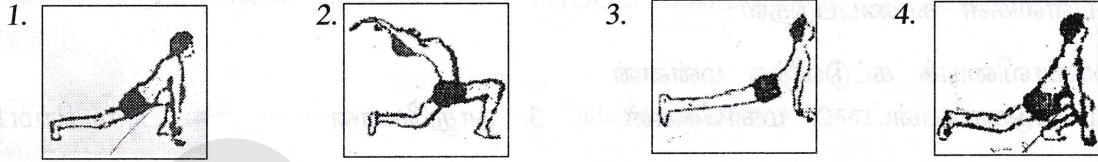
தரம் : 05	சுற்றாடல் சார் செயற்பாடு	1.15 மணித்தியாலம்
	கூட்டெண்.....	

பகுதி - I

01) மிகச் சரியான விடையின் கீழ் கோடிடுக.

1) மனதை ஒரு முகப்படுத்தும் தியானப்பயிற்சியின் நான்காம் கட்டமாக அமைவது
1. மனவறுதி 2. மனதைத் தளர்த்தல் 3. பிரார்த்தனை 3. மலர்வு

2) சூரிய நமஸ்காரப் பயிற்சியின் ஐந்தாம் கட்டத்தைக் காட்டும் உரு



3) அறுகோண வடிவமுள்ள அறைகளைக் கொண்ட கூட்டினை அமைக்கும் பிராணி
1. தேன் 2. தும்பி 3. சிலந்தி 4. குளவி

4) நுகத்தடி பயன்படுத்தப்படும் தொழில்

1. கொல்லன் கம்மாலை 2. ஆபரணத் தொழில்
3. விவசாயம் 4. வனைதல்தொழில்

5) சுற்றுப்புறச்சுழலைச் சுத்தமாகவும் அழகாகவும் வைத்திருப்பதால் கிடைக்கும் நன்மை

1. சுற்றாடல் அழகாயிருக்கும் 2. ஈக்கள் நுளம்புகள் பெருகாது
3. நோய்கள் பெருகாது 4. எல்லாம் சரி

6) இலங்கையின் தேசிய கீதத்தை இயற்றி இசையமைத்தவர்

1. மகிந்ததேரர் 2. கொங்கலாங்கொட பண்டா
3. ஆனந்தசமரக்கோன் 4. ஆதர்சி. கிளாக்

7) பின்வரும் எவ்வாகனத்தில் செல்லும் போது இடிமின்னல் தாக்கம் ஏற்படலாம்.

1. பேருந்து 2. புகைவண்டி 3. துவிச்சக்கரவண்டி 4. கார்

8) காற்றின் மூலம் பரம்பலடையும் வித்துக்களின் கூட்டம்

1. எருக்கலை, தேங்காய் 2. பருத்திப்பஞ்சு, எண்ணை
3. தாமரை, புலிநகம் 4. நாயுருவி, தணக்கு

9) வித்துக்களை நீக்காது சமைக்கப்படும் காய்கறிகள்

1. புடோல், பாகல் 2. புடோல், வெண்டி
3. கத்தரி, வெண்டி 4. பூசனி, புடோல்

10) தற்காலப் போக்குவரத்து முறையின் நன்மை அல்லாதது

1. விரைவாகப்பயணம் செய்தல் 2. குறைந்தளவு நேரம்
3. சௌகரியமான பயணம் 4. சூழல்நேயத் தன்மை காணப்படல்

11) ஆற்றோடு ஆற்றுநீர் அலைந்துவருமாப் போல....” என்னும் பாடல் பாடப்படும் சந்தர்ப்பம்

1. சூடு மிதிக்கும் போது
2. ஓடம் ஓட்டும் போது
3. அருவி வெட்டும் போது
4. சும்மியடிக்கும் போது

12) சமையலின் போது அரிசியில் இருக்கும் சிறிய கல், மண் போன்றவற்றை நீக்கப் பயன்படுத்தும் பாத்திரம்

1. அரிக்குஞ்சட்டி
2. மண்சட்டி
3. அலுமினியப் பாத்திரம்

13) பின்வரும் எந்தப் பொருளைக் காந்தம் கவர்வதில்லை

1. இரும்பு
2. பிளாஸ்டிக்
3. குண்டுசி
4. உருக்குக்குண்டு

14) நடுகைக்கு உகந்த வித்துக்களின் இயல்பு அல்லாதது

1. நன்கு முதிர்ச்சியடைந்திருத்தல்
2. மேலுறை பளபளப்பாக இருத்தல்
3. உள்ளீடு நிரம்பியிருத்தல்
4. புள்ளிகள் காணப்படுதல்


15) கலாவாயியைக் கட்டுவித்த மன்னன்

1. பண்டுகாபயன்
2. மகாசேனன்
3. தாதுசேனன்
4. பராக்கிரமபாகு

16) பௌர்ணமி தினத்திலிருந்து 8ம் நாள் தோன்றும் சந்திரனின் வடிவம்



17) ஏழு சகோதரிகள் என அழைக்கப்படும் உடுத்தொகுதி



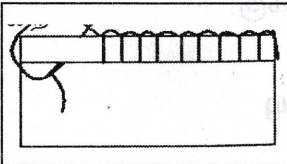
18) புளிப்பான பழங்களில் அதிகளவு இருக்கும் போசணைப்பதார்த்தம்

1. விற்றமின் A
2. விற்றமின் C
3. புரதம்
4. கொழுப்பு

19) இலத்திரனியல் ஊடகமாக அமையாதது

1. தொலைக்காட்சி
2. பத்திரிகை
3. வானொலி
4. இணையம்

20)



படத்திற் காட்டப்பட்டுள்ள தையல் வகை

1. சங்கிலித்தையல்
2. மீன்முள்ளுத்தையல்
3. கம்பளித்தையல்
4. சோம்தையல்

(20 × 1½ = 30 புள்ளிகள்)

02) சரியாயின் (✓) எனவும் பிழையாயின் (×) எனவும் அடையாளமிடுக.

1. நாளாந்தம் சூரிய நமஸ்காரம் செய்தல் நன்று. ()
2. ஆந்தைகள் வயலில் தீங்கு விளைவிக்கும் பூச்சிகளை பிடித்து அழிக்கும். ()
3. வளமற்ற மண்ணில் பயிர்கள் செழித்து வளரும். ()
4. காற்று வீசும் திசையை அறிய காற்றுவேகமானி பயன்படும். ()
5. பாதசாரிகள் பாதையின் வலது பக்கத்தால் செல்ல வேண்டும். ()

(5 புள்ளிகள்)

03) இடைவெளிக்குப் பொருத்தமான சொல்லைத் தெரிவு செய்து வெற்றிடம் நிரப்புக.

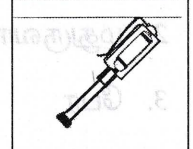
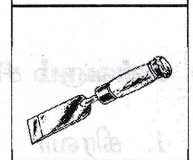
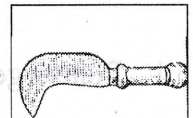

(வேப்பெண்ணெய்கரைசல், உடன்பாடான, கறையான், நுளம்பு, இலங்கைக்குரிய)

1. அதிகளவு கொள்ளை நோய்களைப் பரப்பும் நோய்க்காவி ஆகும்.
2. நாம் எப்போதும் நடத்தைகளைக் காட்ட தயாராய் இருக்க வேண்டும்.
3. பாரம்பரிய முறையில் பீடைகளைக் கட்டுப்படுத்த..... சிறந்தது.
4. பச்சைப்பாம்பு, கொம்பு ஓணான் போன்றவை..... பிராணிகளாகும்.
5. மண்ணை வளப்படுத்த உதவுகிறது.

(5 புள்ளிகள்)

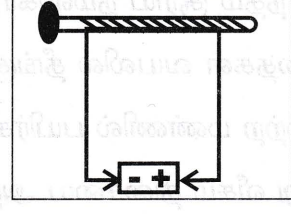
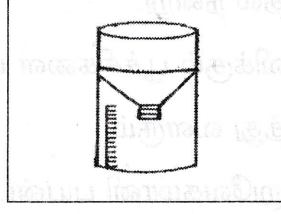
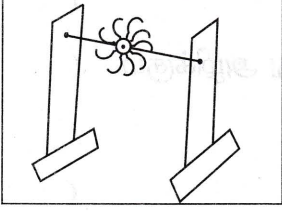
04) பொருத்தமாக இணைக்க.

1. பலகை மீது அலங்கார வேலை செய்தல்.
2. கம்பிகளை வெட்டுதல், வளைத்தல்.
3. வீட்டில் மின்சாரத்தைச் சோதித்தல்.
4. நெற்கதிர்களை அறுவடை செய்தல்.



(6 புள்ளிகள்)

05) பின்வருவனவற்றின் பெயர்களை எழுதுக.



(6 புள்ளிகள்)

06) பின்வரும் பாடலைப் பூர்த்தி செய்க.

1. கல்லும் மலையும் வந்தேன் - பெருஞ்
..... கடந்து வந்தேன்.


எல்லை விரிந்த..... யெங்கும் - நான்
இறங்கித் தவழ்ந்து வந்தேன்.

(6 புள்ளிகள்)

07) பின்வருவனவற்றின் ஆங்கிலப்பெயரை ஆங்கில எழுத்தில் எழுதுக.

i)

1.



2.



வாக்கியங்களின் கருத்தை எழுதுக.

ii) 1. Please go out :

2. I am hungry :

(6 புள்ளிகள்)

08) பின்வரும் சிங்களச் சொற்களுக்கான கருத்தை எழுதுக.

1. கிரவா -

2. மதுருவா -

3. பேர -

4. தாத்தா ஆவாத -

(6 புள்ளிகள்)

08) பின்வரும் வினாக்களுக்கு விடை எழுதுக.

1. தியானப் பயிற்சியினால் கிடைக்கும் நன்மைகள் 2 எழுதுக.

1)..... 2).....

2. எமது நாட்டுக்குரித்தான மீன் இனங்கள் 2 எழுதுக.

1)..... 2).....

3. காற்றினால் இயங்கும் இசைக்கருவிகள் 2 எழுதுக.

1)..... 2).....

4. இயற்கை அனர்த்தங்கள் 2 எழுதுக.

1)..... 2).....

5. வித்து முளைப்பதற்கு அவசியமான காரணிகள் 2 எழுதுக.

1)..... 2).....

6. அசுத்தநீரைப் பருகுவதால் ஏற்படக்கூடிய நோய்கள் 2 எழுதுக.

1)..... 2).....

7. பாலிலிருந்து தயாரிக்கும் உணவு வகைகள் 2 எழுதுக.

1)..... 2).....

8. வித்துக்களை நாற்றுமேடையில் நடுவதன் மூலம் பெறப்படும் தாவரங்கள் இரண்டு எழுதுக.

1)..... 2).....

9. தகவல்களைப் பெற்றுக்கொள்ள உதவும் அச்ச ஊடகங்கள் 2 எழுதுக.

1)..... 2).....

10. குழுவாக வேலை செய்வதால் கிடைக்கும் நன்மைகள் 2 தருக.

1).....

2).....

(10×3=30 புள்ளிகள்)

(08) විභාගයේ නිකුත්වන විට මෙය සලකන්න.

1. දිවයිනේ (පාලන) ක්ෂේත්රයේ සේවයේ යෙදවීම.

..... (1)

2. සමස්ත විද්യാල සේවයේ සේවයේ යෙදවීම.

..... (1)

3. සමස්ත විද්യാල සේවයේ සේවයේ යෙදවීම.

..... (1)

4. සමස්ත විද්യാල සේවයේ සේවයේ යෙදවීම.

..... (1)

5. සමස්ත විද්യാල සේවයේ සේවයේ යෙදවීම.

..... (1)



..... (1)

..... (1)

6. සමස්ත විද්യാල සේවයේ සේවයේ යෙදවීම.

..... (1)

7. සමස්ත විද්യാල සේවයේ සේවයේ යෙදවීම.

..... (1)

8. සමස්ත විද්യാල සේවයේ සේවයේ යෙදවීම.

..... (1)

9. සමස්ත විද්യാල සේවයේ සේවයේ යෙදවීම.

..... (1)