

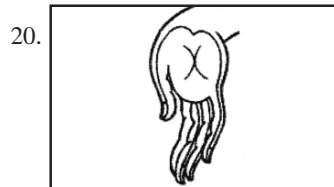
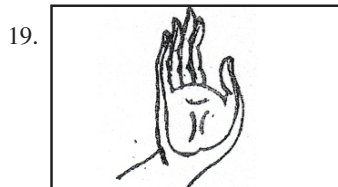
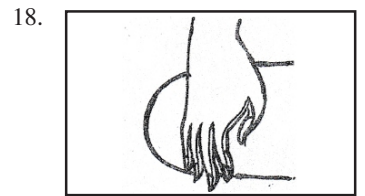
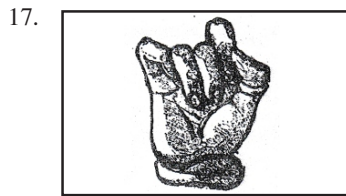
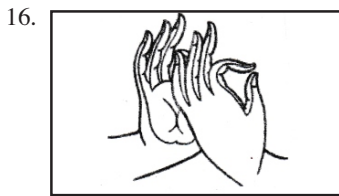


07. பேசா வளலு : .....
08. தூர தரிசனம் : .....
09. கோபுரம் : .....
10. மஸ்ஜித் : .....

• 11 - 15 வரையுள்ள வினாக்கள் ஒவ்வொன்றுக்கும் மிகவும் பொருத்தமான விடையின் கீழ் கோடிடுக.

11. ருவன்வெல்ல பிரதேசத்தை அண்மித்து முதன் முதலில் தெவொல் மடுவ சாந்திக்கிரியை நடைபெற்றது. இது எத்தெய்வத்தை அடிப்படையாக கொண்டது?
1. பத்தினி தெய்வத்தையும் தெவொல் தெய்வத்தையும்
  2. கணபதி தெய்வம்
  3. வேப்பந் தெய்வம்
  4. விஷ்ணு தெய்வம்
12. இந்து ஆலயங்கள் தொடர்பான சாந்திக் கிரியைகள்,
1. பஹன் மடுவ சாந்திக்கிரியை
  2. தெவொல் மடுவ சாந்திக்கிரியை
  3. கும்பாபிஷேக சாந்திக்கிரியை
  4. கொஹம்ப கங்களி சாந்திக்கிரியை
13. இலங்கையில் ஆதியில் இருந்து பிரபல்யம் பெற்ற பொம்மை நாடகம்,
1. விரல் பொம்மலாட்டம்
  2. நூல் பொம்மலாட்டம்
  3. கை பொம்மலாட்டம்
  4. மப்பட் பொம்மலாட்டம்
14. இலங்கையில் முதலில் அமைக்கப்பட்ட வட்ட தாகப,
1. அபயகிரி விகாரை
  2. தூபாராம விகாரை
  3. ரன்கொத் விகாரை
  4. ஜேதவனராமய
15. பன்புல், நியந்த, மருள்நார் பால் வேலைக்கு பயன்படுத்தப்படும் வர்ணங்களுள் சிவப்பு வர்ணம் பெறப்பட்ட முறை,
1. வெனிவெல்/ மரமஞ்சள்
  2. பதங்கி
  3. அரலு வேர்
  4. கடுக்காய்

• வினா இலக்கம் 16 - 20 வரையான வினாக்களுக்கு பின்வரும் உருக்களிலுள்ள முத்திரைகளின் பெயர் எழுதுக.



• 21 - 25 வரையுள்ள வினாக்களுக்கு சுருக்கமான விடை தருக.

21. இந்திய சாஞ்சி தூபியின் பகுதியான ஹர்மிகாவிற்குப் பதிலாக இலங்கை தூபியின் பகுதியை எவ்வாறு அழைப்பர்?

.....

22. தொறவக்க குகைச்சித்திரங்கள் எக்காலத்திற்கு உரியவை?

.....

23. பாளி மொழியில் குமுதுப்பலா எனவும், சிங்கள மொழியில் திவ மானெல் எனவும் குறிப்பிடப்படும் மலரை சிங்கள பாரம்பரிய அலங்காரத்தில் எவ்வாறு குறிப்பிடுவர்?

.....


24. மஞ்சள் வர்ணத்தையும் சிவப்பு வர்ணத்தையும் கலந்தால் பெறப்படும் வர்ணம் யாது?

.....

25. கிறிஸ்தவ தேவாலயங்கள் இரு வகைப்படும். அதில் ஒன்று ரோமன் முறை, மற்றைய முறை எது?

.....

• 26 - 30 வரையான வினாக்களுக்கு கீழே தரப்பட்டுள்ள தூபியை அவதானித்து விடை தருக.



26. மேலே குறிப்பிடப்பட்டுள்ள தூபியின் பெயர் யாது?

.....

27. இதைக் கட்டுவித்த மன்னன் யார்?

.....

28. அதன் வடிவம் யாது?

.....

29. இதனைச் சுற்றியுள்ள மதில்களில் காணப்படும் உருவம் யாது?

.....

30. இத்தூபி அமைக்கப்பட்ட காலம் எது?

.....

(30 புள்ளிகள்)

\* \* \* \* \*

**வடமேல் மாகாணக் கல்வித் திணைக்களம்**  
**முதலாம் தவணைப் பரீட்சை - 2019**  
**தரம் 08 - சித்திரக்கலை**  
**விடைப்பத்திரம்**

**பகுதி I**

01. தியான முத்திரை	02. வஜ்ராசனம்
03. வீராசனம்	04. அபய முத்திரை / விதர்க்க முத்திரை / பரதுக்க முத்திரை
05. அவுக்கணசிலை, கல்விகாரை நின்ற நிலை புத்தர் சிலை	06. இந்துக்களின் வீட்டு வாசலின் முன் போடப்படும் அலங்காரம்.
07. தூபிகளின் அண்டத்தை சுற்றி வர மூன்று வரிகளில் படிக்கட்டுக்கள் போல் அமைந்த பகுதி.	08. அருகிலுள்ள பொருட்கள் பெரிதாகவும் தூரத்திலுள்ள பொருட்கள் சிறிதாகவும் தென்படும் அமைப்பு.
09. இந்து ஆலயங்களில் உச்சியில் அதிக சிற்பங்களைக் கொண்டுள்ள பகுதி.	10. முஸ்லீம் மக்கள் வழிபடும் இடம்.
11. 1	12. 3
13. 2	14. 2
15. 2	16. தர்மச்சக்கர முத்திரை
17. கடஹஸ்த முத்திரை	18. பூமிபரிச முத்திரை
19. அபய முத்திரை	20. வரத முத்திரை
21. ஹதரஸ்கொடுவ	22. வரலாற்றுக்கு முந்திய காலம்
23. கடுபுல் மலர்	24. செம்மஞ்சள்
25. கோதிக் முறை	26. ருவன்வெலிசாய
27. துட்டகைமுணு	28. நீர்க்குமிழி வடிவம்
29. யானை முகம்	30. அநுராதபுர காலம்

(1x30=30 புள்ளிகள்)

# 2025

## 1ம் தவணை வகுப்புகள்

தரம் 6 முதல் 11 வரையான  
மாணவர்களிற்கான தமிழ் மற்றும் ஆங்கில  
மொழிமூல வகுப்புக்கள் ஆரம்பமாகவுள்ளன.

ஆரம்பம் 01.01.2025



இலங்கையின் எப்பாகத்திலிருந்தும்  
Zoom app மூலம் எமது வகுப்புகளில்  
இணைந்து கொள்ள முடியும்.

அனைத்துப் பாடங்களும் ஒரே கல்வி நிறுவனத்தின் கீழ்...



Education  
**கல்வி** Kalvi.lk  
අධ්‍යාපන



Whatsapp  
**075 287 1457**