

# நீர்கொழும்பு கல்வி வலயம்

## ஆரம்பப் பிரிவு

### கொவிட் - 19 விடுமுறைக்கால செயற்றிட்டம் II கணிதம்

பெயர் : .....

◆ இலக்கத்திற்குரிய பொருத்தமான உருக்களை இணைப்போம்.

01. நான்கு



02. ஆறு



03. மூன்று



04. எட்டு



05. ஐந்து



◆ சிறிய உருவில் இருந்து பெரிய உரு வரை ஒழுங்குப்படுத்தி வரைவோம்

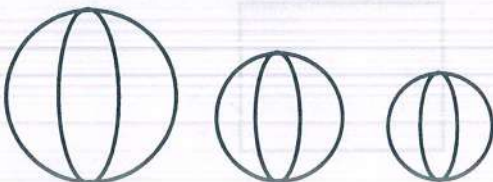
01.



02.

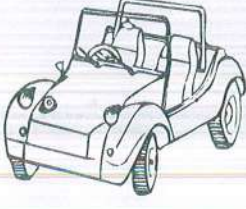


03.



◆ முதலில் உள்ள உருவின் கீழ் கோடு வரைவோம்.




01.



02.

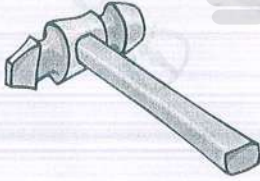


03.

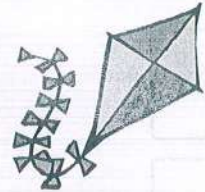


◆ கடைசியாக உள்ள உருவின் கீழ் கோடு வரைவோம்.


01.



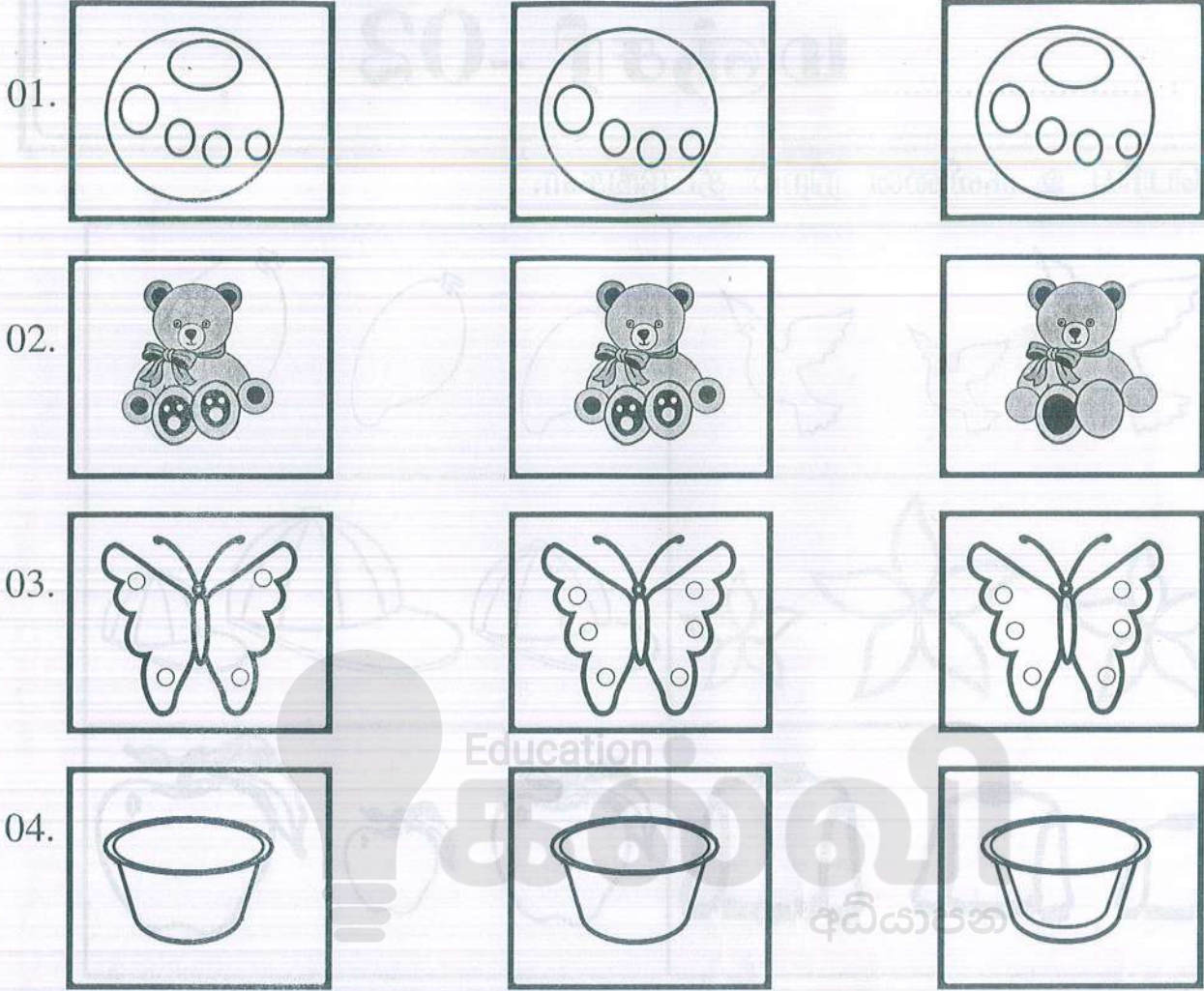
02.




03.



◆வடிவில் வித்தியாசமான உருவத்தை நிறந்தீட்டுங்கள்.



◆நடுவில் உள்ள உருவினை சுற்றி வட்டமிடுவோம்




◆ அறிவுறுத்தலுக்கு ஏற்ப செயற்படுவோம்.

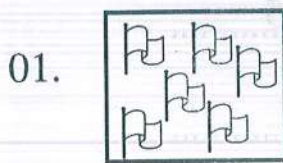


01. இரண்டாவதாக செல்லும் வாகனத்தின் மேல் X அடையாளமிடுங்கள்.
02. நான்காவதாக செல்லும் வாகனத்தின் மேல் ✓ அடையாளமிடுங்கள்.
03. இறுதியாக செல்லும் வாகனத்தை சுற்றி வட்டம் வரையுங்கள்.
04. முதலாவதாக செல்லும் வாகனத்தின் கீழ் கோடிடுங்கள்.

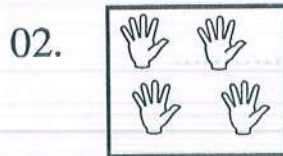
◆ கோலத்தை இனங்கண்டு நிழற்றுவோம்.



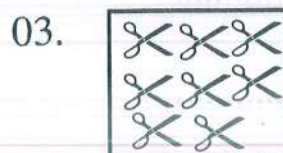
◆ கட்டத்தில் உள்ள உருக்களின் எண்ணிக்கையை எழுதுக.



கட்டத்தில் உள்ள கொடிகள் எத்தனை? .....

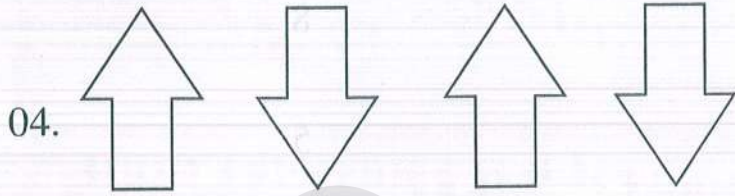
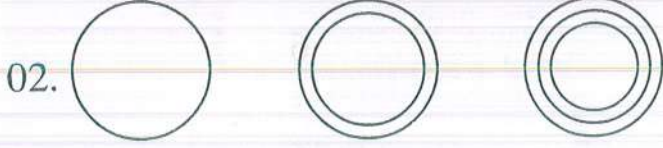


கட்டத்தில் உள்ள கைகள் எத்தனை? .....



கட்டத்தில் உள்ள கத்தரிகோல்கள் எத்தனை? .....



◆ கோலத்தில் அடுத்து வரும் உருவை வரையுங்கள்.



◆ ✓ அடையாளம் இட்டு எண்ணுங்கள்.

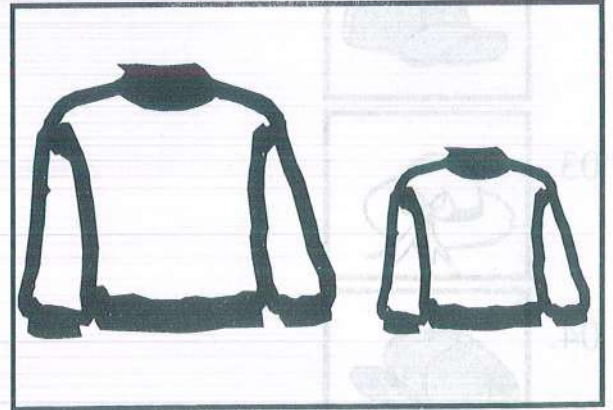


ஆறு	
எட்டு	
பதினொன்று	
பதினாறு	
இருபது	

◆ பூக்குவியலை இரு குவியல்களாக வேறுபடுத்தி வரையுங்கள்.



◆ உயரம் குறைந்த உருவை நிறந்தீட்டுங்கள்.


01.



◆ இலக்கத்திற்கு ஒத்த உருக்களை இணையுங்கள்.


01.

8




02.

5




03.

9



04.

7






05.

4

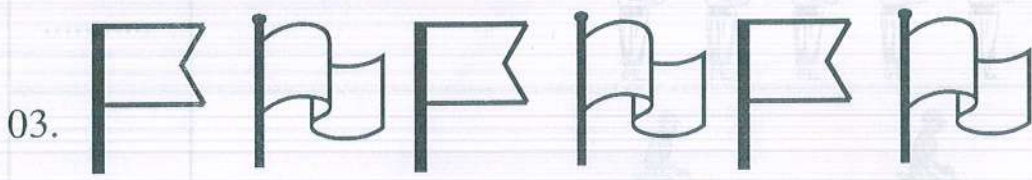



◆ பொருத்தமான இலக்கத்தை எழுதுவோம்.

01.




◆ அடுத்து வரும் உருவை வரைவோம்.



◆ இலக்கத்திற்குரிய விரும்பிய உருக்களை வரைவோம்.



4



5




8



6









9




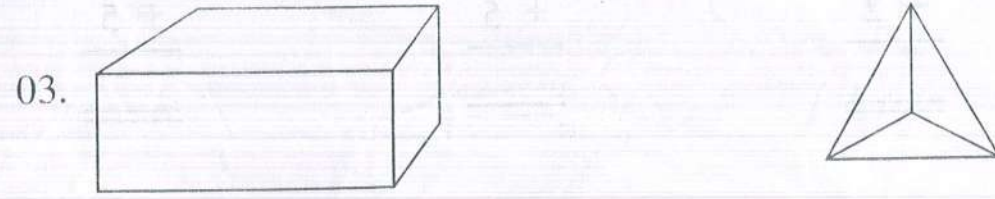
7






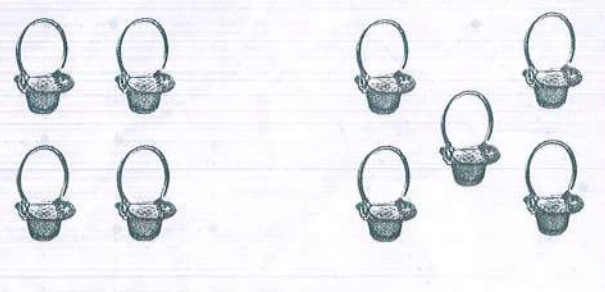
◆ எழுத்துக்களில் எழுதுவோம்.

4		நான்கு .....
5		.....
6		.....
7		.....
9		.....
10		.....

◆ ஒத்த வடிவங்களை இணைப்போம்.



◆ மொத்தமாக எத்தனை?

 <p>2                      3</p> <p>மொத்தமாக .....</p>	 <p>3                      4</p> <p>மொத்தமாக .....</p>
 <p>1                      5</p> <p>மொத்தமாக .....</p>	 <p>4                      5</p> <p>மொத்தமாக .....</p>