



மாகாணக் கல்வித் திணைக்களம் - வடக்கு மாகாணம்

மூன்றாம் தவணைப் பரீட்சை - 2017

வரலாறு - I



கூட்டெண் :- .....

தரம் : - 10

நேரம் :- 1. 00 மணித்தியாலம்

• கவனிக்க.

- ❖ எல்லா வினாக்களுக்கும் விடை எழுதுக. இவ்வினாத்தாளுக்கு 40 புள்ளிகள் வழங்கப்படும்.
- ❖ 1 தொடக்கம் 40 வரையுள்ள வினாக்கள் ஒவ்வொன்றிலும் (1), (2), (3), (4) என இலக்கமிடப்பட்ட விடைகளில் சரியான அல்லது மிகப் பொருத்தமான விடையைத் தெரிவு செய்க.
- ❖ உமக்கு வழங்கப்பட்டுள்ள விடைத்தாளில் ஒவ்வொரு வினாவுக்கும் உரிய வட்டங்களில் உமது விடையின் இலக்கத்தை ஒத்த வட்டத்தினுள்ளே புள்ளியை [ X ] இடுக.
- ❖ அவ்விடைத்தாளின் பிற்பக்கத்தில் தரப்பட்டுள்ள மற்றைய அறிவுறுத்தல்களையும் கவனமாக வாசித்து அவற்றைப் பின்பற்று.

பகுதி - ஐ

- (01) இலங்கை வரலாறு தொடர்பாக அறிந்துகொள்வதற்கு உதவுகின்ற காலத்தால் முந்திய உள்நாட்டு இலக்கிய மூலாதாரமான நூல் எது?
- (1) மகாவம்சம் (2) சூளவம்சம் (3) தீபவம்சம் (4) போதிவம்சம்
- (02) இலங்கையின் பௌத்த சாசன வளர்ச்சி பற்றி எழுதப்பட்டுள்ள நூலைப் பின்வருவன வற்றிலிருந்து தெரிவு செய்க.
- (1) நிகாய சங்கிரஹய (2) ராஜவலிய (3) பூஜாவலிய (4) செலவிகினி சந்தேசய
- (03) இலங்கை பற்றிய தகவல்களை உள்ளடக்கியுள்ள தென்னிந்திய இலக்கியங்கள்
- (1) சிலப்பதிகாரம், சீவகசிந்தாமணி (2) சிலப்பதிகாரம், மணிமேகலை (3) குண்டலகேசி, பத்துப்பாட்டு (4) வளையாபதி, யசோதரா காவியம்
- (04) இலங்கையின் புராதன கால பொருளாதார முறை, தொழில்நுட்ப அறிவு பற்றி அறிந்துகொள்ள உதவும் பொலன்னறுவைக் காலத்தில் பயன்படுத்தப்பட்ட நாணயம்
- (1) கஹபண (2) தரண (3) கஹவனு (4) தம்பமஸ்ஸ
- (05) இரும்பு உலோகப் பாவனை ஆரம்பமான காலம்
- (1) முன்வரலாற்றுக் காலம் (2) வரலாற்றுக்கு முற்பட்ட காலம் (3) வரலாற்றுக் காலம் (4) வரலாற்றுக்கு இடைப்பட்ட காலம்
- (06) பெண்கள் தம்மை அழகுபடுத்துவதற்காகப் பயன்படுத்திய உலோகக் குச்சி, பூசுதற்கள் கண்டறியப்பட்ட பழமை வாய்ந்த வீடு கண்டறியப்பட்ட இடம்
- (1) பெரகல (2) இராவண எல்ல (3) பூந்தல (4) உடரஞ்சாமடம்
- (07) குருணாகல் மாவட்டத்திலுள்ள கணேகந்த, கல்லென விகாரைக் கற்குகைகளில் அணைக்கட்டினைக் குறிப்பதற்கு வழங்கப்பட்டிருந்த பெயர்
- (1) ததபண (2) கஹபண (3) அவரண (4) புராண

- (08) வரலாற்றுக் காலத்தில் துறைமுகத்தினை அண்மித்து இருந்த கிராமங்களுக்கு வழங்கப்பட்ட பெயர்  
 (1) சூலகம் (2) நியம்கம் (3) வட்டக்காம (4) பட்டானகாம
- (09) கி.மு 250 ஆம் ஆண்டை அண்மித்த கல்வெட்டுக்களில் இல்லத் தலைவர்களுக்கு வழங்கப்பட்ட பெயர்  
 (1) குர்க்கபதி (2) கஹபதி (3) கமிக (4) பருமக
- (10) கமிக என்னும் கிராமத் தலைவர்களில் இருந்து தோற்றம் பெற்ற பிரதானிகள்  
 (1) இல்லத் தலைவர்கள் (2) கிராமினி  
 (3) பருமக (4) குடும்பத் தலைவர்
- (11) அரசு வரி அறவீடு முறைமைப்படுத்தப்பட்டமை, நாட்டை நிர்வாக அலகுகளாகப் பிரித்து நிர்வகிப்பதற்கு முயற்சி செய்தமை போன்ற பணிகளுடன் தொடர்புடைய மன்னன்  
 (1) துட்டகைமுனு (2) காவந்தீசன்  
 (3) தேவநம்பியதீசன் (4) வசபன்
- (12) 1ம் விஜயபாகு மன்னனின் ஆரம்ப கால ஆட்சிப் பிரதேசத்தினையும் அவருக்கு அடைக்கலம் வழங்கிய பாதுகாப்பு அதிகாரியையும் தரும் விடை முறையே  
 (1) இரிரட்டை - நகரகீர்த்தி (2) தக்கிணதேசம் - ஆதிச்ச  
 (3) றுகுணூரட்டை - சித்தாரும்பி புத்தநாயக்க (4) மலையரட்டை - லங்காபுர
- (13) வசப மன்னன் ஆட்சிக் காலத்தில் நாகதீப பிரதேசத்தை நிர்வகித்த ரிஷிகிரி என்னும் அமைச்சர் அங்கு கட்டிய விகாரை  
 (1) பிரியங்க திஸ்ஸ விகாரை (2) பியாங்கு திஸ்ஸ விகாரை  
 (3) நாகதீப விகாரை (4) பியாகு விகாரை
- (14) கி.பி 9ம் நூற்றாண்டு காலக் கல்வெட்டுக்களில் பிரதேச மட்டத்தில் செயற்பட்ட சபைகளுக்கு வழங்கப்பட்டுள்ள பெயர்  
 (1) எக்தென்சமியென் (2) தககம எத்தன்  
 (3) வத்ஹிமியன் வாதல (4) சபாவ
- (15) சீனாவுடன் நெருக்கமான உறவினை மேற்கொண்ட இலங்கை ஆட்சியாளன்  
 (1) 1 ஆம் அக்போ (2) 2 ஆம் அக்போ  
 (3) 3 ஆம் அக்போ (4) 6 ஆம் அக்போ
- (16) அநுராதபுர நகரத்தின் மேற்கே அமைந்துள்ள பண்டைய சர்வதேச துறைமுகம்  
 (1) கோகன்ன் (2) ஜம்புகோளப்பட்டினம்  
 (3) மாதோட்டம் (4) லங்காபட்டுன
- (17) இடி மின்னலில் இருந்து பாதுகாப்புப் பெறுவதற்காக ருவன்வெலிசாய தாதுகோபத்தில் பொருத்தப்பட்ட உபகரணத்திற்கு வரலாற்று மூலாதாரங்களில் குறிப்பிடப்பட்டிருக்கும் பெயர்  
 (1) வஜ்ர சம்பட்ட (2) ரன்சிரியல்  
 (3) நவநீதம் (4) மாசக்க

(18) பண்டைய கல்வெட்டுக்களில் மடைக்கதவுக்கு வழங்கப்பட்ட பெயர்

- (1) அவரண (2) ரஜமொஹால்  
(3) தண்ணீர் விளக்கு (4) அடிக

(19) சமனலவெவ பிரதேசத்திலிருந்த இரும்பைப் பெற்றுக்கொள்வதற்கான அடுப்பினை எரிப்பதற்கான கரி பெற்றுக்கொள்வதற்காக எரிக்கப்பட்ட மரம்

- (1) மருது (2) மலங் (3) மரங் (4) மாவு

(20) மகாவலி கங்கையின் கிளைநதியான அம்பன் கங்கையை மறித்துக் கட்டப்பட்ட கால்வாய்

- (1) யோதக் கால்வாய் (2) மினிப்பே கால்வாய்  
(3) அங்கமடில்லக் கால்வாய் (4) எலகரக் கால்வாய்

(21) மேல்வரும் கூற்றுக்களைக் கவனிக்க.

- அரசியல் அதிகாரம் பன்டுகப்படுத்தப்பட்டமை
- புதிய துறைமுகங்கள் வளர்ச்சியடைந்தமை

மேற்படி கூற்றுக்களுடன் தொடர்புடைய நகரங்களின் சோடி

- (1) அநுராதபுரம் - பொலன்னறுவை (2) அநுராதபுரம் - மாகம  
(3) தம்பதேனியா - யாப்பகுவா (4) பொலன்னறுவை - திஸ்ஸமாரகம

(22) மேல்வரும் வரலாற்று நிகழ்வுகளைக் கவனிக்க.

- (A) - 1ம் புலனேகபாகு எகிப்திற்குத் தூதுக்குழுவை அனுப்பதல்  
(B) - 5ம் மகிந்தன் இராஜேந்திர சோழனால் கைது செய்யப்படல்  
(C) - கலிங்கமாகன் பொலன்னறுவையை ஆக்கிரமித்தல்  
(D) - 3ம் விக்கிரமபாகு மன்னன் அம்பக்க தேவாலயம் என்னும் முருகன் கோயிலை அமைத்தமை

மேற்குறித்த வரலாற்று நிகழ்வுகளை அவை இடம்பெற்ற கால ஒழுங்கில் தொடர்புபடுத்தும் போது கிடைக்கும் விடைத் தொகுதி

- (1) BDCA (2) BCAD  
(3) CBDA (4) CDAB

(23) அரசனுக்குச் செந்தமான நிலங்களில் பயிர் செய்வதற்காகச் செலுத்தப்பட்ட வரி

- (1) மதரமஞ்சக்க (2) தக்கபதி  
(3) போஜக்கபதி (4) கெடுகனக

- மேல்வரும் அட்டவணையில் A தொடக்கம் J வரையில் தரப்பட்டுள்ள தகவல்களை அடிப்படையாகக் கொண்டு 24 ஆம் 25 ஆம் வினாக்களுக்கு விடையளிக்குக.

நாடு	பயணி	கண்டறிந்த இடம்
A - ஸ்பானியா	D - காபொட் சகோதரர்கள்	G - மேற்கிந்திய தீவுகள்
B - போர்த்துக்கல்	E - கிறிஸ்ரோபர் கொலம்பஸ்	H - இந்தியா
C - பிரான்ஸ்	F - வாஸ்கொடகாம	I - கனடா

(24) போர்த்துக்கல் நாட்டைச் சேர்ந்த நாடுகாண் பயணியின் பெயரையும் அவர் கண்டறிந்த நாட்டினையும் குறிக்கும் எழுத்துக்களைத் தெரிவு செய்க.

- (1) F, H (2) E, G (3) D, I (4) F, G

(25) கிறிஸ்ரோபர் கொலம்பஸின் தாய் நாட்டினையும் அவர் கண்டறிந்த நாட்டினையும் தரும் விடைத்தொகுதியைத் தெரிவு செய்க.

- (1) A, H (2) A, G (3) C, I (4) B, G

(26) மிருகங்களைக் கொல்லக் கூடாதென முதன்முதல் சட்டம் இயற்றிய மன்னன்

- (1) நிஸங்கமல்லன் (2) 4ம் மகிந்தன் (3) ஆமண்டகாமினி (4) 1ம் கஜபாகு

• கீழே A தொடக்கம் E வரையில் தரப்பட்டுள்ள தகவல்களை அடிப்படையாகக் கொண்டு 27 ஆம் 28 ஆம் வினாக்களுக்கு விடையளிக்க.

- (A) - நிக்கலஸ் கொப்பனிகள்  
(B) - கலிலியோகலிலி  
(C) - போலந்து  
(D) - இத்தாலி  
(E) - கூட்டன் பேர்க்

(27) வானியல் விஞ்ஞானத்தின் தந்தை என அழைக்கப்பட்டவரின் பெயரையும் அவரின் தாய் நாட்டையும் தரும் விடையாது?

- (1) A, C (2) B, D (3) E, C (4) B, C

(28) செயற்பாட்டு விஞ்ஞானத்தின் தந்தை என அழைக்கப்பட்டவரின் பெயரையும் அவரின் தாய் நாட்டையும் தரும் விடையைத் தெரிவு செய்க.

- (1) A, C (2) B, D (3) B, C (4) A, D

(29) மலைநாட்டுப் பிரதேச ஆட்சியாளன் ஜோதிய என்பவனால் ஏற்படுத்தப்பட்ட கிளர்ச்சியை அடக்குவதற்கு 6ம் பராக்கிரமபாகு மன்னனால் அனுப்பப்பட்டவர்

- (1) சப்புமல் குமாரன் (2) மகா ஆஸ்தான குமாரன்  
(3) அம்பலுகல குமாரன் (4) வீர அழகேஸ்வரன்

(30) போர்த்துக்கேயரால் இலங்கைக்கு வழங்கப்பட்ட பெயர்

- (1) தப்ரபேன் (2) சிவப்புத்தீவு (3) செரண்டிப் (4) செய்லோன்

• A தொடக்கம் E வரை தரப்பட்டுள்ள தகவல்களை அடிப்படையாகக் கொண்டு 31, 32 ஆம் வினாக்களுக்கு விடையளிக்க.

வரலாற்றுக்கு முற்பட்ட கால மனிதன் வாழ்ந்த வெட்டவெளிகள், கற்குகைகள் கீழே தரப்பட்டுள்ளன.

- (A) - பத்திராஜவெல  
(B) - பட்டதொம்பலவெல  
(C) - பண்டாரவளை  
(D) - மினிகாகல்கந்த  
(E) - பெல்லன்பதி பெலஸ்ஸ

(31) மேற்குறித்த வாழிடங்களுள் கரையோரவெட்டவெளி வாழிடங்களைக் குறிக்கும் விடைத் தொகுதியைத் தெரிவு செய்க.

- (1) A, D (2) B, E (3) A, E (4) C, E

(32) தாழ்நில உலர்வலய வெட்டவெளிப்பாசறை, மலையகப் பிரதேச வெட்டவெளி வேட்டை நிலம் போன்றவற்றினைக் குறிக்கும் விடைகளை முறையே தெரிவு செய்க.

- (1) A, B (2) C, D (3) E, C (4) B, A

(33) தம்பியா அட்டுவா கெட்டபத என்ற நூலில் கல்வியறிவில் சிறந்து விளங்கிய பெண்களுக்கு வழங்கப்பட்ட பெயர் தொடர்பாகக் குறிப்பிடப்பட்டுள்ளது. அப்பெயரைத் தெரிவு செய்க.

- (1) பதுபாச்சிகா (2) மதுபாச்சிகா  
(3) தல்தாலஷ்மி (4) மதுர பாச்சிகா

(34) தோணிகல கல்வெட்டுடன் தொடர்புடைய மன்னன்

- (1) குட்டகண்ண அபயன் (2) 2ம் காசியப்பன்  
(3) கீர்த்தி ஸ்ரீ மேக வண்ணன் (4) பாதிபாயன்

(35) உயர் நிலங்களிலுள்ள மரங்களை வெட்டக்கூடாதெனச் சட்டம் இயற்றிய மன்னன்

- (1) 2ம் உதயன் (2) நிசங்கமல்லன்  
(3) ஆமண்டகாமினி (4) 4ம் மகிந்தன்

(36) யாழ்ப்பாண இராச்சியத்தின் முதல் மன்னன்

- (1) சங்கிலியன் (2) விஜய கூழங்கை  
(3) எதிர்மன்னசிங்கன் (4) வரோதயன்

(37) கண்டி இராச்சியத்தின் ரட்ட என்னும் பிரதேசங்களுக்குப் பொறுப்பாக இருந்த ரட்டே மஹத்தயா என்ற அதிகாரிகளின் கீழ் பணிபுரிந்த அதிகாரிகள் இருவருக்கு வழங்கப்பட்ட பெயர்

- (1) லியனரால, உண்டியரால (2) கோறளை, உண்டியரால  
(3) முகாந்திரங்கள், விதானைகள் (4) லியனரால, கடுபுள்ளே

(38) 1505 இல் போர்த்துகேயர் இலங்கைக்கு வருகை தந்தபோது இலங்கையிலிருந்த இராச்சியங்கள்

- (1) கோட்டை, கம்பளை, யாழ்ப்பாணம் (2) கோட்டை, கண்டி, கம்பளை  
(3) கோட்டை, கண்டி, யாழ்ப்பாணம் (4) கோட்டை, கம்பளை, சீதவாக்கை

(39) இலங்கையின் முதலாவது கிறிஸ்தவ சிங்கள மன்னன்

- (1) 1ம் விமலதர்ம சூரியன் (2) கரலியத்த பண்டார  
(3) யமசிங்க பண்டார (4) தர்மபாலன்

(40) ஆசிய நாடொன்றில் போர்த்துகேயர் அடைந்த மிகமோசமான தோல்வியெனக் கருதப்படுகின்ற யுத்தம் நடைபெற்ற இடம்

- (1) முல்லேரியா (2) மல்வாளை  
(3) சீதவாக்கை (4) றைகம

(40 x 2 = 80 புள்ளிகள்)



மாகாணக் கல்வித் திணைக்களம் - வடக்கு மாகாணம்

மூன்றாம் தவணைப் பரீட்சை - 2017

வரலாறு - II



சுட்டெண் :- .....

தரம் :- 10

நேரம் :- 3.00 மணித்தியாலம்

- ❖ கவனிக்க.
- ❖ பகுதி I ன் 1ம் வினா கட்டாயமானது.
- ❖ பகுதி II இல் நான்கு வினாக்களுக்கும் பகுதி III இல் ஒரு வினாவிற்கும் விடை தருக.
- ❖ எல்லாமாக ஆறு வினாக்களுக்கு விடை தருக.

**பகுதி - I**

(01) (அ) கீழே (i) இல் குறிப்பிடப்பட்டுள்ள எல்லா வரலாற்று இடங்களையும் தரப்பட்டுள்ள இலங்கைப் படத்திலும் (ii) இல் குறிப்பிடப்பட்டுள்ள எல்லா வரலாற்று இடங்களையும் தரப்பட்டுள்ள உலகப் படத்திலும் குறித்துப் பெயரிடுக.

(i) மல்வத்து ஓயா, கிரிந்தி ஓயா, வல்லிபுரம், கற்பிட்டி, மினிகாகல்கந்த, கம்பளை, காலி, உடரஞ்சாமடம், பராக்கிரம சமுத்திரம், பூநகரி, குருளுவாவி, ஹெமன்கையில்

(12 புள்ளிகள்)

(ii) சுமாத்திரா, பாக்குநீரிணை, மும்பை, மத்திய தரைக்கடல், ரோம், சுயெஸ் கால்வாய்

(6 புள்ளிகள்)

(ஆ) (i) மேல்வரும் A, B, C, D ஆகிய வரலாற்றுத் தகவல்களுடன் தொடர்புடைய நபர்களை ஒழுங்கு முறையில் உங்கள் விடைத்தாளில் எழுதுக.

A - இரண்டாம் இராஜசிங்க மன்னனால் சிறைவைக்கப்பட்ட பிரித்தானியர்


B - சகோதரி மித்தாவை பாண்டிய இளவரசனுக்கு மணம் முடித்துக் கொடுத்த பொலன்னறுவை ஆட்சியாளன்

C - கம்பளை இராசதானியில் எம்பக்க தேவாலயத்தைக் கட்டிய மன்னன்

D - உலகம் கோள வடிவமானது என்பதனை நிரூபித்த நாடுகாண் பயணி

(4 புள்ளிகள்)

(ii) இங்கு A, B ஆகியவற்றில் காட்டப்பட்டுள்ள படங்களை அவதானித்து கேட்கப்பட்டுள்ள வினாக்களுக்கான விடைகளை வினா இலக்கங்களின் ஒழுங்கில் உங்கள் விடைத்தாளில் எழுதுக.



(A)

- a) A என்ற எழுத்தினால் குறித்துக் காட்டப்படும் படத்தின் பெயரைத் தருக.
- b) இது கண்டுபிடிக்கப்பட்ட தூபி?
- c) இவ்வுருவத்தினைச் செய்வதற்குப் பயன்படுத்தப்பட்ட உலோகம்?
- d) மேற்படி படத்துடன் தொடர்புடைய மன்னனின் பெயர்?

(4 புள்ளிகள்)



(B)

- a) B என்ற எழுத்தினால் குறித்துக் காட்டப்படும் படத்தின் பெயர் என்ன?
- b) இது காணப்படும் இடம்?
- c) இதனை உருவாக்கியதாகக் கருதப்படும் மன்னன்?
- d) இது குறிக்கும் குறியீடுகளுள் ஒன்றினைத் தருக.

(4 புள்ளிகள்)

### பகுதி - II

- (02) (i) முன்வரலாற்றுக் காலத்தில் ஏற்பட்ட மாற்றங்கள் மூன்று தருக. (3 புள்ளிகள்)
- (ii) கற்காலம் அல்லது வரலாற்றுக்கு முற்பட்ட காலத்திற்குரிய ஆதாரங்களான சரளைக் கல் படிவுகள் கண்டெடுக்கப்பட்ட இடங்கள் நான்கு தருக. (4 புள்ளிகள்)
- (iii) வரலாற்றுக்கு முற்பட்ட காலத்தில் பின்பற்றப்பட்ட தொழில்நுட்ப முறைகளை இரு காரணிகளின் அடிப்படையில் விளக்குக. (5 புள்ளிகள்)
- (iv) வரலாற்றுக் காலக் குடியிருப்புக்களின் கட்டமைப்புத் தொடர்பாக மூன்று காரணிகளின் அடிப்படையில் விளக்குக. (6 புள்ளிகள்)
- (03) (i) இலங்கையின் அரசியல் அதிகார படிமுறை வளர்ச்சியில் குறிப்பிடப்பட்ட பதவிகள் கீழே A, B, C என்ற ஒழுங்கு முறையில் தரப்பட்டுள்ளது. அவர்களின் பிரதான நிர்வாகப் பணிகளைக் குறிப்பிடுக.
- (A) - கஹபதி
  - (B) - கிராமிக
  - (C) - பருமக

(3 புள்ளிகள்)

(ii) கீழே A தொடக்கம் D வரையில் தரப்பட்டுள்ள ஒவ்வொரு கூற்றுடனும் தொடர்புடைய விடையை ஒழுங்கு முறையாக எழுதுக.

A - ஆட்சியின் மத்திய நிலையமாக அநுராதபுரத்தித்தினைத் தெரிவு செய்து அதனை நகரமாகக் கட்டியெழுப்பியமை

B - சகல பிரதேசத் தலைவர்களிடையேயும் நல்லுறவை வளர்க்கும் தேவையை உணர்ந்திருந்தமை

C - நாட்டை ஐக்கியப்படுத்துவதற்கு பருமகமாரின் ஒத்துழைப்பைப் பெற்றுக் கொண்டமை

D - நாட்டின் உள்நாட்டு நிர்வாகத்தினை முறையாக மேற்கொண்டமை

(4 புள்ளிகள்)

(iii) நாட்டினை ஆட்சி செய்த மன்னர்களின் கடமைகள் இரண்டு குறிப்பிட்டு விளக்குக.

(5 புள்ளிகள்)

(iv) இலங்கையின் அரசியல் அதிகாரத்தை முறையான விதத்தில் உருவாக்குவதில் பங்களிப்புச் செய்த துட்டகைமுனு மன்னனின் பணிகளை மூன்று காரணிகளின் அடிப்படையில் விளக்குக.

(6 புள்ளிகள்)

(04) (i) கீழே A, B, C எனத் தரப்பட்டிருக்கும் சொற்களின் பொருளை அதே ஒழுங்கில் தருக.

A - வெஜ்ஜசாலா

B - வெஜ்

C - பஸவந்திநாமசால

டிவிசை (3 புள்ளிகள்)

(ii) வைத்தியத் துறைக்குப் பங்களிப்புச் செய்த நான்கு மன்னர்களின் பெயர்களைத் தருக.

(4 புள்ளிகள்)

(iii) இலங்கையை ஆட்சி செய்த மன்னர்கள் சூழல் பாதுகாக்கப்பட வேண்டும் என்ற நோக்கத்தினைக் கொண்டிருந்தனர். இரு காரணிகளின் அடிப்படையில் விளக்குக.

(5 புள்ளிகள்)

(iv) புராதன காலத்தில் இலங்கையில் சுகாதார சேவையும் வைத்தியத்துறையும் உன்னதமான நிலையில் இருந்தது என்பதற்கான சான்றாதாரமாக ஆலாஹான பிரிவேனா அகழ்வு காணப்படுகின்றது. மூன்று காரணிகளைக் குறிப்பிட்டு விளக்குக.

(6 புள்ளிகள்)

(05) (i) கீழே A, B, C என்ற ஒழுங்கு முறையில் தரப்பட்டுள்ள குளங்களை அமைத்த மன்னர்களை அதே ஒழுங்குமுறையில் உமது விடைத்தாளில் எழுதுக.

(A) - குருளுவாவி

(B) - கலாவாவி

(C) - திஸ்ஸவாவி

(3 புள்ளிகள்)

(ii) தானியங்களை அளப்பதற்கும், நிலஅளவீட்டிற்கும் பயன்படுத்தப்பட்ட நான்கு முறைகளைத் தருக.

(4 புள்ளிகள்)



(iii) வசப மன்னன் நீர்ப்பாசனத்துறையின் வளர்ச்சிக்காக மேற்கொண்ட பணிகளை இரு காரணிகளின் அடிப்படையில் விளக்குக.

(5 புள்ளிகள்)

(iv) (அ) - குளம் ஒன்றின் முக்கியமான தொழில்நுட்பக்கூறுகள் மூன்றினைப் பெயரிடுக.

(ஆ) - அவற்றின் நிர்மாணிப்பு, பயன்கள் தொடர்பாக விளக்குக.

(6 புள்ளிகள்)

(06) (i) A, B, C எனத் தரப்பட்ட அரசர்கள் ஆட்சி செய்த இராச்சியங்களின் பெயர்களைத் தருக.

(A) - I ஆம் புவனேகபாகு

(B) - II ஆம் புவனேகபாகு

(C) - IV ஆம் புவனேகபாகு

(3 புள்ளிகள்)

(ii) இராஜரட்டை நாகரிகம் வீழ்ச்சியடைந்தமைக்கான காரணங்கள் நான்கு தருக.

(4 புள்ளிகள்)

(iii) 3 ஆம் விஜயபாகுவின் பௌத்த சமயப் பணிகளை இரு காரணிகளின் அடிப்படையில் விளக்குக.

(5 புள்ளிகள்)

(iv) இரண்டாம் நகராக்க கால பொருளாதார நடவடிக்கைகளை மூன்று காரணிகளின் அடிப்படையில் விளக்குக.

(6 புள்ளிகள்)

(07) (i) கண்டி இராச்சியத்திற்குள் பிரவேசிப்பதற்குரிய கடினமான பாதைகள் மூன்று தருக.

(3 புள்ளிகள்)

(ii) கண்டி இராச்சியத்தின் பிராந்திய நிர்வாக அலகுகள் கீழே A, B, C, D எனத் தரப்பட்டுள்ளது. அவற்றின் நிர்வாகிகளை அதே ஒழுங்கில் தருக.

(A) - ரட்ட

(B) - திலாவை

(C) - கோரளை

(D) - கிராமம்

(4 புள்ளிகள்)

(iii) கண்டி இராச்சியத்தின் நீதி தொடர்பான நடவடிக்கைகளை இரு காரணிகளின் அடிப்படையில் விளக்குக.

(5 புள்ளிகள்)

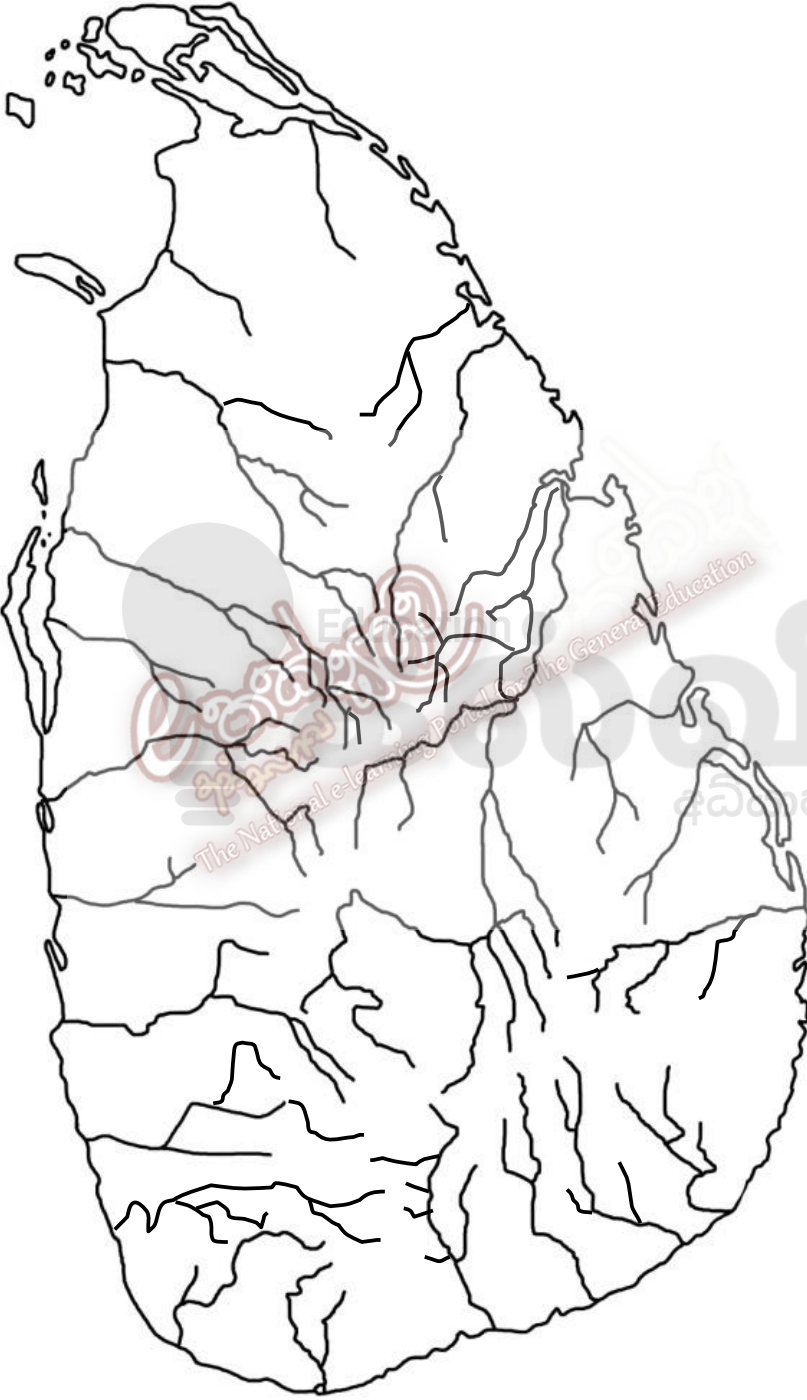
(iv) 1ம் விமலதர்ம சூரிய மன்னன் கண்டி இராச்சியத்தின் சட்டபூர்வமான உரிமையை நிலைநாட்டிக் கொள்வதற்கு மேற்கொண்ட நடவடிக்கைகளை மூன்று காரணிகளின் அடிப்படையில் ஆராய்க.

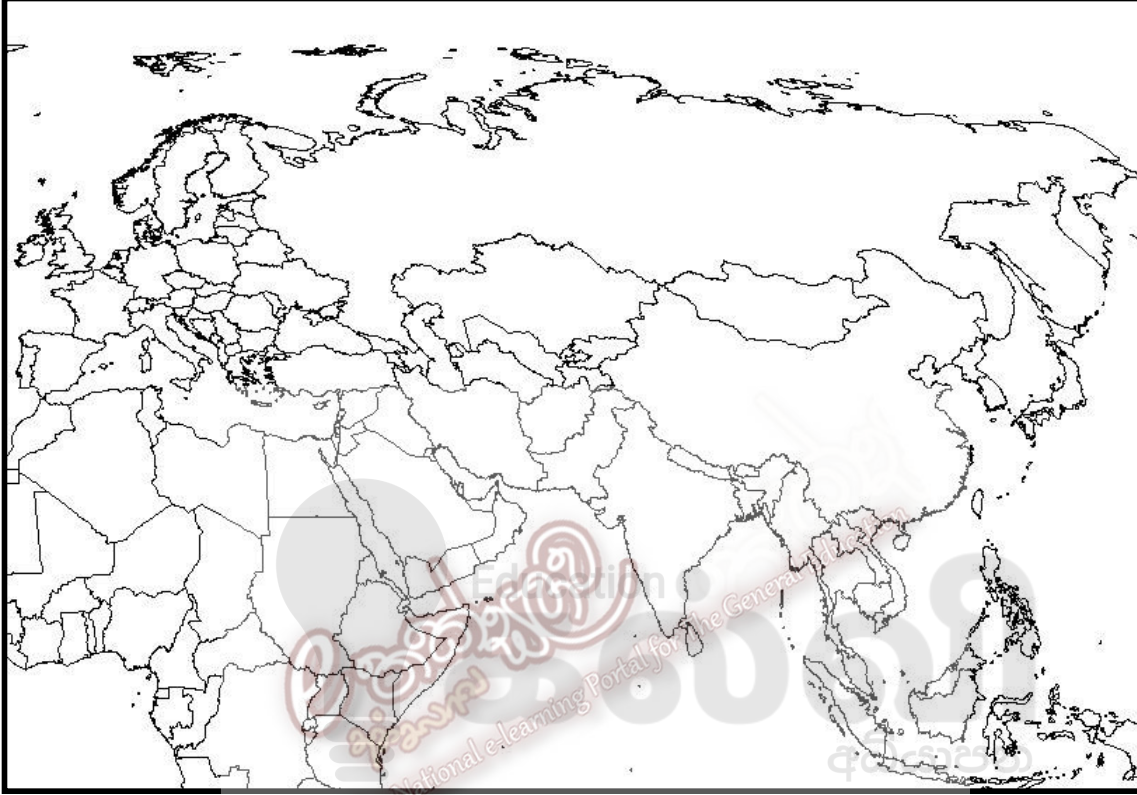
(6 புள்ளிகள்)

### பகுதி - III

- (08) (i) மறுமலர்ச்சிக் காலத்தில் புகழ்பெற்றிருந்த இத்தாலிய நகரங்கள் மூன்று தருக.  
(3 புள்ளிகள்)
- (ii) மறுமலர்ச்சிக் காலத்தில் திருச்சபையை விமர்சித்த அறிஞர்கள் நால்வரின் பெயரைக் கீழே அடைப்புக் குறிக்குள் இருந்து தெரிவு செய்து எழுதுக.  
[ கொலஸ்மஸ், ஜோன்வைக்கிளிப், ஜோன்ஹஸ், அரிஸ்ரோட்டில், பிளேற்றோ, இராஸ்மஸ், மாட்டின்லூதர் ]  
(4 புள்ளிகள்)
- (iii) மறுமலர்ச்சிக் காலத்தில் ஏற்பட்ட மானிட வாதம் தொடர்பான கருத்துக்களை இரு காரணிகளின் அடிப்படையில் விளக்குக.  
(5 புள்ளிகள்)
- (iv) மறுமலர்ச்சிக் காலத்தில் சித்திரக் கலையில் ஏற்பட்ட மாற்றங்களை மூன்று காரணிகளின் அடிப்படையில் விளக்குக.  
(6 புள்ளிகள்)
- (09) (i) கல்வி மறுமலர்ச்சி என்றால் என்ன?  
(3 புள்ளிகள்)
- (ii) லியானோ டாவின்சி சிறப்புப் பெற்று விளங்கிய நான்கு துறைகளைத் தருக.  
(4 புள்ளிகள்)
- (iii) மறுமலர்ச்சிக் காலத்தில் ஏற்பட்ட கட்டடக்கலை வளர்ச்சி பற்றி இரு காரணிகளின் அடிப்படையில் விளக்குக.  
(5 புள்ளிகள்)
- (iv) மறுமலர்ச்சிக் காலத்தில் ஏற்பட்ட விஞ்ஞான வளர்ச்சி தொடர்பாக மூன்று காரணிகளின் அடிப்படையில் விளக்குக.  
(6 புள்ளிகள்)







# 2025

## 1ம் தவணை வகுப்புகள்

தரம் 6 முதல் 11 வரையான  
மாணவர்களிற்கான தமிழ் மற்றும் ஆங்கில  
மொழிமூல வகுப்புக்கள் ஆரம்பமாகவுள்ளன.

ஆரம்பம் 01.01.2025



இலங்கையின் எப்பாகத்திலிருந்தும்  
Zoom app மூலம் எமது வகுப்புகளில்  
இணைந்து கொள்ள முடியும்.

அனைத்துப் பாடங்களும் ஒரே கல்வி நிறுவனத்தின் கீழ்...



Education  
**கல்வி** Kalvi.lk  
අධ්‍යාපන



Whatsapp  
**075 287 1457**