

மட்/ககு/பனிச்சங்கேணி திருமகள்
வித்தியாலயம்

தரம் -1

கணிப்பீடு-2020

கணிதம்


தவணை-1

1) தரப்பட்ட வடிவத்திற்குள் நிறம் தீட்டுக.




2) மிகப்பெரிய உருவின் கீழ் கோடிடுக


1)








2)



2)உருவங்களை வேறுபடுத்தி இனங்காண்போம்



4)ஒன்றுடன் ஒன்று இணைந்து நிறம் தீட்டுங்கள்.



5)தரப்பட்ட வினாக்களுக்கு விடை எழுதுக.



- 1)முன்னால் செல்லும் பிராணிக்கு நிறம் தீட்டுகள்.
- 2)பின்னால் செல்லும் பிராணியைச் சுற்றி வட்டமிடும் கள்ள
- 3)நடுவில் செல்லும் பிராணிக்கு புள்ளடி இடுங்கள்



By:-திருமதி.கு.பேரின்பம்