



யாழ்ப்பாணம் வலயக் கல்வி அலுவலகம்

இரண்டாம் தவணைப் பரீட்சை - 2019

தரம் : 06

செயன்முறைத் தொழினுட்பத்தின்கள்

சுட்டெண் :

நேரம் :

2.00 மணித்தியாலம்

பகுதி - I

மிகப் பொருத்தமான விடையைத் தெரிவு செய்து அதன் கீழ்க் கோடிடுக.

01. அலங்கார இலைத் தாவரமாகக் காணப்படுவது
- 1) மல்லிகை
 - 2) சீனியாஸ்
 - 3) சேம்பு
 - 4) போகன்விலா
02. பின்வருவனவற்றுள் குட்டையான தாவரத்திற்கு உதாரணமாக அமைவது
- 1) இக்ஸோரா
 - 2) சைபிரஸ்
 - 3) ஸ்பைடர் பிளான்ட்
 - 4) அலமெந்தா
03. ஒழுங்கமைக்கப்பட்ட சமையல் அறை ஒன்றின் இயல்பு அல்லாதது
- 1) வெளிச்சம், காற்றோட்டம் நன்கு இருக்கும்.
 - 2) கழிவுநீர் செல்லும் வசதி அற்றதாக இருத்தல்.
 - 3) தீங்கு செய்யும் உயிரினங்களின் நடமாட்டம் காணப்படாது.
 - 4) வேலை அலகுகள் வேறாக்கப்பட்டிருக்கும்.
04. உருவில் காணப்படும் சமையலறைக் குறியீடு எதனைக் குறிக்கின்றது?
- 1) சமையலறைக் கதவு
 - 2) சமையலறைச் சுவர்
 - 3) சமையலறை யன்னல்
 - 4) உணவு சமைக்கும் அலகு
05. சுட்டுத் துண்டொன்றைத் தயார் செய்யும் முறைகளாவன
- 1) நிறப் பேனைகளால் கையால் வரைதல்.
 - 2) பொருத்தமான படங்களை ஒட்டுதல்.
 - 3) அச்சிடப்பட்ட படங்களை ஒட்டுதல்.
 - 4) மேற்கூறிய யாவும் சரி.

06. சிவமண தேர் பெயர் ஒன்றைப் பெயர்...

09. திட்டமிட்டபடி அமைக்கப்பட்ட சமையலறையில் வேலை செய்யும் போது ஏற்படும் நன்மையல்லாதது

- 1) வேலை செய்வது கடினமானது.
- 2) நேரம் மீதப்படுத்தப்படும்.
- 3) அதிக சிரமம் ஏற்படாது.
- 4) குடும்பத்தவர்களின் ஆரோக்கியம் பேணப்படும்.

10. மண்ணைத் தூர்வையாக்கும் பிராணியல்லாதது

- 1) மண்புழு
- 2) செண்பகம்
- 3) பிள்ளைப்பூச்சி
- 4) உழுவான்

11. பின்வருவனவற்றுள் உயிருள்ள முடுபடையாக அமைவது

- 1) வல்லாரை
- 2) மரத்தூசி
- 3) வைக்கோல்
- 4) தென்னோலை

12. அவித்த அரிசியில் காணப்படும் போசணைக்கூறு

- 1) B_2
- 2) B_1
- 3) A
- 4) C

13. அதிக இட வசதியுள்ள சமையலறை

- 1) L வடிவ சமையலறை
- 2) I வடிவ சமையலறை
- 3) U வடிவ சமையலறை
- 4) W வடிவ சமையலறை

14. நேரடியாக பாத்திகளில் வித்துக்களாக நடக் கூடிய பயிர்கள்

- 1) கத்தரி, மிளகாய்
- 2) பயற்றை, முள்ளங்கி
- 3) கங்குன், கோவா
- 4) மஞ்சள், தக்காளி

15. சாடிகளின் அடியில் துளையிடப்படுவதன் நோக்கம்

- 1) மேலதிக நீர் வெளியேறுவதற்கு
- 2) வேர் வெளித் தெரிவதற்கு
- 3) வளி உட்புகுவதற்கு
- 4) மண் வெளியேறுவதற்கு

16. புதிய நாற்றுச் சாடிக்கு தாவரமொன்றை மாற்றும் படிமுறை,

- 1) ஊடகத்தை தயாரித்தல்.
- 2) தாவரத்தை பிடுங்குதல்
- 3) தாவர வேர்களை துப்பரவாக்கல்.
- 4) மேற்கூறிய யாவும் சரி.

17. கல்சியம் போன்ற போசணைகளை பெருமளவில் கொண்டுள்ள மீன்களல்லாதவை

- 1) சாளை, கீரி
- 2) நெய்த்தோலி, கீரி
- 3) நெய்த்தோலி, சாளை
- 4) சுறா, திருக்கை

18. பின்வருவனவற்றில் பால் உற்பத்திப் பொருளாக விளங்குவது

- 1) ஜாம்
- 2) தயிர்
- 3) பழப்பாகு
- 4) சட்னி

19. முறைசாரா வடிவத்திற்கு உதாரணமாக அமைவது

- 1) 
- 2) 
- 3) 
- 4) 




20. பின்வருவனவற்றுள் அடிப்படைத் தையலாக காணப்படுவது

- 1) கம்பளித் தையல்
- 2) சிறு நூலோடி
- 3) சோம் தையல்
- 4) மீன் முள்ளுத் தையல்

(20 × 1 = 20 புள்ளிகள்)

பகுதி - II

முதலாம் வினா கட்டாயமானதாகும். ஏனைய வினாக்களில் இரண்டினைத் தெரிவு செய்து மொத்தம் மூன்று வினாக்களுக்கு விடை தருக.

01. 1) உமது பாடசாலையில் செயன்முறைத் தொழினுட்பத்திறன்கள் பாடத்தில் உம்மால் செய்யப்பட்ட செயற்பாடு ஒன்றினைக் குறிப்பிடுக.
- 2) இச் செயற்பாட்டிற்குப் பயன்படுத்திய பொருட்கள், கருவிகளைப் பட்டியல்படுத்துக.
- 3) இச் செயற்பாட்டின் மூலம் நீர் பெற்றுக் கொண்ட அனுபவம் ஒன்றினைக் குறிப்பிடுக.
- 4) இச்செயற்பாட்டிற்கு உமக்கு உதவியோரைக் குறிப்பிடுக.
- 5) செயற்பாட்டினை மேற்கொள்ளும் போது நீர் இடர்ப்பட்ட விடயம் ஒன்றினைக் குறிப்பிடுக.
- (5 × 2 = 10 புள்ளிகள்)
02. 1) அலங்காரத் தாவரங்கள் மூலம் சூழலுக்குக் கிடைக்கும் பயன்கள் இரண்டு தருக.
- 2) தாவரம் ஒன்றின் சிறப்பான வளர்ச்சிக்குத் தேவையான காரணிகள் எவையெனக் குறிப்பிடுக.
- 3) கன்றுகளை நாற்றுச் சாடிகளில் நடுவதற்குப் பயன்படுத்தப்படும் நடுகை ஊடகங்கள் எவையெனக் குறிப்பிடுக.
- 4) வீட்டுத் தோட்டத்தில் தாவரங்களை வளர்த்தல் மூலம் கிடைக்கும் பயன்கள் மூன்றினைக் குறிப்பிடுக.
- 5) பூச்சிகளை விரட்டும் தாவரங்கள் இரண்டின் பெயர்களினை எழுதுக.
- (5 × 2 = 10 புள்ளிகள்)
03. 1) சமூகம் ஒன்றின் ஒழுங்கமைக்கப்பட்ட மிகச் சிறிய அலகு எதுவென்பதனைக் குறிப்பிடுக.
- 2) சேமிப்புப் பழக்கத்தினால் கிடைக்கும் அனுகூலங்கள் இரண்டு குறிப்பிடுக.
- 3) வீடுகளில் வளங்களை வீணடிக்காது சேமிக்கும் பழக்கவழக்கங்கள் மூன்றினைத் தருக.
- 4) பணத்தினைச் சேமிப்புச் செய்வதற்குப் பொருத்தமான நிதி நிறுவனங்கள் இரண்டு தருக.
- 5) பொருளொன்றைக் கொள்வனவு செய்யும் போது கவனிக்க வேண்டிய விடயங்கள் இரண்டினைக் குறிப்பிடுக.
- (5 × 2 = 10 புள்ளிகள்)
04. 1) முறையாக ஒழுங்கமைக்கப்பட்ட சமையலறையின் பண்புகள் மூன்றினைத் தருக.
- 2) சமையலறையொன்றில் காணப்படும் பிரதான வேலை அலகுகளைக் குறிப்பிடுக.
- 3) பின்வரும் சமையலறைக் குறியீடுகள் குறிப்பவற்றை எழுதிக் காட்டுக.
- 1)  2)  3) 
- 4) சுட்டுத் துண்டொன்றில் அடங்கும் விடயங்கள் நான்கு குறிப்பிடுக.
- 5) பரிசுப் பொதியொன்றினை அமைப்பதற்குத் தேவையான பொருட்கள் நான்கினைக் குறிப்பிடுக.

(5 × 2 = 10 புள்ளிகள்)



தரம் 01 - 10

3ம் தவணை

REVISION | PAPER DISCUSSION

ஆரம்பம் - 01.12.2024

மீட்டல் மற்றும் வினாத்தாள்
கலந்துரையாடல் வகுப்புகள்

இலங்கையின் எப்பாகத்திலிருந்தும்
இணைந்து கொள்ள முடியும்.

JOIN NOW

புதிய அனுமதிகள்
வழங்கப்படுகின்றன..

கட்டண விபரங்கள்

தமிழ் Medium

தரம் 01-02

2000/=

தரம் 03-05

2500/=

தரம் 06-10

3000/=

English Medium

தரம் 06-07

3500/=



KALVI.LK



WHATSAPP

075 287 1457