



மாகாணக் கல்வித் திணைக்களம்
வடக்கு மாகாணம்
Provincial Department of Education, Northern Province



மாதாந்த பயிற்சி வினாத்தாள்

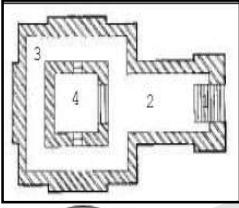
தரம் - 6

சித்திரம்

ஆகஸ்ட் - 2022

❖ எல்லாவினாக்களுக்கும் விடைதருக.


கீழே காட்டப்பட்டுள்ள படங்களினை இனங்காண்க.




A




B



C



D



E

1. A - 2. B -
3. C - 4. D -
5. E -

(10 புள்ளிகள்)

❖ 6 - 10 வரையானவினாக்களுக்குபொருத்தமானவிடையின் கீழ் கோடிடுக.

6. மூல வர்ணங்களில் ஒன்றாக அமையும் வர்ணம் எது?

- 1.சிவப்பு 2.கறுப்பு 3.பச்சை 4.ஊதா

7. வர்ணத்தின் இருண்ட இளநிலைச்சாயல் எவ்வாறு அழைக்கப்படும்?

- 1.வர்ணபலம் 2.ஒளிநிறம் 3.தூரநோக்கு 4.தூரதரிசணம்

8. கிறிஸ்தவதேவாலயத்தின் உள்ளேநிறக்கண்ணாடித்துண்டுகளாலான ஆக்கம் எப்பெயரால் அழைக்கப்படும்?

- 1.மொசைக்கித்திரம் 2.கலிக்கிறபிஅலங்காரம் 3.கோதிக் 4.நோமன்

9.இந்து ஆலயங்களில்மரச்சிற்பவேலைப்பாடுகள் நிறைந்தஅசையும்பகுதியாகஅமைவதுஎது?

- 1.கோபுரம் 2.தேர் 3.கர்ப்பக்கிரகம் 4.வசந்தமண்டபம்

10.துணை வர்ணங்களில் ஒன்றாககாணப்படும் வர்ணம் எது?

- 1.ஊதா 2.சிவப்பு 3.மஞ்சள் 4.நீலம்

(10 புள்ளிகள்)

❖ சரியாயின் (சரி) எனவும் பிழையாயின் (பிழை) எனவும் அடையாளம் இடுக.

11 .கலிக்கிறபிக் இஸ்லாமிய அரபி அலங்கார எழுத்தாகும். ()

12. நீலம் சிவப்புவர்ணங்களைகலக்கும்போதுபெறப்படுவது கபிலம் ஆகும். ()

13. இலங்கையின் முதலாவது தாதுகோபம் றுவான்வெலி ஆகும் ()

14. இந்து ஆலய கர்ப்பக்கிரகம் ஆறு அம்சங்களைக் கொண்டது. ()

15. இந்து ஆலயங்களில் மூலமூர்த்திஅமைந்துள்ள பகுதி கருவறை ஆகும். ()

(05 புள்ளிகள்)

❖ 16 - 20 வரையானவினாக்களுக்கு இடைவெளிகளைநிரப்புக.

16.கிறிஸ்தவதேவாலயமானது.....வடிவத்தில் அமைக்கப்படும்.

17.தூபிகளின் உட்பகுதியில் புத்தரின்வைத்துக் கட்டப்படும்.

18.றம்ழான் தினத்தன்று தானம் வழங்குதல்எனப்படும்.

19.இந்துஆலயங்களில் சிவனின் வாகனமான சிலை காணப்படும்.

20.நத்தார் பண்டிகையினைக் கொண்டாடுபவர்கள்இனத்தவராவார்.

(05 புள்ளிகள்)

❖ சுருக்கமானவிடைதருக.

21.தூபியானது அண்டத்தின் தன்மைக்கேற்ப எத்தனை வகைப்படும் அவை எவை?

22.மஸ்ஜித் ஒன்றின் முக்கியமானபகுதிகள்எவை?

23.இலங்கையில் ஆரம்பத்தில் கிறிஸ்தவ தேவாலயங்கள் யாரால் அமைக்கப்பட்டன?


24.நாத்தார் பண்டிகைகொண்டாடப்படுவதன் நோக்கம் யாது?

25.இந்து ஆலய கர்ப்பக்கிரகம் அமைக்கப்படும் ஊடகங்கள் எவை ? (10புள்ளிகள்)

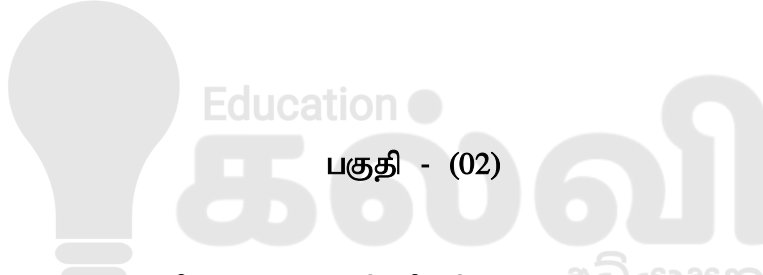
❖ பின்வருவனவற்றை இரேகை மூலம் முப்பரிமாணவடிவில் வரைந்துகாட்டுக.

26. பெட்டி

பந்து



(10 புள்ளிகள்)



பகுதி - (02)

❖ பின்வரும் தலைப்புகளில் ஒன்றைத்தெரிவுசெய்துவரைந்துவரணம் தீட்டுக.

- 01.எமது பாடசாலையின் விளையாட்டுப் பூங்கா
- 02.சமயம்சார்சடங்கு
- 03.வாசனை மலர்களும் வண்ணத்துப்பூச்சியும்
- 04.பரிசுப்பொதிக்கான உறையினை வரைக.
- 05.பூக்களை பயன்படுத்தி பரவருகச்சித்திரம் வரைக.
- 06.விளையாட்டு விழாவுக்கான அழைப்பிதழ் வரைக.
- 07.நாளைய நவீன உலகம்

(50 புள்ளிகள்)

தரம் 01 - 10

3ம் தவணை

REVISION | PAPER DISCUSSION

புதிய அனுமதிகள்
வழங்கப்படுகின்றன..

கட்டண விபரங்கள்

ஆரம்பம் - 01.12.2024

மீட்டல் மற்றும் வினாத்தாள்
கலந்துரையாடல் வகுப்புகள்

இலங்கையின் எப்பாகத்திலிருந்தும்
இணைந்து கொள்ள முடியும்.

JOIN NOW

தமிழ் Medium

தரம் 01-02 2000/=

தரம் 03-05 2500/=

தரம் 06-10 3000/=

English Medium

தரம் 06-07 3500/=



KALVI.LK



WHATSAPP

075 287 1457