



# மத்தியமாகாணக் கல்வித் திணைக்களம் கண்டி



புலமைப்பரிசில் பரீட்சை- 2020

பயிற்சி வினாப்பத்திரம் இலக்கம் 01

பகுதி 11

நேரம் 1 மணி 15 நிமிடம்

1. பின்வரும் பாடலை வாசித்து அதன் கீழ்வரும் வினாக்களுக்கு விடை தருக.

பாணை போன்ற பூசணி

பருத்த வயிறு என்றது

ஆணை மிளகாய்களும்

அழகு மூக்காய் ஆகின

வெண்டிக்காய்கள் நாங்கள்தான்

விரல்கள் என்று தொங்கின

நொண்டிக் கால்கள் ஆயின

நுனி வளர்ந்த கரும்புகள்

- 1) பாடலில் இடம்பெற்றுள்ள காய்கறி இரண்டின் பெயரை எழுதுக. ....
- 2) பாடலில் இடம்பெற்றுள்ள உவமானத்தினை தருக. ....
- 3) பெயர் அடைமொழி ஒன்றை பாடலில் இருந்து தெரிந்து எழுதுக. ....
- 4) ஆணை மிளகாய்கள் அழகு மூக்காய் ஆகின. எனும் வாக்கியத்தை ஒருமை வடிவில் எழுதுக.  
.....
- 5) பருத்த என்பதன் எதிர்க்கருத்து சொல்லினைத் தருக. ....
- 6) இறந்தகால பன்மை வினைச் சொல் ஒன்றை பாடலில் இருந்து தெரிந்து எழுதுக. ....

2. பின்வரும் வாக்கியங்களுக்கு பொருத்தமான நிறுத்தற்குறிகளை இடுக.

- 1) உன்னை காப்பாற்றியதற்கு நீ எனக்குக் காட்டும் நன்றிக் கடன் இதுதானா என்று மான் கேட்டது
- 2) அப்பா நான் இன்று பன்னிரண்டு மணிக்கு படிக்கப்போகிறேன்

3. பின்வரும் பழமொழியின் கருத்தை எழுதுக.

- 1) காற்றுள்ள போதே தூற்றிக் கொள் : .....
- 2) சிறுதுளி பெருவெள்ளம் : .....

4. பின்வரும் வாக்கியங்களுக்குப் பொருத்தமான இரட்டைக்கிளவியினை இடுக.

- 1) ஆலய மணி .....(கணீர் கணீர், டமார் டமார்) என ஒலித்தது.
- 2) சிறுமிகள் ..... (கல கல, மட மட) என சிரித்தனர்.

5. பின்வரும் சொற்களைச் சேர்த்தெழுதுக.

- 1) பால் + சோறு : .....
- 2) மா + காய் : .....

6. தொடர் மொழிக்கு ஒருமொழியை கண்டுபிடித்து எழுதுங்கள்

- 1) ஒரு தாய் வயிற்றில் பிறந்தோர் : .....
- 2) முனிவர்கள் வசிக்கும் இடம் : .....

7. பின்வரும் சுருக்கக் குறியீடுகளை விரித்து எழுதுக.

1) மு.ப : .....

2) கி.பி : .....

8. பின்வரும் படங்களின் பெயர்களை ஆங்கிலத்தில் எழுதுக.

1)



.....

2)



.....

9. பின்வரும் வாக்கியத்தை ஆங்கிலத்தில் எழுதுக.

அங்கே எத்தனை பூக்கள் உள்ளன. ....

10. 1. பின்வரும் சிங்கள சொற்களின் கருத்தை தமிழில் எழுதுக.

1) புஸ்தகாலய : .....

2) விதுஹல்பதி : .....

2. பின்வரும் சிங்கள வாக்கியத்தை தமிழில் எழுதுக.

ஓயா(ட்)ட வ(த்)தூர ஓனத? : .....

3. பின்வரும் வாக்கியத்தை சிங்களத்தில் எழுதுக.

எனக்கு அப்பம் வேண்டும். ....

11. பின்வரும் எண்ணுக்குரிய எண் பெயரை எழுதுக.

2056 : .....

12. தரப்பட்டுள்ள எண்களை ஏறுவரிசைப்படுத்துக.

4025, 9218, 1216, 6325 : .....

13. ஒரு தோட்டத்திற்கு வேலியிடுவதற்கு 60m 75cm முட்கம்பி கொண்டு வரப்பட்டு 49m 90cm நீளமான முட்கம்பி பயன்படுத்தப்பட்டதெனில் மீதமுள்ள கம்பியின் நீளம் யாது? .....

14. ஓர் நீர் தாங்கியின் கொள்ளளவு 9l 200ml ஆகும். தற்போது 4l 750ml நீர் இருக்குமெனின் தாங்கியை நிரப்புவதற்கு தேவையான நீரின் அளவு யாது? .....

15. கோலத்தை அறிந்து வெற்றிடத்தை நிரப்புக.

1) 54, 57, 60, ....., ....., .....

2) ....., ....., ....., 101, 107, 113

16. ஓர் நிகழ்வில் கலந்து கொண்ட 75 சிறுவர்களில் ஒருவருக்கு 6 வீதம் இனிப்புகள் தரப்பட்டதெனில் மொத்தமாக வழங்கப்பட்ட இனிப்புகள் எத்தனை? .....

17. தரப்பட்ட பகுதியில் நிறந்தீட்டப்பட்ட பின்னத்தை தெரிந்து அதன் கீழ் கோடிடுக.



1)  $\frac{2}{8}$

2)  $\frac{1}{2}$

3)  $\frac{6}{8}$

18. தரப்பட்டுள்ள உருவில்  $\frac{4}{10}$  இற்கு நிறந்தீட்டுக.

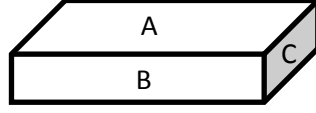


19. 785 மாபிள்கள் ஒரு பையில் 4 வீதம் வருமாறு இடப்பட்டது. எனில்,

1) மாபிள்கள் இடப்பட்ட பைகளின் எண்ணிக்கை யாது? .....

2) மீதமான மாபிள்கள் எத்தனை? .....

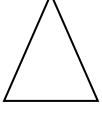
20. பின்வரும் உருவை அவதானித்து ஆங்கில எழுத்துக்குரிய பக்கங்களின் தோற்றப் பெயர்களை எழுதுக.




1) A : ..... B : ..... C : .....

21. ஒரு திரையரங்கில் முதல் காட்சிக்கு வந்திருந்தோர்களின் எண்ணிக்கை 4321 பேர் ஆகும். இரண்டாம் காட்சிக்கு 4038 பேர் வந்திருந்தனர் எனில் இரு காட்சிக்கும் வந்திருந்தவர்களின் எண்ணிக்கை யாது? .....

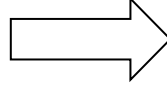
22. செங்கோணம் மட்டும் உள்ள உருவைத் தெரிவு செய்க.



1

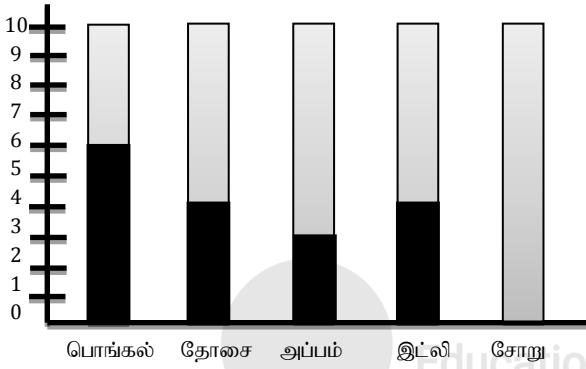


2



3

23. ஒரு வகுப்பிலுள்ள மாணவர்கள் விரும்பிய உணவுகள் பற்றிய தகவல்கள் வரைபில் காட்டப்பட்டுள்ளது.

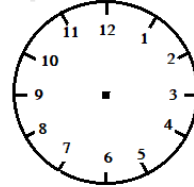


- 1) அதிகமானோர் விரும்பும் உணவு யாது?.....
- 2) சமமானோர் விரும்பும் உணவு யாது? .....
- 3) சோற்றினை 4 மாணவர்கள் விரும்புவார்கள் எனில் அதனை வரைபில் காட்டுக

24. தோட்டமொன்றில் ஒரு மரத்தில் 4kg 710g கொய்யாப்பழங்களும் இன்னொரு மரத்தில் 6kg 685g கொய்யாப்பழங்களும் பறிக்கப்படுகின்றதெனில் பறிக்கப்பட்ட பழங்களின் மொத்த நிறை யாது? .....

25. பின்வரும் கடிகார முகத்தில் தரப்பட்டுள்ள நேரத்தை குறிக்க.

இரவு 8 மணி கடந்து 45 நிமிடங்கள்




26. 5 இற்கு அடுத்தாக வரும் எண்ணை உரோமன் இலக்கத்தில் எழுதுக. ....

27. சிட்டையை நிரப்புக.

பழங்களின் வகைகள்	அளவு	1kgயின் விலை	பெறுமானம்
மாம்பழம்	2kg	75.00	.....
கொய்யா	500g	80.00	.....
ஆப்பிள்	1kg 500g	100.00	.....
மொத்தம்			.....

28.



1) நாய் பிள்ளைக்கு எத்திசையில் உள்ளது?

2) பிள்ளையின் எத்திசையில் மரம் உள்ளது?

29.



1) மூன்று நாணயத்தாள்களாக செலுத்துவதெனில்,

2) நான்கு நாணயத்தாள்களாக செலுத்துவதெனில்,

30 தொடக்கம் 59 வரையான ஒவ்வொரு வினாவிிற்கும் பொருத்தமான விடையை தெரிவு செய்து அதன் கீழ் கோடிடுக.

30. சூரிய நமஸ்காரம் செய்யும் போது 4ம் படிமுறையாக அமைய வேண்டிய முறையானது?

1)



2)



3)



31. சித்திரை மாதத்தில் பூக்கும் தாவரங்களில் ஒன்றானது?

1) வாகை

2) இலுப்பை

3) முருங்கை

32. நாம் தனிப்பட்ட முறையில் பயன்படுத்தும் பொருட்களில் ஒன்று?

1) நாற்காலி

2) பற்காரிகை

3) பந்து

33. தோட்டத்தில் உள்ள குப்பைகளை பசளையாக மாற்றித் தரும் பிராணி?

1) நத்தை

2) மண்புழு

3) காகம்

34. மோட்டார் என்பன தேய்ந்திருந்தால் நாம் செய்ய வேண்டியது?

1) குளிர்நீரால் கழுவுதல்

2) கொதிநீரால் கழுவுதல்

3) எண்ணெய் இடல்

35. இலங்கையில் உற்பத்தி செய்யப்படும் பொருட்களுக்கான தரச்சான்றிதழ் அடையாளமானது?

1) ISO

2) SLS

3) HACCB

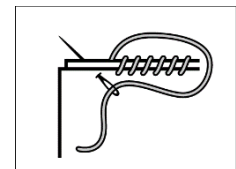
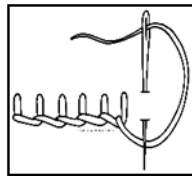
36. அலங்காரத் தையலாகக் கருதப்படுவது,

1)



2)

3)



37. உணவை நீண்டகாலம் பேணுவதற்கு கையாள முடியாத நடவடிக்கைகளில் ஒன்று,

1) அவித்து வைத்தல்

2) புகையூட்டல்

3) உலர்த்துதல்

38. உணவு பழுதடைவதற்கான சூழ்நிலைகளில் ஒன்று

1) பல்லி, எலி, போன்றவற்றால் பழுதடைதல்

2) தூசு படிதல், மழை படுதல்

3) உணவை மூடாது இருத்தல்

39. மண்சரிவுக்கு காரணமாக அமையாத மனித நடவடிக்கைகளில் ஒன்று

- 1) மரம் நடுதல்                      2) மரந்தரித்தல்                      3) மலைப்பகுதிகளில் மண்ணை வெட்டி அப்புறப்படுத்தல்

40. கருங்கல் உடைப்பவர் அவர் தொழிலின் போது அணிய வேண்டிய ஒன்று

- 1)    2)    3)



41. நோய் காரணிகளான ஆட்கள் மூலம் பரவும் நோய்களில் ஒன்று அல்லாதது

- 1) சின்னமுத்து                      2) கொரோனா வைரஸ்                      3) டெங்கு

42. எண்ணெய், மிளகாய் அதிகம் அடங்கியுள்ள உணவை உண்டால் ஏற்படக்கூடிய நோய்களில் ஒன்று

- 1) நீரிழிவு                      2) இரப்பையழற்சி                      3) டெங்கு

43. நீரை சூடாக்கும் போது நடைபெற முடியாத செயற்பாடுகளில் ஒன்று

- 1) நீர் சூடாகும்                      2) நீர் ஆவியாகும்                      3) நீரின் நிறம் மாறும்

44. நீர் சுழலியின் வேகத்தை அதிகரிக்க செய்வதற்கு பொருத்தமில்லாத நடவடிக்கைகளில் ஒன்று

- 1) யோகட் கரண்டிகளின் எண்ணிக்கையை அதிகரித்தல்  
2) நீரோட்ட வேகத்தை அதிகரித்தல்  
3) யோகட் கரண்டிகளின் எண்ணிக்கையைக் குறைத்தல்

45. பொது போக்குவரத்து சேவையை பயன்படுத்தும் போது கிடைக்கும் அனுகூலங்களில் ஒன்று,

- 1) பாதுகாப்பு                      2) குறைந்த செலவு                      3) விரும்பிய நேரத்தில் செல்லல்

46. பேருந்தில் விசேட இருக்கை ஒதுக்கப்படாதவர்கள்

- 1) ஊனமுற்றோர்                      2) ஆண்கள்                      3) கர்ப்பிணிப்பெண்கள்

47. எமக்கு ஏற்படும் தோல் உலர்ந்தலைத் தடுப்பதற்கு நாம் செய்ய வேண்டிய விடயம்

- 1) முறையாக உண்ணல்                      2) போதியளவு நீர் அருந்துதல்                      3) உடற்பயிற்சி செய்தல்

48. இலங்கையினர்களான எமக்கே உரித்தான மரபுரிமைகளாக கொள்ளமுடியாத ஒன்று

- 1) திரிபீடகம்                      2) சிற்பங்கள்                      3) பாடசாலைகள்

49. எம் நாட்டில் நிலையாய் ஒங்குபவைகளாகக் கருதப்படுவது

- 1) நெல், தேயிலை, தென்னை, பனை  
2) கரட், கோவா, லீக்ஸ்  
3) கிழங்கு, பலா, வேம்பு

50. வெளிநாட்டு ஆக்கிரமிப்பாளர்களிடமிருந்து நாட்டை மீட்டெடுக்க உயிரை அர்ப்பணித்த தேசிய வீரர்களில் ஒருவர்

- 1) கொங்காலே கொட பண்டா                      2) மொனரவில கெப்பட்டிபொல திஸாவ                      3) டாக்டர் டி பி ஜாயா

51. பெற்றோரை போற்றுவோம் என்ற பாடலை இயற்றியவர்

- 1) வாகரை வாணன்                      2) செல்லக்கணபதி                      3) என் எஸ் உதயச்சந்திரன்

52. இலங்கை நாட்டில் வாழும் மக்கட் பிரிவல்லாதோர்

- 1) ஆதிவாசிகள்                      2) ஆங்கிலேயர்                      3) சிங்களவர்

53. எமது நாட்டின் தேசிய கொடியில் இனங்களுக்கிடையிலான ஒற்றுமையை குறிக்கும் பகுதியானது

- 1) கொடியைச் சுற்றியுள்ள மஞ்சள் நிறம்                      2) செம்மஞ்சள் நிறப்பட்டி                      3) பச்சை நிறப்பட்டி

54. நாகமரப் பூவினது இதழ்களின் எண்ணிக்கையானது?

- 1) 4 இதழ்கள்                      2) 3 இதழ்கள்                      3) 5 இதழ்கள்

55. பறவைகளைத் தவிர மரத்தில் கூடுக்கட்டும் பிராணி

- 1) அணில்                      2) காட்டுப்பூனை                      3) செவ்வெறும்பு

56. உணவு பானங்களாக பயன்படுத்துக்கூடிய தாவரம்

- 1) வாழை 2) வில்வம் பூ 3) பூசணிக்காய்

57. கஞ்சி தயாரிக்க பயன்படுத்தப்படுவது?

- 1) நன்னாரி 2) வில்வம் 3) சாத்தாவாரி

58. நாம் ஈற்றுணவாகக் கொள்ளக்கூடிய உணவானது


- 1) பழவகை 2) சூப் 3) பாண்

59. பாதுகாப்பிற்காக தலைக்கவசம் அணிபவர்

- 1) கிறிக்கட் வீரர் 2) ஆசிரியர் 3) வைத்தியர்

60. விளையாட்டு ஒரு மனிதனை ஆரோக்கியமாக்குகின்றது. ஆகவே 'விளையாட்டின் முக்கியத்துவம்' எனும் தலைப்பில் 5 சொற்களுக்குக் குறையாத எழுவாய், பயனிலை பொருத்தபாடுடையதாக 3 வாக்கியங்கள் எழுதுக.

- 1) .....  
.....  
2) .....  
.....  
3) .....  
.....



1. 1 பூசணி , மிளகாய் , வெண்டிக்காய் ,  
2. பாணை  
3. பருத்த , அழகு , நொண்டி , வளர்ந்த  
4. ஆணை மிளகாய் அழகு மூக்காய் ஆகியது.  
5. மெலிந்த  
6. தொங்கின , ஆயின , ஆகின
2. பொருத்தமான முறையில் நிறுத்தற் குறிகளை இட்டிருத்தல்
3. 1. சந்தர்பத்ததை தவற விடாதே  
2. சேமிப்பு
4. 1. கணீர் கணீர் 2. கல கல
5. 1. பாற்சொறு 2. மாங்காய்
6. 1. உடன்பிறந்தோர் 2. ஆச்சிரமம்
7. 1. முற்பகல் 2. கிறித்துவுக்கு முன்
8. 1. Needle 2. Tooth Brush

9. How many flowers are there

10. 1. வாசிகசாலை 2. அதிபர்  
2. உங்களுக்கு தண்ணீர் வேண்டுமா?  
3. மட ஆப்ப ஒளே

11. இரண்டாயிரத்து ஐம்பத்தாறு

12. 1216, 4025, 6325, 9218

13. 10m 85cm

14. 4 l 450 ml

15. 1. 63, 66, 69 2. 83, 89, 95

16. 450 இனப்புகள்

17. 6/8

18. பொருத்தமாக நிழற்றுதல்

19. 1. 196 2. 1

20. A. மேற்தோற்றம் B. முகத்தோற்றம் C. பக்கத்தோற்றம்

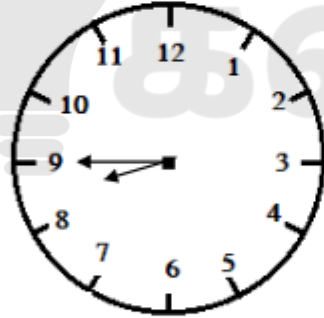
21. 8359

22. சதுரம்

23. 1. பொங்கல் 2. தோசை, இட்லி 3. பொருத்தமாக நிழற்றுதல்

24. 11 Kg 395 g

25.



26. VI

27.

பெறுமானம்
150.00
40.00
150.00
340.00

28. 1. கிழக்கு 2. வடக்கு

29. 1. 1000 ரூபா 2. தாள்கள் 500 ரூபா 1 தாள்த் 2. 1000 தாள்த் ஒன்று 500 ரூபா தாள்கள் 3

30. 2  
31. 2  
32. 2  
33. 2  
34. 3  
35. 2  
36. 2  
37. 1  
38. 2  
39. 1  
40. 3  
41. 3  
42. 2  
43. 2  
44. 3  
45. 2  
46. 2  
47. 2  
48. 3  
49. 1  
50. 1  
51. 2  
52. 2  
53. 1  
54. 1  
55. 3  
56. 2  
57. 3  
58. 1  
59. 1  
60. பொருத்தமான வாக்கியங்களுக்கு புள்ளியிடுக.

