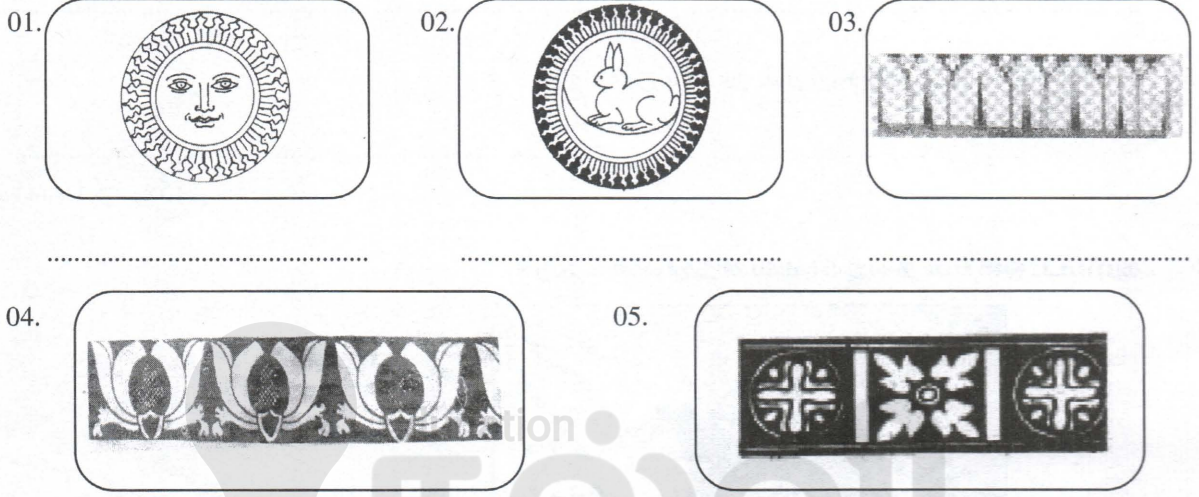


	<b>வலயக் கல்வி அலுவலகம் - கிளிவிநாச்சி</b> <b>மூன்றாம் தவணைப் பரீட்சை - 2020</b>	
	<b>சித்திரக்கலை</b>	<b>நேரம் : 2.00 மணி</b>
<b>தரம் : 08</b>	சுட்டெண் .....	

**பகுதி - I**

❖ பின்வரும் ஒளிப்படங்களின் பெயர்களை புள்ளிக்கோட்டில் எழுதுக.



(5x1=5 புள்ளிகள்)

❖ பொருத்தமான விடையின் கீழ்க் கோடிடுக.

06. இலங்கையின் முதலாவது தாதுகோபம்.
- |                 |               |
|-----------------|---------------|
| 1. ருவன்வெலிசாய | 2. களனிவிகாரை |
| 3. தூபராம       | 4. அபயகிரி    |
07. பொது வர்ணங்கள் எவை?
- |                    |                    |
|--------------------|--------------------|
| 1. கபிலம், வெள்ளை  | 2. கறுப்பு, வெள்ளை |
| 3. சிவப்பு, மஞ்சள் | 4. மஞ்சள், நீலம்   |
08. பாய் பின்னல் அலங்காரக் கைத்தொழிலுக்குப் பிரசித்தி பெற்ற இடம்.
- |            |                |
|------------|----------------|
| 1. தும்பறை | 2. அம்பலாங்கொட |
| 3. களனி    | 4. அநுராதபுரம் |
09. அபயகிரி நுழைவாயிலின் இருபுறத்தில் காணப்படும் குள்ள உருவம்.
- |                        |                        |
|------------------------|------------------------|
| 1. சங்கநிதி, பத்மநதி   | 2. சங்கநிதி, காவற்கல்  |
| 3. பத்மநிதி, பூங்கலசம் | 4. சங்கநிதி, நாகவடிவம் |
10. இலங்கையின் வரலாற்றுக்கு முற்பட்ட குகைகளில் ஒன்று.
- |               |              |
|---------------|--------------|
| 1. தந்திரிமலை | 2. லாஸ்கோ    |
| 3. அல்ராமீரா  | 3. தம்புள்ளை |

(5x2=10 புள்ளிகள்)

❖ சுருக்கமான விடை தருக.

11. சிற்பம் செய்வதற்கு இலகுவான ஊடகம் எது?

.....

12. பள்ளி வாசல்களின் முகப்பில் இருபுறமும் காணப்படும் உயரமான தூண் அமைப்பு எவ்வாறு அழைக்கப்படுகிறது?

.....

13. மட்பாண்டம் செய்ய பயன்படுத்தப்படும் உபகரணத்தின் பெயர் யாது?

.....

15. மட்பாண்டத்தை அலங்கரிக்கும் நுட்பம் ஒன்று தருக.

.....

(5x1=5 புள்ளிகள்)

❖ தரப்பட்ட ஒளிப்படத்தை அவதானித்து விடை தருக.



16. இனங்காண்க : .....

17. காணப்படும் குகை : .....

18. வரைந்த நுட்பங்களில் ஒன்று : .....


19. பயன்படுத்திய வர்ணங்கள் : .....

20. இதன் பண்பு : .....

(5x2=10 புள்ளிகள்)



- ❖ தரப்பட்ட படத்துடன் தொடர்புபட்ட வகையில் கீழே தரப்படும் பின்வரும் வினாக்கள் சரியாயின் (✓) எனவும் பிழையாயின் (✗) எனவும் குறிப்பிடுக.





21. இவ்வலங்காரம் தொடுவால் மடுவ சாந்திக்கிரியையுடன் தொடர்புடையது. (.....)
22. தொற்று நோயிலிருந்து விடுபடல் , செழிப்பு என்பவற்றுடன் தொடர்புடையது. (.....)
23. பத்தினி தோரணம், தொவொல் என்பன அமைத்தல் சிறப்பு அலங்கரிப்பாகும். (.....)
24. பயன்படுத்தும் மூலப்பொருள் வாழைத்தண்டு, குருத்தோலை, சேம்பு இலை என்பன. (.....)
25. தாழ் நாட்டுப் பிரதேசத்தில் நடன பாரம்பரியத்துடன் தொடர்புடையது (.....)

අධ්‍යාපන (5X2=10 புள்ளிகள்)

- ❖ பின்வரும் உருக்களை இரேகை மூலம் வரைந்து காட்டுக.

1. பாளை ஒன்று

2. இளநீர் ஒன்று



(5x2=10 புள்ளிகள்)

## பகுதி - II

❖ பின்வரும் தலைப்புக்களில் ஏதாவது ஒன்றை வரைந்து வர்ணம் தீட்டுக.

01. பூக்களையும் இலைகளையும் பயன்படுத்தி பரவுருவ சீத்தை துணி அலங்காரம்
02. தெய்வீக வகை அலங்காரத்தை பயன்படுத்தி சேலைக்கரை அலங்காரம்
03. காட்டில் விலங்குகள்
04. காவடி ஆட்டம்
05. கொரோனாவில் இருந்து எம்மைப் பாதுகாப்போம். சுவரொட்டி ஆக்கம்.

(50 புள்ளிகள்)





# 2025

## 1ம் தவணை வகுப்புகள்

தரம் 6 முதல் 11 வரையான  
மாணவர்களிற்கான தமிழ் மற்றும் ஆங்கில  
மொழிமூல வகுப்புக்கள் ஆரம்பமாகவுள்ளன.

ஆரம்பம் 01.01.2025



இலங்கையின் எப்பாகத்திலிருந்தும்  
Zoom app மூலம் எமது வகுப்புகளில்  
இணைந்து கொள்ள முடியும்.

அனைத்துப் பாடங்களும் ஒரே கல்வி நிறுவனத்தின் கீழ்...



Education  
**கல்வி** Kalvi.lk  
අධ්‍යාපන



Whatsapp  
**075 287 1457**