



யாழ்ப்பாணம் வலயக் கல்வி அலுவலகம் முன்றாம் தவணைப் பரீட்சை - 2019

தரம் : 06

சித்திரக் கலை


2.00 மணித்தியாலம்

கூட்டெண்.....


பகுதி I	
பகுதி II	
செய்முறை	
மொத்தப்பள்ளி	

பகுதி - I


* 01 - 05 வரையான வினாக்களுக்கு தரப்பட்டுள்ள விளக்கப்படங்களை கினங்கண்டு விடை எழுதுக.




A




B



C



C



D

01)A அலங்காரப் பொருள் எம் மதத்துடன் தொடர்புடையது?

.....

02)இந்து மதத்துடன் தொடர்புடைய படம் எது?

.....

03)C எழுத்தினால் காட்டப்பட்டுள்ள தாதுகோபத்தின் வடிவம் யாது?

.....

04)B எழுத்தினால் குறிக்கப்பட்டுள்ள அலங்காரப் பொருளின் பெயர் யாது?

.....

05)கிறிஸ்தவர்களின் வழிபாட்டு தலம் குறிக்கும் எழுத்து யாது?

.....

(10×1=10 புள்ளிகள்)

* சரியாயின் (✓) எனவும் பிழையாயின் (*) எனவும் அடையாளமிடுக.

6. கடல் அலையை வரைய அலை இரேகை பயன்படுத்தப்படுகின்றது. ()
7. சிவப்பு, மஞ்சள் குளிர் வர்ணங்களாகும். ()
8. தைப்பொங்கல் பௌத்தர்களின் விழாவாகும். ()
9. இஸ்லாமியர்கள் ரம்ழான் பண்டிகையைக் கொண்டாடுவார்கள். ()
10. நத்தார் இயேசுவின் பிறந்த தினமாகும். ()

(10×1=10 புள்ளிகள்)

* பின்வரும் வினாக்களுக்கு சரியான விடையைத் தெரிவு செய்க.

11. புகையின் போக்கைக் காட்டப் பயன்படுத்தப்படும் இரேகை எது?
1) சமாந்தர ரேகை 2) அலைரேகை 3) முறிரேகை 4) சுருள்ரேகை
12. மூல வர்ணங்களில் ஒன்று
1) கறுப்பு 2) ஊதா 3) சிவப்பு 4) செம்மஞ்சள்
13. இந்துக் கோயில்களில் மூலமூர்த்தி அமைந்திருக்கும் கட்டடம்
1) கோபுரம் 2) கருவறை 3) விமானம் 4) தூபி
14. தேவாலயத்தின் கிடை வடிவம்
1) சிலுவை 2) நட்சத்திரம் 3) சூரியன் 4) தாமரை
15. பள்ளிவாசலில் காணப்படும் உயர்ந்த தூண் அமைப்பு
1) குபா 2) கோபுரம் 3) மினரட் 4) தூபி
16. சிற்ப வேலைப்பாடுகள் நிறைந்து காணப்படும் இடம்
1) அண்டம் 2) கோபுரம் 3) தூபி 4) கருவறை
17. இலங்கையில் இன்று காணப்படாத தாதுகோப வகை எது?
1) நீர்க்குமிழி 2) தானியக்குவியல் 3) மணி 4) நெல்லிக்கனி
18. கழிவுப் பொருட்களைக் கொண்டு ஆக்கப்படும் ஆக்கம்
1) கிறுக்கல் 2) கொலாஜ் 3) கிரபிக் 4) அச்சுப்பதித்தல்
19. சிற்பம் செய்ய இலகுவான ஊடகம்
1) களிமண் 2) மெழுகு 3) சீமெந்து 4) சவர்க்காரம்
20. இருபரிமாணத்தைக் குறிக்கும் பொருள்
1) பாளை 2) கடதாசி 3) பெட்டி 4) பந்து

(10 × 2 = 20புள்ளிகள்)

பகுதி - II

* பின்வருவனவற்றுள் ஒன்றைத் தெரிவு செய்து வரைந்து காட்டுக.

1. தாய்ப்பாசம்
2. எங்கள் பாடசாலைத் தோட்டம்
3. துணை வர்ணங்களைப் பயன்படுத்தி பரிசுப் பொதிக்கான உறை அலங்காரம்
4. கோலம் ஒன்றினை வரைக.
5. சிறுவர் புத்தக உறை ஒன்றினை வரைக.
6. விழா ஒன்றிக்கான வாழ்த்து அட்டை ஒன்றினை நிர்மாணிக்குக.

(50 புள்ளிகள்)

2025

1ம் தவணை வகுப்புகள்

தரம் 6 முதல் 11 வரையான
மாணவர்களிற்கான தமிழ் மற்றும் ஆங்கில
மொழிமூல வகுப்புக்கள் ஆரம்பமாகவுள்ளன.

ஆரம்பம் 01.01.2025



இலங்கையின் எப்பாகத்திலிருந்தும்
Zoom app மூலம் எமது வகுப்புகளில்
இணைந்து கொள்ள முடியும்.

அனைத்துப் பாடங்களும் ஒரே கல்வி நிறுவனத்தின் கீழ்...

 Education
கல்வி Kalvi.lk
අධ්‍යාපන



Whatsapp
075 287 1457