



வலயக்கல்வி அலுவலகம் - யாழ்ப்பாணம்

இரண்டாம் தவணைப்பரீட்சை- 2017

தரம் - 07

சித்திரக்கலை

நேரம் :- 2.00 மணித்தியாலம்

பகுதி - I

❖ எல்லா வினாக்களுக்கும் இத்தாளிலேயே விடை தருக.

• 1 - 5 வரையான வினாக்களுக்கு தரப்பட்டுள்ள படங்களின் உதவியுடன் விடை தருக.



அ



ஆ



இ

- 01) ஆ என பெயரிடப்பட்டுள்ள பொம்மலாட்ட வகை என அழைக்கப்படும்.
 - 02) கைப்பொம்மை என்ற வகைப்பாட்டை குறிக்கும் எழுத்து ஆகும்.
 - 03) இலங்கையில் பிரபல்யமான பொம்மலாட்ட வகையாக விளங்குவது ஆகும்.
 - 04) எமது நாட்டில் புகழ்பெற்ற பொம்மலாட்ட ஆற்றுகை வகைகள் எத்தனை ஆகும்
 - 05) பொம்மலாட்ட கலையினை ஒளிபரப்பு செய்து வரும் தொலைக்காட்சி நிறுவனம் ஆகும்.
- 6 - 10 வரையிலான வினாக்களில் மிகச்சரியான விடையின் கீழ்க் கோடிடுக.
- 06) மூல வர்ணங்களில் அடங்காத வர்ணம்.
 1. சிவப்பு
 2. பச்சை
 3. நீலம்
 4. மஞ்சள்
 - 07) இந்து ஆலயத்தில் வரலாற்றுக்கதைகள் சிற்பமாக சித்தரிக்கப்பட்டுள்ள கட்டிடப்பகுதி எது?
 1. தேர்
 2. தூண்கள்
 3. கோபுரம்
 4. சுவர்கள்
 - 08) தரணியகல என்பவரால் கண்டு பிடிக்கப்பட்ட குகை எது?
 1. தந்திரிமலைக்குகை
 2. பில்லாவகுகை
 3. தொறவக்குகை
 4. சிகிரியாகுகை
 - 09) இரத்தினக்கல் ஆசனம் வைத்துக்கட்டப்பட்ட தாதுகோபம் யாது?
 1. களனித் தாதுகோபம்
 2. தூபராமதாதுகோபம்
 3. றன்கொத்தாதுகோபம்
 4. ஜேதவனராமயதாதுகோபம்
 - 10) தந்திரிமலைக்குகையில் வரையப்பட்டுள்ள விலங்கு உருவங்களில் சிறப்பிற்குரியது எது
 1. உடும்பு
 2. யானை
 3. முதலை
 4. மான்

- 11 - 15 வரையான வினாக்களை மிகச்சரியான விடையுடன் தொடர்புபடுத்துக.

11) யானையும், குட்டியும்	வெப்ப வர்ணம்
12) சங்கநிதி, பத்மநிதி	தொறவக்ககுகை
13) பிறையும், நட்சத்திரமும்	அபயகிரித்தாதுகோபம்
14) தனியிழை, ஈரிழை	பள்ளிவாசல்
15) சிவப்பு, செம்மஞ்சள்	நிர்ஜீவவகுதி.

- 16 - 20 வரையிலான வினாக்களின் கூற்றுக்கள் சரியாயின் (✓) எனவும் பிழையாயின் (x) எனவும் அடையாளமிடுக.

- 16) ஆதிகால குகை ஓவியங்கள் ஜீவனோபாயமான வேட்டையாடலை சித்தரிக்கின்றன. (.....)
- 17) தாதுகோபத்தின் வடிவத்தை தீர்மானிக்கும் பகுதி அண்டம் ஆகும். (.....)
- 18) வெசாக், போசன், கம்மடு போன்ற சமயவிழாக்களின் பொம்மலாட்டக்கலை ஆற்றுகை செய்யப்படும். (.....)
- 19) மீனும் மனித உருவமும் எனும் படைப்பில் லாவக் குகையில் காணப்படுகிறது. (.....)
- 20) ஈகைத்திருநாள் எனும் பண்டிகைபெளத்தர்கட்கு உரியதாகும். (.....)


(20x1=20 புள்ளிகள்)

- 21 - 25 வரையிலான வினாக்களில் காட்சிப்படுத்தப்பட்டுள்ள படங்களை இனங்கண்டு அவை தொடர்பாக 2 தரவுகள் தருக.


- 21) 1.
.....
2.
.....



- 22) 1.
.....
2.
.....



- 23) 1.
.....
2.
.....

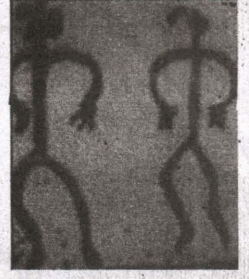


- 24) 1.
.....
2.
.....



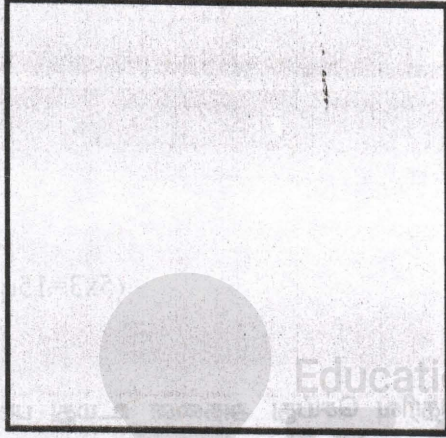
25) 1

2




(5x3=15 புள்ளிகள்)

- 26 - 30 வரையிலான வினாக்களில் குறிப்பிடப்பட்டுள்ள பொருட்களை அவற்றின் வடிவம் புலப்படும் வகையில் பென்சிலால் வரைந்து காட்டுக.




26)

இளநீர்




27)

கால்பந்து




28)

சோடாப்போத்தல்



29)

தகரப்பேணி



30) பனையோலை

(5x3=15புள்ளிகள்)

பகுதி-II

- பின்வரும் தொனிப் பொருட்களில் ஒன்றைத் தெரிவு செய்து அதனை உமது பாணியில் வரைந்து வர்ணம் தீட்டி அழகு செய்க.

1. நீர் கண்ட காட்டு விலங்குகள் கூட்டம்
2. சமயச்சூழல்

3. பூ, இலைகளைக் கொண்டு அலங்காரதுணி அலங்காரம்.

4. பொதி சுற்றும் உறைக்கு பொருத்தப்பாடான பரவுருவ அலங்காரம்

5. 'தமிழ்' என்ற எழுத்தினை உமது கற்பனைக்கு ஏற்ப அழகாக அலங்கரிக்கவும்.
(50 புள்ளிகள்)

தரம் 01 - 10

3ம் தவணை

REVISION | PAPER DISCUSSION

ஆரம்பம் - 01.12.2024

மீட்டல் மற்றும் வினாத்தாள்
கலந்துரையாடல் வகுப்புகள்

இலங்கையின் எப்பாகத்திலிருந்தும்
இணைந்து கொள்ள முடியும்.

JOIN NOW

புதிய அனுமதிகள்
வழங்கப்படுகின்றன..

கட்டண விபரங்கள்

தமிழ் Medium

தரம் 01-02

2000/=

தரம் 03-05

2500/=

தரம் 06-10

3000/=

English Medium

தரம் 06-07

3500/=



KALVI.LK



WHATSAPP

075 287 1457