

# யா/கரவெட்டி மாணிக்கவாசகர் வித்தியாலயம்



முதலாந் துவணைப் பரீட்சை 2021

100

குரம் -5

சுற்றாடல்

நேரம் - 1.30மணி

கட்டெண்:-.....

1. பொருத்தமான விடையை தெரிவுசெய்து அதன் கீழ் கீறுக.

1. சூரியநமஸ்கார படிநிலைகள் எத்தனை?

1. பதினான்கு 2. பதின்மூன்று 3. பன்னிரண்டு 4. பதினொன்று

2. நான் சுற்றுப்புற ஓலிகளை நன்கு செவிமடுக்கின்றேன். எனது மனதை தளர்த்திக் கொள்கின்றேன். வகுப்புக்களின் ஓலிகளையும் நன்றாக செவிமடுக்கின்றேன். இக்கூற்று தியானத்தின் எந்தப் படிநிலையாகும்.

1. மலர்வு 2. மனவுறுதி 3. உடலைத்தளர்த்தல் 4. உள்ளத்தைத் தளர்த்தல்

3. கொங்காலே கொடபண்டாவின் இயற் பெயர் யாது?

1. தசினம்கல் 2. திலக்கநாயக்கா 3. குணானந்தா 4. தாவீது

4. எளிமையான வாழ்க்கை வாழ்ந்தும் அரசியலிலும் ஈடுபட்டு இருந்தவர்.

1. அன்னைதேரேசா 2. அப்துல்கலாம் 3. காமராஜர் 4. மகாத்மகாந்தி

5. இலங்கைக்கு உரித்தான தாவரக்கூட்டம்.

1. நிலப்புள்,நாகமரம்,வெள்ளரசுமரம்  
2. நிலவேம்பு,சீண்டுக்கொடி,நீலப்புள்  
3. பாக்கிலிப்பால்,வெள்ளரசுமரம்,நிலவேம்பு  
4. குங்கிலியமரம்,வெள்ளரசுமரம்,நீலப்புள்

6. காற்றினால் பரவும் வித்துக்களின் இயல்பு ஒன்று.

1. சதைப்பகுதி கொண்டது.  
2. கொழுக்கி போன்று இருத்தல்  
3. பாரம் குறைவானதாக இருத்தல்  
4. பாரமானதாக இருத்தல்

7. நாம் உடல் ஆரோக்கியத்திற்காக நாளொன்றுக்கு அருந்த வேண்டிய நீரின் அளவு.

1. 1லீற்றர் 2. 2லீற்றர் 3. 1½லீற்றர் 4. 2½லீற்றர்

8. நாம் வீட்டில் பொதுவாகப் பயன்படுத்தும் பொருட் கூட்டம்.

1. சீப்பு , நிலைக்கண்ணாடி 3. தொலைக்காட்சி, நிலைக்கண்ணாடி  
2. கைக்குட்டை, சீப்பு 4. தொலைக்காட்சி, கைக்குட்டை

9. இலையுண்ணிப் பிராணிகளின் கூட்டமாக இருப்பது.

1. மான்,தவளை
2. முயல்,மரை
3. மான்,நாய்
4. தும்பி,முயல்

10. ஓட்டினை கொண்ட பிராணி அல்லாதது.

1. ஆமடில்லா
2. கடலாமை
3. நத்தை
4. அழுங்கு

(20புள்ளிகள்)

2) பொருத்தமானதை இணைக்குக.

1. நடத்தை என்ற பாடல்
2. உலகமரபுரிமை
3. பதுளைப்பிரதேசத்தில் வாழ்ந்தவர்
4. காடும் வயலும் .....
5. ஆங்கிலேயரால் தேசத்துரோகி எனப்பட்டவர்

மகாபோதிவிருட்சம்

அழகனார்

வி.என்.எஸ்.உதயச்சந்திரன்

கெப்பெட்டிப்பொல திசாவ

கொங்காலே கொடபண்டா

(10புள்ளிகள்)

3) பாடலில் விடுபட்ட சொற்களை எழுதுக.

நல்ல ..... நமக்காக

நாளும் தருகிற .....

இல்யென்று .....

எங்கும் ..... அழிகிறதாம்.

கல்வி  
අධ්‍යාපන

(4புள்ளிகள்)

4) விடை எழுதுக.

1. தியானம் செய்வதனால் ஏற்படும் நன்மை இரண்டு எழுதுக.

.....  
.....

2. நல்ல நடத்தைகள் இரண்டு எழுதுக.

.....  
.....

3. ஆணிவேர் தொகுதி கொண்ட தாவரம் இரண்டு எழுதுக.

.....



4. விலங்குகளால் பரவும் வித்துக்கள் இரண்டு தருக.

.....

5. வதிவிடச்சான்றிதழை பெற செல்லவேண்டிய இடம் எது?

.....

6. நாம் போதியளவு நீர் அருந்தாவிடின் ஏற்படும் பாதிப்புக்கள் மூன்று தருக.

.....

.....

7. இலங்கைக்கு உரித்தான முலையூட்டிகள் இரண்டு தருக.

.....

8. எமக்கு சேவையை வழங்கும் நிறுவனங்கள் நான்கு எழுதுக.

.....

.....

9. தாவரங்களால் எமக்குக் கிடைக்கும் பயன்கள் மூன்று தருக.

.....

.....

10. தாவரங்களுக்கும் பிராணிகளுக்கும் பாதிப்பு ஏற்படுத்தும் மனிதனின் செயற்பாடுகள் இரண்டு எழுதுக.

.....

(10x3=30 புள்ளிகள்)

05) கூட்டினுள்ள சொற்களை தெரிந்து புள்ளிக்கோட்டினை நிரப்புக.

சீதேவியார் செங்கழுநீர் / காகம் / வீட்டுத்தோட்டம் / சிங்கராசவனம் / ஆடையொட்டி  
வரவுஇடாப்புப் புத்தகம் / மன்புளுட்டா / பொருட்பதிவுப்புத்தகம் / கலவத்தன் / நரி

1. .... காற்றினால் பரம்பல் அடையும்.

2. ஊன் உண்ணிகளில் ..... ஒன்றாகும்.

3. எமது தேசிய மரபுரிமையாக ..... காணப்படுகின்றது.

4. பாடசாலையில் பயன்படுத்தும் உபகரணங்களை .....  
ஒன்றில் பதியப்படும்.

5. .... இலங்கைக்கு உரித்தான மீனிமமாகும்.

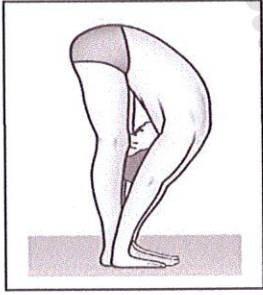
(5x2=10புள்ளிகள்)

06) சரியாயின் சரி எனவும் பிழையாயின் பிழை எனவும் எழுதுக.

1. தாமரை வித்து நீரினால் பரம்பல் அடையும். ( )
2. உணவு உண்ணும் போது சப்புக் கொட்டி உண்ணுவது நல்ல பழக்கமாகும். ( )
3. பூனை இரையை கண்டறிய மீசையைப் பயன்படுத்துகிறது. ( )
4. பேருந்தில் உரத்த சத்தத்துடன் பாடல் ஒலிப்பது அசௌகரியத்தை ஏற்படுத்தும். ( )
5. தியானப் படிநிலைகளைச் செய்வதால் உடல்உளத்தகைமை ஏற்படாது. ( )
6. பிறப்புச் சான்றிதழ் பிரதிகளை பெற்றுக்கொள்ள பிரதேச செயலகத்திற்கு செல்ல வேண்டும். ( )

(6x2=12புள்ளிகள்)

07) பின்வரும் படங்களிற்குரிய பெயர் எழுதுக.



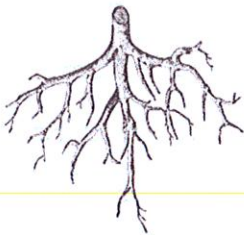
.....



.....



.....



.....



.....

(5x1=5 புள்ளிகள்)



08) சிங்கள உச்சரிப்பு சொற்களுக்கான தமிழ் உச்சரிப்பு எழுதுக.

1. தஹசய - .....

2. பணஹ - .....

தமிழ் சொற்களுக்கு சிங்கள உச்சரிப்பு எழுதுக.

1. பூனை கீழே - .....

2. நேரம் என்ன - .....

(4x1=4புள்ளிகள்)

09) பின்வரும் தமிழ் சொற்களுக்கு ஆங்கில எழுத்துக்களை பயன்படுத்தி ஆங்கிலத்தில் எழுதுக.

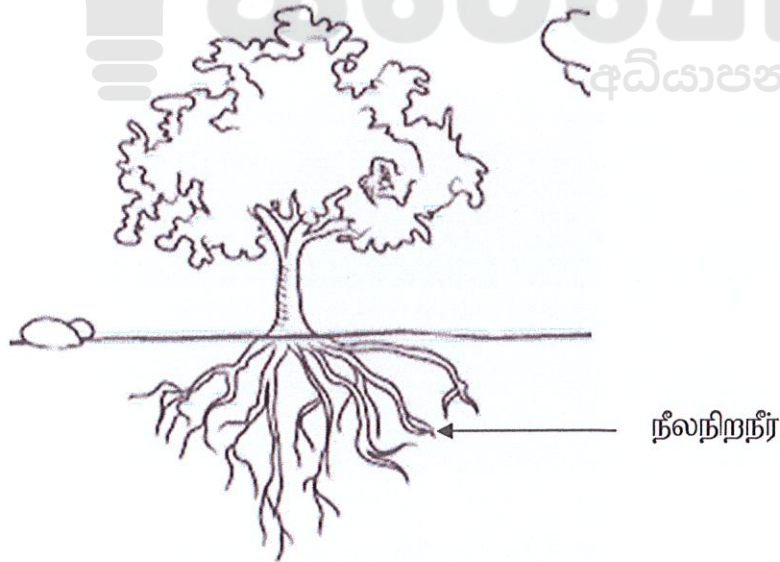
1. இருங்கள் - .....

2. பழ மரங்கள் - .....

3. வானம் - .....

(3x1=3புள்ளிகள்)

10) பின்வரும் பரிசோதனை அமைப்பினை அவதானித்து நீர் விளங்கிக் கொண்டதனை எழுதுக.



(2 புள்ளிகள்)