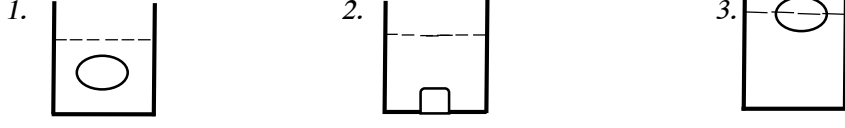


10. நீர் உள்ள பாத்திரத்தினுள் பனிக்கட்டியை இட்டால் தோன்றும் நிலையைக் குறிக்கும் படம்.



(10 x 2 = 20 புள்ளிகள்)

2) தொடர்புபடுத்துக.

1. காந்தம்	பொன்னாங்கண்ணி
2. பாரத்தைக் கொண்டு செல்லல்	குல்லம்
3. தண்டுத்துண்டம்	அத்தாங்கு
4. விவசாயம்	காந்தப்பாம்பு
5. மீனவர்	ஒற்றைச் சில்லு வண்டி

(5 x 1 = 5 புள்ளிகள்)

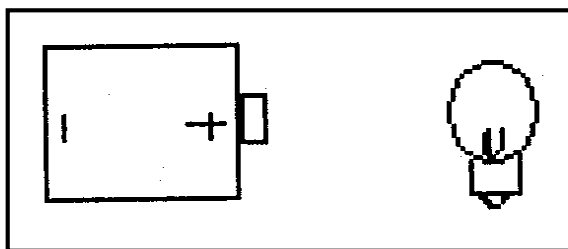
3) பொருத்தமான சொல்லை வைத்து இடைவெளி நிரப்புக.

(குறப்பணம், சூரியகாந்தி, பல்லி, நீலம், திரிபீடகம், நீர்மட்டம்)

1. நகருயிர்களில் ஒன்றாகும்.
2. சிங்களவரின் புனித நூல் ஆகும்.
3. வீட்டுத்தோட்டத்தில் பூச்சி பீடைகள் வராமல் இருக்க வேலி ஓரத்தில் நடப்படுவது ஆகும்.
4. பலகையில் துளையிடுவதற்கு பயன்படும்.
5. தேசப்படத்தில் நதியைக் குறிக்கப் பயன்படும் நியம நிறம் ஆகும்.

(5 x 2 = 10 புள்ளிகள்)

4) கம்பிகள் இரண்டைப் பயன்படுத்தி மின்குமிழை ஒளிரச் செய்யும் முறையைக் காட்டுக.



(5 x 1 = 5 புள்ளிகள்)

5) சரி (✓), பிழை (X) இடுக.

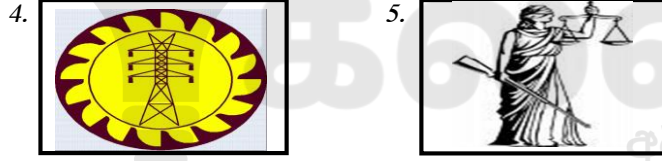
1. வேடுவர்களின் பாரம்பரிய நடனம் கிரிகுகாரங் ஆகும் ()
2. அலங்காரத் தையல் வகையில் சங்கிலித் தையலும் ஒன்றாகும் ()
3. அசுத்த நீரினால் பரவும் நோய் சிக்குன்குனியா ஆகும். ()
4. மோட்டார் சைக்கிள் பொதுவாகனங்களில் ஒன்றாகும். ()
5. போமலின் இடப்பட்ட மீனை உண்பதால் உதடு வீங்கும் ()

(5 x 1 = 5 புள்ளிகள்)

6) பின்வரும் படங்களில் பெயர்களை எழுதுக.



.....



.....

(5 x 2 = 10 புள்ளிகள்)

7) தமிழ்ச் சொற்களுக்குரிய சிங்களச் சொற்களை தமிழ் எழுத்துக்களில் தருக.

1. சுகம் எப்படி.
2. கண்களைத் திறவுங்கள்.
3. நாங்கள் விளையாடப் போவோமா?
4. வேகமாக ஓடுங்கள்.
5. முன்னோக்கி வாருங்கள்.

(5 x 2 = 10 புள்ளிகள்)

8) பின்வரும் சொற்களுக்குரிய ஆங்கிலச் சொற்களைத் தருக?

1. அதிபர்
2. வைத்தியசாலை
3. தபாற்காரன்
4. யார் சத்தம் போடுவது?
5. என்னைப் பாருங்கள்?

(5 x 1 = 5 புள்ளிகள்)

9) சுருக்கமான விடையை எழுதுக.

1. பிராணிகளால் தாவரங்கள் பெறும் நன்மைகள் 3 தருக?

1.
2.
3.

2. தாவரக்கிளை ஒன்றை பொலீத்தீனால் மூடிக்கட்டினால் சில மணித்தியாலங்களின் பின் நிகழும் அவதானம் 3 தருக?

1.
2.
3.

3. உடல் வளர்ச்சிக்கு உதவும் உணவுக்கூறுகள் 3 தருக?

1.
2.
3.

4. பொதி செய்யப்பட்ட உணவை வாங்கும் போது கவனிக்க வேண்டிய விடயங்கள் 3 தருக?

1.
2.
3.

5. வடமாகாணத்தில் அமைந்துள்ள மாவட்டங்கள் 3 தருக?

1.
2.
3.

6. மின்சாரத்தைக் கடத்தக்கூடிய உலோகங்கள் 3 தருக?

1. 2..... 3.

7. நிலக்கீழ் தண்டுகள் மூலம் இனம் பெருக்கும் தாவரங்கள் 3 தருக?

1. 2..... 3.

8. நீரின் மூன்று நிலைகளையும் குறிப்பிட்டு உதாரணம் தருக.

1.

2.

3.

9. நீரில் மிதக்கக் கூடிய பொருட்கள் 3 தருக?

1. 2..... 3.

10. மாற்றுப் பயிர்ச் செய்கை மூலம் கிடைக்கும் நன்மைகள் 3 தருக?

11.

12.

13.

(10 x 3 = 30 புள்ளிகள்)



எங்கள் குறிக்கோள்

எண்ணிம உலகத்தில் மாணவர்களிற்கென சிறந்ததொரு கற்றல் கட்டமைப்பை உருவாக்குதல்.

அனைத்தும் டிஜிட்டல் மயப்படுத்தப்பட்ட இந்த காலத்தில் பல்வேறு துறைகளும் கால ஓட்டத்துடன் இணைந்து டிஜிட்டல் தளத்தில் பல்கிப்பெருகி வருகின்றன. அந்த வகையில் கல்வித்துறையும் இதற்கு விதிவிலக்கல்ல. இணையவழி கல்வியின் மூலம் கல்வித்துறை புதியதொரு பரிமாணத்தை எட்டியுள்ளது. குறிப்பாக கொரோனா பேரிடர் காலத்தில் நாடே முடக்கப்பட்டிருந்தது. இதனால் மாணவர்களிற்கும் பாடசாலை, கல்வி நிறுவனங்களிற்கு இடையிலான தொடர்பு துண்டிக்கப்பட்டது. அந்த இக்கட்டான சூழ்நிலையில் இணையவழி வகுப்புகள் மாணவர்களிற்கு வரப்பிரசாதமாக அமைந்தது என்பதே உண்மை.

இன்று தொழில்நுட்பம் மாணவர்களை தவறான பாதைக்கு இட்டு செல்வதாக ஓர் எண்ண ஓட்டம் மக்கள் மத்தியில் உள்ளது. தொழில்நுட்பம் என்பது ஒரு கருவி மட்டுமே அதை எவ்வாறு பயன்படுத்துகிறோம் என்பதில் அதன் ஆக்க மற்றும் அழிவு விளைவுகள் தீர்மானிக்கப்படுகிறது. உளியை கொண்டு சிலையை செதுக்க நினைத்தால் அவன் நிச்சயம் சிற்பி ஆகலாம். இங்கு பிரச்சினையாக காணப்படுவது மாணவர்களை வழிப்படுத்த தொழில்நுட்ப உலகில் ஓர் முறையான கட்டமைப்பு இல்லாமையே. அதை உருவாக்குவதே எங்கள் நோக்கம். அதை நோக்கியே எங்கள் பயணம் அமையும்.

எமது இணையத்தினூடக ஊடக உங்களிற்கு தேவையான பரீட்சை வினாத்தாள்களை இலகுவான முறையில் தரவிறக்கம் செய்து கொள்ளமுடியும்.

kalvi.lk

கல்வி சார் செய்திகளை உடனுக்குடன் அறிந்து கொள்ள எமது சமூக ஊடக தளங்களின் ஊடக உடனுக்குடன் அறிந்து கொள்ள முடியும்.

