



யாழ்ப்பாணம் இந்துக் கல்லூரி

முதலாம் தவணை மதிப்பீட்டுப் பரீட்சை - 2023

தரம் - 6

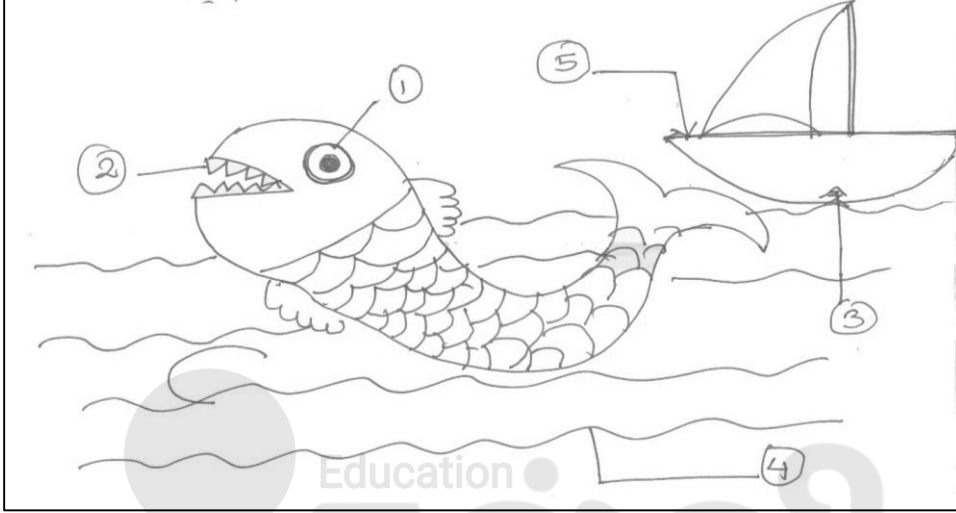
சீத்திரம்

நேரம் :- 2.00 மணித்தியாலம்

பெயர் / சுட்டெண்

பகுதி I

❖ பின்வரும் படத்தினை அவதானித்து அதில் காணப்படும் இரேகைகளின் பெயர்களை எழுதுக.



01.
02.
03.
04.
05.

(5 × 2 = 10)

❖ சரியாயின் சரி எனவும் பிழையாயின் பிழை எனவும் அடையாளம் இடுக.

01. தாது கோபுரம் பௌத்த மதம் சார்ந்த கட்டிடம் ஆகும். ()
02. வைகாசி மாதம் பௌர்ணமி தினம் வெசாக் பண்டிகை. ()
03. பொது வர்ணங்கள் சிவப்பு, மஞ்சள் ஆகும். ()
04. தாமரை வடிவ அண்டம் கொண்ட தாது கோபுரம் இலங்கையில் இல்லை. ()
05. கடல் அலைகளை வரைவதற்கு பயன்படுத்த காட்டப்படும் ரேகை வளைவு ரேகை ஆகும். ()

(5 × 2)
(10)

❖ சரியான விடையின் கீழ் கோடு இடுக.

01. தாது கோபுரத்தில் காணப்படும் அரைவட்ட வடிவம்

- 1) அண்டம் 2) சிகரம்
3) தூபி 4) காவல் கல்யம்

02. மூலவர்ணங்களை கொண்ட தொகுதி

- 1) நீலம், மஞ்சள், வெள்ளை 2) சிவப்பு, மஞ்சள், நீலம்
3) கறுப்பு, சிவப்பு, பச்சை 4) கறுப்பு, வெள்ளை, நீலம்

03. குளிர் வர்ணம் எது.

- 1) சிவப்பு 2) பச்சை 3) கறுப்பு 4) செம்மஞ்சள்

04. மழை காட்சியை காட்ட பயன்படும் ரேகை.

- 1) சுருள் ரேகை 2) ஒழுக்கு ரேகை 3) வளைவு ரேகை 4) செங்குத்து ரேகை

05. வேசாக் பண்டிகை.

- 1) இந்து மதம் 2) கிறிஸ்தவ மதம் 3) இஸ்லாமிய மதம் 4) பௌத்த மதம்

(5 × 2 = 10)

❖ பின்வரும் வடிவங்களின் பெயர்களை அவதானித்து ரேகை ஓவியமாக வரையவும்.




பந்து




இலை



வீடு



பெரிய பூ



பாளை

(5 × 2 = 10)

பகுதி II

❖ பின்வரும் தலைப்பில் விருப்பமான தலைப்பை தெரிவு செய்து வரைந்து வர்ணம் தீட்டுக.

- 1) கடற்கரை காட்சி
2) செல்லப் பிராணி
3) பூச்சாடி அலங்காரம்
4) கிராமிய குடிசை வீடு

(60 புள்ளி)





தரம் 01 - 10

3ம் தவணை

REVISION | PAPER DISCUSSION

புதிய அனுமதிகள்
வழங்கப்படுகின்றன..

கட்டண விபரங்கள்

ஆரம்பம் - 01.12.2024

மீட்டல் மற்றும் வினாத்தாள்
கலந்துரையாடல் வகுப்புகள்

இலங்கையின் எப்பாகத்திலிருந்தும்
இணைந்து கொள்ள முடியும்.

JOIN NOW

தமிழ் Medium

தரம் 01-02

2000/=

தரம் 03-05

2500/=

தரம் 06-10

3000/=

English Medium

தரம் 06-07

3500/=



KALVI.LK



WHATSAPP

075 287 1457